



د پوهنې وزارت

د تعلیمي نصاب، د ښوونکو د روزنې او د ساینس مرکز معینیت
د تعلیمي نصاب د پراختیا او درسي کتابونو د تالیف لوی ریاست

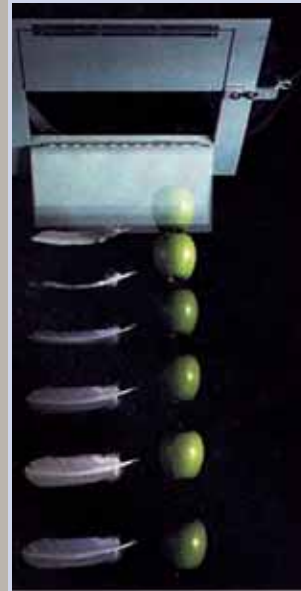
فزیک

یوولسم ټولگی



د چاپ کال: ۱۳۹۰ هـ. ش.

فزیک



درسي کتابونه د پوهنې په وزارت پورې اړه لري. اخیستنه او خرڅونه يې
په کلکه منع ده. له سرغړوونکو سره قانوني چلند کېږي.



یوولسم ټولگی



د پوهني وزارت

د تعليمي نصاب، د ټيكنوژنكو د روزنې او د سانس مركز مهميت
د تعليمي نصاب د پراختيا او درسي كتابونو د تاليف لوي رياست

فيزيک

p h y s i c s

يو ولسم ټولگي

د چاپ كال: ۱۳۹۰ هـ ش.

الف

ليکوالان:

- سر مؤلف گل احمد ساغری د تعلیمي نصاب د پراختیا او درسي کتابونو د تالیف د ریاست غړی او د نصاب د پروژې متخصص.
- اېو طالب حیدری په افغانستان کې د امریکایي پوهنتون استاد.
- د مؤلف معاون عبدالودود فیضی د تعلیمي نصاب د پراختیا او درسي کتابونو د تالیف د ریاست غړی.
- دوکتور عبدالاکریم میرزا زاده

علمي او مسلکي ایدیتور:

- سر مؤلف گل احمد ساغری د تعلیمي نصاب د پراختیا او درسي کتابونو د تالیف د ریاست غړی او د نصاب د پروژې متخصص.

د ژبې ایدیتور:

- مؤلف اقا محمد گرهې (خوږبانی) د تعلیمي نصاب د پراختیا او درسي کتابونو د تالیف د ریاست د پښتو څانگې علمي او مسلکي غړی.

دیني، سیاسي او کلتوري کمیټه:

- حبیب الله راحل د پوهنې وزارت سلاکار د تعلیمي نصاب د پراختیا په ریاست کې
- مولوی عبدالوکیل

د څارنې کمیټه:

- دکتور اسدالله محقق د تعلیمي نصاب، د ښوونکو روزنې او د ساینس مرکز معین
- دکتور شیرعلي ظریفی د تعلیمي نصاب د پراختیا د پروژې مسؤول
- د سر مؤلف مرستیال عبدالظاهر گلستانی د تعلیمي نصاب د پراختیا او درسي کتابونو د تالیف لوی رئیس.

کمپوز او ډیزاین:

خالد هوتک



سرود ملی



سرود ملی

دا وطن افغانستان دی دا عزت د هر افغان دی
کور د سولې کور د توري هر بچی یې قهرمان دی
دا وطن د ټولو کور دی د بلوڅو د ازبکو
د پښتون او هزاره وو د ترکمنو د تاجکو
ورسره عرب، گوجر دي پامیریان، نورستانیان
براهوي دي، قزلباش دي هم ایماق، هم پشه پان
دا هیواد به تل ځلېږي لکه لمر پر شنه اسمان
په سینه کې د اسپا به لکه زره وي جاویدان
نوم د حق مو دی رهبر وایو الله اکبر وایو الله اکبر

بسم الله الرحمن الرحيم

د پوهني د وزير پيغام گرانو ښوونکو او زده کوونکو،

ښوونه او روزنه د هر هېواد د پراختيا او پرمختگ بنسټ جوړوي. تعليمي نصاب د ښوونې او روزنې مهم توکي دي چې د معاصر علمي پرمختگ او ټولني د اړتياو له مخې رامنځته کېږي. څرگنده ده چې علمي پرمختگ او ټولنيزې اړتياوې تل د بدلون په حال کې وي. له دې امله لازمه ده چې تعليمي نصاب هم علمي او رغنده انکشاف ومومي. البته نه ښايي چې تعليمي نصاب د سياسي بدلونونو او د اشخاصو د نظريو او هيلو تابع شي.

دا کتاب چې نن ستاسو په لاس کې دی، پر همدې ارزښتونو چمتو او ترتيب شوی دی. علمي گټورې موضوعگانې پکې زياتې شوي دي. د زده کړې په بهير کې د زده کوونکو فعال ساتل د تدرسي پلان برخه ګرځيدلي ده.

هيله من يم دا کتاب له لارښوونو او تعليمي پلان سره سم د فعالې زده کړې د ميتودونو د کارولو له لارې تدریس شي او د زده کوونکو ميندې او پلرونه هم د خپلو لویو او زامنو په باکفېته ښوونه او روزنه کې پرله پسې ګاهه مرسته وکړي چې د پوهني د نظام هيلې ترسره شي او زده کوونکو او هېواد ته ښې برياوې ور په برخه کړي. پر دې ټکي پوره باور لرم چې زموږ گران ښوونکي، د تعليمي نصاب په رغنده پلي کولو کې خپل مسؤوليت په رښتوني توگه سرته رسوي.

د پوهني وزارت تل زيار کاږي چې د پوهني تعليمي نصاب د اسلام د سپېڅلي دين له بنسټونو، د وطن دوستي د پاک حس په ساتلو او علمي معيارونو سره سم د ټولني د څرگندو اړتياو له مخې پراختيا ومومي. په دې ډگر کې د هېواد له ټولو علمي شخصيتونو، د ښوونې او روزنې له پوهانو او د زده کوونکو له ميندو او پلرونو څخه هيله لرم چې د خپلو نظريو او رغنده وړانديزونو له لارې زموږ له مؤلفانو سره د درسي کتابونو په لا ښه تاليف کې مرسته وکړي.

له ټولو هغو پوهانو څخه چې د دې کتاب په چمتو کولو او ترتيب کې ښې مرسته کړې، له ملي او نړيوالو درنو مؤسسو، او نورو ملگرو هېوادونو څخه چې د نوي تعليمي نصاب په چمتو کولو او تدوين او د درسي کتابونو په چاپ او وېش کې ښې مرسته کړې ده، مننه او درناوی کوم.

ومن الله التوفيق

فازوق وردگ

د افغانستان د اسلامي جمهوريت د پوهني وزير

هـ

لو مړني خبري

زموږ زمانه د ساينس او تکنالوژۍ د چټکو بدلونونو زمانه ده، د پوهانو د اټکل له مخې به په راتلونکو کالونو کې هره مياشت د علمي اطلاعاتو کچه دوه برابره شي. څرگنده ده چې له دغو بدلونو سره يو ځای به زموږ د ژوند لارې، طريقې او هم زموږ د سبا ورځې د ځوان نسل اړتياوې هم بدلون ومومي. کيداى شي په دې لړ کې د علومو زده کړې په بلون کې شي. په دې لارو چارو ټينگار شوی دی، چې زده کوونکي په آسانۍ سره چټکې زده کړې وکړي، وکولاى شي، چې لازم او اړين مهارتونه د زده کړې په پړاوونو او د مسايلو په حل کې وکاروي. په دغه درسي کتاب کې هڅه شوېده، چې محتوا يې د فعالې زده کړې په پام کې نيولو سره تاليف شي.

په هر درسي کتاب کې درې بنسټيزې موخې (پوهه، مهارت او ذهنيت) د مؤلفينو د پاملرنې وړ گرځيدلي دي، سربيره پر هغه د سرليکونو حجم او د کتاب محتوا د دولت له بنسټيزې او روزنيزې کرنا لارې سره سم د وخت او بنسټيز پلان په پام کې نيولو سره يې مفردات طرح شوي دي، د محتوا د عمومي معيارونو او منل شوي ليکنې پر بنسټ، د افغانستان د ثانوي دوري درسي کتابونه تنظيم او چاپ شويدي، هڅه شوېده، چې موضوع گانې په ساده او روانه بڼه شرح شي، چې د فعاليتونو، بيلگو او پوښتنو په راوړلو سره د زده کوونکو لپاره اسانه وي. له درنو ښوونکو څخه هيله کېږي، چې د خپلې هغه پوهې او تجربو له مخې د نوښتگرو طرحو په وړاندې کولو سره، چې کولاى شي، په ښوونه او روزنه کې د زده کوونکو لپاره مهمه (مرستندوى) واقع شي، له موږ سره مرسته وکړي.

همدا رنگه له خپلو رځنده وړانديزونو، چې د کتاب د کيفيت په لوړولو کې اغيزې ولري، له هيڅ ډول هڅې او هاند څخه ډوډه ونه کړي. تاسو ته ډاډ درکوو، چې انشاء الله ستاسو جوړوونکو او ارزښتمنو نظرياتو او وړانديزونو ته به د کتاب د نښکړتياوو او تيروتنو د مخنيوي په موخه په راتلونکي چاپ کې په مينه هر کلي وړاوي.

په پاى کې له هغو ښاغلو استادانو څخه چې ددغه کتاب په سمون او اصلاح کې يې زيار اېستلى دى، مننه کوو.

همدا رنگه د کمپيوټر له درنو کارکوونکو څخه چې ددغه کتاب په ټايب، وپرايښ او د پاڼو په ښکلا کې يې نه ستړي کيدونکي هلې ځلې کړيدى، هم مننه کوو.

د تعليمي نصاب د پراختيا او درسي کتابونو د تاليف عمومي رياست

د فزيک څانگه



لړلیک

مخونه

لوړې څپرکي: میخانیکي تعادل

- ۱.....
- ۲..... قوه، قوه د وکتور په توګه
- ۶..... متلاقي (ضیر موازي قوي متلاقي) د نقطه يي کتلې تعادل
- ۱۴.....
- ۲۱..... د قوي مومنت (تورک)
- ۲۹..... موازي قوي
- ۳۴..... د قوي زوج
- ۳۶..... د تعادل عمومي شرطونه
- ۵۱..... **دوهم څپرکي:** یو بعدي حرکت
- ۵۲..... د موقعیت او مکان بدلون
- ۵۲..... حرکت د مستقیم خط په امتداد
- ۵۴..... منځنی (متوسط) سرعت
- ۵۸..... د موقعیت – زمان گراف
- ۶۰..... تعجیل
- ۶۳..... یو نواخته حرکت یو ډوله (متشابه) حرکت
- ۶۶..... ازاد سقوط
- ۷۴..... **درېم څپرکي:** دوه بعدي حرکتونه
- ۷۵..... د مکان او منځنی سرعت بدلون
- ۷۸..... منځنی، تعجیل او لحظه يي تعجیل
- ۸۱..... غورځوونکي (برتابي) حرکتونه
- ۸۳..... مایل غورځول (ویشتل)
- ۸۷..... دایروي حرکت
- ۸۹..... دایروي یو ډوله حرکت
- ۹۳..... تعجیل په دایروي یو ډولي (متشابه) حرکت کې

لړلیک



مخونه

۱۰۰..... د نیوتن د حرکت قوانین (د نیوتن لومړی قانون)

۱۰۲..... د نیوتن دوهم قانون

۱۰۳..... د نیوتن دریم قانون

۱۰۷..... د نیوتن د قوانینو پلي کول

۱۱۲..... د اصطکاک قوه

۱۱۶..... د نیوتن د جاذبي قانون

۱۲۲..... لفت

۱۲۴..... د مصنوعي سپوږمکیو د حرکت د لبروي ملارونه

۱۳۰..... **پنځم څپرکی**: کار، میخانیکي انرژي او طاقت

۱۳۴..... کار او حرکي انرژي

۱۳۸..... هغه کار چې د فز لخوا پر کتلې ترسره کېږي

۱۴۰..... تحفظي او غیر تحفظي قوې

۱۴۱..... د میخانیکي انرژي ساتنه

۱۴۳..... توان (طاقت)

۱۴۸..... **شپږم څپرکی**: خطي موتم او امپولس

۱۴۹..... مستقیم الخط حرکت او امپولس

۱۵۱..... موتم

۱۵۶..... قوه و موتم

۱۵۹..... ضربه او د خطي موتم تحفظ

۱۶۲..... ارتجاعي تصادم

۱۶۴..... غیر ارتجاعي تصادم

۱۶۴..... د ثقل مرکز

۲۰۹..... د توفاني جریان پلیده

لړلیک



مخونه

۱۷۰..... د سیالونو نسبي سکون

۱۷۱..... د سیالونو فشار

۱۷۲..... د مايع د فشار اندازه کول

۱۷۵..... د اتموسفیر فشار

۱۷۸..... په محصور شوو مایعاتو کې د فشار اندازه کول

۱۸۰..... په سیالونو کې د فشار انتقال - د اوبو شکنجه

۱۸۳..... د ارشمیدس قانون

۱۹۲..... **اتم څپرکي**: متحرک سیالات - خیالي سیالات

۱۹۴..... د متعادیت معادله

۱۹۶..... د برنولي معادله

۲۰۰..... د برنولي د قانون تطبیقات


۲۰۲..... د جريان د سرعت اندازه کول

۲۰۴..... د الوتکي وزرونه او متحرکه او چتونونکي قوه

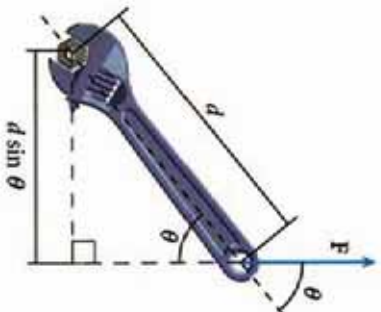
۲۰۵..... لزوجیت - د لزوجیت مفهوم

۲۰۹..... د توفاني جريان پدیده

لومړۍ څپرکۍ میخانیکي انډول (تعادل)



میخانیکي تعادل د میخانیک فزیک له خورا مهمو موضوعگانو څخه دی. په دې بحث کې مطالعه کېدونکي موضوعگانې هم په نظري برخه کې او هم د اقتصاد په بیلابیلو ډګرونو کې د اړتیا وړ ماشین الاتو او تګنالو ژۍ په پراختیا کې چې زموږ د ټولنې په ورځني ژوندانه کې په پراخه کچه استعمالیږي یو مهم بنسټ جوړوي. ځینې مسایل لکه : د قوو مطالعه، په اجسامو باندې بې د اغیزو څرنگوالی، د رافعي او د ساختماني وسایطو لکه تراکتورونو، بلورونو، جرقیلونو او همدا رنگه د کرنې، صنایعو ځمکنۍ او هوایی ترانسپورت او دکانونو د استخراج په څیر د ساده ماشینونو په طراحی او جوړولو کې د قوو او دهنو داروندو پلیدو د اغیزو کارول د ټول پر هغو قواعدو بناسوي چې میخانیک فزیک او له هغې جملې څخه د میخانیکي تعادل پر بنسټ تیوري گانې بې تر مطالعې لاندې نیسي. میخانیکي تعادل د انسانانو او حیواناتو په ژوندانه کې یو له خو را ژورو او طبیعي رمزونو څخه دی چې د ځمکې د کرې پرمخ بې هغو ته د ثبات او ژوندې پاتې کېدو مناسب شرایط برابر کړي. د ځمکې پرمخ د انسانانو له حرکت څخه نیولې د سفینو او سیارو ترالوتلو او د ځمکې او بحرونو په ژورو کې نفوذ د ټول د علم او تکنالوژۍ لاسته راوړنې دي چې د میخانیکي تعادل د بحث نقش پکې ښکاره او غوره دی. ددې څپرکۍ محتویات دهنو محتویاتو په تړاو جوړشوي چې ناسو په تیرو کلونو کې زده کېدې. قوه چې د فزیک له پخوانیو درسونو څخه یو بحث دی، په دې څپرکۍ کې هم تکرارېږي ترڅو چې یو شمیر تر ټولو بحثونو لکه قوې یا متقابلې اغیزې (عمل او عکس العمل) او د تعادل بحث ته د ورتلو بنسټ جوړ کړی دی. د قوو د څرگندېدو (منځته راتلو) مطالعه، که څه هم د متلاقي او یا موازي قوو په څیر ده، همدا رنگه د قوو د تجربه کېدو پوهه، د قوې د مومنت او یا د دوران مومنت، او د زوج قوې په څیر دیو شمیر نورو مفاهیمو د پینځلو او زده کولو لپاره هواروي.



په شکل کې لیدل کېږي چې د رافعي د مټ لوری تل د تطبیق شوی قوې پر لوري صعود دی.

دې ته باید پام وکړو چې قوه د یو مهم شاخص په توګه ددې څېړنې په ټولو برخو کې کارول شوې. ددې څېړنې دمنډر جو بحثونو دښې پوهې لپاره کورښن شوی چې موضوعګانې د مثالونو او تمرینونو په راوړلو سره د شاګردانو د مناقشې او تفکر لپاره وړاندې شي.

هیله ده چې زده کوونکي ددې څېړنې په پای کې د ولټیزو کارونو په ترسره کولو او دسوالونو او تمرینونو په حلولو سره، ددې بحث فزیکي مفاهیم پخپلو ذهنونو کې لاټور او تحکیم کړي او په پایله کې یې لاندې پوښتنو او ددې په څېړنورو پوښتنو ته ځواب ووايي:

ولې قوه وکتور دی؟ څه شی د یو جسم د حرکت ډګرندي کېدو یا تعجیل سبب ګرځي؟ کله چې د یو څټک (چکش) په مرسته پریو میخ قوه وارده شي، ایا میخ هم پخپل وارښیرته پرچکش قوه واردوي؟ څنګه او ولې؟، د یوه محور پرشاوخوا د یو جسم دوران پېښه څه شی تمثیلوي؟ او ددې په څېړنورو پوښتنو ته باید په مناسبه توګه ځواب ورکړی.


1-1: قوه

هغه قوه چې ټول یې پیژنو، د محکمې د جاذبې قوه یا د جسم وزن دی. په ورځني ژوندانه او هم تخنیک کې له ګڼ شمیر قوو سره بلدتیا لرو. همدارنګه تاسو په تیرو کلونو کې په دې پوه شوی چې قوې د هغو د اغیزو له مخې کولای شو پیژنو. یوه قوه کولای شي چې یو جسم په حرکت راولي د یو جسم د سرعت د زیاتېدو یا کمېدو سبب شي او یا د یو جسم د شکل او د حرکت د لورې د تغیر سبب شي. دا تغیرات کله ناکله ډېر کم او واړه وي چې یوازې په ډېرو دقیقو اندازه کولو سره تشخیص کېدای شي. د یو جسم سرعت او د هغه د حرکت لوری دوه داسې ځانګړتیاوې دي چې د جسم د حرکت حالت ټاکي او له دې ځانګړتیاوو څخه په ګټې اخستې سره قوه داسې تعریفوي: قوه هغه عامل دی چې د جسم د شکل او یا حالت د تغیر سبب ګرځي.

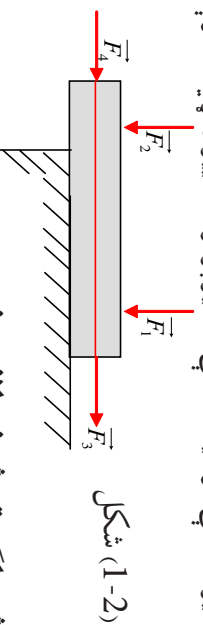
قوه دو وکتور په توګه

يو جسم تل د خپل ځان يوه لوري ته حرکت ورکولی شي او يا د خپل سرعت يوه لوري ته تغير ورکوي، چې پر جسم باندي عامله قوه په همغه لوري اغيز کوي. همدا رنگه د قوي د اغيز لوري کولای شي د جسم د شکل د تغير سبب شي. دا موضوع د اوسني په يوه ميله کې په ښه توګه کتل کېدای شي، يعنی کله چې ميله د يوې قوي تر اغيز لاندې واقع شي، کېږي. له پورتنيو څرګندونو څخه دې پایلې ته رسېږو چې قوه يو وکتوري کميت دی او د هغې د توضیح او بيانولو لپاره يې دکچې (اندازې) او لوري پېژندلو ته اړتيا ده. قوه د يوه وکتور په توګه ديو تير په مرسته ښيي. د (1-1) په شکل کې لاندې نوم کېښودلو ته پام وکړئ:

د A نقطه د تاثير يا اغيز نقطه، د AB د غني اوردوالی او يا د قوي مقدار يا زياتوالی، \overline{AB} د غني يا د قوي لوری يا جهت او د د مستقيم د تاثير يا اغيز کرښه او يا د قوي استقامت لوری ښيي.



پريوه جسم ديوې قوي اغيزه، په عمومي توګه پر همغه جسم باندي د قوي د اغيز د نقطې د موقعيت پورې اړه لري. (1-2) په شکل کې ليدل کېږي چې په جسم باندي دوې قوي F_1 و F_2 چې يوله بله سره مساوي دي عمل کوي. لکه څنګه چې د F_1 قوه جسم د لاندیني سطحې پر لور تر فشار لاندې نيسي او د F_2 قوه هغه، لاندې لوري ته کېږي. برعکس د F_3 او F_4 مساوي قوي چې د همغه د اغيزې کرښه پر جسم عمل کوي، مساوی اغيز پر جسم باندي واره وي، چې په پایله کې ويلی شو: که چېرې د يوې قوي د اغيز د نقطې موقعيت دهغې د اغيز پر کرښه تغير وکړي، د قوي اغيز تغير نه کوي.

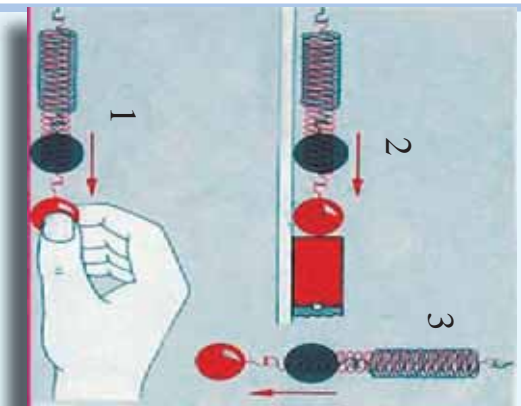


اوس د بيلابيلو قوو څو بيلګې تر څېړني لاندې نيسو:

له قوو څخه يوه د عضلو قوه ده. ددې قوي په مرسته کولای شو د اجسامو سرعت کم يا زيات کړو او يا د هغوی شکل ته تغير ورکړو. د عضلو قوه د فزيکي تجربو لپاره لږه مساعده ده. ځکه چې په سختی سره اندازه کېږي. لکه څنګه چې له پخوا څخه پوهېږئ، د وزن قوه يوه بله له قوو څخه ده چې په هغه يوه ځای کې د جسم له کتلې او يا د هغې له مادي اندازې سره چې په جسم کې شتون لري، مستقيماً متناسبه ده. د جسم وزن قوه تل په عمودي توګه د ځمکې د ثقل په لوري عمل کوي. له يوه تار څخه په ګټې اخستلو سره چې له يوه څرخ څخه تير شوی دی، د وزن د قوي اغيز بڼه له دې چې په مقدار (اندازه) کې تغير را منځ ته شي، کولای شو نورو لورونه يې متوجه کړو. د اصرطکاک قوه يوبل ډول قوه ده.

کله چې دوه جسمونه سره په تماس کې شي، او د متقابل حرکت په حالت کې راشي، ددوي ترمنځ د اصطکاکی قوه منځته راځي. مورږ په کور، بڼوونځي، بازار، د سپورت په ډگرونو او نورو ډېرو ځايونو کې په خپل ورځني ژوند کې پر جسمونو باندې د ډول ډول قوو لکه د مقناطیس قوې، برېښنايي قوې او نورو اغیز وینو. ددې لپاره چې د قوې اغیزې په ښه او څرگند ډول ولید لای شو او د قوې نورې بیلگې معرفي کړای شو، د لاندې فعالیتونو په ترسره کولو پیل کوو.

فعالیت



شکل (1-3)

د (1-3) شکلونو ته نظر وکړئ. څه به پېښ شي، که چېرې فز په لاس راوکاږو؟ (1-حالت) او یا مقناطیس ورته نژدې کړو؟ (2-حالت) دغه کار عملي کړئ او د خپلو کتنو پایلې په هره ډله کې وړاندې کړئ. داخل فز په عمومي ډول له غونډ اړي اړي (ګلولې) سره یوځای د (3-حالت) د شکل په څیر و څړوئ، څه تغیر به وګورئ؟

ایا بیا به هم فز د غونډ اړي د وزن له امله و غځېږي؟ که چېرې تجربه مو په سمه توګه ترسره کړې وي، ددې ګورئ چې مقناطیس او د غونډ اړي وزن هم د لاس د عضلو د قوې په څیر د فز د شکل د تغیر لامل کېږي. نو پایلې ته رسېږو چې: قوه کولای شي د جسم د شکل د تغیر لامل و ګرځي او یا برعکس د شکل هر ډول تغیر د یوې قوې د اغیز معلول دی.

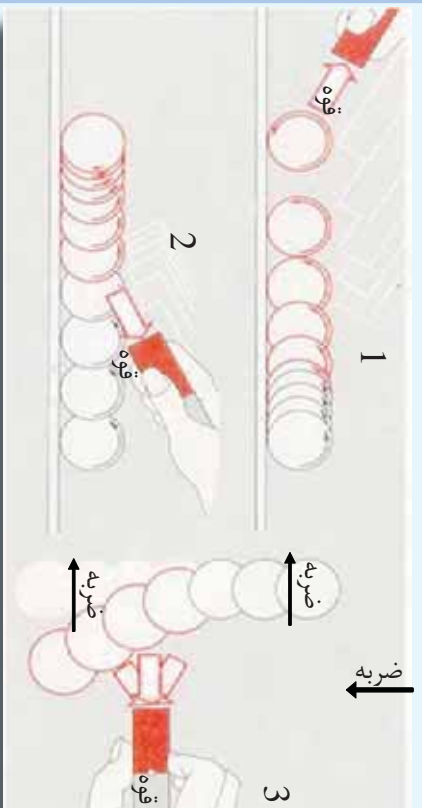
یو شمیر نور ځایونه چې کولای شو د عضلو قوه پکې په اسانۍ سره وګورو د بیلابیل سپورتونه دي چې ددوي له ډلې څخه د والیال او باسکتبال لوبې دي چې په ترڅ کې یې تاسو پخپله کولای شئ په تجربوي توګه د خپل لاس د عضلو قوه احساس کړئ. په دې لوبو کې ستاسو د لاس د عضلو قوه توب ته سرعت ورکوي او یا توب چې د حرکت په حالت کې دی ولې یې دروي؟ او پایلې د حرکت لوري ته تغیر ورکوي؟ ایا هغه څه چې وویل شول، د مقناطیس د قوې په هکله هم صدق کوي؟ ایا د مقناطیس قوه د یو جسم د سرعت د زیاتېدو لامل کېدای شي؟ د مقناطیس د قوې اغیزې د لاندې فعالیت د ترسره کولو په ترڅ کې کتلې شو:



فعالیت

هغو حالتونو ته چې (1-4) په شکلونو کې وړاندې شوي دي، پام وکړئ:

1) حالت) پر یو واړه او سپینز غونډاږي چې د میز پر سر پروت دی، ضربه وارد وو. گلولې د واردي ضربه له امله د میز پر سر ورو رغړي. په عادي حالت کې گلولې په ثابت سرعت حرکت کوي او که یوه مقناطیسي میله د مخې لخوا اگلولې ته ورژدي شي، څه پیښه به ریلیدل شي؟ د گلولې د حرکت په سرعت کې څه تغیر لیدل کېږي؟



شکل (1-4)

همدې حالت ته ورته گلولې، یوه گوله چې په ساکن حالت کې ده، کولای شي په حرکت راشي.

2) حالت). د اوسپني گلولې یو ځل بیا د میز پر مخ د رغړیدو په ښه خوښي کوو، خو دا ځل هغوي د (2حالت) که ونیئ یې د مقناطیسي میلې په مرسته تعقیبوو یعنې د گلولې د حرکت په سرعت کې څه تغیر ونیئ او ولې؟ په دریم حالت کې چې مقناطیسي میله له یوه لوري، رغړیدونکې د اوسپنيزې گلولې د حرکت مخالف لوري له خوا مقناطیسي میلې ته ورژدي کېږي، تا سو څه تغیر کوږئ؟ هغه پایلې چې تا سو د تجربې پر مهال د پورتنیو پوښتنو د ځواب په توگه تر لاسه کوئ، د یو دلیر کار په ترڅ کې یې په ځپلو کې مطرح کوئ

دلاندی تمرینونو په تر سره کولو سره، په یو جسم بانډی د قوې د اغیزو د څرنگوالي په اړه د گروپ د غړو تر منځ بحث وکړئ او پایلې یې له نورو سره شریکې کوئ:

a- ویل شوي چې قوه یو وکتوري کمیت دی، ایا کولای شئ د یو وکتوري کمیت ځانگړنې بیان کوئ.

b- ایا پرته له وکتوري کمیت څخه، بل کوم کمیت هم پېژنئ؟ که څواب هو وي، هغه کمیت کوم کمیت دی؟ د هغه کمیت او ځانگړنې معرفي کوئ

- c- قوه يو جسم چي ساکن وي په حرکت راولي. کولای شی دا وینا په تجربه ثابتہ کړئ؟
- d- قوه په څه ډول د يوه متحرک جسم د دريلو سبب گرځي؟
- e- يو جسم په يوه ټاکلي لوري په حرکت کې دی، يوه قوه د کينې لوري پرې اغيز کوي، څه پيښېږي؟ د يو شکل په واسطه يې وښئئ. له دې عمل څخه څه پایله ترلاسه کوي؟
- f- پر يوه جسم د يوې قوې داغيز له امله، ممکنه ده چې دهغه جسم شکل ته تغير ورکړي. ايا په جسم باندې دا تغير د يو شکل په مرسته ښودلای شی؟

پوښتنې

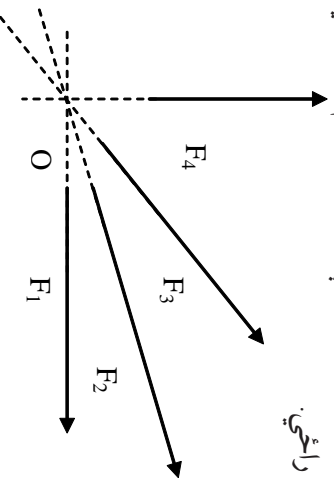


د قوې د اندازه کولو د واحدونو په هکله مو په تېرو کلونو کې لوستي دي، لاندې پوښتنو ته په ځواب ورکولو پخپل پخواني معلومات په لاندو ډول تکرار کړئ:

1. د (SI) په نړيوال سيستم کې بنسټيز (اساسي) واحدونه کوم دي؟ بيان او تعريف يې کړئ.
2. د (SI) په نړيوال سيستم کې قوې واحد څه شی دی؟ تعريف يې کړئ.
3. د (SI) په نړيوال سيستم کې د قوې واحدو بنسټيز واحدی که يو فرعي واحد؟ او ولې؟

1-2: متلاقي (غیر موازي) قوې

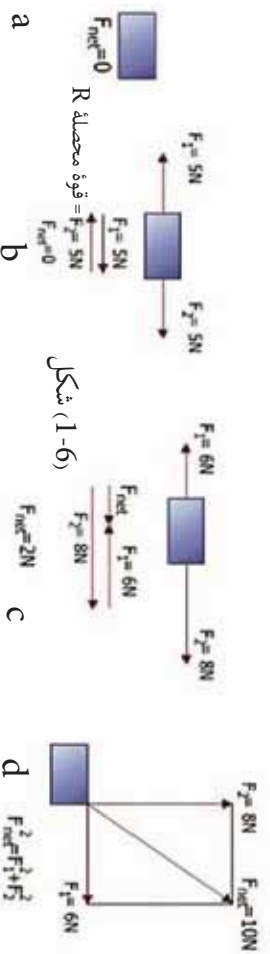
کله چې پر يوه جسم دوه يا تر دوو زياتې قوې اغيز وکړي، داسې چې د اغيز خطونه يې سره موازي نه وي او په يوه نقطه کې يو بل قطع کړي، دا قواوې د متلاقي قوو په نامه يادوي. د بيلگې په توگه (1-5) په شکل کې ليدل کېږي چې د F_1, F_2, F_3 او F_4 قوو د اغيز خطونه د O په نقطه کې يو بل قطع کوي، نو د O نقطه ددې قوو د اغيز مشترکه نقطه ده، F_1, F_2, F_3 او F_4 قوې متلاقي قوې بلل کېږي. کله چه څو متلاقي قوې پر يوه جسم باندې عمل وکړي، يوه محصله قوه را منځ ته کوي چې ددې قوې اندازه او لوري په هندسي توگه دوکتورونو له قواعدو څخه په گڼې اخيستلو او هم په حسابي توگه له الجبري قواعدو څخه په گڼې اخيستلو لاس ته راځي.



شکل (1-5)

د قوو محصله

کله چه په يوه وخت کې پر يوه جسم له يورې څخه زياتې قوې واردې شي، په دې حالت کې د قوو يوه سيستم پر جسم عمل کوي چې د جسم د حرکت پر حالت اغيزه اچوي او پر يوه جسم د اغيز کوونکو ټولو قوو وکتوري مجموعه د محصله قوې په نامه يادېږي او هغه په R نښتي. پوهېږو چې قوې د وکتورو نو د قوانينو پر بنسټ جمع کېږي (لاندي شکلونه دي وکتل شي) بايد په ياد ولرو چې محصله قوه تل پر جسم د عمل کوونکو قوو له مجموعې سره معادله نه وي يعنې دا مجموعه په هر حالت کې د هغوی له محصله قوې سره نشو بدلولی، يوازې په هغه حالت کې دا کارشونې دی چې قوې موازي وي.



شکل (1-6)

د قوو محصله، د هغو قوو وکتوري مجموعه ده چې پر يوه جسم عمل کوي. بايد وويل شي چې د سوالونو په حل کې د R سمبول پر ځای ($\sum F$) هم کاروي او هم R د محصلې قوې په F_{net} سره نښو.

په هندسي توگه د متلاقي قوو محصله پيدا کول:

د متلاقي قوو د محصلې د پيدا کولو لپاره لاندي فعاليت تر سره کوو:

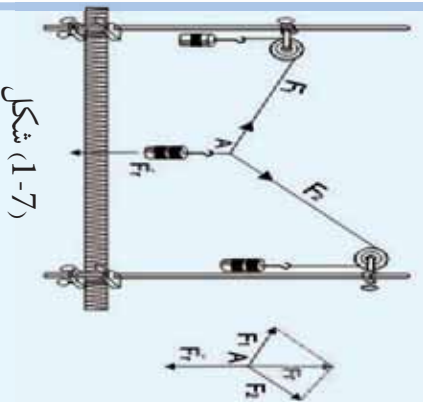


فعاليت

په يوه تجربه کې له مخالف شکل سره سم د \vec{F}_1 او \vec{F}_2 دوي قوې په مياله توگه، په مختلفو لورو پورته خواته او د F_r قوه په عمودي توگه ښکته خواته عمل کوي. د قوو اندازه د هغو وزنونو په مرسته چې خړول شوي دي، ټاکل شوي ده. که چېرې قوې د څښمو په توگه رسم کړو، يوه ساده هندسي هماهنگي په لاس راځي.

څرنگه چې د نقطه د سکون په حالت کې ده، نو بايد:

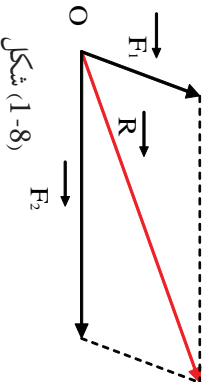
\vec{F}_1 او \vec{F}_2 محصله ده. د F_r له قوې سره مساوي، خو مخالف لوري کې لوري به ولري. که چېرې په رسم کې F_r وکتور ته په مخالف لوري کې د هغه له خپل اوږدوالي سره مساوي دوام ورکړو، \vec{F}_r به لاس راکوي. له دې ځايه څخه ليدل کېږي چې د F_1 او F_2 وکتورونه يوه داسې متوازي الاضلاع جوړوي چې \vec{F}_r يې وتر دی.



شکل (1-7)

د پورتنی فعالیت له پایلې څخه په گټې اخیستلو، ددو غیر موازي قوو محصله چې په هندسي توگه د قوو د متوازي الاضلاع د قاعدې په نامه نومول شوې ده، داسې بیانوو:

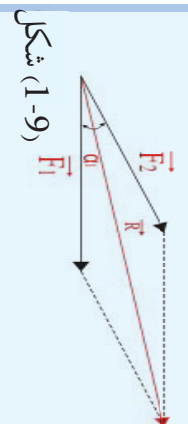
قاعدو: د دوو نا موازي (متلاقي) قوو محصله چې تر یوې زاوې لاندې پریوه جسم باندې اغیزکوي او دوو قوو له مقدار او لوري څخه هغه متوازي الاضلاع په لاس راځي چې د دې دوو قوو په مرسته رسېږي. که چېرې موز هغه زاوې ته چې د دوو قوو ترمنځ شتون لري، تغیر ورکړو، د محصله قوې کچه هم تغیر مومي، له دې وینا څخه یوه بله قاعده لاس ته راوړو او دا رنگه یې بیا نو:



شکل (1-8)

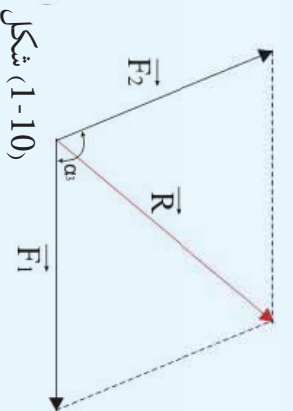
قاعدو: د محصله قوې مقدار نه یوازې د دوو قوو په مقدار پورې بلکې د هغې زاوې پر وسعت پورې هم اړه لري کومه چې د دې دوو قوو دانځیز د خطونو ترمنځ شتون لري. د محصله قوې د کچې اړیکه د هغې زاوې له وسعت سره چې ددو ووقوو ترمنځ شتون لري، په لاندې فعالیت کې تشریح اوکلی شو.

فعالیت

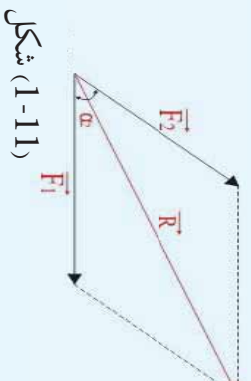


شکل (1-9)

وراندې وویل شول چې پریو جسم باندې د اغیز کونکو دوو قوو د محصلې قوې کچه، نه یوازې د دوو قوو په مقدار پورې اړونده ده، بلکې د هغې زاوې پر پراخوالي پورې هم اړه لري چې د دوو قوو ترمنځ واقع ده. دا یوه قاعده ده چې موږ یې په دې فعالیت کې په ترسېمې ډول ثبوت او مشاهده کوو.



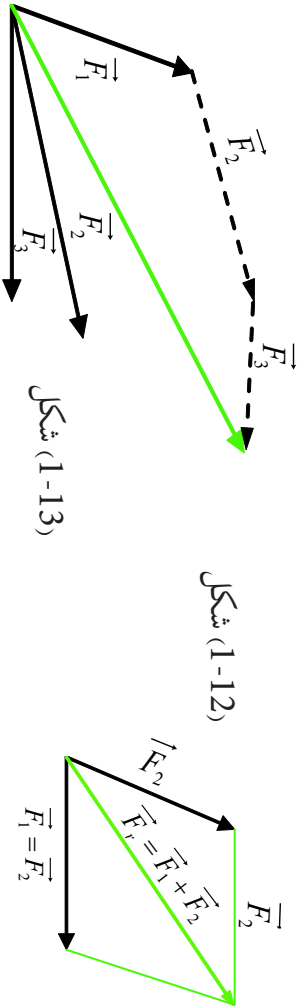
شکل (1-10)



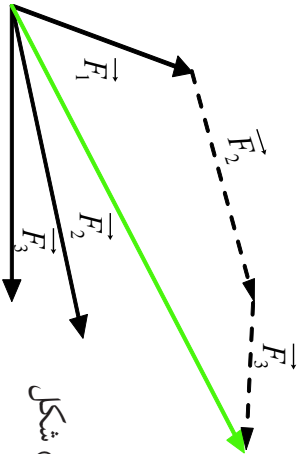
شکل (1-11)

په دنیو حالتونو کې د α ، α_1 او α_2 تر زاویو لاندې پریو جسم باندې عمل کوي. د پورتنیو حالتونو د هر یوه حالت لپاره، په داسې حال کې چې قوې په مساوي اندازه دي او د منځ زاوې پراخوالي یې سره توپیر کوي، یوه محصله قوه د متوازي الاضلاع د بشپړولو په طریقه په لاس راوړو. د دې متوازي الاضلاع وتر چې د محصلې قوې کچه په لاس راکوي، اندازه کوو چې دا وتر د F_1 او F_2 محصله قوې له وکتور سره شریکه مېدا لري او لوري یې له مېدا څخه د انجام په لور دی. په شکلونو کې گورئ چې د R د محصلې قوې کچه نظر هغه زاوې ته چې قوې یې پخپلو جوړوي، توپیر لري. لکه څنګه چې وینو، هر څومره چې د دوو قوو د وکتورونو ترمنځ زاوې کوچنۍ وي، محصله یې لویه او څومره چې د دوي ترمنځ زاوې لویه وي، محصله یې کوچنۍ وي. دا فعالیت دې هره ډله په جلا ډول تر سره کړي او دخپل کار پایلې دې خپلو ټولگيوالوته وړاندې کړي.

باید وروایو چې موز کولای شو همدا پایله د وکتورونو د جمع کولو (د وکتورونو د انتقال طریقه) له قاعدې څخه په گټې اخیستلو هم لاسته راوړو. دادی په (1-12) او (1-13) شکلونو کې د هغو قوو محصله چې په متلاقي ډول یې په یوه جسم عمل کړی دی، د وکتور د قوو د انتقال له طریقی څخه په کار اخیستلو سره دا ډول لاسته راوړو. د \vec{F}_1 د وکتور قوې انجام ته، یو موازی خط د \vec{F}_2 د قوې داغیز د خط په یوه لوري رسموو. بیا د دې خط پر مخ، یو قطعه خط چې د \vec{F}_2 قوې د وکتور اوږدوالی یې سره مساوي وي، جلا او په نښه کوو او بیا وروسته د \vec{F}_2 له انجام څخه یو خط چې د \vec{F}_3 له قوې سره مساوي او موازي وي، رسموو. کوم قطعه خط چې په لاس راځي، د \vec{F}_1 ، \vec{F}_2 او \vec{F}_3 د قوو محصله ده، د (1-13) شکل. باید په یاد ولرو چې د متوازي الاضلاع قاعده او د وکتورونو قاعده د جمعې د محصله قوې د پیدا کولو لپاره عین نتیجه لري.

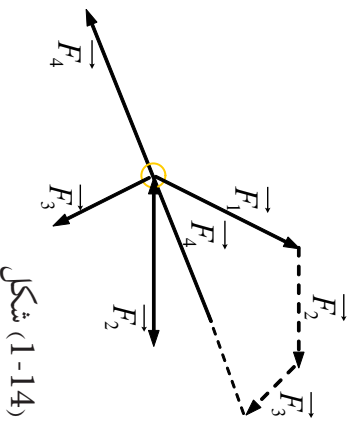


شکل (1-12)

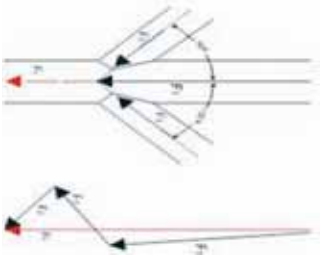


شکل (1-13)

که چېرې یو جسم د تعادل په حال کې وي، د قوو محصله یې له صفر سره مساوي ده او د قوو د مصلع په پایله کې یوه تریلي مصلع ده، د (1-14) شکل په تریلي مصلع کې د اخري قوې انجام د هغې قوې داغیز له نقطې سره منطبق کېږي. یعنې: $R = 0$ او یا $\sum F = 0$



شکل (1-14)



شکل (1-15)

مثال:

د یوې پلټنې د پاسه $F_1 = 3600N$ وزن پورته شوی دی. په همدې وخت کې په دې پایه کې، دوې قوې یوه یې $F_2 = 1200N$ تر 40° زاوې لاندې او بله قوه یې $F_3 = 1440N$ تر 55° لاندې فشار واردوي. د محصله قوې اندازه او لوری پیدا کړئ.

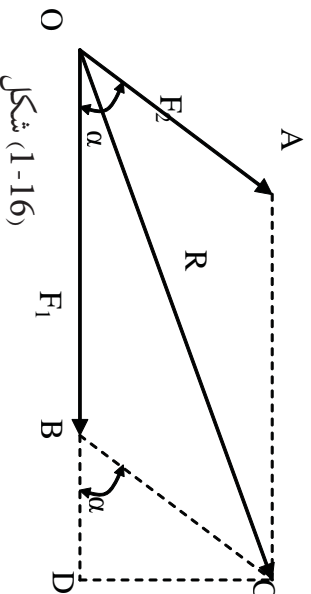
حل: تر ټولو د مخه د قوې لپاره د اوږدوالي یو مقیاسي واحد ټاکو. د بیلگې په توگه $1000N = 1cm$ وروسته د F_1 او F_2 قوې د قبول شوی مقیاسي واحد پر بنسټ، د هغو د کچې او لوري په رعایتولو سره، د قوو په یوه مضلع کې انتقالوو. د قوو دمحصلې اوږدوالی د شکل له مخې له $5.3cm$ سره مساوي دي. نو د پورتنۍ قبول شوی مقیاس څخه په گټې اخیستلو، سره لرو چې:

$$R : 1000 N = 5.3cm : 1cm, R = 5300 N$$

او هغه زاویه چې محصله یې له افق سره جوړوي له 86° څخه عبارت ده.

د متلاقي قوو د محصلې د پیدا کولو الجبري طریقہ

که چیرې د F_1 او F_2 دوې قوې پر یوه جسم باندې داسې عمل وکړي چې داغیز خطونه یې پخپلو کې د α زاویه جوړه کړي (1-16) شکل: په دې صورت کې د محصلې لوری والي یا کچې او لوري ټاکلو لپاره، د هغو دوو قوو د وکتورونو متوازي الاضلاع بشپړوو او له مخې یې محصله محاسبه کوو.



شکل (1-16)

د ODC په قائم الزاویه مثلث کې لیدل کېږي چې:

$$OC^2 = R^2 = OD^2 + DC^2 \dots\dots\dots 1$$

$$OB = F_1, \quad OD = OB + BD = F_1 + BD$$

اوس که چیري د (OD) قیمت د 1 په رابطه کې واچووه، نو لرو چي:

$$R^2 = (F_1 + BD)^2 + DC^2$$

$$R^2 = F_1^2 + 2F_1 \cdot BD + BD^2 + DC^2 \dots\dots\dots 2$$

د \hat{BDC} قائم الزاویه مثلث له معني لیکلی شو چي:

$$BC^2 = F_2^2 = BD^2 + DC^2$$

اوس د $BD^2 + DC^2$ پر ځای د هغو مساوي اندازه یعنی (F_2^2) په 2 رابطه کې وضع کوو:

$$\vec{R}^2 = (F_1^2 + 2F_1 \cdot BD + F_2^2) \dots\dots\dots 3$$

د \hat{BDC} له مثلث څخه د BD کچه پیدا کوو او په 3 رابطه کې يې وضع کوو:

$$BD = \vec{F}_2 \cdot \cos \alpha$$

$$\vec{R}^2 = (\vec{F}_1^2 + 2\vec{F}_1 \cdot \vec{F}_2 \cos \alpha + \vec{F}_2^2)$$

$$\vec{R} = \sqrt{F_1^2 + F_2^2 + 2F_1 \cdot F_2 \cdot \cos \alpha}$$

موز ويلي وو چي د محصله قوي کچه د هغې زاويې په ليروالي پورې اړه لري، چي د دوو قوو ترمنځ واقع ده. اوس د \vec{R} د محصلي قیمت نظر د α قیمت ته تر مناقشي لاندې نيسو.

1. که چیري $90^\circ = \alpha$ وي، نو $0 = \cos 90^\circ$ دی او لرو چي:

$$\vec{R} = \sqrt{\vec{F}_1^2 + \vec{F}_2^2 + 2\vec{F}_1 \cdot \vec{F}_2 \times 0}$$

$$\vec{R} = \sqrt{\vec{F}_1^2 + \vec{F}_2^2}$$

$$R^2 = F_1^2 + F_2^2$$

2. که چیري $180^\circ = \alpha$ وي، نو $-1 = \cos 180^\circ$ دی او کولای شو چي وليکو:

$$R = \sqrt{F_1^2 + F_2^2 + 2F_1 \cdot F_2(-1)}$$

$$R = \sqrt{F_1^2 + F_2^2 - 2F_1 \cdot F_2}$$

$$R = \sqrt{(F_1 - F_2)^2}$$

$$\vec{R} = \vec{F}_1 - \vec{F}_2$$

3. که چیري $\hat{\alpha} = 0^\circ$ ، په دې صورت کې $\cos 0^\circ = 1$ دی او لرو چې:

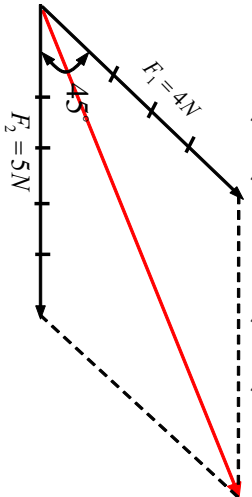
$$R = \sqrt{F_1^2 + F_2^2 + 2F_1 \cdot F_2 (+1)}$$

$$R = \sqrt{F_1^2 + F_2^2 + 2F_1 \cdot F_2}$$

$$R = \sqrt{(F_1 + F_2)^2}$$

$$R = F_1 + F_2$$

مثال: لاندې شکل په نظر کې ونیسئ، د قوو محصله د هغې رابطې په مرسته چې تاسې زده کړلده محاسبه کړئ:



حل:

$$\vec{F}_1 = 4N$$

$$\vec{F}_2 = 5N$$

$$\hat{\alpha} = 45^\circ$$

$$\cos 45^\circ = 1/\sqrt{2} = \frac{\sqrt{2}}{2}$$

نو لرو چې:

$$R = \sqrt{F_1^2 + F_2^2 + 2F_1 \cdot F_2 \cos \alpha}$$

$$= \sqrt{(4^2) + (5^2) + 2 \times 4 \times 5 \times \frac{\sqrt{2}}{2}}$$

$$R = \sqrt{16 + 25 + 20\sqrt{2}} = \sqrt{41 + 20\sqrt{2}}$$

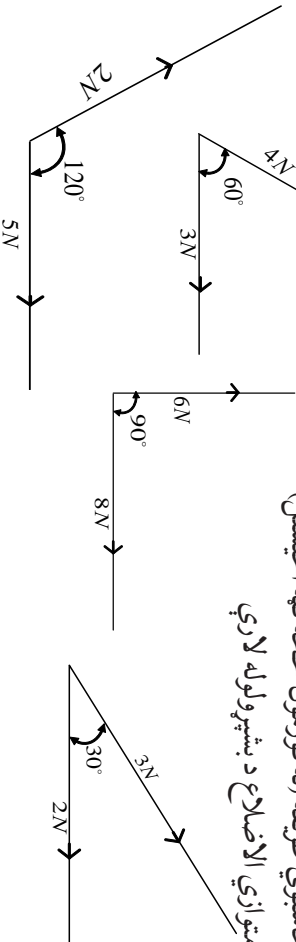
$$R = \sqrt{41 + 20 \cdot 1.414} = \sqrt{41 + 28.28} = \sqrt{69.28} = \sqrt{69.28} = 8.32N$$

پوښتنه:

لاندې شکلونه په نظر کې ونیسئ چې په هغوی کې قوې په هغه اندازه چې ورکړل شوي دي، تر مختلفو زاویو لاندې په جسم باندې عمل کوي. د قوو د محصلې اندازه او لوری په لاندې دوو طریقو سره لاسته راوړئ:

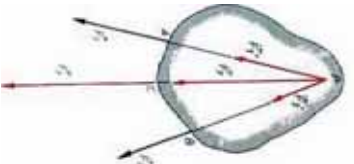
1. محاسبوي طریقته (له فورمول څخه گټه اخیستل)

2. د متوازي الاضلاع د بشپړولو له لارې



هغه قوي چي د يوه جسم په مختلفو نقطو کي اغيزه کوي:

مورن په تير لوست کي د متلاقي قوو اغيز چي پر يوه جسم باندي په مختلفو وضعيتونو کي عمل کوي، مطالعه کړ. همدا رنگه مو په ترسيمي او محاسبوي لارو د محصلي له پيدا کولو سره هم اشنائي ترلاسه کړه.



شکل (1-17)

يو بل حالت چي ډير ځله په تخنيکي پيښو کي رامنځ ته کيږي، هغه حالت دی چي که چيري دوه قوي د يو جسم په دوو نقطو عمل وکړي، څنگه کولای شو چي محصله يې په هندسي توگه لاس ته راوړو؟ په (1-17) شکل کي ليدل کيږي چي د F_1 او F_2 دوي قوي د يو جسم پر A او B نقطو عمل کوي. دا دوي نقطې مختلف موقعيتونه لري. څنگه کولای شو چي د دې دوو قوو محصله لاس ته راوړو؟ په تيرو درسو نوکي موږ لوستل چي:

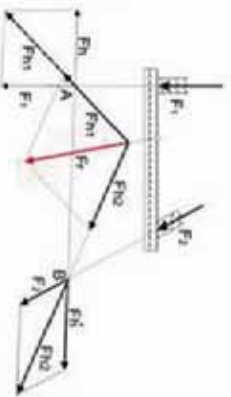
کولای شو يوي قوي ته دهغي د اغيز پر خط د ځای بدلون ورکړو، داسي چي په مقدار او لوري کي يې هيڅ ډول تغيير رامنځ ته نشي. د همدې قاعدې په مرسته، د دواړو قوو د اغيز خطونو ته د تر نقطې پوري امتداد ورکړو، ترڅو چي يو او بل قطع کړي. د له نقطې څخه د هرې قوې د اغيز پر خطونو، له هغو سره مساوي قوي جلاکوو

چي عبارت له F_1 او F_2 څخه دي. د محصله قوي د پيدا کولو لپاره د متوازي الاضلاع له قاعدې څخه کار اخلو چي د F_r محصله قوه لاس ته راځي. دا محصله د PC د خط اغيز لرونکي ده او د محصلي د اغيز نقطه کولای شو، په کيفي ډول د هغي د اغيز پر خط د بيلگي په ډول د C په نقطه کي و ټاکو. لکه څنگه چي (په شکل کي F_r محصله ښيي).

له دې عمليې څخه دا پايله هم لاس ته راځي چي د محصلي قوي اندازه او لوري به همدومره ولای که چيري پر يوه جسم جزئي قوو (مرکبو) په عين نقطه کي اغيز کولای.

څنگه کولای شو چي د دو متلاقي قوو د اغيز د نقطې کچه او موقعيت په لاس راوړو؟

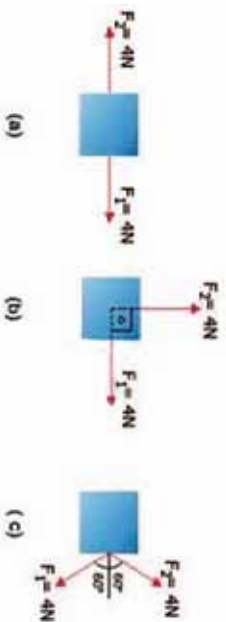
له مرستيالو قوو څخه په گټه اخيستنې د محصلي رسمول:



شکل (1-18)

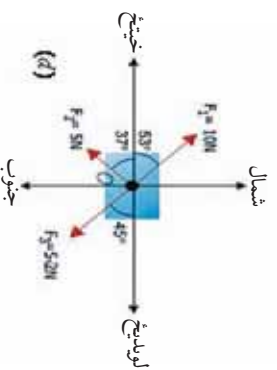
تمرینونه

1. د قوو محصله څه شی ده؟ د یوې محصلې قوې د تشکیل لپاره لږترلږه د څو قوو شتون اړین دی. د ریاضي له نظره یې محصله څنګه په نښه کړي ده؟
2. دهغه شمیر قوو لویوالی او لوری چې پر یوه جسم عمل کوي (a، b او c) په شکلونو کې ورکړل شوي دي. د هر ورکړ شوي حالت لپاره محصله قوه پیدا کړئ.



3. د (d) په د یاګرام کې درې قوې پر یوه جسم عمل کوي. محصله قوه چې پر جسم واردېږي پیدا کړئ.

$$\sin 53^\circ = \cos 37^\circ = 0.8, \sin 37^\circ = 0.6, \sin 45^\circ = \cos 45^\circ = \frac{\sqrt{2}}{2}$$



3-1: د نقطه یي کتلي تعادل

مخکې له دې چې د تعادل په باره کې و غږېږو، اړینه ده چې د نقطه یي کتلي په هکله لنډې څرګندو نې وکړو. موربه تېرو لوستونو څخه، د یو جسم کتله بیټرنو او پوهېږو چې کله د هغو موادو له اندازې څخه عبارت ده چې په جسم کې ځای شوی وي او د اندازه کولو واحد یې کیلوګرام دی، چې په عملي ډول یو کیلوګرام کتله یې د یولېتر خالصو اوبو په C 4° تودوخه کې قبوله کړي ده. یوه بله اصطلاح چې د فزیک د علم په ټاکلو برخو کې پکارېږي، له نقطوي کتلي څخه عبارت ده، چې د اُسانتیا راوستلو لپاره، د فزیک د علم د برا بلمونو او مسایلو په حل کې ورڅخه ګټه اخیستل کېږي.

نقطوي کتله د يو ايډيال جسم له هغې کتلې څخه عبارت دی چې د نوموړي جسم د جوړښت لپاره ټول کاريدلي مواد، په يوه نقطه کې متمرکز يا را ټول شوي وي. له دې تعريف څخه معلومېږي چې نقطوي کتله واقعي شتون نه لري او يوازې د محاسبو د ترسره کولو او مسايلو د حل لپاره په فرضي توگه منل شوي ده، اوس نو دا پوښتنه را پيدا کېږي چې عملاً څنگه کولای شو، يوه نقطوي کتله مجسمه کړو او د نقطوي کتلې رول د فزيکي مسايلو (برابلم) په حل کې څه دی ؟ هر حقيقي جسم چې جسامت (لویوالی) او شکل ېې، د يوې ميخانيکي مسئلې د مطالعې پر مهال رول و نه لري او له نظره د غور ځينو وړوي، کېدای شي د يو جسم يا نقطوي کتلې په توگه ومنل شي.

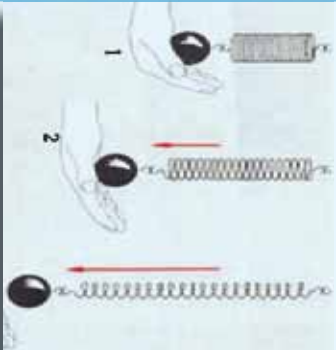
لاندې بېلگې موضوع ته لاروښانېا بخښي:

1. دلهر پر شاو خوا د سيارو د حرکت د محاسبه کولو پر مهال، کولای شو سيارې، نقطوي کتله ومنو.
2. د تينس د يو توپ دالوتلو دمدار د محاسبې لپاره ، کولای شو توپ د يوې نقطوي کتلې په توگه وننو.

3. د هايډروجن د اټوم د ساده مودل، الکترون او پروتون کولای شو د نقطوي کتلو په توگه ومنو. بايد ووايو چې موز په عملي ډول د نقطوي کتلو په سيسټمونو سره سرواکارلرو، چې هر سيسټم د گڼ شمير نقطوي کتلو لرونکي دي. د بېلگې په ډول غازونه، مايعات، ارجاعي (الاستيکي) اجسام ، جامد اجسام، اټومونه، ماليکولونه، د سيارانو سيسټم، دا ټول په ځانگړو او ټاکلو برخو کې د نقطوي کتلې په توگه منل کېدای شي.

تبادل (انډول)

ديوي قوي داغيز په وړاندې د يو جسم عکس العمل: موز وړاندې له قوې او د هغې له اغيز و او ډولونو څخه وغزېږدو او وموويل چې قوه هغه عامل دی چې کله پر يوه جسم اغيز وکړي، کولای شي، د يو جسم د حرکت په حالت کې بدلون راولي او يا د جسم د شکل د تغيير لامل شي. موز پر يوه جسم د قوې له اغيز و څخه خبرې وکړي، خو د قوې د اغيز په وړاندې مود جسم د عکس العمل په هکله تر اوسه څه نه دي ويلي. موز تر دې مهال په دی اړه څه نه دي ويلي چې که چيرې يوه قوه پر يو جسم عمل وکړي، ايا جسم د نوموړي قوې د اغيز په وړاندې څه ډول غبرگون ښيي ؟ او يا کله چې يو جسم د سکون په حالت کې وي، د امعنا لري چې هيڅ قوې پرې اغيز نه دی کړی ؟ تاسې پوهېږئ چې هر جسم وزن لري چې هغه ېې د ثقل د قوې په نامه نومولی، بله پوښتنه داده چې ايا کولای شو د يوه جسم د وزن د قوې اغيز پر نوموړي جسم له منځه يو سو ؟ د دې پوښتنې د ځوابولو لپاره لاندې فعاليتونه ترسره کوو:



شکل (1-19)

فعالیت:

1. یو جسم له یوه فنر څخه خړوو، داسې چې لاندې تړي خپل لاس ونیسو، د جسم د وزن قوه حس کرو (1 حالت)
 2. ډیر ورو ورو خپل لاس مخ په کښته تیتوو، د سپکوالی یوڅه احساس کوو او ورسره سم فنر د جسم د وزن د قوې له امله اوږدېږي (2 حالت).
 3. فنر یو ټاکلې موقعیت ته په رسېدو، نور نه اوږدېږي او جسم په آزاد حالت په فترکې خورنډ پاته کېږي (3 حالت).
- خو جسم، نور نشي کولای فنر مخ کښته راکاږي؟
د دې پوښتنې د ځواب لولپاره په لاندې توگه دویم فعالیت ترسره کوو.

فعالیت:

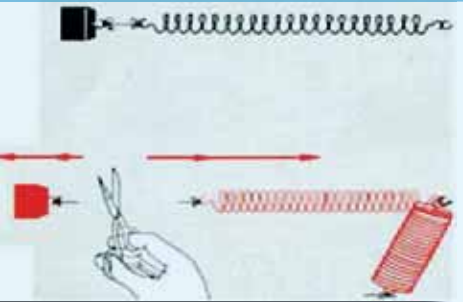
یو جسم (کم وزن) د تار په مرسته له یوه فنر سره خړوو، لیدل کېږي چې د جسم دوزن له کبله کښ او، اوږدېږي او بیا په یوه ټاکلې موقعیت کې د آرامتیا او سکون حالت ته رسېږي.

کله چې جسم د سکون حالت ته راشي، سمه سټی تار د قېچې په مرسته لکه د شکل په څیر قطع کوو. څه پېښېږي؟ د قوې دوې اغېزې لیدل کېږي.

1. کوچنی وزن پر مخکې لویږي
2. فنر په چټکۍ سره پورته ځوانه راټولېږي او لومړنی حالت ته ورگرځي له دې وضعیت څخه کولای شو، پایله تر لاسه وکړو چې د دوي قوې باید په کار کې ورگډې وي.

a- د وزن قوه، کوچنۍ وزنه چې په فنر پورې څړېدلې ده.

b- هغه قوه چې ونې کولای شو له فنر تیرته خپل لومړنی حالت ته راوگرځوي چې دې قوې ته د بېرته گرځونکې قوې نوم ورکوو.



شکل (1-20)

اوس پورتنۍ پوښتنې ته چې ولې فنر د مخکښې فعالیت په آخره مرحله کې د وزن د اغېز له امله، نور اوږد نه شو، ځواب ورکولې شو او دې پایلې ته رسېږو چې څو مره چې د جسم د وزن له امله د فنر اوږدوالی زیاتېږي، هومره، فنر د بېرته گرځېدو زمانه قوه ښيي، چې دا بېرته گرځونکې قوه د کوچنۍ وزنې له وزن سره په مخالف لوري کې لري، که چېرې دواړه قوې یعنې د وزنې وزن او د فنر بېرته گرځېدو قوه سره مساوي شي. په دې حالت کې فنر نور نه اوږدېږي او د سکون حالت خوره کوي، په دې وخت کې ولې شو چې: د جسم د وزن قوه د فنر له بېرته گرځونکې قوې سره برابره ده او څرنگه چې د فنر د بېرته گرځونکې قوه د کوچنۍ وزنې وزن په مقابل لوري کې د متقابلې قوې په توگه عمل کوي، نو ولې شو چې:

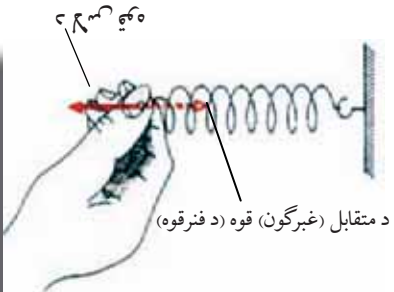
د وزن قوه = متقابل قوه

مقابله قوه

تاسو د پورټينو تجربوله مخي د مقابل (عكس العمل) دقوي له مفهوم سره بللشورئ او اوس پوهيرئ چې دا قوه د تعادل د حالت په رامنځ ته كولو كې اغيز مننه ده.

كه چيري يو جسم د هغې قوي د اغيز په لور حركت ونه كړي چې په دې يې عمل كړئ، په دې حالت كې قوه يوازې په جسم كې د شكل د بدلون سبب گرځي. وروسته له دې چې په جسم كې د شكل بدلون رامنځ ته شو، جسم د بيا لپاره كه څه هم دقوي اغيز دوام ولري، لومړني يعني د ارامتيا حالت ته راگرځي او هغه قوي چې له بهر نه يې پر جسم عمل كړئ، نشي كولاى پر جسم د نوي اغيز لامل شي، ځكه چې بله قوه چې د مقابل جسم داتصال له ځايه، لكه د يوال، ميز او نور پر جسم عمل كوي، د بهرنۍ قوي اغيز خنثي كوي، يعني هغه په تعادل كې راوړي.

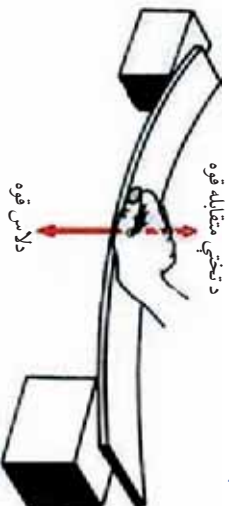
هغه قوه چې پر جسم د اغيز كولو كې قوي اغيز خنثي او په جسم كې د تعادل يا توازن سبب گرځي، د مقابلې قوي په نامه يادېږي. په شكل كې ليدل كېږي هغه عامه قوه چې لاس ته راغلي د فنر له مقابلې قوي سره خنثي كېږي او فنر د تعادل حالت ته راوړي. په دې نمایش او په راتلونكې تجربې كې كولاى شو مقابل قوه په خپل لاس حس كړو. عامه قوه او مقابلې قوه پخپلو كې سره مساوي دي، خو جهتونه يې مخالف دي. عامه قوه يا هغه قوه چې له بهر پر جسم وارده شوې، نور نشي كولاى د اغيز لامل وگرځي. ځكه چې اغيزې د مقابلې قوي چې د كلك او غښتلي جسم لخوا عمل كوي، خنثي او د هغې د تعادل سبب گرځي.



شكل (1-21)

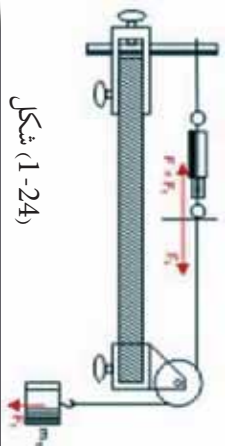
بحث وگړئ

يوه د لرگي تخته چې له شكل سره سم يې دواړه سروونه پر يوه جسم تكه شوي دي او د لاس پرست يې پر منځني برخه قوه وارده شوي ده. ليدل كېږي چې تخته له كوروالی سره چې د لاس دقوي له امله يې ترلاسه كړئ، مقابلې كوي. ترڅو بيرته خپل لومړني حالت ته را وگرځي. ولې داسې پېښېږي؟ په دې برخه كې د خپل گروپ له غړو سره خبرې وكړئ او د خپلو بحثونو پايلې د ټولگي مخي ته وړاندې كړئ




شكل (1-22)

متقابله قوه يا د مخالف عكس العمل قوه (Reaction force) تل د عمل له قوي (Action force) سره مساوي ده، خو په مخالف لوري. بايد وويل شي كه چيري يو جسم په يوي كلكي نقطې پوري وتړو، د عكس العمل قوه د اتصال په نقطه كې ، پخپله رامنځ ته كيږي . په دې معنا چې د يوي قوي اغيز ، د عكس العمل دقوي له پيدايدو پرته ناشوني ده. د دې موضوع لاروښانننجا دلاندې تجربو په لومړيو او دوهمو حالتونو كې په ښه توگه ليد لاي شي.



شکل (1-24)



شکل (1-23)

دوهم حالت

پرتاز د را ښكلكو قوه د يو خړيدلي وزن پر مټ

لومړي حالت

پرتاز د را ښكلكو قوه د دخړيدلو وزنو پر مټ

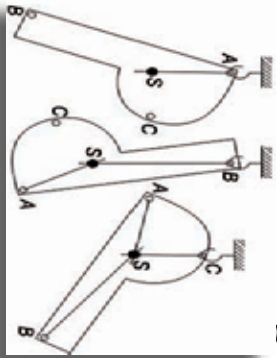
په لومړني حالت كې هم د عمل قوه او هم د عكس العمل قوه F_1 او F_2 دواړه د دوو خړيدلو وزنونو په مرسته، منځ ته راځي. په دويم حالت كې، هغه قوه چې له ميلې سره د اتصال له امله منځ ته راځي، د عكس العمل د هغې قوي له امله چې د (F_2) خړيدلي وزن پر مټ رامنځ ته راغلي ده، وزن يې په تعادل كې راوستي دي. د پورتنيو خړگندونو په پايله كې د تعادل د مفهوم لنډيز دا رنگه وړاندې كولي شو:

كله چې يوه قوه پر يوه جسم چې په يوه نقطه كې كلك تړل شوی وي، اغيزو كړي، دا جسم يوازې د همدې قوي تر اغيز لاندې نه وي، بلكې يوه بله قوه هم پرې اغيزه لري، چې هغه عبارت د عكس العمل له قوي څخه ده، څرنگه چې دا دواړه قوي يو د بل اغيزې په متقابله توگه له منځه وړي، نو له دې كبله هيڅ ډول حرکت منځ ته نه راځي او يوازې د متقابل عكس العمل قوي په منځ ته را تللو سره په جسم كې بدلون منځته راځي. كه چيري عامه او متقابله قوه چې هغوی ته د عمل او عكس العمل قوه هم وايي، چې د مساوي كچې لرونكې او لوري يې مخالف وي، دو اړه قوي كولاى شي د جسم د شكل د بدلون په حالت كې پاتې شي، په بل عبارت سره داسې وايي: قوي په تعادل كې دي. همدا ډول قانونندي د دوو ياله دوو څخه د زياتو قوو د عمل كولو پر مهال هم صدق كوي. په دې معنا، كله چې دوه يا له دوو څخه زياتې قوي پر يوه جسم اغيز وكړي او د جسم د حرکت په حالت كې بدلون لامل نشي، يا دا چې پر جسم عامې قوي، يو دبل اغيزې تختې كړي، په دې صورت كې ويلى شو چې جسم يا قوي د تعادل په حالت كې دي.

بيلد پام وگړو، هغه ټول شيان او اجسام چې زمور په محيط او چاپير يال كې دي، تقريباً ټول د سكون په حالت كې دي. دسكون په حالت كې د هغو شتون، له دې كبله ندى چې گواكي هيڅ ډول قوه پرې اغيز نه كوي، بلكې د سكون دليل يې دادې، چې ټولې قوي يو دبل اغيز له منځه وړي او اجسام يې د تعادل په حالت كې راوستي دي.

په جسمونو کې د تعادل حالتونه او پابندیت (ثبات)

مخکې له دې چې، د تعادل او پابندیت د حالاتونو د چلولونو په هکله بیرخه و وایو، اړینه ده چې دا په یاد راوړو چې په پخوانیو درسونو کې موږه اجسامو کې د ثقل د مرکز په هکله یو شمیر مطالب زده کړي وو. اوس د تعادل او دهغې د چلولونو د مفهوم د ښه درک او همدا رنگه د اجسامو د پابندیت د حالاتو د پېژندنې لپاره، اړینه ده چې په لنډه توګه د ثقل مرکز په هکله دویم ځلې یادونه وکړو. که چېرې د (1-25) شکل په څېر یو جسم له مختلفو نقطو (A، B، C) څخه و څړوو، و به گوری چې جسم له یو نوساني لنډ حرکت څخه وروسته یو ټاکلي حالت غوره کړي. پام وکړئ چې د جسم پر مخ یوه ثابت (د S نقطه) شتون لري چې خپل موقعیت ته په هر حالت کې بدلون نه ورکوي. دا ثابت نقطه د جسم د ټولولو ذرو د ثقل د قوو دمحصلي د اغیز نقطه ده، ځکه چې په جسم کې یوازې یوه نقطه په دې خاصیت شتون لري چې که جسم په هر موقعیت کې د ثقل د قوې د دوران مومنت، په یو عمودي موقعیت کې د هغې قوې د اغیز تر نقطې لاندې قرار نیسي چې ترې څړېدلې دی.

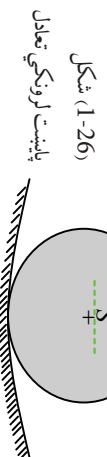


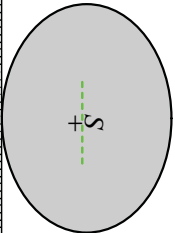
د (1-25) شکل
د یو جسم د ثقل د مرکز ټاکل

د تعادل حالتونه:

د ثقل د مرکز پېژندنل له موز سره مرسته کوي چې د تعادل حالتونه په اسانه توګه تر مطالعې لاندې ونیسو. یو جسم هغه مهال د تعادل په حالت کې دی چې پرې د قوو د اغیزو له شتون سره سره بیا هم د سکون په حالت کې واقع وي. څرنگه چې په هر جسم کې د ثقل قوه یاد ځمکې د جاذبې قوه د هغې د ثقل په مرکز عمل کوي او جسم ښکته خواته راګرځي، نو له دې امله د تعادل حالت هغه وخت رامنځ ته کېدای شي چې د ثقل مرکز ونشي کولای مخ په ښکته حرکت وکړي. که چېرې یو جسم په یوې نقطې پورې نه وي تړل شوی، بلکې پخپله ښکتنی سطحه کې وي، د دې جسم د ممکنه حرکتونو لپاره، لاندې درې حالتونه مطالعه او یوله بله یې توییر کولای شو.

لومړی حالت: کله چې یو جسم د یوې قوې له امله د تعادل له حالت څخه خارج کړای شي او وروسته له دې چې د قوې د اغیز له قید څخه ازاد کړل شي، وکولای شي بیرته خپل لومړني حالت ته وګرځي. یو مخروط چې پر خپلې قاعدې د ځمکې او یا د میز پر مخ ایښودل شوی دی، یا یو کروړ جسم چې د یو مقعر لورښي په منځ کې ایښودل شوی وي، د دې حالت بیلګې رانښيي، دې ډول تعادل ته پایدار بابتانه (stable) تعادل وایي. دغه ډول تعادل په ټولو حالتونو کې کار پورې اړینه ده، چې شیان د سکون په ډاډمن حالت کې کینودل شي.

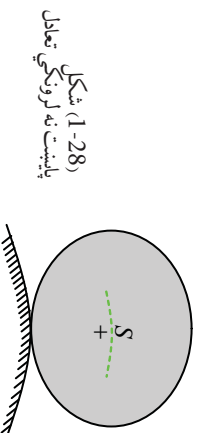




شکل (1-27)
بی توپیره تعادل

دویم حالت: په ټولو هغو حرکتونو کې چې د ثقل د مرکز، لوړوالی د قاعدې له سطحې څخه تغیر ونکړي او جسم پخپل نوي موقعیت کې بیا هم د تعادل په حالت کې راشي یعنی خپل د تعادل حالت وساتي (لکه یو پناهوسکی او یا مخروط چې پخپله اړخ پر میز کېښودل شي)، دغه ډول تعادل ته بی توپیر یا (indifferent) تعادل وایي. د تعادل له دې ډول حالت څخه هغه مهال گټه اخیستل کېږي چې د دې اړتیاوي چې شیان متحرکه وي. لکه په ترانسپورټي وسایطو او یا په دوراني محورونو کې:

دویم حالت: که چېرې جسم په ډېر کم حرکت، د تعادل له حالته بې ځایه شي او ونشي کولای چې بیرته خپل لومړني حالت ته راوگرځي، دې تعادل ته بی ثباته تعادل وایي. د بیلگې په ډول که چېرې یوه کوچنی، کره د یو جسم په ډېره لوړه نقطه او یا د محاسبې سطحې په پورتنۍ برخه کې کېښودل شي او یا یو مخروط چې د راس لخوا پر ځمکه تکیه شوی وي، دغه جسمونه د (1-28) شکل په څیر له اړخه ټکان یا لړزي سره د تعادل له حالت څخه وځي، له همدې امله د تعادل ناپایداره حالت له تخنیکي اړخه د استعمال ځای نلري.

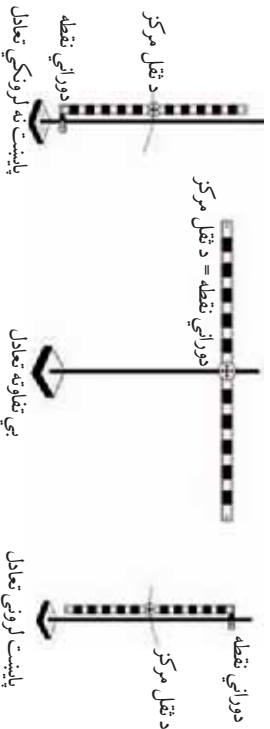


شکل (1-28)
پایښت نه لرونکي تعادل

پوښتنه:

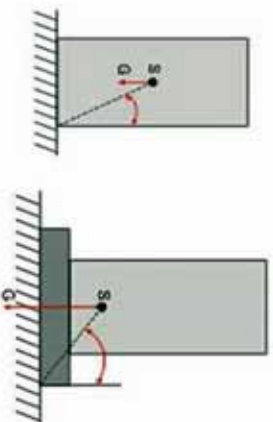


یو خطکش د a ، b او c په درو حالتونو کې، د شکل په څیر له مختلفو نقطو څخه پر یوې پایې ځړول شوی دی، خطکش په پورتنیو وضعیتونو کې په پایدار، بی توپیره او ناپایداره حالتونو کې لیدل کېږي. د هر یوه حالت ځانگړنې بیان کړئ.



ثابتوالي (پاښت)

هغه جسمونه چې د ثقل مرکزي د هغو د اټکاله لاندیني، سطحی، څخه پورته واقع وي، د تعادل په ثبات او داومن حالت کې دي، ځکه چې د چپه کېدو پر مهال یې د ثقل د مرکز موقعیت بدلون مومي او پورته ځي. په یوه جسم کې ثبات تل عین قیمت نلري، یو جسم یو مکعب مستطیل) که پخپله لویه جانيې سطحه اټکا ولري، د یو پایدار قیمت لرونکی دی، په داسې حال کې که پخپلی وړي جانيې سطحې اټکاولري، ثبات یې بل قیمت اخیستلای شي.



شکل (1-29)

څومره چې د یو جسم د ثقل مرکز ښکته، د جسم وزن زیات او د اټکا سطحه یې لویه وي، پیلداري یې زیاته وي. له وبل شوو درو شرطونو څخه ډېر ځله د جسم د ثبات د ډېرولو لپاره گټه اخلي. که چیرې، لکه په شکل کې چې لیدل کېږي، د یو جسم په کښتۍ برخه کې یوه درنه او پلنه پایه ور زیاته کړو، د جسم د ثقل مرکز موقعیت لاندې لوړېږي، د جسم وزن زیاتېږي او په پایله کې د جسم ثبات زیاتېږي.

1-4: د قوی مومنت (ټورک)

موز پر هیرو چې قوی، په مختلفو ښو کولای شي، پر جسمونو اغیزه وکړي، د بیلگې په ډول متلاقي قوی چې مخکې مو د هغې محصله هم په هندسي ډول او هم په محاسبوي توگه پیدا کړه او پوره شوو د دوواو یا له دوو څخه د زیاتو متلاقي قوو د محصلې کچه د هغې زاويې پر اندازې پورې اړه لري، چې د دې قوو د اغیز د خطونو تر منځ جوړېږي. موز ولیدل چې که چیرې یوه قوه پر جسم اغیز وکړي، جسم د هغې په وړاندې عکس العمل ښيي، له همدې ځایه د متقابلې قوې په شتون وپوهیدو. د تعادل حالت په پیدا کېدو کې د متقابلې قوې په نقش هم پوه شو. له وبل شوو مطالبو څخه څرگندېږي چې قوه په پورتنیو بیلو حالتونو کې، پر جسم ټاکي اغیزې واردوي. په اکثره حالتونو کې چې قوه پر جسم اغیز کوي، کولای شي د یو اوږدوالي په امتداد کې د جسم د حرکت سبب شي. خو د قوې اغیزې کولای شي، پر جسم یول ډول حرکت هم ورزیات کړي. د بیلگې په توگه یو جسم په نظر کې ونیسئ چې پر یوه محور تگه ولري، کله چې قوه پرې اغیز کوي، په دې حالت کې، قوه جسم د یو محور پر شاوخوا په دورانی حرکت څرخوي. هغه اغیز چې د قوې په واسطه په دورانی حرکت کې څرگندېږي، د قوې د مومنت په نامه یادېږي. د دوران مومنت د ټورک په نامه هم یادېږي. د قوې مومنت په M او ټورک د (T) په یوناني توري ښيي.

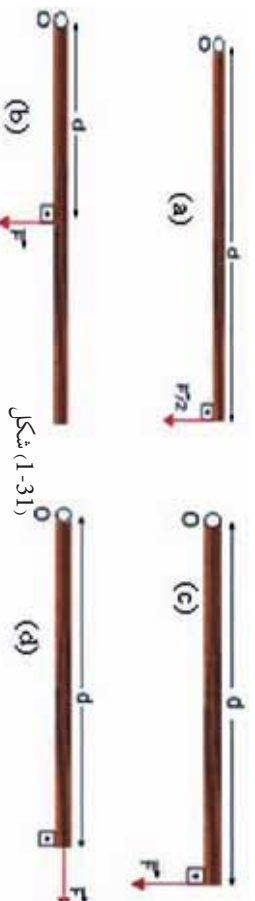
د لاندې بیلگې په وړاندې کولو سره د قوې د مومنت په هکله نوره رڼا اچوو:



شکل 1-30: بیچ تیځکول د رنج په وسیله

گرانه ده چې یو بیچ د لاس په مرسته بڼه کلاک کړو. په داسې حال کې چې کولای شو هغه د یو رنج په مرسته په اسانۍ سره کلاک کړو. ددې لامل دادی چې رنج یو لویه دوراني اغیزه جوړوی.

هغه قوه چې یو جسم د یوې نقطې پر شاوخوا په څرخیدو راولي، دغه نقطه د دوران د نقطې په نامه یادېږي. په شکل کې رنج، بیچ په دوران راولي. یوه قوه کولای شي مختلف مورمټونه چې د قوې د اغیزې نقطې په موقعیت اولوري پورې اړه لري، پر یوه جسم وارده کړي. مور په لاندې شکل کې څلور حالتونه لیدلای شو. د دې څلورگونو حالتونو په هر یوه حالت کې میله په ازاده توګه د (O) د نقطې پر شاوخوا دوران کولای شي. هغه مورمټ چې د a په حالت عمل کوي، لوی دی له هغه مورمټ څخه چې پر میلی د B په حالت عمل کوي، په داسې حال کې چې په دواړو حالتونو کې د قوو کچه مساوي ده.



شکل 1-31

د a او c په شکلونو کې چې قوې په هماغه یوه نقطه کې عمل کوي، څرنگه چې د قوو کچه یوله بلې سره توپیر لري، د دوران پېښه هم یوه له بلې سره توپیر لري. هغه مورمټ چې پر جسم د d په حالت کې عمل کوي، مساوي له (O) سره دی ځکه چې په دې حالت کې قوه د صفر په کچه پر جسم عمل کوي او دپایلې په توګه ویلې شو چې هغه اغیز یا مورمټ چې قوه یې د دوران په پېښه کې تولیدوي، په درو پارامترونو پورې اړه لري:

1. د قوې کچه
2. دقوې د اغیزې نقطې او دوران د محور ترمنځ واټن او یا هغه فاصله چې جسم یې پر شاوخوا څرخي او د d په توريې ښودل شوي دي.
3. هغه زاویه چې د قوې د وکتور او هغه ترمنځ چې محور د قوې د اغیزې له نقطې سره نښلوي، شتون لري (θ).



شکل 1-32: مورمټ صفر دی، ځکه چې د قوې د اغیزې کرښه د دوران له ټکي څخه تیرېږي.

مومنٽ صفري، θ ڇڪه ڇي، د قوي د اغيز خط د دوران له نقطي، ڇڪه ٿيريري. ڪه چيري يوه قوه پورٽي د (1-32) شڪل په څير په عمودي ڊول د دوران د نقطي پر ارتباطي خط او د اغيز پر نقطي پر يوه جسم عمل وکري، يعني $F \perp d$ وي، په دي حالت کي هغه مومنٽ ڇي دا قوه بي توليدوي، اعظمي قيمت لرونکي وي ڇي دا مومنٽ په رياضي کي داسي افاده کوي:

$$M = F \cdot d \dots\dots\dots (F \perp d)$$


شڪل (1-33)

ڪه چيري قوه پر جسم له هغه خط سره ڇي د قوي د اغيز نقطه د دوران له نقطي سره وصلوي موازي عمل وکري، يعني $(F \parallel d)$ وي، په دي صورت کي هغه مومنٽ ڇي دا قوه بي توليدوي، مساوي له صفر سره ده، يعني: $M = 0$

په عمومي توگه يوه قوه تل پخيلو دوو مرکب تجزيه کيداى شي ڇي بيوي موازي او بل بي پر هغه خط عمود دي ڇي د دوران نقطه دقوي د اغيز له نقطي سره وصلوي. قوه د دوران پر محور عمود وي. ڪله ڇي قوه پر جسم عمل وکري او دهغه مومنٽ د اغيز خط ڇي قوه بي واروي، اعظمي وي.

شڪل (1-34)

ڪله ڇي قوه پر جسم بلدي عمل کوي او د قوه د تاثير خط د دوران پر محور عمود وي، نو هغه مومنٽ ڇي قوه توليد وي، اعظمي دي.



لکه خرنگه ڇي په (1-34) شڪل ليبل کيري، هغه مومنٽ ڇي د \vec{F} دقوي پرمٽ توليديري، له هغه مومنٽ سره مساوي دي ڇي د همدې (F_{\perp}) قوي عمودي مرکبي د اغيز د نقطي پر واټن د دوران تر محور پورې عمود دي، را منځ ته کړي ده. ځکه ڇي دويمه مرکبه (F_{\parallel}) ڇي د اتصال له خط سره موازي وي، صفري يعني:

$$M = F_{\perp} \cdot d \qquad M = \vec{F} \cdot d \sin \theta$$

په پورٽي رابطه کي، θ د قوي اوهغه خط تر منځ زاويه ده، ڇي د دوران نقطه د قوي د اغيز له نقطي سره وصلوي.

مثال:

قوه پر يوي ميلې ڇي 0.2 متره اوږدوالی لري، د شڪل په څير عمل کوي، هغه مومنٽ ڇي نوموړي قوه بي توليدوي، پيدا کړي. $\sin 37^{\circ} = 0.6$ $\cos 37^{\circ} = 0.8$ دي.

حل:
 F_x مرکبه قوه د مومنت د تولید سبب نشي کېدای، هغه مرکبه قوه چې د (F_y) د محور په اوږدو چې په رنج عموده او د ساعت د عقربې په لور دوراني حرکت منځ ته راوړي، دا رنگه په لاس راوړو:

$$F_y = F \cdot \sin \alpha \rightarrow F_y = (15 N) \times 0.6 = 9 N$$

$$M = F_y \cdot d$$

$$M = F \cdot d \sin 37^\circ = (9 N)(0.2 m) = 1.8 Nm$$

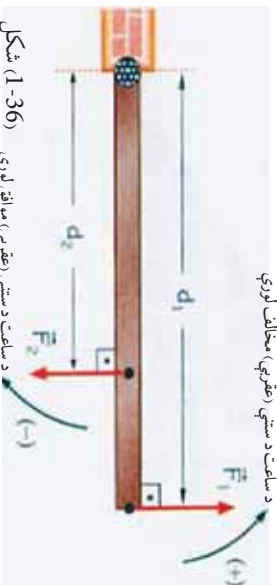


د (1-35) شکل



د محصلي تورك (مومنت) او د دوران لوري

که چیرې یو ششمیر قوي پر یوه جسم عمل وکړي، د هغو مومنتونو د جمعې حاصل چې د دوی د هرې یوې قوي تر اغیز نظر د دوران همېلې یوې نقطې ته منځ ته راځي، د ټول مومنتونو مجموعه یا د جمعې حاصل وي.



شکل (1-36)

په (1-36) شکل کې د F_1 او F_2 دوي قوي وینو چې پر یوې دروازي بڼې عمل کړي او په مخالف لوري بڼې د دوران سبب کېږي. که چیرې د ساعت د سستي د حرکت مخالف لوری مثبت او د ساعت د سستي د حرکت لوری منفي و منو، هغه مومنت چې دوه ډوله قوي منځته راوړي. پر دروازي له محصله مومنت څخه عبارت دی چې داسې حسابېږي.

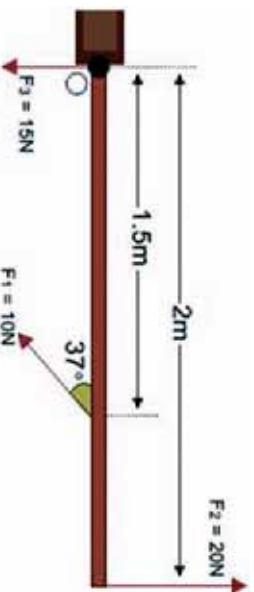
$$M_1 = F_1 d_1 \quad \text{او} \quad M_2 = F_2 d_2$$

$$M = M_1 + M_2 = F_1 d_1 + (-F_2 d_2)$$

اوس يو ساکن جسم په نظر کې نيسو:
 که چيرې د محصلي مومنت پر جسم مثبت وي، نو جسم د مثبت په لور په دوران پيل کوي، اوکه چيرې پر جسم د محصلي مومنت منفي وي، جسم د منفي په لور په دوران پيل کوي، په ځانگړي حالت کې که چيرې مومنت د قوو د عمل لامل صفر وي، يعنې د محصلي مومنت د ساعت دستي د گرځيدو په لور کې مساوي دساعت د سستي له مخالف مومنت سره (مقدار له نظره) وي، په هغه حالت کې جسم په دوران پيل نه کوي.

مثال:

مقابل (1-37) شکل سره سم درې قوې پريوې دروازې عمل کوي:



شکل (1-37)

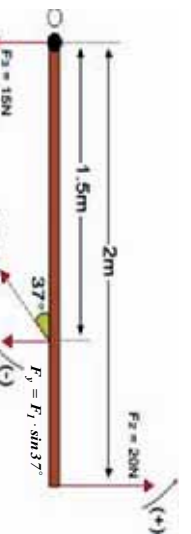
الف: د محصلي مومنت چې پر دروازې عمل کوي، پيدا کړئ.

ب: د څلورمې قوې اصغري قيمت محاسبه کړئ چې وکولای شي، د دروازې له دوران څخه مخنيوی وکړي، لورې او د اغيز نقطه يې مشخصه کړئ.

$$\cos 37^\circ = 0,8 \quad \sin 37^\circ = 0,6$$

حل:

الف: د F_1 قوې عمودي مرکبه د ساعت د سستي يو موافق دوران (-) او د F_2 قوه د ساعت د سستي يو مخالف دوران (+) منځ ته راوړي. د F_3 قوه هيڅ دوران منځ ته نه راوړي. ځکه چې قوه د دوران په نقطه کې عمل کوي، نو له دې سره سم ليکلای شو:



د (1-38) شکل

$$M_1 = -F_{1y} d_1 = -F_1 d_1 \cdot \sin \theta$$

$$M_1 = -(10N)(1.5m)0.6$$

$$M_1 = -9Nm$$

$$M_2 = F_2 \cdot d_2 = (20N)(2m) = 40Nm$$

نود محصلي مومنت د O نقطي پر شاوخوا عبارت دی له:

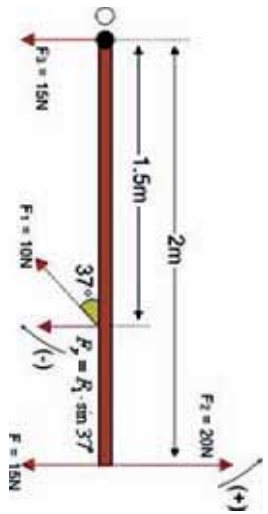
$$\sum M = -M_1 + M_2 = -9Nm + 40Nm = 31Nm$$

خرنگه چې په دې ځای کې ، د محصلي مومنت ، مثبت په لاس راغلی ، نو له دې کبله دروازه د ساعت دستتي مخالف لوري ته څرخي چې قیمت یې 31Nm دی.
ب: څرخنگه چې د محصلي مومنت د ساعت د ستنې مخالف دی او کچه یې 31Nm ده، دا وینا داسې معنا ورکوي. ددې لپاره چې دروازه دوران ونه کړای شي ، باید د ساعت د ستنې له لوري سره موافق یو مومنت د 31Nm په کمیت پر هغې اغیز وکړي. هغه اصغري قوه چې دا مومنت تولید ولی شي ، د دوران له محور څخه په لرې نقطه یعنی د دوو مترو په واټن د اغیز له نقطې څخه لرې په عمودي توګه عمل وکړي، نو لرو چې:

$$M_2 = F \cdot d$$

$$31Nm = F (2m)$$

$$F_{\min} = 15.5N = \text{څلورمې قوې اصغري قیمت}$$



دا قوه باید د F_2 قوې په مخالف لوري اغیز وکړي (1-39) شکل

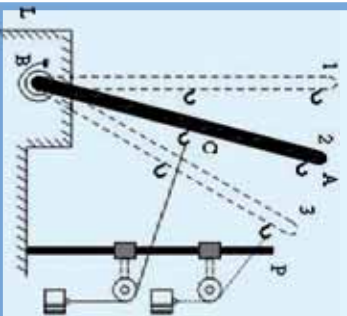
تجربه:

د AB یوه فلزي میله داسې په نظر کې نیسو چې یو لوری یې د L د محور د B په نقطه کې د یو مارپیچ فتر په مرسته تړل شوی دی. په دې میله کې د تار په مرسته وصل شوي چنگکونه چمتو شوي دی او د اتار د یو ثابت څرخ له مخې تیرېږي چې د پر پايې تړل شوی دی. د تار په بل انجام کې کولای شو، قوې (دوزونه) و څروو. په مقابل شکل کې چې میله د 1 په حالت کې ده، هېڅ پرې قوې پرې اغیز نه دی کړی او دوران هم منځ ته ندی راغلی.

په 2 حالت کې ، قوه په منځني چنگک کې پر میله اغیز کوي، په دې حالت کې میله په شکل کې یو دوران ښيي. له میلی سره قوې د اتصال نقطه (د C نقطه) او د دوران تر مرکز (د B نقطې) ترمنځ واټن ، د قوې له متب څخه عبارت دی.

په 3 حالت کې، هم قوه او هم د قوه متب زيات شوی دی، دوران هم زيات شوی دی. دا تجربه همدا راز ثابتوي چې د قوې مومنت د قوې د متب له طول او د قوې له مقدار سره مستقيماً متناسب دی. نو دقوې د مومنت لپاره لاندې تعريف وړاندې کولی شو:

که چیرې قوه پر هغه خط چې د هغې د اغیز نقطه د دوران له مرکز سره وصلوي، په عمودي ډول عمل وکړي، د قوې د ضرب حاصل له هغه واټن سره چې د قوې د اغیز د نقطې او د دوران د مرکز ترمنځ واقع ده، دقوې د مومنت په نامه یادېږي.



شکل (1-40)



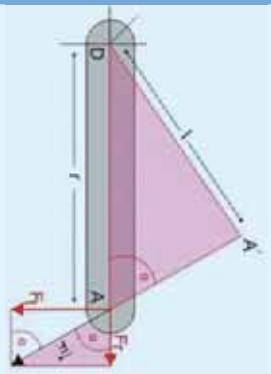
تجربه:

اوس داسې حالت په نظر کې نيسو لکله په (1-41) شکل کې چې ښودل شوی دی. په دې شکل کې وینو چې د قوه په مایله توگه پر یوه خط اغیز کوي چې هغه خط، د اغیز نقطه A د دوران له نقطې D سره وصلوي؛ په دې حالت کې قوه، نښې کولای چې خپل بشپړ اغیز څرگند کوي، ځکه چې د قوې د اغیز نقطه پر یوه د ایزوي خط د دوران د نقطې پر شاو خوا حرکت کوي، نو په دې حالت کې، یوازې د F_1 د تماس مرکز (ناجناکي) قوه، دوراني اغیز لري، او د F_2 شعاعي مرکز پر محور د رابښکل د پورې قوې اغیز لري او د قوې مومنت عبارت دی له: $M = F \cdot l$ په وروستی افاده کې (1) له هغه عمودي طول څخه عبارت دی چې د دوران له نقطې څخه د قوې د اغیز پر خط راکښل کېږي. څرنگه چې دواړه مومنتونه یوله بل سره مساوي دي او هم د دوو نښه شورو مثلثونوله ورته رالي څخه په لاس راځي چې:

$$F_1 \cdot r = F_2 \cdot l \quad \text{یا} \quad F \cdot l = F_1 \cdot r$$

که چېرې د دواړو دمټ پر ځای، دا عمود وکاروو، بیا هم هغه تعریف چې د قوې د مومنت لپاره شوی و، په دې حالت کې هم په لاس راوړو.

د قوې مټ (د دوران مټ)، عبارت د عمودي خط له هغه طول څخه دی چې د دوران له مرکز څخه د قوې د اغیز پر خط راکښل کېږي. دا تعریف په ټولو حالتونو کې صدق کوي.



شکل (1-41)

د مومنت واحد

که چېرې قوه په نیوتن (N) او ولاین په متر (m) اندازه کړو، د قوې د مومنت د اندازه کولو واحد له نیوتن متر څخه عبارت دی چې داسې ښودل کېږي:

$$[M] = F \cdot L = [N \cdot m]$$

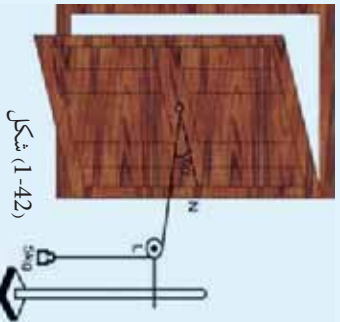
که چېرې قوه په ډاین (dyne) او ولاین په سانتي متر (cm) اندازه کړو، د قوې د مومنت د اندازه کولو واحد له $dyne \cdot cm$ څخه عبارت دی.

فنايت:



ددې لپاره چې قوي د مومنت اغيز مشاهده او هم دا ثابته کړو چې د قوي مومنت ، مساوي دي دقوي ضرب له حاصل څخه په هغه واټن کې چې د قوي د اغيز نقطه يې د دوران له مرکز څخه لري، لاندې ساده تجربه په ډولوکې عملي کړو، چې د دروازي له پوي پلې سره ترسره کيږي. د دروازي يو څه درنه پدله چې له يوه چوکاټ سره تينگه شوي ده او له چوکاټ سره په تار وصل دی، دا تار د يو ثابت څرخ پورې پرمخ تيزيږي، داسې چې د تار يو سر د تلې له پوي پلې سره اړيکه لري. د څرخ مومنت داسې ټاکو چې تار د دروازي پر پلې باندې عمود واقع شي. که چيري څرخ د L په نقطه کې وي او تار د اتصال نقطه د دروازي له منځني چوکاټ سره په O او دهغه خط د تقاطع نقطه چې د O نقطه د دروازي د جاني چوکاټ (لځک) سره وصلوي، په N ونيول شي، زاويه د $\angle ON = 90^\circ$ وي. اوس دنلې په پله کې تر هغه وخته پوري وزن زياتوو چې دروازه په حرکت پيل وکړي. کله چې دروازه په حرکت راځي، په دې معنا دی چې وزن (قوه) د يو مومنت د توليد سبب شوی دی. تر دې وروسته وزن د تلې له پلې څخه را اخلو او د وزن کچه او د ON د واټن اوږدوالی ثوبت او ليکي. په دی حال کې که چيري د F_1 قوه او د ON واټن ته $F_1 \cdot d_1$ وويو، د قوي مومنت په لاندې توگه افاده کوو:

$$M_1 = F_1 \times d_1 \dots\dots\dots 1$$



شکل (1-42)

دروازه بيره به خپل لومړني حالت ته وروړلو. دا ځلي چنگاکی له خپل لومړني ځای څخه را ورسو او د دروازی پر پوي پلې نقطې چې له چوکاټ او چيراس سره نژدې ده، نښوو. په دې حالت کې بياهم څرخ په داسې موقعيت کې ږدو چې تار پر دروازي عمود واقع شي. وروسته بيا دنلې په پله کې وزن زياتوو، تر هغه پوري چې دروازه په حرکت پيل وکړي. بيا وزن د تلې له پلې څخه را اخلو. د F_2 وزن کچه د OL له طول سره چې دا ځلي په d_2 نيول کيږي، اندازه کوو.

$$M_2 = F_2 \times d_2 \dots\dots\dots 2$$

کاربدلې دی، يعنې:

دا کار د دريم ځل لپاره په همدې شرايطو تکراروو او د O د نقطې موقعيت د دروازي له چيراس سره ډير نژدې ټاکو او تجربې ته په هغه پخړانې طريقه دوام ورکړو. بياهم د F_3 وزن (قوي) او d_3 واټن له اندازه کولو څخه پايله لاس ته را ځي چې په دريم ځل د دروازي په حرکت راوستلو کې، د دريم ځل په پر تله زياتې قوي ته اړتياوه:

$$M_3 = F_3 \times d_3 \dots\dots\dots 3$$

د وروستۍ پايلې لپاره، که چيري د قوي او واټن د ضرب حاصل چې په هر ځلي لاس ته راغلي دی، يو له بله سره پرتله کړو، ليدل کيږي چې مساوي قيمتونه لري، يعنې:

$$F_1 \times d_1 = F_2 \times d_2 = F_3 \times d_3$$

$$M_1 = M_2 = M_3$$

ښايي چې د خپل دليزکار پايلې د لا زيات بحث لپاره خپلو ټولگيو لارته وړاندې کړي.

1-5: موازي قوي

په دې لړست کې به مطالعه کړو چې دوي موازي قوي پر يوه جسم څه ډول اغيز کوي او څنگه کولاي شو چې محصله يې پيدا کړو، د دې موخې لپاره لاندې فعاليتونه تر سره کوو.

فعاليت الف:



د F_1 او F_2 دوي قوي په موازي او يوډبل خلاف لوري، د قوي سنځورنکي پر يو چنگک د (1-43) شکل په څير څر وو. د قوي سنځورنکي اوږدوالی د F_1 مجموعي قوي د اغيز لامل اوږدبوري او ښي چې:

$$F_r = F_1 \times F_2$$

فعاليت ب:

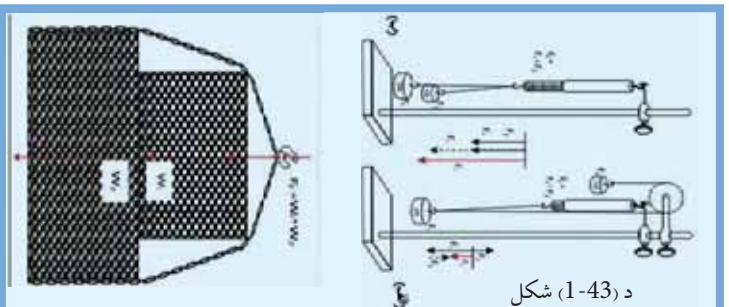
د تجربې دستگانه ته د شکل په څير (ب، 1-43) تغيير ورکړو، داسې چې د F_1 او F_2 قوي يوله بله سره په يوه لوري کې راښي (واقع شي). په دې حالت کې قوه سنځورنکي، د محصله قوه په لاندې ډول ښي:

$$F_r = F_1 - F_2$$

فعاليت ج:

دوه جسمونه چې د M_1 ، M_2 معلومو وزنونو لرونکي دي، د (1-44) شکل په څير يو د بل له پاسه ږدو او دواړه ديو چنگک په مرسته په قوه سنځورنکي لوري څرو په قوه سنځورنکي کې د وزنونو د تعادل پر مهال، ليدل کېږي چې قوه سنځورنکي د دواړو جسمونو مجموعي وزن راښيي يعنې:

شکل (1-44)



د پورتنیو تجربو مشاهداتو له کتلو سره کيدای شي، دې پایلې ته ورسېږو چې کله چې موازي قوي د يوه جسم پر يوي نقطې عمل وکړي، که چېرې دا قوي يولوري (هم جهت) وي، محصله يې د نوموړو قوو د جمعې له حاصل څخه عبارت دی. که چېرې قوي مخالف لوري ولري، محصله قوه يې د هغو د تفریق له حاصل څخه عبارت ده. له پورتنیو جملو څخه کيدای شي داسې پایله ترلاسه کړو چې دو قوي يې هغه مهال د تعادل په حالت کې را تالی شي چې محصله يې مساوي له صفر يعنې $\sum F = 0$ سره شي، دا هغه مهال شونې ده چې د دواړو قوو کچه سره مساوي وي،

نومور کولای شو دیوی قوی د اغیز نقطه په کیفی ډول د نوموړې قوی د اغیز پر خط تغیر مکان کرو او دا قاعده پر هغو ټولو موازي قوو چې په یوې نقطې یا په همدې یوه نقطه اغیز کوي، تطبیق شي، نو له همدې امله مور کولای شو، ادعا وکړو چې:

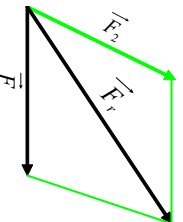
کله چې دوي قوی په همدې یوه نقطه یا په همدې یوه خط کې اغیز وکړي، هغه مهال د تعامل په حال کې را تللی شي چې کچې یې سره مساوي او لوري یې سره مخالف وي.

د یوې قوی تجزیه

لکه چې وړاندې مو ولوستل، مور له داسې حالتونه سره مخامخ کیږو چې خوقوی پر یوه جسم اغیز کوي او مور اړتیا لرو، تر څو دقو محصله یا نتیجه وپېژنو او هم د هغو د مقدار کچه پیدا کړای شو. له بل پلوه ویلی شو چې هره هغه قوه چې مور ورسره سرواکار لرو، کیدای شي پخپله یوه محصله قوه وي چې د دوو یا له هغو څخه د زیاتو قوو له ترکیب څخه لاسته راغلي وي.

په فزیکي او تخنیکي پېښو کې ډېر ځله له داسې مسائلو سره مخامخ کیږو چې اړیو، تر څو د محاسبو د تر سره کولو لپاره د یوې قوی اجزای وپېژنو. یعنې همغسې چې د قوو د محصلې د پیدا کولو موضوع یا اهمیت ده، دیوی قوی د اجزاو پیدا کول یا په بل عبارت د قوی مرکبې چې د قوی د ترکیب سبب شوي، هم په هماغه کچه ارزښت لري. په دې حالتونو کې معمولاً د جز (مرکبو) قو لوري ورکول کیږي او کچه (لویوالی) یې پیدا کیږي. په هندسي طریقه د مرکبو د پیدا کولو لپاره په دې ډول عمل کیږي:

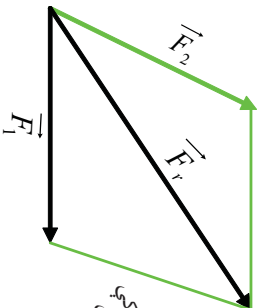
د محصله قوی له انجام څخه هغو خطونو ته موازي گانې کښل کیږي چې د مرکبه قوو لوری ښيي، په پایله کې یوه متوازي الاضلاع منځ ته راځي چې ضلعي یې مرکبې قوی را ښيي، (1-45) شکلونه.



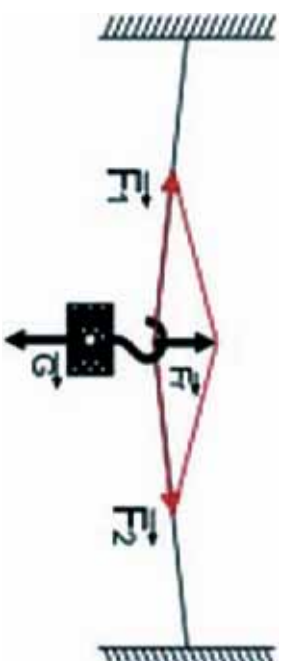
(1-45) شکل
په یوه نا معلومه مرکبه د قوی تجزیه

د (1-45) په شکل کې، په یوه ناڅرګنده مرکبه د قوې تجزیه، د (1-45) په شکل کې د قوې تجزیه په هغه صورت کې چې لوري ورکړل شوي دي، ښودل شوي.

شکل (1-46)
د قوې تجزیه، په هغه صورت کې چې لوري ورکړل شوي دي



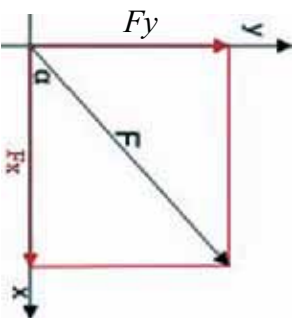
د قوې تجزیه په هغه صورت کې چې لوري ورکړل شوي دي د (1-47) شکل د قوې د تجزیې یو بل مثال په یوه پړي د یوه جسم څړپدل راښيي او په یو واټ کې د برېښنا زښتې ګروپونه کولای شي، د دې ډول یوه غوره بیلګه وي.



شکل (1-47)
د یوې قوې تجزیه د یو جسم په څړپدلي حالت کې (د واټ د برېښنا ګروپ)

د څو قوو د محصلې الجبري محاسبه

په محاسبوي طریقه د څو قوو د محصلې د لاس ته راوړلو لپاره، لومړی ټولې قوې د قائم مختصاتو په یو سیستم کې د (x, y) په مرکبو تجزیه کوو، د بیلګې په ډول د (1-48) شکل قوه را ښيي چې د $F_x = F \cos \alpha$ او $F_y = F \sin \alpha$ په مرکبو تجزیه شوي دي.



شکل (1-48)
د F د قوې تجزیه د هغې، په قائمو مرکبو

د پورتني قاعدې پر بنسټ د F_1 او F_2 قوې په نظر کې نيسو، مرکبې يې دارنگه ليکلې شو:

$$F_{1x} = F_1 \cos \alpha_1 \quad F_{1y} = F_1 \sin \alpha_1$$

$$F_{2x} = F_2 \cos \alpha_2 \quad F_{2y} = F_2 \sin \alpha_2$$

$$\frac{F_{2x}}{F_{1x}} = F_1 x + F_2 x + \dots \quad \frac{F_{2y}}{F_{1y}} = F_1 y + F_2 y + \dots$$

$$F_{rx} = \sum F_x \quad F_{ry} = \sum F_y$$

د قوو له مرکبو څخه په گټې اخستلو سره کولاي شو، محصله قوه او هغه زاويه چې د X له محور سره جوړوي، حساب کړو:

$$F_r = \sqrt{F_{rx}^2 + F_{ry}^2} \quad , \quad \tan \alpha_r = F_{ry} / F_{rx}$$

په هغه صورت کې چې تعادل برقراره وي، نو محصله بايد له صفر سره مساوي وي، دا موضوع هغه وخت شوني ده چې د محصلې قوې، هره مرگه له صفر سره مساوي شي يعنې:

$$\sum_x F_x = F_{1x} + F_{2x} + \dots = 0 \quad \sum_y F_y = F_{1y} + F_{2y} + \dots = 0$$

بايد پام وکړو چې د قوو د تجزيې اړوند د يوې مسئلې د حسابي حل لپاره، هغه لاري چې تر گټې اخيستلو لاندې نيول کېږي، د ورکړل شوو کميتونو پر بنسټ توپير لري.

ډېر ځله کولاي شو مطلوبې قوې د مثالونو له قاعدو څخه په گټې اخيستلو د قوو د مضلع له مخې حساب کړو. په نورو حالاتو کې، کولاي شو د مضلعو قوو تشابه له يو معلوم مثلث سره او يا د قايم الزاويه شکلونو پر مهال د فيثاغورث له قانون څخه گټه واخلو.

مثال:

1. د يو سرک په گولايي کې چې يو برېښنايي موټر پرې حرکت کوي، درې هوايي کپسلونه د برېښنايي گاډي د پاسني کيل سره د نښلونو لپاره د يو عمارت د A په يوه نقطه کې تړل شوي دي. د رابنځکو راکشن (د قوو کچه او لورې په شکل کې ښودل شوي دي. د مجموعي قوې لورې او کچه محاسبه کړئ.

$$F_1 = 1050 \text{ N} \quad \alpha_1 = 90^\circ$$

$$F_2 = 1500 \text{ N} \quad \alpha_2 = 40^\circ$$

$$F_3 = 1200 \text{ N} \quad \alpha_3 = -20^\circ$$

$$F_{1x} = F_1 \cdot \cos \hat{\alpha}_1 = 1050 \cdot \cos 90^\circ = 1050 \times 0 = 0 \quad F_{1y} = F_1 \sin \hat{\alpha}_1 = 1050 \cdot \sin 90^\circ = 1050$$

$$F_{2x} = 1500 \times \cos 40^\circ = 1149 \text{ N} \quad F_{2y} = 964 \text{ N} = 1050 \times 1$$

$$F_{3x} = 1200 \times \cos(-20^\circ) = 1127 \text{ N} \quad F_{3y} = -410 \text{ N} = 1050$$

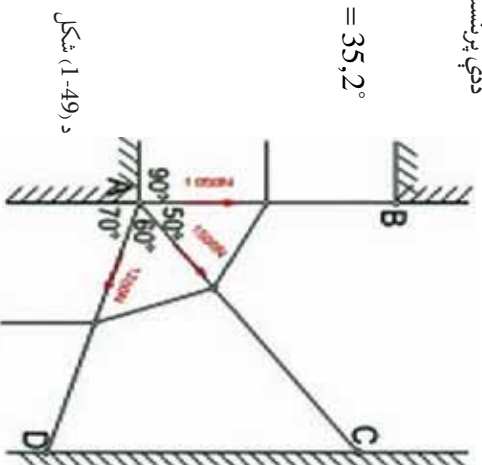
$$F_{rx} = 2276 \text{ N} \quad F_{ry} = 1604 \text{ N}$$

ددي پرنسپي:

$$Fr = \sqrt{F_{rx}^2 + F_{ry}^2} = \sqrt{2276^2 + 1604^2} \text{ N}$$

$$Fr = 2786 \text{ N} \quad \text{و:}$$

$$\tan \hat{\alpha} = 1604/2276 \Rightarrow \hat{\alpha} = 35,2^\circ$$



د (1-49) شکل

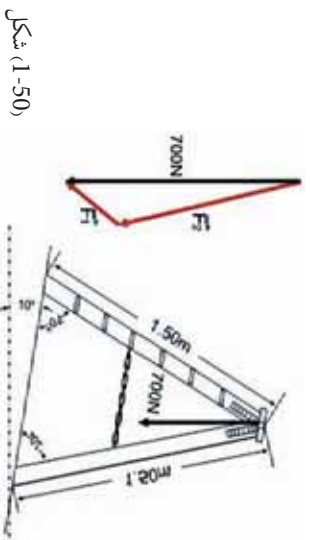
دوهم مثال:

د اوسپينو پنبو يوه زينه د يوې ميلان لرونکې سطحې پر مخ ايښي ده. ديوټن د وزن قوه $W = 700 \text{ N}$ چې د زينې پر يوې پورتنۍ نقطې ولاړ دی، په څه ډول د زينې پر دوو پنبو وېشل کېږي؟
حل:

له هغو زاويو څخه چې د تر سيمونو په پايله کې لاس ته راځي، د قوو يوه مضعل په 10° ، 30° او 140° زاويو تر لاسته کېږي. د ساين له قاعدې څخه به گټې اخستلو ليکلای شو:

$$700 \text{ N} / \sin 140^\circ = F_1 / \sin 10^\circ = F_2 / \sin 30^\circ$$

$$F_1 = 189 \text{ N} \quad F_2 = 544 \text{ N}$$

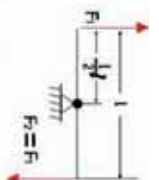


شکل (1-50)

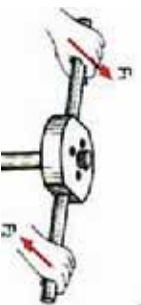
1-6: جوړه قوي (دقوي زوج)

هره قوه چې پر يوه جسم اغېز وکړي او جسم د دوران قابليت ومومي، دا قوه دراکښلو يا د يوې قوي فشار په توگه د جسم د دوران پر محور عمل کوي. له همدې امله دي، چې دا قوه په هغه نقطو کې چې د دوران محور پر هغو تکيه يا اتصال لري، عکس العمل قوه را منځ ته کوي په پايله کې دا قوه په عمومي توگه د دوران يو مومنت تو ليدوي. که چېرې د محور موقعيت ته تغير ورکړای شي، په عمومي ډول د قوي مټ او د دوران مومنت چې قوه منځ ته راوړي هم بدلېږي. برعکس کله چې دوي موازي قوي چې متقابل لوري ولري، په عمودي توگه په يوه محور او د يوه جسم پر دوو بېلا بېلو نقطو اغېزې وکړي دوي ته د قوي زوج وايي. د قوي په يوه زوج کې، دواړه قوي يو د بل اغېز پر محور له منځه وړي، د قوي د يو زوج د دوران مومنت، صرف نظر له دې څخه چې د دوران محور په کوم موقعيت کې دي، تل همدا يو قيمت لري. د قوي په يو زوج کې د دوران مومنت $F_1 = F_2 = F$ قوو لپاره د هغود اغېز د خطونو ترمنځ د (L) له متقابل واټن سره د لاندي قيمتونو لرونکي دي.

$$M = F \cdot L = F_1 S_1 + F_2 (L - S_2)$$



شکل (1-51) جوړه قوي په يوه جوړې کښې دستگه کې

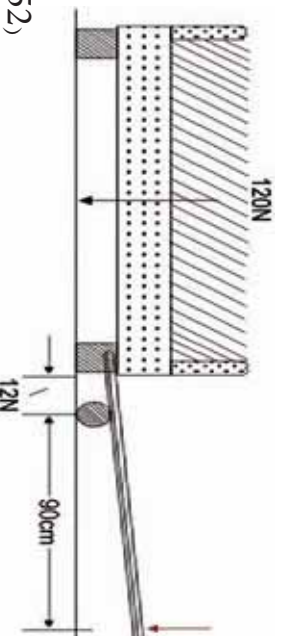


له دې ځايه په اسانۍ سره ويلي شو چې که د دوران محور د اغېز د دوو خطونو له يوه خط څخه تير شي، خو چې له هغو څخه بهر واقع وي، په هغه صورت کې د دوران مومنت په لاندي ډول وړاندي کېدای شي:

$$M = F_1 (l + S_1) - F_2 S_2 = F \cdot l$$

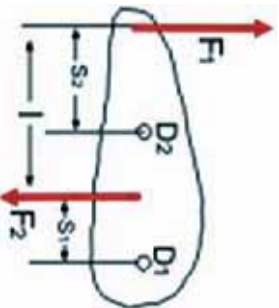
که چېرې د دوران محور د F_1 او F_2 ترمنځ لکه څنگه چې د D_2 په موقعيت کې واقع وي، مومنت داسې ليکو:

$$M = F_1 S_2 + F_2 (l - S_2) = F \cdot l$$



شکل (1-52)

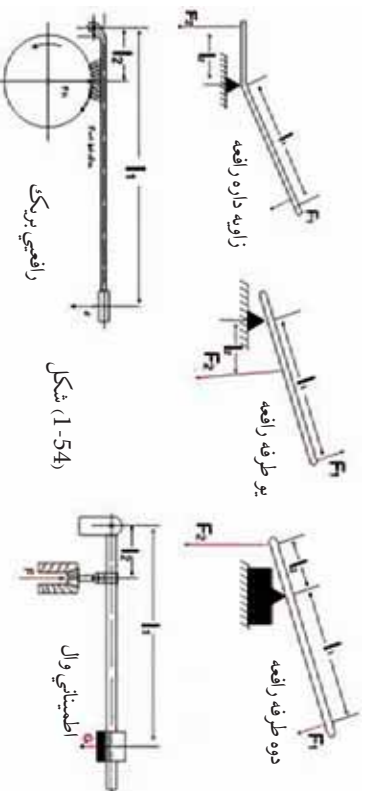
د پورټرټیو څرگندونو په مرسته، کولای شو مومنت داسې بیان کړو: د قوې یو زوج پرتله له دې چې د دوران د مرکز موقعیت (د دوران نقطه) په نظر کې ونیسو، تل د دوران همدا یومومنت لرونکی دی. (1-53) شکل



د یو قوې زوج د دوران مومنت، د مرکز دوران د موقعیت سره اړیکه نه لري

د یو زوج قوې د دوران مومنت، د دوران د مرکز له موقعیت سره اړیکه نه لري. په تخنیک کې، رافعي قوی د زوج پر بنسټ کارکوي او معمولاً یې د یوې مستقیمې میلې یا یوې زاویه لرونکې میلې په توګه جوړوي.

هغه رافعه چې د میلې په شکل ده، که چیرې د دوران مرکزي د میلې په یو سر کې واقع وي، دې میلې ته یو اړخیزه رافعه وايي. که چیرې د دوران د مرکز په انجانونو کې واقع نه وي، دا رافعه د دوه اړخیزې رافعي په نامه یادېږي او همدا رنگه هغه رافعه چې د یوې زاوېې شکل لري، هغه د زاویه لرونکې رافعي په نامه یادوي. په (1-54) شکلونو کې نا سو د رافعو مختلف ډولونه کتلې شي.



شکل 1-54

د رافعي قانون مور ته دا اسانتیا راګوري چې د رافعي په یوه اړخ یا لوري کې د لږې کچې قوې په کارولو سره چې پر یو اورد مت اغیز کوي، د رافعي په بل اړخ کې له یولاندو مت سره په لویه کچه یوه قوه لاس ته راوړو. له همدې کبله دی چې رافعي په ورځني ژوندانه او تخنیک کې د کارولو ګڼ او ډېر ځایونه لري. یعنې د رافعي په یو اړخ کې د کمې کچې قوه کاروو او په هغه بل اړخ کې د ډېرې کچې قوه لاس ته راوړو، یعنې په قوه کې ګټه کوو. په همدې ډول د رافعي په استعمال سره، کولای شو په ولاین کې هم ګټه وکړو. چې که چیرې د رافعي په یوه اړخ کې یوه قوه د لنډو مت سره عمل وکړي، د رافعي په هغه بل اړخ کې چې کومه قوه عمل کوي، د یو اورد مت لرونکې ده. د انسان لاس او د تایپ ماشین د دې بحث نور اړوند مثالونه کیدای شي.

1-7: د تعادل عمومي شرطونه

که چیرې څو قوې د یوه جسم په مختلفو نقطو عمل وکړي او جسم د تعادل په حالت کې وي، دا معنا ورکوي چې پر جسم د ټولو اعیز کوزنکو قوو محصله له صفر سره مساوي ده، برعکس که چیرې دا شرط تحقق ونه مومي، محصله قوه په جسم کې د تعجیل یا ګرندیتوب سبب ګرځي او دتعجیل، جسم په یو انتقالی حرکت راولي، هغه جسم چې د تعادل په حالت کې وي، دوران باید ونلري او د دغه مطلب د تحقق لپاره لازمه ده چې د یوې کيفي نقطې پر شاو خوا دمومنتونو مجموعه، هم له صفر سره مساوي شي، که چیرې دا شرط پلي نشي، د محصلې مومنت، جسم یو دوراني حرکت ته اړباسي. پورتنی دواړه شرطونه یې د تعادل د عمومي شرطونو په نامه منلي دي. نو کله چې څو قوې د یوه جسم په مختلفو او کيفي نقطو عمل وکړي، دا جسم هغه مهال د تعادل په حالت کې راتلي شي چې لاندي دوه شرطونه ولري.

لومړی شرط: د عمل کوزنکو قوو محصله یې له صفر سره مساوي وي.

دویم شرط: د دوران د ټولو مومنتونو مجموعه په یو جسم کې د دوران د یوې کيفي نقطې پر شاو خوا مساوي له صفر سره وي. په څېر و مسائلو او حالاتو کې چې مخې ته راځي، قوې به په یوې مستوي کې وي، پرته له دې مسئلې کولای شو، په داسې ګڼو اجزاو کې وپېشو چې، ټولې شته قوې، په یوه مستوي کې واقع شي. د دې لپاره چې د تعادل شرایط په ریاضیکي فورمولونو بیان کړای شو، په هغه مستوي کې چې قوې واقع دي، د وضعیه کمیاتو یو سیستم برقراره وو، واردي شوې قوې د F_1, F_2 په علامو په نښه کوو، د قوو مرکزي په F_{1x} او F_{2x} او همدا رنگه په F_{1y} او F_{2y} او \dots نښو او نظر د دوران یوې کيفي نقطې ته د قوې متي په L_1 او L_2 او... نومو علامو په نښه کوو. په پایله کې لاندي معادلي لاس ته راځي:

1- هغه قوې چې افقي عمل کوي، مجموعه یې مساوي له صفر سره ده یعنې:

$$F_{1x} + F_{2x} + F_{3x} + \dots = 0 \Rightarrow \sum F_x = 0$$

2- هغه قوې چې په عمودي ډول عمل کوي مجموعه یې له صفر سره مساوي ده یعنې:

$$F_{1y} + F_{2y} + F_{3y} + \dots = 0 \Rightarrow \sum F_y = 0$$

3- د دوران د مومنتونو مجموعه له صفر سره مساوي ده.

$$F_1 l_1 + F_2 l_2 + F_3 l_3 + \dots = 0 \Rightarrow \sum M = 0$$

هغه څه مو چې د تعادل د شرایطو په اړه وویل، دا یې په پیل کې دا تعادل د لومړی شرط په توګه بیانوو او مسائل او تمرینونه یې حلوو:

د تعادل لومړی شرط

هر هغه جسم چې د تعادل په حالت کې دی، پر جسم د محصله قوو مجموعه (پر جسم د ټولو قوو وکتوری جمع) باید له صفر سره مساوی وي:

$$\sum \vec{F} = 0 \quad \text{یا} \quad \vec{R} = 0$$

یعنې:

که چیرې د N په شمیر قوې پر جسم عمل وکړي، لرو چې:

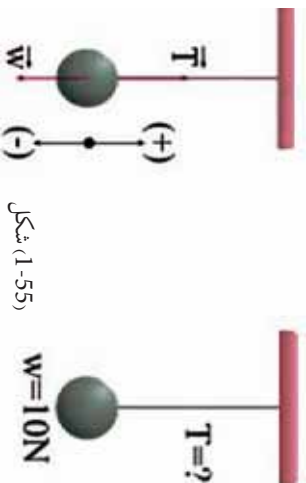
$$F_1 + F_2 + F_3 + \dots + F_n = 0$$

$$F_{1x} + F_{2x} + F_{3x} + \dots + F_{nx} = 0$$

$$F_{1y} + F_{2y} + F_{3y} + \dots + F_{ny} = 0$$

مثال:

د بریښنا یو ګروپ د $10N$ په وزن د یو سیم په مرسته د خونې له چت څخه څرول شوی او د سکون په حالت کې دی. د سیم د راکټلو قوه (T) محاسبه کړئ.



شکل (1-55)

حل:

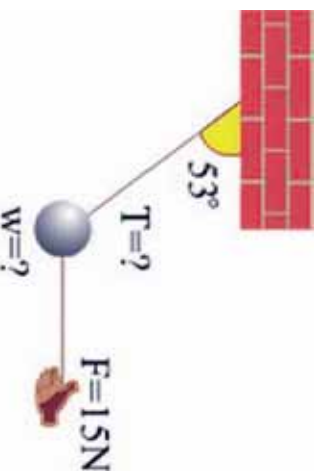
څرنگه چې جسم د سکون په حالت کې دی، نو عامې قوې پرې د تعادل په حال کې دي یعنې:

$$\sum F = 0 \Rightarrow T + (-W) = 0, \quad T - W = 0, \quad T = W, \quad T = 10N$$

مثال:

یو جسم چې د تار په مرسته څرول شوی دی د $15N$ یوې قوې په واسطه چې په افقي توګه یې عمل کوي او د شکل په څیر یې جسم په تعادل کې ساتلې، راکټل قوه چې پر تار عمل کوي محاسبه اوهم د جسم وزن په لاس راوړئ په داسې حال کې چې:

$$\cos 53^\circ = 0.8 \quad \text{او} \quad \sin 53^\circ = 0.6$$



شکل (1-56)

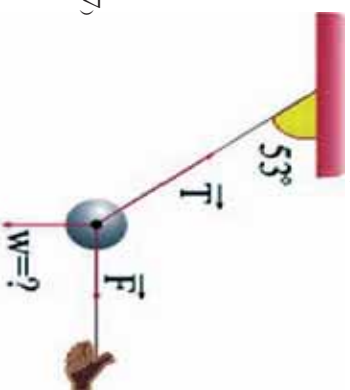
حل:
 په دې ځای کې درې قوې چې د تعادل په حالت کې دي، پر جسم اغیز کوي، دا درې قوې عبارت دي له:

- ۱- د جسم د وزن قوه W ، ۲- وارده قوه F چې پر جسم اغیز کوي ۳- د راکبېلو قوه T چې پرتار عمل کوي. لومړی د ادرې قوې د قایمو مختصساتو سیستم ته انتقالوو. بیا د تعادل لومړنی شرط د X او Y په دواړو محورونو کې پر جسم تطبیقوو.
- د X پر محور باندې د تعادل د شرط تطبیق:

$$\sum F_x = 0$$

$$F - T_x = 0, \quad T_x = F$$

$$T \cdot \cos 53^\circ = 15N \rightarrow T \times 0.6 = 15N \Rightarrow T = 25N$$



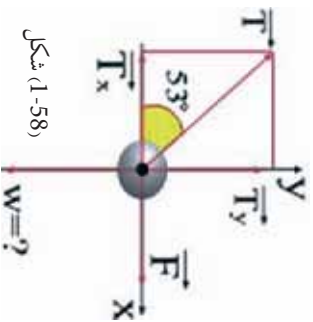
شکل (1-57)

- اوس د تعادل لومړی شرط د Y پر محور تطبیقوو:

$$\sum F_y = 0$$

$$T_y - W = 0$$

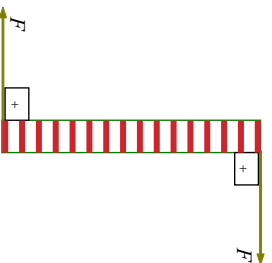
$$T_y = W \rightarrow T \cdot \sin 53^\circ = W \quad W = 20N$$



شکل (1-58)

د تعادل دویم شرط:

یو جسم سره له دې چې د تعادل لومړی شرط یې بشپړ کړی دی، له دې سره سره بیا هم کېدای شي، د تعادل په حالت کې نه وي. د (1-59) شکل ته نظر وکړئ پر جسم محصله قوه مساوی له صفر سره ده، خو جسم دسکون په حالت کې نشي پاتې کېدای. له دې ځایه ویلی شو: دهغه جسم لپاره چې د تعادل په حالت کې واقع وي، یو بل شرط ته هم اړتیا ده.



شکل (1-59)

نو دویم شرط د دی لپاره چې یو جسم د تعادل په حالت کې وي، دا دی چې باید د مومنتونو محصله (د توروکوړنو مجموعه) چې پر جسم اغیز کوي، مساوي له صفر سره وي. یعنې:

$$\sum M = 0$$

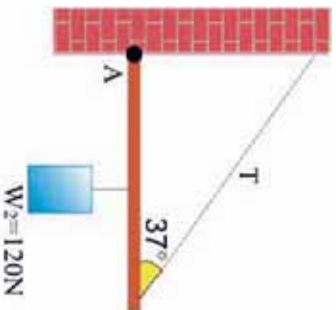
که چېرې د (11) په شمېر، قوې پر جسم، مومنت تولید کړي، لرو چې:

$$M_1 + M_2 + M_3 + \dots + Mn = 0$$

که چېرې $\sum F = 0$ خو $\sum M \neq 0$ وي. په دې ځای کې جسم د انتقالی تعادل په حالت کې دی، په دې حال کې جسم تعجیل نه اخلي، بلکې په دوران پیل کوي. که $\sum F \neq 0$ خو $\sum M = 0$ وي. جسم د دوراني تعادل په حالت کې دی، یعنې دا چې جسم په دوران پیل نه کوي، خو تعجیل لري.

مثال:

د یو لرگي د ډبر سپک لاستي چې فرض کوو هېڅ وزن نلري، یو سر د A په نقطه او بل سر يې د یوې رسی په مرسته له یوه دیوال سره تړل شوی دی. یو جسم د شکل په څیر د 120N په وزن د لاستي له منځنۍ نقطې څخه څرول شوی دی.



شکل (1-60)

1. د T د راکټولو قوه په رسی کې پیدا کړئ.
2. د R عکس العمل قوه چې دیوال په لاستي باندې د A په نقطه کې عمل کوي، څومره ده؟ په داسې حال کې چې $\sin 37^\circ = 0.8$ او $\cos 37^\circ = 0.6$ وي.

حل:

هغه قوې چې پر جسم عمل کوي، په شکل کې ښودل شوي دي. R_x او R_y د هغو قوو مرکبې دي چې دیوال يې د لرگي په لاستي وارډ وي. هغه مومنتونه (تورکوړنه) چې R_x او R_y يې منځ ته راوړي، له صفر سره مساوي دي. ځکه دا دوي قوې د دوران په نقطه کې په لاستي عمل کوي. پرلاستي باندې د (A) نقطې لپاره د تعادل د دویم شرط له تطبیق سره لرو چې:

$$\sum M_A = 0 \text{ د هغه محصلې مومنت چې د T او W د قوو لخوا تولیدېږي.}$$

$$T_y \times L - w(L/2) = 0$$

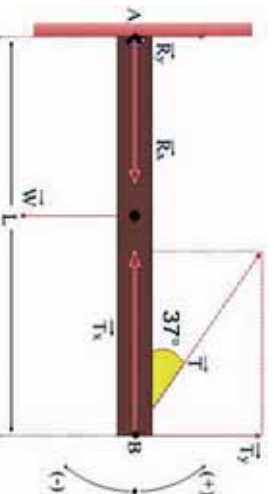
$$(T \sin 37^\circ)L - 120(L/2) = 0$$

$$T \cdot 0,6 - 60 = 0$$

$$T \cdot 0,6 = 60$$

$$T = 100N$$

شکل (1-61)

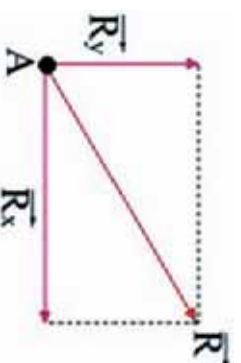


د تعادل له لومړي شرط څخه لرو چې

$$\begin{aligned}\sum F_x &= 0 \\ R_x - T_x &= 0 \\ R_x - 100 \cdot \cos 37^\circ &= 0 \\ R_x &= 80 \text{ N}\end{aligned}$$

د عکس العمل قوه د فیثاغورث له قاعدې څخه په دې ډول محاسبه کېږي:

$$\begin{aligned}\sum F_y &= 0 \\ R_y + T_y - w &= 0 \\ R_y + 100 \sin 37^\circ - 120 &= 0 \\ R_y &= 60 \text{ N} \\ R^2 &= R_x^2 + R_y^2 \\ R_2 &= 80^2 + 60^2 \\ R &= 1000 \text{ N}\end{aligned}$$



شکل (1-62)

د مومنت له فارمول څخه بل تعبیر (څرگندونه)

موز لرو چې $M = F \cdot d \sin \theta$

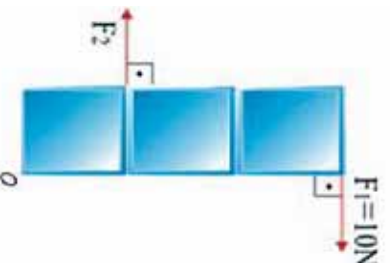
پورتنۍ افاده دا رنگه هم لیکلای شو $M = F(d \cdot \sin \theta)$ پورتنۍ شکل بڼې چې $(d \cdot \sin \theta)$ ، د دوران د نقطې او د قوې د اغیز د خط تر منځ عمودي واټن دی.

مثال:

یو بکس چې فرض کوو یې وزه دی، د O د نقطې پر شاو خوا په ازاده توګه دوران کوي، په نظر کې ونیسئ که چیرې $F_1 = 10 \text{ N}$ وي او د مربع هره ضلع 1 متر وي، د F_2 قوې کچه چې صندوق په تعادل کې راولي محاسبه کړئ.

حل: د تعادل د حالت لپاره لیکلی شو چې:

$$\begin{aligned}\sum M &= 0 \\ F_2 d_2 - F_1 d_1 &= 0 \\ F_2 (1\text{m}) - (10\text{N})(3\text{m}) &= 0 \\ F_2 &= 30 \text{ N}\end{aligned}$$

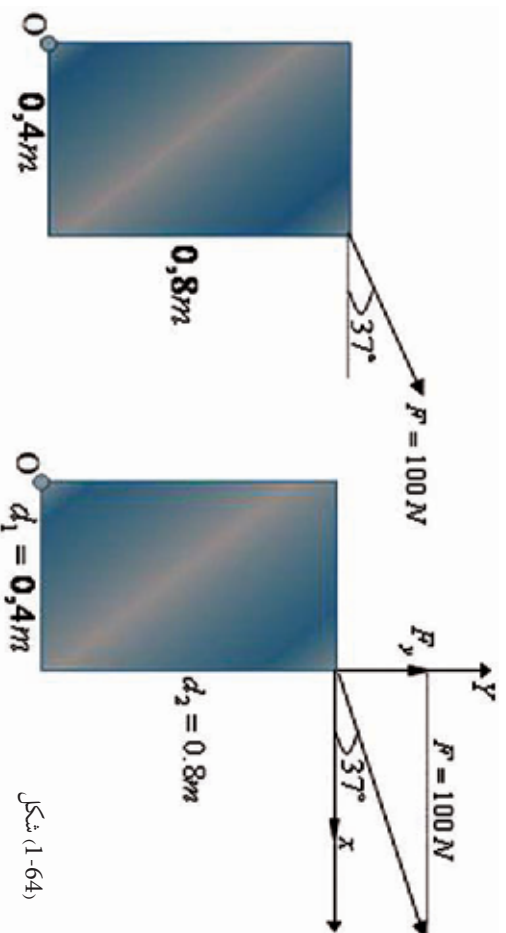


شکل (1-63)

مومنت په لاندې تعبیرونه سره کولای شو دا رنگه افاده کړو:

مومنت مساوي دی، له عمودي قوي ضرب له محور څخه د دوران په واټن، یا مومنت مساوي دی د عمودي واټن د قوي ضرب د دوران له محور څخه. په اکثر وځومومي حالتونو کې هم د قوي له مرکزي څخه اوهم د واټن له مرکزي څخه، يعني د دواړو له مرکبو څخه چې سره جمع کېږي، د مومنت د مرکزي د پیدا کولو لپاره ترې گټه اخېستل کېږي.

مثال: په مخامخ شکل کې، هغه مومنت چې د O نقطې پر شاوخوا منځ ته راځي، محاسبه کړئ.



شکل (1-64)

حل: د تعادل د حالت لپاره ليکلی شو:

$$(F_y)(0,4) - (F_x)(0,8) = 0$$

$$(F \cdot \sin 37^\circ)(0,4) - (F \cos 37^\circ)(0,8) = 0$$

$$F_x^2 + F_y^2 = (100N)^2 \quad (1)$$

$$F_x \cdot 0,4 - F_y \cdot 0,8 = 0 \quad (2)$$

$$F_x = \frac{0,8F_y}{0,4} = 2F_y \quad (2F_y)^2 + F_y^2 = (100N)^2$$

$$F_y^2 = \frac{10000N^2}{5} = 2000N^2$$

$$F_y = 44,7213N$$

$$F_x^2 = (100N)^2 - 2000$$

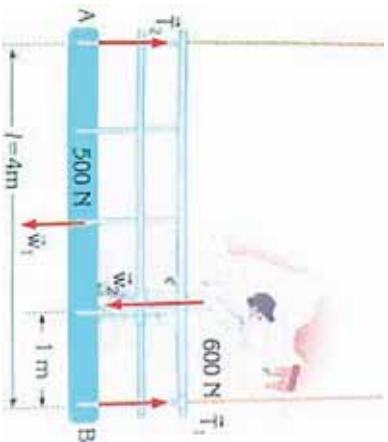
$$F_x^2 = 8000N^2$$

$$F_x = 89,4427N$$

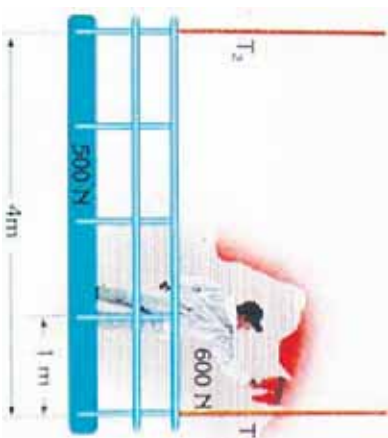
د دوران د نقطې د موقعیت ټاکل
 کله چې یو جسم د تعادل په حالت کې وي، د نوموړی جسم مجموعي مومنت، صرف نظر له دې چې د دوران نقطه چیرته موقعیت لري، له صفر سره مساوی دی. نو د دوران د نقطې موقعیت، په هر ځای کې، چې د پرابلم د حل لپاره مناسب وي، ټاکل کېدای شي.

مثال:

یو رنگمال چې 600 نیوټن وزن لري شکل سره سم په یو ټاکلی موقعیت کې، دلرګي د خوازې له پاسه چې وزن یې 500 نیوټن دی او د یوې رسی په مرسته څړول شوی، ولاړ دی او د یوال رنگوي. د راکښلود قوو کچه T_1 او T_2 چې په رسی عمل کوي، لاسته راوړئ (په سیستم کې له نورو وزنونو څخه صرف نظر کېږي).



شکل (1-66)



شکل (1-65)

حل:

لومړی د هغو قوو سکيج چې په سیستم کې عمل کوي رسموو.
 څرنگه چې سیستم د تعادل په حالت کې دی، نو کولای شو چې د مومنتونو د اصل تعادل وکاروو د T_1 او T_2 قوو د محاسبې لپاره لومړی د B نقطه یعنی د T_1 قوې د اغیز او بیا وروسته د T_2 قوې د اغیز نقطه یعنی A ټاکو.

$$\begin{aligned} \sum M_A = 0 & \quad \text{څرنگه چې} \\ T_2 \cdot 0 + T_1 \cdot 1 - 500 \cdot \frac{1}{2} - 600 \left(\frac{1}{2}\right) &= 0 & \quad \text{و یا} \\ 0 + T_1 \cdot 4 - 500 \cdot 4/2 - 600(4 - 4/4) &= 0 \\ T_1 &= 700 \text{ N} & \quad \text{نو} \end{aligned}$$

$$\sum M_B = 0 \quad \text{همدارنگه} \quad \text{اویا}$$

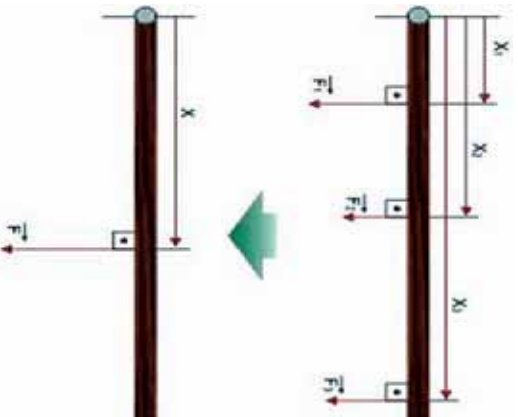
$$T_1 \cdot 0 + T_2 \cdot 1 - 500 \cdot 1/2 - 600 \cdot 1/4 = 0$$

$$0 + T_2 \cdot 4 - 500 \cdot \frac{4}{2} - 600 \cdot 4/4 = 0$$

$$4T_2 = 1600 \quad \text{نو}$$

باید پام وکړو چې د $\sum F_y = 0$ قوو تعادل نشو کولای، د T_1 او T_2 قوو د محاسبې لپاره کارولې نه شو. د دې ډول پرابلمونو د حل لپاره، د مومنتونو د تعادل شرط عموماً د نا معلومو قیمتونو لپاره کارول کېږي.

مثال: تصور وکړئ چې په یوې وزنه سیم درې داسې قوې عمل کوي چې په بېلابېلو نقطو کې یو له بل سره موازي دي.



شکل (1-67)

که چیرې دا درې قوې له یوې قوې سره داسې تعویض شي چې بردي جسم محصله قوه او محصله مومنت، د دوران د مرکز موقعیت ته په نظر نه گولو څخه ثابت پاتې شي. ددې محصله قوې کچه او د اغیز نقطه محاسبه کړئ.

څرنگه چې محصله قوې ثابتې، باقي پاتې کېږي. نو لرو چې:

$$F = F_1 + F_2 + F_3$$

حل:

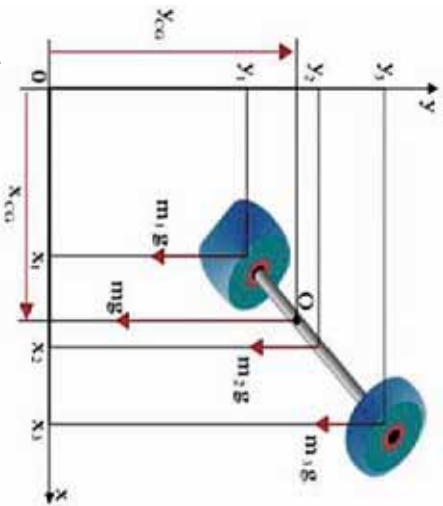
اوس د دوران د مرکز واټن د مومنت د تعادل له اصله، دا رنگه په لاس راوړو:

$$M = M_1 + M_2 + M_3$$

$$(F_1 + F_2 + F_3) \cdot X = F_1 X_1 + F_2 X_2 + F_3 X_3$$

$$X = (F_1 X_1 + F_2 X_2 + F_3 X_3) / (F_1 + F_2 + F_3)$$

څرنگه چې دقتل د قوې اغیز د جسم په ټولو برخو دی او لوری یې تل د ځمکې د مرکزي په لور دی، نو لکه څنګه چې په شکل کې لیدل کېږي، ټولې قوې په یوه لوري او په موازي ډول عمل کوي.



شکل 1-68

د دې قوو محصله د جسم وزن تشکیلوي او د دې قوو د اغیز نقطه د جسم د ثقل د مرکز په نامه یا دوی او په CG یې ښيي. د وزن او چټولو یوه میله په دواړو سروونو کې دوه مختلف وزبونه، د قایمو مختصاتو په سیستم کې داسې په نظر کې نیسو.

چې له درې برخو، یعنې دوه وزبې په دوو انجامونو اویوې میلی څخه جوړ شوی وی. د دې هرې یوې برخې وزن عبارت دی له: m_1g , m_2g او m_3g د میلی مجموعي وزن عبارت دی له:

$$mg = m_1g + m_2g + m_3g$$

د O نقطه د mg قوې د اغیز نقطه ده.

د مومنت معادله دا رنگې لیکلای شو:

$$(m_1g + m_2g + m_3g) X_{CG} = m_1g x_1 + m_2g x_2 + m_3g x_3$$

خرنگه چې $m_1 + m_2 + m_3$ د جسم له مجموعي کتلې څخه عبارت دی، نو پورتنۍ معادله داسې ترتیبولای شو:

$$X_{CG} = (m_1x_1 + m_2x_2 + m_3x_3)g / (m_1 + m_2 + m_3)g$$

له ساده کولو وروسته لرو چې:

د Y محور لپاره لرو چې:

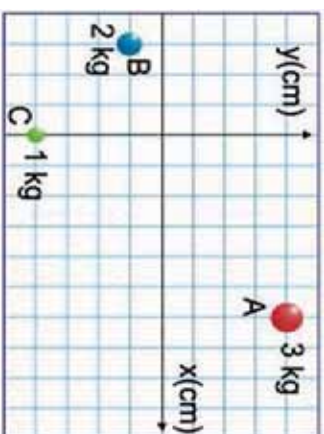
$$Y_{CG} = (m_1y_1 + m_2y_2 + m_3y_3)g / (m_1 + m_2 + m_3)g$$

$$Y_{CG} = \sum (my') / \sum m$$

هغه نقطه چې فرض کېږي د جسم ټوله کتله هلته متمرکه شوې ده، د نوموړي جسم د کتلو مرکز دی. X_{cm} او Y_{cm} د جسم د مختصاتو له کتلوي مرکز څخه عبارت دی، په یوه محیط کې چې د متجانس ثقل ساحه وي، د ثقل مرکز او کتلوي مرکز همدا یوه نقطه وي او په هغه محیط کې چې ثقل یا (جاذبه) نه وي، په هغه ځای کې وزن شتون نه لري او یوازې کتله شتون لري.

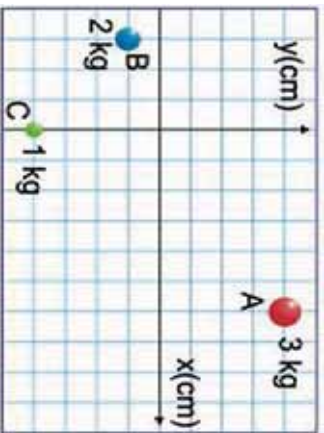
مثال: د A ، B او C جسمونه لکه څنګه چې په شکل کې لیدل کېږي، د مختصاتو د سیستم پرمخ موقعیت لري، د دې جسمونو کتلې په ترتیب سره 3kg ، 2kg او 1kg دي، د هغه سیستم د کتلوي مرکز مختصات چې دې درو جسمونو جوړ کړي دي، پیدا کړئ.

شکل (1-69)



حل: د کتلو مختصات او د جسمونو موقعیتونه عبارت دي له:

- (د) 3kg کتلې مختصات) $A(6\text{cm}, 4\text{cm})$
- (د) 2kg کتلې مختصات) $B(-3\text{cm}, -1\text{cm})$
- (د) 1kg کتلې مختصات) $C(0\text{cm}, -4\text{cm})$



شکل (1-70)

د (cm) د کتلوي مرکز مختصاتو مرکز عبارت دی له:

$$X_{CM} = \frac{\sum (m \cdot X)}{\sum m} = \frac{(m_A \cdot X_A + m_B \cdot X_B + m_C \cdot X_C)}{(m_A + m_B + m_C)}$$

$$= \frac{(3\text{kg})(6\text{cm}) + (2\text{kg})(-3\text{cm}) + (1\text{kg})(0\text{cm})}{(3\text{kg} + 2\text{kg} + 1\text{kg})}$$

$$X_{CM} = 2\text{cm}$$

له ساده کولو وروسته لرو چې:

$$Y_{CM} = \frac{\sum (m \cdot y)}{\sum m} = \frac{(m_A Y_A + m_B Y_B + m_C Y_C)}{(m_A + m_B + m_C)}$$

$$= \frac{(3\text{kg})(4\text{kg}) + (2\text{kg})(-1\text{cm}) + (1\text{kg})(-4\text{cm})}{(3\text{kg} + 2\text{kg} + 1\text{kg})}$$

$$Y_{CM} = 1\text{cm}$$

له ساده کولو وروسته لرو چې:



د لومړۍ څپرکې لنډيز

- قوه هغه عامل دی چې په جسم کې د شکل او یا حالت د بدلون سبب گرځي او په نړېوال سیستم کې یې بنسټيز (اساسي) واحدونه داین اونیوتن دي.
- کله چې څو متلاقي قوې پر یوه جسم عمل وکړي، یوه محصله قوه منځ ته راوړي، چې د دې قوې کچه او لوری په هندسي توګه د وکتورونو له قاعدې څخه په ګټې اخیستلو او هم په حسابي توګه له الجبري قاعدو په ګټې اخیستلو په لاس راځي.
- نقطه یي کتله د یو ایديال یا خیالي جسم له کتلې څخه عبارت دی چې ټول هغه مواد چې د نوموړي جسم د جوړښت لپاره کارېدلې، په یوه نقطه کې متمرکز شوي وي.
- دوه قوې هغه مهال په تعادل کې واقع کېدای شي چې محصله یې له صفر سره یعنې $\sum F = 0$ شي او دا په داسې حالت کې شوې ده چې د دواړو قوو کچه سره مساوي او لوری یې سره مخالف وي.
- د محاسبې په طریقه د څو قوو د محصلې د پیدا کولو لپاره لومړی ټولې قوې د قائم مختصانو په سیستم کې د X او Y په مرکب تجزیه کوو، بیا وروسته د قوو له مرکب څخه په ګټې اخیستلو، محصله قوې او هغه زاوې چې X او Y له محورونو سره یې جوړوي، حسابېدای شي. کله چې د محصله قوې د هرې یوې مرکبې مجموعه له صفر سره مساوي وکړي، دوي ته جوړه قوې (د قوو زوج) وایي.
- کله چې دوي موازي قوې، چې د متقابلو لورو لرونکې وي، عموماً پر یوه محور او د جسم په دوو بیلابیلو نقطو اغیز وکړي، دوي ته جوړه قوې (د قوو زوج) وایي.
- د قوې یو زوج د دوران موقعیت (د دوران نقطې) ته له نظر کولو پرته، تل د دوران د همدې یوه مومنت لرونکې وي.
- یو جسم د سکون په حالت کې دی او یا دا چې د سکون په حالت کې پاتې شوی دی، ویل کېږي چې د سټاتیک تعادل په حالت کې دي. خو هغه جسم چې په یوه ثابت سرعت د حرکت او یا د دوران په حال کې وي، وایي چې دا جسم د دینامیک تعادل په حالت کې دی.
- د دی لپاره چې یو جسم د تعادل په حال کې وي، دوه لاندیني شرطونه باید ولري:
 - 1 پر جسم د ټولو عمل کوونکو قوو محصله (وکتوري جمع) باید له صفر سره مساوي وي، یعنې:

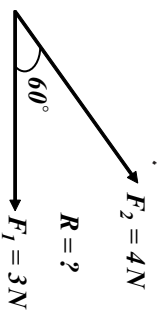
$$\sum F = 0$$
 - 2 د محصلو مومنتونه (د مومنتونو جمع چې پر جسم اغیز لري) باید له صفر سره مساوي وي یعنې:

$$\sum M = 0$$
- د قوې دوراني اغیز ته مومنت (ترک) وایي چې موزې یې په M نښو او د یوناني تورو په (T) هم ښودل شوی دی چې: $M = F \cdot d \sin \theta$
- مومنت د ساعت د سټې په لوري اویا دهغې په مخالف لوري عمل کولی شي.
- یو جسم سره له دې چې د تعادل لومړی شرط یې بشپړ کړی دی، له دې سره بیا هم کولای شي صفروي، خو جسم د سکون په حالت کې نه دی.
- د یو جسم د نقل مرکز مختصات د وضعیې کمیټونه په قائم سیستم کې له لاندې معادلو څخه لاسته راځي:

$$X_{CG} = \sum (mx) g / \sum mg \quad \text{او} \quad Y_{CG} = \sum (my) g / \sum mg$$

د لوړې څپرکي پوښتنې

- 1- قوه تعريف كړئ او په نړيوال (SI) سيستم كې يې بنسټيز (اساسي) واحدونه بيان كړئ.
- 2- ولې قوه يو وكتورې مقدار ده؟
- 3- دوي موازي كيفي قوي انتخاب كړئ او محصله يې د قوو د متوازي الاضلاع د قاعدې په طريقه رسم كړئ.



- 5- نقطه يي کله تعريف کړئ او د نقطه يي کتلې درې بېلگې بيان کړئ.
- 6- د عمل قوه تل د له قوي سره مساوي خو د متقابل لرونکي وي
- 7- هغه جسمونه چې د هغو پورته واقع وي د هغو د اډکاله څخه د تعادل په حالت کې شتون لري.
- 8- هغه مومنټ چې يوه قوه يې د دوران په پېښه کې توليدوي، له کومو درو پارامترونو سره اړيکې لري، بيان يې وليکئ.
- 9- هغه مومنټ چې د $25N$ قوي په واسطه پر هغه مېلې چې اوږوالی يې $0.5m$ دی، توليدکېږي محاسبه کړئ.
- 10- د لاندي هرې محصله قوي مرکبي په هندسي طريقه ترسيم کړئ.

11. په يو زوج قوه کې، د دوران د مومنټ د رياضي رابطه د $F_1 = F_2 = F$ قوو لپاره، د هغو د اغيز د خطونو د L له متقابل واټن سره وليکئ

12. که چېرې د دوران محور د اغيز د دوو خطونو له يوه څخه تير شوی وي، خو له هغو څخه خارج واقع وي، په دې صورت کې د مومنټ دوران څنگه اړايه کېږي؟ رياضي رابطه يې وليکئ.
- 13- د هغه تورک کچه چې د $3N$ قوي د اغيز له امله پر يوې دروازي په $0.25m$ عمومي واټن د دوران له محور څخه توليدېږي، محاسبه کړئ.
- 14- يوه ساده رفاصه له $3Kg$ نقطه يي کتلې سره د يو نري تار په سر کې چې اوږدوالی يې $2m$ دی، څرول شوی، د محور له يوې نقطې سره وصل شوی دی.

a- تولید شوی تورک (د ځمکې د جازبې قوې په مرسته) د محور د دې نقطې په شاوخوا کې حساب کړئ. په داسې حال کې چې د 5° زاویه په عمودي ډول له محور سره جوړه کړي.

b- دا محاسبه د 15° زاوې لپاره ترسره کړئ.

15. د یو موټر ډویل د پیچ د خلاصولو لپاره لازم تورک $40Nm$ دی، هغه ډبره کمه قوه چې یو میخانیک یې د $3cm$ رنج سر باندې د پیچ د خلاصولو لپاره واردوي، څومره ده؟

16. که د یو گنچ د بیداکولو لپاره په یوه نقشه کې د لورز تعقیبولو لپاره، یو یو لاروي لومړی $45m$ د شمال په لورځې، بیا راگرځي او $7.5m$ د ختیځ په لور یاد شوی گنچ ته قدم ووهي، د لاروي درسیلو لپاره، باید نوموړی څومره واټن په مستقیم ډول ووهي؟ د گنچ موقعیت د وضعیه کمیانو په سیستم کې ونښتی.

17. یوه لارۍ پر یوې غونډۍ چې 15° څوروالی لري، حرکت کوي، که چیرې لارۍ ثابت سرعت $22m/s$ ولري، د لارۍ د سرعت عمودي افقي مرکبې پیدا کړئ.

18. د یوې پېشو لخوا وهل شوي واټن عمودي او افقي مرکبې، چې $5m$ په عمودي ډول ونې ته ختلي ده، پیدا کړئ.

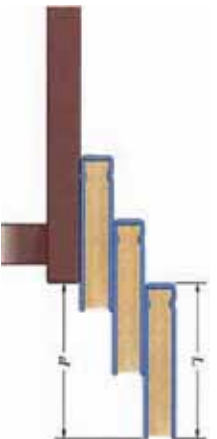
19. یوه الټکه د ځمکې له سطحې سره موازي، لومړی $75Km$ واټن له 30° زاوې سره دشمال لوبدیځ په لور او دویم واټن $155Km$ له 60° زاوې سره د شمال ختیځ په لور الوتنه کوي. دالوتکې لخوا ټول وهل شوی واټن څومره دی؟

20. د متوجه سرعت د وکتور کچه اولوری په لاندې سرعتونو کې چې پخپلو کې عمود دي پیدا کړئ.

a- یو کب نسبت اوبو ته د یو سیند د تگ لورۍ په استقامت چې $5m/s$ حرکت کوي، د $3m/s$ په چټکتیا لامبووهي.

b- یوه ساحلي څپه نسبت اوبو ته د یوې بلې څپې په لور په $6m/s$ چټکتیا سره حرکت کوي، مخ په وړاندې ځي.

21. درې هم شکله او هم وزنه کتابونه د A په اوږدوالي د شکل په څیر یو ډبل پرمخ ایښودل شوي دي. د d د پرمختگ اعظمي واټن چه کتابونه پکې په تعادل کې وي او سقوط ونه کړي، پیدا کړئ

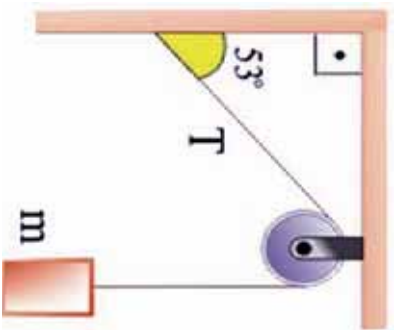


22. یوه متجانسه میله په $4.25m$ اوږدوالي او $47Km$ چي له یوه محور سره یې یو سر پر دیوال ایښتی دی، په افقي توګه د یو سیم په مرسته له بل سر سره تړل شوی دی. سیم له افق سره $30N$ زاویه جوړوي اوسیده د میلی پر محور نصب شوی دی. که چیرې سیم وکولای شي د راکنبلو $1400N$ قوي په وړاندې مخکې له دې چې وشلېږي، مقاومت وکړي. له د یوال څخه په څومره واټن یوتن له $68Kg$ کتلې سره پر میله باندې کښیني، تر څو سیم وشکېږي؟

23. په یوې رسی کې د T راکنبلوقوه $30N$ دی، لکه چې په شکل کې وښی جسم د تعادل په حالت کې دی.

د کتلې کچه په g حساب کړئ په داسې حال کې چې:

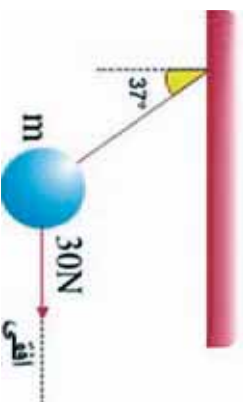
$$\sin 53^\circ = 0,8 \quad \cos 53^\circ = 0,6$$

$$g = 10N/kg$$


24. یو جسم د m له کتلې سره د $30^\circ N$ افقي قوي په مرسته له شکل سره سم په حالت کې دی، د جسم د کتلې کچه په g محاسبه کړئ. داسې چې:

$$\sin 37^\circ = 0,6 \quad \cos 37^\circ = 0,8$$

$$g = 10N/kg$$

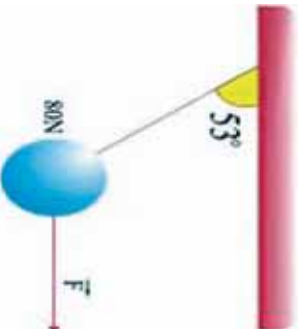


25. لکه څنګه چې په شکل کې وښی، یو جسم له $80N$ وزن سره دیوې رسی، په مرسته ځړول شوی او د یوې افقي قوي F په واسطه راکنبل کېږي.

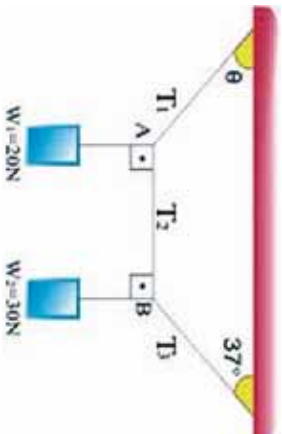
a - په رسی کې د راکنبلو قوه پیدا کړئ.

b - د F قوه محاسبه کړئ.

$$\cos 53^\circ = 0,6 \quad \sin 53^\circ = 0,8$$



26. هغه سیم چي تاسوبی په شکل کي گورئ، دوه جسمونه پکي په $W_1 = 20N$ وزن او $W_2 = 30N$ وزنونو د رسی په مرسته له چت څخه خړول شوي او د تعادل په حالت کي دي. که چیري د AB رسی افقي وي، د راکنبلو د T_1, T_2, T_3 قوي محاسبه کړئ او همدا رنگه د θ زاويي قیمت پیدا کړئ.



$$\sin 30^\circ = \cos 53^\circ \quad \sin 53^\circ = \cos 37^\circ = 0,8$$

27. یو ډوریزور د F یوه قوه، لکه چي په شکل کي یي ویني، د خپلولا سونو په مرسته د گاډي په اشتراک واردوي، که چیري د اشتراک څرخ د d شعاع ولري، پیدا کړئ:

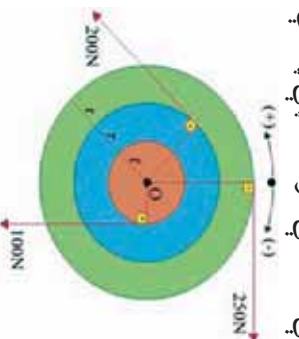
a- محصله قوه

b- د محصلې مومنت چي اشتراک پر څرخ عمل کوي.




28. دري ټیکلي (دسکونه)، لومړنی د I په شعاع، دویم د $2r$ په شعاع او دریم یي د $3r$ په شعاع یوله بله سره داسي تړل شوي دي چي ټول یي د O نقطې په شاوخوا د $200N, 100N$ او $250N$ قوو په اغیز کولو سره دوران کوي.

که چیري شعاع $r = 0.1m$ وي، د هغې محصلې مومنت چي په دي سیم باندي عمل کوي، پیدا کړئ.



دورليم څپرکي يو بعدي حرکت



لکه څنگه چې پوهیږو، نړۍ او هر څه چې پکې دي، حتی هغه جسمونه چې په ظاهره کې ساکن ښکاري، لکه سړک، ونې او یا د ونو د پاڼو غورځیدل ټول په حرکت کې دي. کله چې د بڼوونځي په لاره کې خپل شاوخوا ته گورئ، د حرکتونو بېلابېل ډولونه گورئ؟ د دې حرکتونو د څېړلو لپاره له کوم علم څخه باید گټه واخلو؟ لکه څنگه چې د نهم توکي په فزیک کې مو ولوستل، ډینامیک چې د میخانیک یوه برخه جوړوي، د اجسامو حرکت او د حرکت اړیکې له یو شمیر فزیکي مفاهیمو لکه قوه او کتلې سره ترماللي لاندې نيسي.

موږ به دې څپرکي کې د اجسامو حرکت د موقعیت (مکان) او زمان د مفاهیمو څخه په گټې اخیستلو، پرته له دې چې پر اجسامو واره قوې په نظر کې ونیول شي، مطالعه کوو، چې د میخانیک فزیک دا برخه د سینماتیک په نامه یادوي.

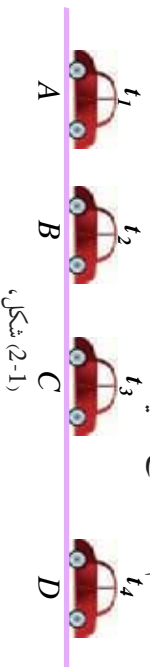
تاسو به د دې څپرکي په پای کې د حرکتونو د ډولونو په هکله ډېر څه زده کوئ او د دې ډول حرکتونو بشپړ تصویر به په خپلو ذهنونو کې ترسیم کولای شئ چې ډول پرېښتو ته چې، د یو مستقیم خط په امتداد حرکت څه شي دی؟ د یو متحرک جسم موقعیت او تغیر مکان څه شي دی؟ او د دې په څېر نورو پرېښتنو ته به ځوابونه ووايست.

همدا رنگه د دې څپرکي په پای کې د سینماتیک، منځني سرعت او په یو بعدي حرکت کې د هغه اړیکې، د موقعیت د اصطلاحگانو تشریح، د موقعیت تغیر او د حرکت معادلي او $(X - t)$ او $(V - t)$ گرافونو تحلیل، د لحظه یي سرعت تعریف او تشریح، منځني تعجیل او لحظه یي تعجیل او د هغو د معادلو په لاس راوړل، له ثابت تعجیل سره، د یو بعدي حرکت تشریح، د حرکت د معادلو لاس ته راوړل له ثابت تعجیل سره، د اجسامو د آزاد سقوط تحلیل او څېړنه د ثابت التعمیل حرکت د یوې بیلگې په توگه او ځینو نورو مفاهیمو سره باندتیا حاصله کړي.

2-1: حرکت د مستقیم خط په امتداد

د مستقیم خط په امتداد حرکت ته یو بعدی حرکت هم وايي چې په هغې کې د حرکت مسیر، مستقیم مسیر دی. لاندې مثال د دې ډول حرکت د مفهوم د پېژندلو لپاره خورا ښه بېلگه ده:

د یو موټر په څیر یو متحرک جسم په نظر کې ونیسئ، چې په یو مستقیم مسیر کې په حرکت کې دی. شکل د دې موټر موقعیتونو ته د t_1, t_2, t_3 او t_4 په زماني لحظو کې په ترتیب سره د A, B, C او D په نقطو کې د یو مستقیم مسیر پرمخ ښيي.



(2-1) شکل،
د مستقیم خط په امتداد حرکت

د یو مستقیم خط په اوږدو حرکت کې که چیرې ابتدا د مسیر پرمخ اختیار کړو، د موقعیت او مکان تغیر وکتورونه هم لوري دي، دا د دې لامل گرځي چې محاسبه د دې وکتورونو پرمخ په آسانی سره ترسره شي.



د یو ډگنډې ټیټز رفتار په څیر یو متحرک په نظر کې ونیسئ چې په یو مستقیم سوک په حرکت کې دی.

د دې موټر د حرکت ډول په توپاګي کې له اړوندو ډولسره تر بحث لاندې ونیسئ او پایله یې په توپاګي کې وړاندې کړئ.

که چیرې د وضعیه کمیټونو د مختصاتو یو محور OY او OX د حرکت د مسیر په توګه ونیسئ، کولای شئ د متحرک جسم موقعیت په هره لحظه کې د هغه د مختصي په مرسته (مثلاً د X مختصه) چې کېدای شي مثبت او یا منفي عدد تشخیص کړي. د (2-2) په شکل کې د حرکت مسیر او متحرک موقعیت د t_1, t_2 او t_3 په لحظو کې ښودل شوی.



د (2-2) شکل

لکه څنګه چې په شکل کې لیدل کېږي، t_1, t_2 او t_3 په لحظو کې د متحرک جسم موقعیتونه په ترتیب

سره $x_3 = -3m, x_2 = +3m, x_1 = 9m$ دي.

2-2: د موقعیت او مکان بدلون

د اجسامو موقعیت او د مکان بدلون څنګه څیړلی شو؟ د یوه جسم د حرکت د وضعیت او څیړلو لپاره څه باید وکړو؟

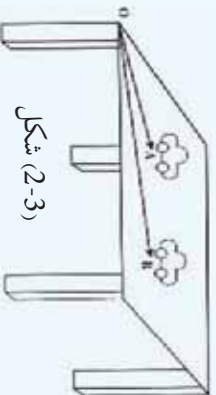
د دې لپاره چې د مکان بدلون تعریف کړای شئ، لاندې فعالیت ترسره کړئ:



فعالیت:

اړین مواد: د لوبې موټر کې (لابراتوارې) خط کش، میز

- 1- موټر د میز پرمخ په یو ټاکلي موقعیت کې کېږئ او فاصله یې د میز له یوې ځنډې څخه (مېدا) د خط کش په مرسته اندازه کړئ او د OA په وکتور کې ونښئ.
- 2- د شکل په څیر موټر کې له لومړني موقعیت څخه بیخپه او په یو بل موقعیت کې یې کېږئ او بیا وروسته دمیز له هغه ځنډې څخه چې په لومړۍ مرحله کې مو اندازه کړې دي (لومړنۍ مېدا)، د موټر دویم موقعیت د خط کش په مرسته اندازه کړئ او د OB په وکتور کې ونښئ.



شکل (2-3)

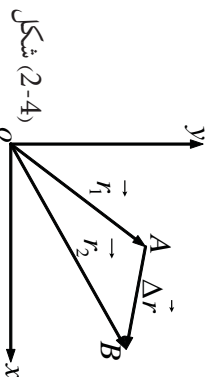
- اوس لاندې پوښتنوته ځواب وولئ:
1. ایا د موټر موقعیت په دواړو مرحلو کې یوښي (مساوی) وه؟
 2. موټر په کومه اندازه د موقعیت تغیر کړی؟
 3. د دواړو حالتونو ترمنځ څه شي په مشترکه توګه ونښئ؟ توضیح یې کړئ.
- په یقین سره هغه موټر چې د میز پرمخ حرکت کوي، د t_1 په لحظه کې د A په موقعیت کې او د t_2 په لحظه کې د B په موقعیت کې دی.
- پس د موټر موقعیت په دواړو مرحلو کې یوښي نه دی.

په پورتنۍ فعالیت کې، هغه مشترک عنصر چې د موټر A او B دوو موقعیتونو ترمنځ دی، عبارت له پیل یا مېدا څخه دی. د OA او OB وکتورونو تر موقعیت (مکان) د وکتورونو په ترتیب t_1 او t_2 په لحظو کې وایو. له پورتنۍ فعالیت څخه کېدای شي لاندې پایلونه ورسېږو:

1- د موقعیت وکتور، هغه وکتور دی چې د جسم موقعیت په هره لحظه کې ټاکي، چې د دې وکتور پیل، درضعیه کمیټونو مېدا او انجام یې د جسم موقعیت دی او په معمول ډول یې د r په توری ښيي.

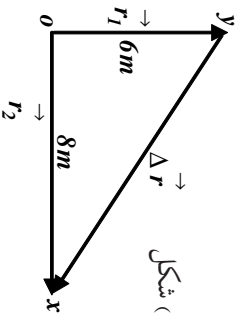
2- د یوه متحرک د موقعیت تغیر د t_1 او t_2 په دوه لحظو کې، هغه وکتور دی چې پیل یې د متحرک موقعیت د t_1 په لحظه کې او انجام یې د متحرک موقعیت د t_2 په لحظه کې وي.

له پخوا څخه پوهیږو چې په لاندې شکل کې د AB وکتور، د OB او OA دوو وکتورونو له تفاضل څخه عبارت دی یعنې: $\vec{\Delta r} = \vec{r}_2 - \vec{r}_1$



شکل (2-4)

مثال: د یوه متحرک موقعیت د t_1 او t_2 په دوو لحظو کې په ترتیب سره r_1 او r_2 دی. که چیرې د هر وکتور اندازه په ترتیب سره $6m$ او $8m$ او دهغو ترمنځ زاویه 90° وي، د مکان تغیر اندازه د دې دوو لحظو ترمنځ څومره ده؟

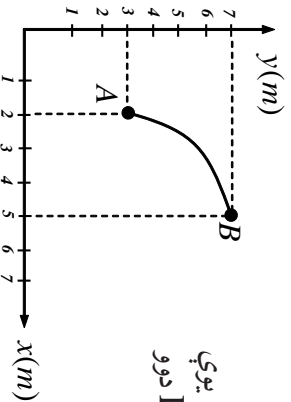


شکل (2-5)

حل: د O شکل په پام کې نیولو سره د موقعیت د تغیر وکتور، یعنې Δr عبارت دی، دقايم الزاويه مثلث له وتر څخه چې ضلعي يې $6m$ او $8m$ دي، له دې کبله د مکان د موقعیت تغیر برابر دی له:

$$\Delta r = \sqrt{6^2 + 8^2} = \sqrt{36 + 64} = \sqrt{100m^2} = 10m$$

تمرین: په لاندې شکل کې د یو متحرک مسیر د AB د یوې منځني بړ مخ ښودل شوی دی. د مکان تغیر وکتور د A او B دوو نقطو ترمنځ رسم کړئ او قیمت یې لاس ته راوړئ.



2-3: منځنی (متوسط) سرعت

لکه څنګه چې د نهم ټولګي په فزیک کې مولوستی و، یو متحرک جسم د مختلفو عواملو له کبله نشي کولای مساوي واټنونه (فاصلې) په مساوي وختونو کې ووهي. په دې حالت کې په مستقیم مسیر باندې د جسم حرکت د ځانګړتیاوو د بیانولو لپاره، دمنځني سرعت له اصطلاح څخه ګټه اخلو.

د منځني سرعت د اصطلاح د ښه درک لپاره، لاندې مثال ته پام وکړئ:

مثال: د (2-6) شکل د یو موټر موقعیت چې د حرکت په حال کې دی، په بېلابېلو وختونو کې راښيي.



شکل (2-6)

الف). د $t_1 - t_0$ او $t_2 - t_1$ د موقعیت د تغیر کچه د وخت له مخې پیدا کړئ.

ب). په ټاکلي وخت (انټروالونو) کې موټر په منځني توګه په هره ثانيه کې د موقعیت څومره تغیر کوي دی؟

حل: الف). د موقعیت تغیر په زماني انټروال کې مساوی دی له: $\Delta t = t_1 - t_0 = 10s$

سره او د موقعیت تغیر په $\Delta x = x_1 - x_0 = 120 - 50 = 70m$

کې مساوي دی له $\Delta x = x_2 - x_1 = 230 - 120 = 110m$ سره.

ب) په هر ټاکلي وخت کې د هغه د اړوندې وهل شوي فاصلي په ویشلو سره، معلومېږي چې متحرک په هر ه ثانیه کې موقعیت څومره تغیر کوي دی.

$$\frac{\Delta x}{\Delta t} = \frac{70}{10} = 7 \text{ m/s}$$

$$\frac{\Delta x}{\Delta t} = \frac{110}{50} = 2.2 \text{ m/s}$$

په دې توګه په یو زماني انټروال کې د مکان د تغیر په معلومولو سره کولای شو، په انټروال کې د هرې ثانيې د مکان د تغیر اوسط پیدا کړو، چې هغه ته په زماني انټروال کې متوسط سرعت وايي. منځني سرعت د \bar{v} په علامې ښیو او لرو چې:

$$\bar{v} = \frac{\Delta x}{\Delta t} \dots\dots\dots (2-1)$$

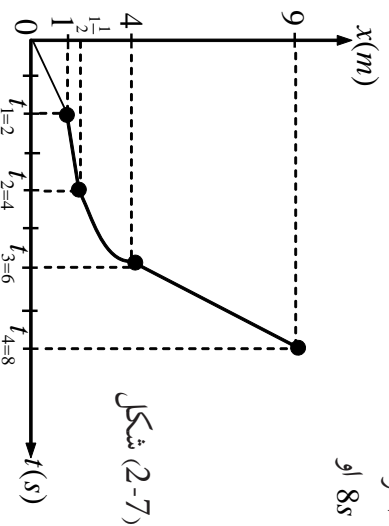
چې د SI په سیستم کې د متوسط سرعت د اندازه کولو واحد m/s دی. منځني سرعت وکتوري کمیت دی چې د مکان د تغیر له وکتور سره هم لوری دی.



اړين مواد: فيټه بې متر، زمان سنج (استاپ واچ)
ګڼلاره: له خپل يوه ټولګوال څخه وخواړی چې په ټولګي کې په يو مستقيم خط په لاره ولاړشي.
 وروسته تاسو به متر فاصله او د زمان سنج په مرسته د وخت په لاس راوړئ او په پايله کې دهغه د حرکت منځني سرعت حساب کوئ.

مثال: د (2-7) په شکل کې، د $(x-t)$ متحرک ګراف چې د مستقيم مسير پرمخ حرکت کوي، ښودل شوی دی.

- a- په يوه جدول کې هر زماني انټروال يعنې له صفر نه تر $2s$ ، $4s$ ، $6s$ ، $8s$ نه تر $2s$ ، $4s$ ، $6s$ ، $8s$ او
- د هر انټروال د مکان تغير وښیئ.
- b- په هر يو زماني انټروال کې د متحرک منځني سرعت څومره دی؟



د a جز حل: د Δx او Δt قیمتونه په لاندې جدول کې محاسبه شوي دي.

$\Delta x(m)$	$\Delta t(s)$
$x_1 - x_0 = 1 - 0 = 1$	$t_1 - t_0 = 2 - 0 = 2$
$x_2 - x_1 = 1.2 - 1 = 0.2$	$t_2 - t_1 = 4 - 2 = 2$
$x_3 - x_2 = 4 - 1.2 = 2.8$	$t_3 - t_2 = 6 - 4 = 2$
$x_4 - x_3 = 9 - 4 = 5$	$t_4 - t_3 = 8 - 6 = 2$

د b جزء حل:

$$\bar{V}_1 = \frac{\Delta x_1}{\Delta t_1} = \frac{1 \text{ m}}{2 \text{ s}}$$

$$\bar{V}_2 = \frac{\Delta x_2}{\Delta t_2} = \frac{0.2}{2} = \frac{1 \text{ m}}{10 \text{ s}}$$

$$\bar{V}_3 = \frac{\Delta x_3}{\Delta t_3} = \frac{2.8}{2} = 1.4 \text{ m/s}$$

$$\bar{V}_4 = \frac{\Delta x_4}{\Delta t_4} = \frac{5}{2} = 2.5 \text{ m/s}$$

نورین: د یوه جسم د حرکت معادله د SI په سیستم کې د $x = 2t^2 + 1$ له رابطې سره ورکړ شوې ده. منځنۍ سرعت یې په لاندې زماني انټروالونو کې،

(a) له 1 نه تر 2 ثانیو،

(b) له 1 نه تر 1.1 ثانیې،

(c) له 1 نه تر 1.01 ثانیې او

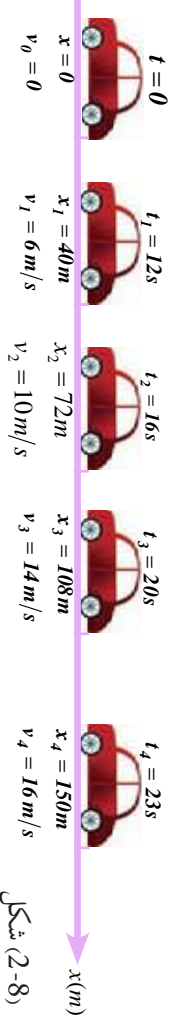
(d) له 1 نه تر 1.001 ثانیو پیدا کړئ.

لحظوي سرعت

لحظوي سرعت څه شی دی؟ د منځني او لحظه يي سرعت ترمنځ کوم توپير شتون لري؟ کله چې يو موټر د حرکت په حال کې وي، که سرعت سنج ته يې وگورو، و به لېدل شي، چې د سرعت سنج ستن په هره لحظه کې يوه ټاکلې اندازه را ښيي. کله چې د موټر سرعت زيات شي، ستن ډېره اندازه راښيي.

د منځني سرعت او لحظه يي سرعت ترمنځ اړيکه څه شی ده؟ دې پوښتنې ته د ځواب ورکولو لپاره لاندې مثال ته پام وکړئ:

مثال: په (2-8) شکل کې چې يو موټر په مستقيم مسير کې د حرکت په حال کې دی، په بيلا بيلو وختونو کې يې سرعت بلون مومي. هغه موقعيت او فاصلي چې د موټر سرعت سنج د $0s, 12s, 16s, 20s, 23s$ په لحظو کې ښيي، په شکل کې ښودل شوي دي.



شکل (2-8)

الف) په يو جدول کې $t_1 - t_1$ ، $t_3 - t_1$ او $t_4 - t_1$ زماني انټروالونه، د موقعيتونو تغير او منځني سرعتونه وليکئ.

ب) په کوم زماني انټروال کې، منځني سرعت د هغه سرعت له کچې سره نژدې دی، چې د موټر سرعت سنج يې د t_1 په لحظه کې ښيي. حل: الف)

$\Delta t(s)$	$\Delta x(m)$	$\bar{v} = \frac{\Delta x}{\Delta t} (m/s)$
$t_4 - t_1 = 23 - 12 = 11$	$x_4 - x_1 = 150 - 40 = 110$	10
$t_3 - t_1 = 20 - 12 = 8$	$x_3 - x_1 = 108 - 40 = 68$	8.5
$t_2 - t_1 = 16 - 12 = 4$	$x_2 - x_1 = 72 - 40 = 32$	8

ب) لکه چي په جدول کي لیدل کیږي د $t_1 - t_2$ په زماني انټروال کي منځني سرعت، د $t_1 - t_3$ او $t_1 - t_4$ له انټروالونو څخه لږ دی.

د (ب) د برخي د ځوابونو له پرتله کولو څخه کیدای شي پایله تر لاسه کړو چې: هر څومره چي زماني انټروالونه کوچني وي، منځني سرعت به له هغه سرعت سره نژدې وي چي د موټر سرعت سنج يې ښيي.

منځني سرعت په هغه حدکي چي دوخت انټروال ډېر کمېږي، د لحظه يي سرعت په نامه یادېږي، په منځني سرعت په هغه حدکي چي دوخت انټروال ډېر کمېږي، د لحظه يي سرعت په نامه یادېږي، په ډېره دقیقه توگه ویلای شو: کله چي t_1 او t_2 ته نژدې کیږي يعني د Δt قیمت صفر ته تقرب کوي، د $\bar{V}_x = \frac{\Delta x}{\Delta t}$ نسبت، د جسم لحظه يي سرعت د t_1 په زمان کي رانښيي، لیکلای شو چي لحظه يي سرعت د منځني سرعت له لیمت څخه عبارت دی، کله چي Δt د صفر په لور تقرب وکړي يعني:

$$V_x = \lim_{\Delta t \rightarrow 0} \frac{\Delta x}{\Delta t} \dots \dots \dots (2-2)$$

څېړنه وکړئ:

په دې هکله چي څنگه کولای شو د $(x-t)$ له گراف څخه په گڼې اخیستلو سره، د یوه متحرک لحظه يي سرعت په لاس راوړو، د جلا او ځانگړو ډلو په توگه پلټنه وکړئ او پایلې يې وړاندې کړئ.

2-4: د موقعیت - زمان گراف $(x-t)$

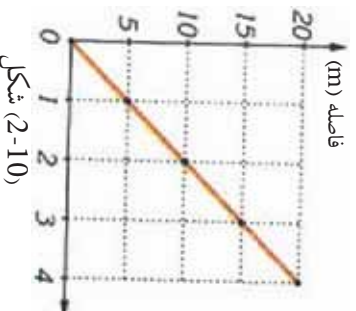
هغه موټر په نظرکي ونیسئ چي په ترتیب سره د $5s, t_4 = 4s, t_3 = 3s, t_2 = 2s, t_1 = 1s$ په زماني انټروالونو کي، د لاندې شکل (2-9) په څیر په $5m, x_1 = 5m, x_2 = 10m, x_3 = 15m, x_4 = 20m$ موقعیتونه غوره کوي.



شکل (2-9)

د دې متحرک (موټر) د حرکت د موقعیت څرگندولو لپاره له کوم ډول گراف څخه باید گټه واخلو، تر څو وکولای شي په مختلفو وختونو کي، د جسم موقعیت په ښه توگه وښيي؟ د موقعیت زمان $(x-t)$ له گراف څخه کار اخیستل به د دې پوښتنې ځواب وي. په ډېرو مواردو کي د دې گراف رسم د حرکت دڅیړلو لپاره مناسب دي.

د دې گراف د رسمولو لپاره، معمولاً وخت (t) د افقي محور پرمخ او موقعیت (x) د قائم محور پرمخ ټاکو. په پایله کي د نوموړي موټر لپاره به د $(x-t)$ گراف په لاندې توگه وي:



شکل (2-10)

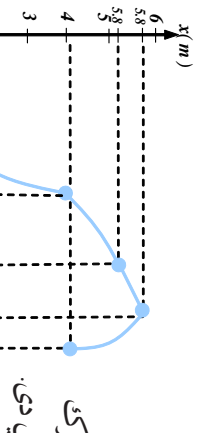
لاکه څنگه چې په گراف کې لیدل کېږي، متحرک (موټر) په هره ثانيه کې، مساوي واټونه وهي. له دې گراف څخه په گټې اخیستلو سره په اسانۍ سره موندلای شو چې متحرک په هره لحظه کې په کوم موقعیت کې اوسي، د مکان تغیرې د دواړو لحظو ترمنځ څومره دی. د مثال په توگه په گراف کې لیدل کېږي چې متحرک د $t_2 = 2s$ په لحظه کې د میلا په لس متري کې دی یا د $\Delta t = 1s$ په انټروال کې یې د مکان تغیر $\Delta x = 5m$ دی. ددې ډول گراف دیني پېژندنې لپاره، لاندې فعالیت په ډله ییزه توگه پخپل ټولگي کې عملي کوئ.

فعالیت:



لاندې جدول د متحرک جسم واین تر میلا پورې په ورکړل شویو لحظو کې ښيي د متحرک د $(x-t)$ گراف رسم کوئ

$t(s)$	0	1	2	3	4	5
$x(m)$	0	1.5	3	5.5	8	11.5



تمرین: د لاندې شکل د $(x-t)$ په گراف کې یو متحرک چې د مستقیم خط پر مخ په حرکت کې دی، ښودل شوي دی.

الف: د $t_0 - t_1$ ، $t_1 - t_2$ او $t_2 - t_3$ په زماني انټروالونو کې، د متحرک د موقعیت تغیر څومره دی؟

ب: د متحرک ډېر اعظمي واین تر میلا پورې څومره دی اومتحرک دوخت په کومه لحظه کې اوسی؟

ج: د t_4 نه تر t_5 زماني لحظه کې، د موقعیت تغیر څومره او په کوم لوري دی؟

2-5: تعجيل يا گړندښتوب

تعجيل يا گړندښتوب څه شی دی؟ د منځني تعجيل او لحظه يي يا وقفه يي تعجيل ترمنځ څه توپير دی؟

لکه څنگه چې تاسو پخوا د نهم ټولگي په فزيک کې لوستي دي، کله چې يو متحرک مساوي واټنونه په مساوي وختونو کې ونه وهي، دې ډول حرکت ته، تعجيلي حرکت وايي.

کله چې يو موټر د سکون له حالت څخه په حرکت پيل کوي، د موټر سرعت سنج بشپړي چې سرعت يې ورو ورو زياتيږي او برعکس د برک نيولو پر مهال، سرعت يې په تدريج سره کميږي، دا چې په پورتنيو دواړو حالتونو کې، د متحرک سرعت بدلون مومي، نو بيا پر دې د متحرک حرکت يو تعجيلي دی، نه يو رنگ. منځني تعجيل عبارت دی د في واحد وخت د سرعت له تغيير څخه، که چيرې د سرعت تغيير

Δt په زماني انټروال کې مساوي له Δv څخه وي، نو لرو چې: $\frac{\Delta v}{\Delta t} = \frac{v_2 - v_1}{t_2 - t_1}$ له پورتنۍ

معادلي څخه کولای شو، په اسانۍ سره د تعجيل واحد چې عبارت له $(\frac{m}{s^2})$ څخه دي، په لاس راوړو.

مثال: د يوه متحرک سرعت د $t_1 = 20s$ په لحظه کې مساوي دی له $10 m/s$ سره او د $t_2 = 45s$ په لحظه کې مساوي له $20 m/s$ سره دی.

منځني تعجيل يې د t_1, t_2 دوو لحظو ترمنځ څومره دی؟

حل:

$$\bar{a} = \frac{\Delta v}{\Delta t} \rightarrow a = \frac{20 - 10}{45 - 20} = \frac{10}{25} = 0.4 m/s^2$$

لحظوي تعجيل

په تعجيلي حرکت کې هم ولې شو چې متحرک په هره لحظه کې يو تعجيل لري چې د لحظه لرونکي په نامه يې نوموړ. لکه څنگه مو چې په لحظه يي سرعت کې وليدل، په دې ځای کې هم که د $\bar{a} = \frac{\Delta v}{\Delta t}$

په رابطه کې، Δt ډېر کوچنی شي، منځني تعجيل له لحظه يي سره ډېر نژدې کيږي، اوس کولای شو لحظه يي تعجيل د لحظه يي سرعت په څېر په ډېر دقيق ډول تعريف کړو:

لحظه يي تعجيل د منځني تعجيل له ليمت څخه عبارت دی، کله چې Δt د صفر په لور تقرب وکړي.

که چيرې لحظه يي تعجيل په a_x وښيو، د پورتنيو تعريفونو پر بنسټ ليکلای شو:

$$a_x = \lim_{\Delta t \rightarrow 0} \frac{\Delta v_x}{\Delta t} \dots \dots \dots (2-4)$$

د سرعت- زمان گراف $(v-t)$

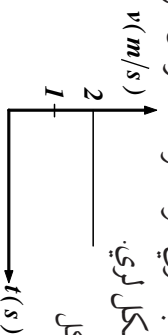
لکه چې تر مخه مو مطالعه کړه، د مکان - زمان گراف $(x-t)$ ، په مرسته کولای شو، د جسم د حرکت په هکله داسې معلومات لکه سرعت یا متحرک مکان او د هغه د منځني (متوسط سرعت) په باب، په همدې ډول د سرعت - زمان $(v-t)$ له گراف څخه کولای شو، د جسم د حرکت په اړه معلومات لاس ته راوړو.

د سرعت- زمان $(v-t)$ گراف د ترسیم لپاره د کمیه مختصاتو په سیستم کې، د Y لایم محور د سرعت - او د X افقي محور د زمان یا وخت لپاره ټاکو او هماغه ترتیب چې مو د زمان موقعیت $(x-t)$ گراف په هکله کړنه تر سره کړې وه، د آگراف هم همسې رسموو.

مثال: یو متحرک له ثابت سرعت سره د یو مستقیم مسیر پرمخ حرکت کوي. د $t_1 = 2s$ په لحظه کې په 5 متري واټن کې او د $t_2 = 12s$ په لحظه کې، له مبدا څخه په 25 متري واټن کې موقعیت لري، د $(v-t)$ گراف یې رسم کړئ.

حل: د ثابت سرعت په حرکت کې کولای شو ولیکو: $v = \frac{\Delta x}{\Delta t} = \frac{25-5}{12-2} = \frac{20}{10} = 2 \text{ m/s}$

خړنگه چې په یوه نواخت حرکت کې سرعت ثابت وي، نو د سرعت - زمان گراف $v-t$ د زمان یا وخت له محور سره موازي د یو مستقیم خط شکل لري.



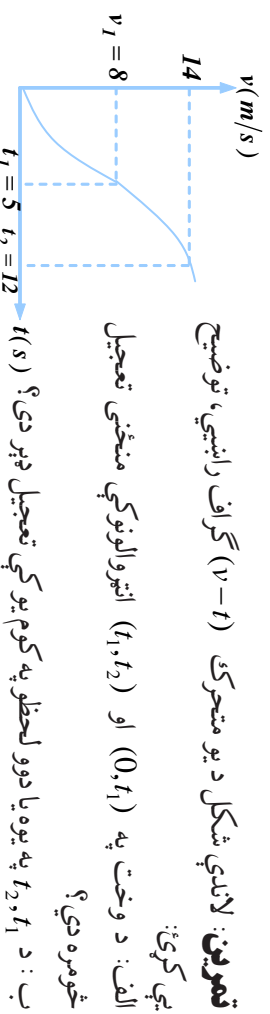
شکل (2-11)

تمرین: په لاندې جدول کې د هغه متحرک سرعت چې د یو مستقیم خط پرمخ حرکت کوي، په څو زماني لحظو کې مشخص شوی دی. د $(v-t)$ گراف یې رسم کړئ.

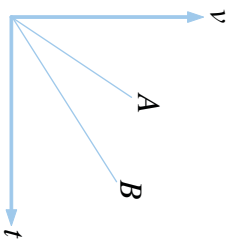
$t(s)$	0	0.5	2.5	1.5	2	3
$v(m/s)$	0	2	1	3.5	3.75	4

تمرین: لاندې شکل د یو متحرک $(v-t)$ گراف راښيي، توضیح یې کړئ:

الف: د وخت په $(0, t_1)$ او (t_1, t_2) انټروالونو کې منځنی تعجیل څومره دی؟



تمرین: د A ، B دوو متحرکو د $(v-t)$ گراف په لاندې شکل کې ورکړل شوی دی. د دې دوو متحرکو شتاب (نیټه) سره پر تله کوئ،



فعالیت:

ډاډنیار و سایل:

1. جریداره نڅته د لرگوله میلو سره، پرده له دوه متره اوږدوالی سره
2. د لرگیو مکعبونه $4cm$ په ضخامت سره
3. نښینه یې گولې، پافلزي ساچمې
4. زمان سنخ (کرونومتر)
5. فیته یې متر



شکل (2-12)

ګولاره:

له (2-12) شکل سره سم د پردې د لرگي د مېلې یو سر د لرگیو پر یوه مکعب کېږئ. یوه نښینه یې گولوله د مېلې د هغه بل سر چې پر مکعب هوښتی، له نیم مترۍ څخه یې خوشې کوئ او په دې لحظه کې کرونومتر په کار واچوئ. کولای شې هغه لحظه گوله پر مکعب (د مسير پر پلې) لگېږي، کرونومتر ودرؤئ. آزمایننت د $1.5m$ او $2m$ فاصلو لپاره تکرار کوئ. پایله په لاندې جدول کې ولیکئ او د له مخې گراف رسم کوئ. ازمايل شوي پایله تجزيه او تحليل کوئ.

خوځلي	طول په متر	t وخت په ثانيه	t^2	$\frac{x}{t^2}$
1	0.5			
2	1			
3	1.5			
4	2			

2-6: یو ډوله (متشابه) حرکت

که چېرې د یوه متحرک جسم لحظه یي سرعت چې پرمستقیم مسیر حرکت کوي، په ټولو لحظو کې یو شان وي، حرکت یې یو نواخته نومه یري، په دې ډول حرکت کې د (موقعیت- زمان) گراف، یو مستقیم خط دی او د دوو لحظو ترمنځ د منځني سرعت په پایله کې له لحظه یي سرعت سره مساوي کېږي او له دې امله کولای شو ولیکو چې:

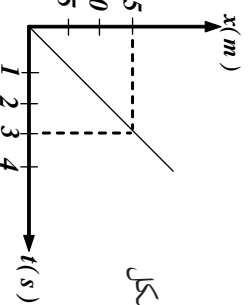
$$\bar{v} = v \Rightarrow v = \frac{\Delta x}{\Delta t} \Rightarrow \Delta x = v \cdot \Delta t$$

که چېرې د متحرک جسم واټن تر مېلې پورې د $t = 0$ په لحظه کې له او واټن یې تر مېلې پورې د t په لحظه کې له X سره برابر وي، په هغه صورت کې $(0 = v(t - x_0) + x_0)$ اویا $(2-5)$ $x = vt + x_0, \dots$ پورتنۍ معادله د یوه نواخت حرکت له معادلي څخه عبارت دی چې په هغې کې X تر مېلې پورې واټن دی، د متر برېښنه، v لحظه یي سرعت دی د متر ثانيې برېښنه، t_1 وخت د ثانيې برېښنه او x_0 د صفر په لحظه کې تر مېلې پورې واټن د متر برېښنه دی.

هغه څه ته په پاملرنې چې مخکې وویل شو، بیا یې د جسم موقعیت مثبت او یا منفي وي. سرعت هم که چېرې د X یا v له محور سره هم لوری وي مثبت او له هغه پرته منفي دی. په یو نواخت حرکت کې، د موقعیت- زمان گراف $(x-t)$ یو مستقیم خط اوبه پایله کې د دوو لحظو ترمنځ منځنی سرعت، له لحظه یي سرعت سره مساوي کېږي.

مثال:

د (2-13) شکل د $(x-t)$ یو متحرک گراف رابیني چې د یو مستقیم خط پرمخ حرکت کوي.



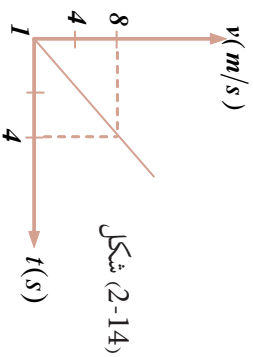
شکل (2-13)

الف: ایا ددې حرکت سرعت ثابت دی؟ د سرعت کچه څومره ده؟

ب: د صفر په لحظه کې یې له مېلې څخه واټن او د حرکت او مکان د تغیر معادله یې د $t_1 = 2s$ او $t_2 = 5s$ دوو لحظو ترمنځ په لاس راوړئ.

حل: الف: څرنگه چې د $(x-t)$ گراف یو مستقیم خط دی، نو د جسم حرکت عبارت له یو نواخت حرکت څخه دی او د گراف میل د متحرک له سرعت سره برابر دی. شکل ته په پام کولو سره، د گراف میل $5 = \frac{15}{3}$ دی، نو $v = 5 \frac{m}{s}$ سره دی.

خزنگه چي تعجيل ثابت دی، د $(v-t)$ گراف يو مستقيم خط دی. نوڅکه د رسمولو لپاره يې د گراف دوي نقطې کافي دي.



شکل (2-14)

$t(s)$	0	4
$v(m/s)$	0	8

تمرین: د یوه متحرک سرعت $4s = t_1$ په لحظه کې برابر له $5m/s$ او سرعت یې د $12s = t_2$ په لحظه کې $1m/s$ دی. په هغه حالت کې چې تعجيل ثابت وي، سرعت یې د $t_0 = 0$ په لحظه کې پیل کړئ او د $(v-t)$ گراف یې رسم کړئ.

له ثابت شتاب سره په مستقيم الخط حرکت کې د $(x-t)$ معادله

د $\bar{v} = \frac{\Delta x}{\Delta t}$ او $\bar{v} = \frac{v_1 + v_2}{2}$ رابطو پر بنسټ د ثابت تعجيل په حرکت کې لیکلې شوچې:

$$\bar{v} = \frac{\Delta x}{\Delta t} = \frac{v_1 + v_2}{2}$$

$$\Delta x = \frac{v_1 + v_2}{2} \cdot \Delta t$$

په دې رابطه کې، Δx د موقعیت تغیر د Δt په زماني انټروال کې، v_1 سرعت د t_1 په لحظه کې v_2 سرعت د t_2 په لحظه کې دی. که چېرې $t_1 = 0$ او $t_2 = t$ په دې لحظو کې د متحرک سرعت په ترتیب سره v_0 او v د متحرک موقعیت په دې لحظو کې x_0 او x وي، په دې صورت کې:

چې:

$$x - x_0 = \frac{v + v_0}{2} t$$

خزنگه چې:

$$v = at + v_0$$

$$x - x_0 = \frac{at + v_0 + v_0}{2} t$$

د v قیمت په وضع کولو سره لرو:

$$x = \frac{1}{2} at^2 + v_0 t + x_0 \dots \dots \dots (2-8)$$

په پایله کې:

$(x-t)$ د معادلي وروستی، رابطه له ثابت تعجيل سره پر مستقيم خط حرکت افاده کوي. که چيري د $x = at + v_0$ له رابطي څخه وخت (زمان) په لاس راوړو او په دې معادله کې يې کيرجو، په پايله کې به د موقعيت او سرعت رابطه په لاس راوړو چې له وخت او زمان څخه مستقله دي يعنې:

$$t = \frac{v-v_0}{a} \Rightarrow x = \frac{1}{2} a \left(\frac{v-v_0}{a} \right)^2 + v_0 \left(\frac{v-v_0}{a} \right) + x_0$$

$$v^2 - v_0^2 = 2a(x - x_0) \dots \dots \dots (2-9)$$

ساده کولو سره لرو:

مثال: يو متحرک له $\frac{1}{2} m/s^2$ ثابت تعجيل سره د سکون له حالت څخه د يو مستقيم خط پرمخ په حرکت پيل کوي، د متحرک د موقعيت تغيير او د هغه سرعت وروسته له $25m$ په لاس راوړي.

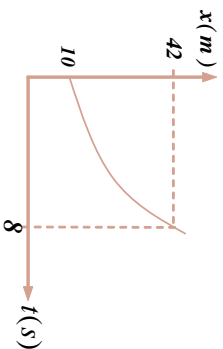
حل:

$$v^2 - v_0^2 = 2a(x - x_0)$$

$$v^2 - 0 = 2 \times \frac{1}{2} (25 - 0)$$

$$v = 5 \frac{m}{s}$$

تمرين: لاندي شکل د $(x-t)$ د متحرک گراف دی چې په ثابت تعجيل سره دمستقيم خط پرمخ په حرکت کوي. فرض کړئ که $v_0 = 2m/s$ وي، د $(x-t)$ گراف رسم کړئ.



2-7. ازاد سقوط د جاذبي ساحي مفهوم

ايا تر اوسه مو له کومې ونې مني ټولې کړېدې؟ ولې کله چې مڼه ستاسوله لاسه خوشي شي، مخ په کښته (ځمکې ته) لوړېږي؟ ستاسو په نظر د ځمکې پر سطحې د مني د لويدلو لامل څه شی دی؟ د اجسامو د ازاد سقوط ښکارنده د رياضي په ژبه څنگه بيانولی شو؟ دا ټولې هغه پوښتنې دي چې تاسو به ورته ددې لوست په پای کې ځواب ورکړئ.

د دې لپاره چې د اجسامو د ازاد سقوط ښکارنده په ښه ډول درک کړئ، لاندي فعاليت تر سره کړئ.

فمايلت:



د کاغذ يوه پاڼه چې کلکه شوي نه وي (خلاصه پاڼه) او يوه ډانه سکه راواخلي او په يوه وخت کې يې له ټاکلي ارتفاع څخه خوشې کړئ؛ په دويمه مرحله کې د کاغذ هماغه پاڼه کلکه (کوله) کړئ او له سکه سره يې يوځای له همغې ارتفاع څخه خوشې کړئ او په دريمه پلا دورې سکه له همغه ارتفاع څخه خوشې کړئ او د ځمکې سطحې ته يې د رسيدو پر څرنگوالي د خپلې ډلې له غړو سره بحث وکړئ او پایله يې په ټولگي کې وړاندې کړئ.

په پای کې لاندې پوښتنو ته ځوابونه وولئ:

۱. ايا د کاغذ پاڼه اوسکه په يوه وخت ځمکې ته ورسيدل؟
۲. ايا د کاغذ دواړه پلټي په يوه وخت ځمکې ته ورسيدلي؟
۳. کم لامل د دې سبب شوی چې د کاغذ پاڼه اوسکه د ځمکې په لور لږېږي.



ازاد سقوط، له ثابت تعجيل سره د حرکت يوه طبيعي بيلگه ده. په دې ډول حرکت کې د حرکت مسير مستقيم دی، او د سقوط پرمهال پر جسم يوازې نه واده قوه همغه د جسم وزن دی. که چېرې يوه سکه يوه پاڼه په يوه وخت له يوې ارتفاع څخه د ځمکې په لور خوشې کړو، په يوه وخت ځمکې ته نه رسېږي. خو که چېرې همدا تجربه په خلاکې تر سره کړو، سکه او پاڼه په يوه وخت ځمکې ته رسېږي. د بيلگې په توگه په خلاکې د يوحسوم سقوط او يا د يوې وړې فلزي گلولې سقوط په هراکې (په يوه مناسب تعريف سره) کولای شو چې سقوط يې فرض کړو.

(2-15) شکل د يوې ساچمې حرکت د ازاد سقوط پر مهال راښيي چې متوالي زمانو (وقفو) $\Delta t = 1/30\text{ s}$ کې ورڅخه تصويرونه اخستل شوي دي. ښايردې که چېرې د هوا له مقاومت څخه ورتير شو (صرف نظر وکړو)، ټول جسمونه له سطحې سره په نژدېوالي کې له ثابت تعجيل سره سقوط کوي. چې په دا همغه د ځمکې د جاذبې تعجيل دی چې د g په توري ښودل کېږي. د g له تعجيل سره حرکت ته ازاد سقوط وايي چې د دې تعجيل لورې تل مخ په کښته (د ځمکې مرکز) په لور دي.

د جغرافيه يي عرض البلد له مخې د g د تعجيل کچه، يو څه تغير کوي او د ځمکې له سطحې څخه د ارتفاع په زياتيدو، کمېږي. د دې تعجيل کچه د ځمکې د سطحې په نږدې کې 9.8 m/s^2 ته نژدې دی، نوکله ټاکله د محاسبي د اسانتيا لپاره، $g = 10\text{ m/s}^2$ سره فرض کېږي.



شکل (2-15)

په آزاد سقوط کې د حرکت او سرعت معادلي، همغه له ثابت تعجيل سره د حرکت معادلي دي. په آزاد سقوط کې، د مکان تغير د قايم په اوزدوکې دی، د متحرک موقعيت معمولا په y يا h ښودل کېږي او د حرکت مبدا همغه نقطه ده چې سقوط ورڅخه پيل کېږي.

که چېرې مثبت لوری مخ په کښته وټاکو، د حرکت او سرعت معادله به په لاندي ډول وي:

$$d \text{ حرکت معادله} \quad (2-10) \quad v = \frac{1}{2}gt^2 + v_0t \dots\dots\dots$$

$$d \text{ سرعت معادله} \quad (2-11) \quad v = gt + v_0 \dots\dots\dots$$

څرنگه چې په آزاد سقوط کې تل لومړنی سرعت v_0 مساوي له صفر سره وي، نو د (2-10) او

$$(2-11) \quad \text{رابطې په لاندي توگه ليکل کېږي:} \quad (2-12) \quad y = \frac{1}{2}gt^2 \dots\dots\dots$$

$$(2-13) \quad \dots\dots\dots v = gt$$

د ځمکې يوه ټاکلې نقطه د ټولر جسمونو لپاره يوشی دی خو قيمت د ځمکې د سطحې په مختلفو نقطو کې توپير لري.

$$t = \sqrt{\frac{2y}{g}} \dots\dots\dots (2-14) \quad \text{اوس له (2-12) معادلي څخه } t \text{ په لاس راوړو،}$$

په (2-13) رابطه کې يې ږدو.

$$v = g \left(\sqrt{\frac{2y}{g}} \right) = \sqrt{g^2} \times \left(\frac{\sqrt{2y}}{\sqrt{g}} \right)$$

$$v = \sqrt{2g \cdot y} \quad \dots\dots\dots (2-15)$$

له اخرنی رابطې څخه کولای شو د سقوط کوزونکي جسم سرعت له دې وروسته چې د فاصله ووهي، پيدا کړو.

مثال: يوه کوچنی تيره د ځمکې له 4.9 متري ارتفاع څخه راخوښې کېږي.

الف: پس له خو ثانيو څخه ځمکې ته رسېږي؟

ب: ځمکې ته د رسيدو په وخت کې يې سرعت څو مره دی؟ ($g = 9.8 \text{ m/s}^2$ فرض شي)

$$\text{حل: الف) } v_0 = 0, \quad y = \frac{1}{2}gt^2$$

$$4.9 = \frac{1}{2} \times 9.8 \cdot t^2 \Rightarrow t^2 = \frac{9.8}{9.8} \Rightarrow t = 1 \text{ s}$$

تيره پس له يوې ثانيې څخه ځمکې ته رسېږي.

ب) ($v = 9.8 \times 1 = 9.8 \text{ m/s}$) د ځمکې ته د رسيدو پرمهال د تيرې سرعت 9.8 m/s دی.

تمرین:

د A او B دوه جسمونه په ترتیب سره له 20 متری او 45 متری ارتفاع څخه د ځمکې پر مخ پر ته له لومړنۍ سرعت څخه په ازاده توګه رالوړېږي. د هر یو د سقوط وخت څومره دی؟ او د B جسم څو ثانيې د A له جسم څخه مخکې یا وروسته ځمکې ته رسېږي، د هر یو سرعت څمکې ته د رسېدو په لحظه کې څومره دی؟ ($g = 10 \text{ m/s}^2$ فرض شي)



د دویم څپرکي لنډیز

• د موقعیت وکتور، هغه وکتور دی چې د جسم موقعیت په هره لحظه کې مشخص کوي. د دې وکتور بیل، د وضعیه کمیټونو مبداء او پای (انجام) یې د جسم موقعیت دی او د m په توريښودل کېږي.

• د یو متحرک د موقعیت تغیر t_1 او t_2 د دوو شیبو (لحظو) تر منځ له هغه وکتور څخه عبارت دی چې پیل یې د متحرک موقعیت د t_1 په لحظه کې او انجام یې د متحرک موقعیت د t_2 په لحظه کې دی.

- د موقعیت او د موقعیت د تغیر د اندازه کولو واحد د SI په سیستم کې عبارت له (m) څخه دی.
- منځنی سرعت (V_{av}) په یوه وخت کې د موقعیت له بدلون څخه عبارت دی یا $V_{av} = \frac{\Delta x}{\Delta t} = \frac{x_2 - x_1}{t_2 - t_1}$
- د $(x-t)$ په ګراف کې، د دوو نقطو ترمنځ منځنی سرعت د میل له دوو نقطو څخه عبارت دی چې د یوه قطعه خط په مرسته یو له بل سره وصل شوی وي.
- د سرعت د اندازه کولو واحد په SI سیستم کې له m/s څخه عبارت دی.
- لحظه یي سرعت د منځني سرعت له لیمت څخه عبارت دی، کله چې Δt د صفر ځوانه نژدې شي، یعنې: $V_x = \lim_{\Delta t \rightarrow 0} \frac{\Delta x}{\Delta t}$
- لحظه یي سرعت کېدای شي مثبت، منفي او یا صفروي.
- د $(x-t)$ په ګراف کې، لحظه یي سرعت د t په زمان کې د قطعه خط له میل (تانجانت) څخه عبارت دی.

• منځنی د وخت په یوه واحد کې د سرعت له بدلون څخه عبارت دی. که چېرې د سرعت تغیر د Δv په زمانې انټروال کې له Δt سره برابر وي، لرو چې:

$$\bar{a} = \frac{\Delta v}{\Delta t} = \frac{v_2 - v_1}{t_2 - t_1}$$

• منځني تعجيل په هغه صورت کي مثبت دی چي $v_1 > v_2$ څخه او کېدای شي منفي وي که چيري $v_2 < v_1$ څخه وي او صفر هغه وخت وي کله چي $v_1 = v_2$ سره وي.

• لحظه يي تعجيل د منځني تعجيل له ليمت څخه عبارت دی، کله چي Δt صفر ته تقرب وکړي

$$a_x = \lim_{\Delta t \rightarrow 0} \frac{\Delta v_x}{\Delta t}$$

بمعني:

• لحظوي سرعت کېدای شي مثبت منفي او يا صفر قيمتونه هم اختيار کړي.

• کله چي تعجيل ثابت وي، په هغه صورت کې به لحظوي تعجيل له منځني تعجيل سره مساوي وي.

• د $(t - t_0)$ په گراف کې، لحظوي تعجيل د قطعه خطه له ميل (تانجانت) څخه د t په ځانگړي زمان کې عبارت دی.

• د تعجيل د اندازه کولو واحد د (SI) په نړيوال سيستم کې عبارت له متر بر ثانيه مربع (m/s^2) څخه دی.

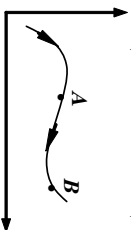
• د حرکت مختلفي معادلي شتون لري چي د اجسامو حرکت له ثابت تعجيل سره پري څيړلی شو. د حرکت هره معادله د مختلفو توپيرونو لرونکي وي. لکه: سرعت د وخت د تابع په نوم د $v = v_0 + at$

$$\text{منځني سرعت} = \frac{v_0 + at}{2}$$

• موقعيت د وخت t او شتاب w د تابع په عنوان $x = \frac{1}{2}at^2 + v_0t + x_0$ کله چي سرعت د وخت له تابعيت څخه ازاد خو د موقعيت تابع وي نو: $v^2 - v_0^2 = 2ax$

د دویم څپرکي پوښتني

- 1 - د موقعیت (مکان) وکتور تعریف کړئ
 - 2 - t_2, t_1 دوو لحظو ترمنځ د مکان د بدلون وکتور تعریف کړئ
 - 3 - په لاندې شکل کې د یوه جسم د حرکت مسیر مشاهده کړئ متحرک د t_1 په لحظه کې د A په مکان او د t_2 په لحظه کې د B په مکان کې اوسې.
- د جسم موقعیت د t_1 او t_2 په لحظو کې رسم کړئ او د جسم د موقعیت د تغییر وکتور مشخص کړئ.



- 4 - a: یو موټر په یو دایروي مسیر کې د ۱۰۰ مترو په شعاع حرکت کوي. هغه واټن چې موټر نیمه دوره وهي، څو متره دی؟ د موټر د مسیر شکل رسم کړئ او د موقعیت د بدلون وکتور د شکل پرمنځ مشخص کړئ او اندازه یې په لاس راوړئ.
- b: د موټر د موقعیت تغییر د دایروي مسیر په څلورمه برخه کې لاسته راوړئ؟
- c: د موټر د موقعیت تغییر په یوه بشپړه دوره کې څومره دی؟
- 5 - په کوم صورت کې د موقعیت وکتورونه او د موقعیت د بدلون وکتورونه سره هم لوري دي؟
- 6 - یو متحرک چې د مستقیم خط پرمنځ حرکت کوي، د t_1 په لحظه کې د $6m = x_1$ په مکان کې او د t_2 په لحظه کې د $7m = x_2$ په مکان کې دي. د جسم د موقعیت کچه د t_1 او t_2 دوو لحظو ترمنځ محاسبه کړئ.
- 7 - د $x - t$ د مکان- زمان گراف څه شي دی؟
- 8 - د منځني سرعت او لحظوي سرعت ترمنځ توپیر څه شی دی او په کوم حالت کې دواړه سرستونه سره مساوي دي؟
- 9 - یو ډبرور د دوو ښارونو ترمنځ فاصله په لاندې توگه وهي:
 - په پیل کې د یو ساعت لپاره له $15m/s$ منځني سرعت سره بې ډبروري کړي او ترهغې وروسته د 10 دقیقو لپاره ډبرېږي. بیا له $20m/s$ منځني سرعت سره د 30 دقیقو لپاره ډبروري. ته دوام ورکوي او پاتې واټن د ساعت په څلورمه موده کې په منځني سرعت $12m/s$ ډبروري کوي.
- a - د دوو ښارو ترمنځ واټن څو کیلو متره دی؟
- b - منځني سرعت یې په ټول مسیر کې څو کیلو متره پر ساعت دی؟
- c - منځني سرعت یې د ډبرورۍ د ټولې مودې په اوږدو کې څومره دی؟

10- د یو موټر سرعت د 20 ثانویو په موده کې د یو مستقیم مسیر پر مخ له 10 m/s څخه تر 18 m/s پورې رسېږي.

a- د موټر منځنی تعجیل په دې موده کې څومره دی؟

b- که چیرې د موټر سرعت له همدې تعجیل سره تغیر وکړي، وروسته له څومره مودې به یې سرعت 18 m/s ته ورسېږي؟

11- د یوې فضايي بېړۍ سرعت له 30 ثانوي حرکت وروسته 1200 km/h ته رسېږي. منځنی تعجیل یې څومره دی؟ دا تعجیل د $g = 9.8 \text{ m/s}^2$ څو برابره دی؟

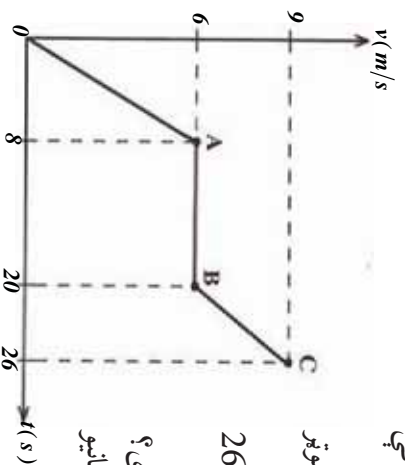
12- یو موټر په یو مستقیم مسیر کې له ثابت تعجیل سره په حرکت پیل کوي او پس له 20 ثانویو څخه یې سرعت 36 km/h ته رسېږي. بیا له همدې سرعت سره د 10 دقیقو لپاره خپل حرکت ته دوام ورکوي له هغې وروسته ډیر ژر برک نیسي او پس له 5 ثانویو څخه درېږي. که چیرې د برک کولو پر مهال تعجیل ثابت وي:

a- د سرعت لوری او د حرکت تعجیل په هر یو او کې معلوم کړئ.

b- د $(x-t)$ گراف د حرکت پیل له لحظې څخه د موټر درېدو تر لحظې پورې رسم کړئ.

13- لاندې شکل د یو متحرک د $(v-t)$ گراف په 26 ثانویو کې ښيي.

a- د OB ، AB ، BC هر یو پړاو نو تعجیل څومره دی؟
 b- په زمانې انټروال کې یې له صفر څخه تر 26 ثانویو منځنی تعجیل څومره دی؟



14- یوه ډبره په عمودي ډول مخ پورته خواته غورځول شوې او 10 ثانوي وخت ته اړتیا ده چې بیرته ځمکې ته را وگرځي. دا ډبره په څومره ارتفاع پورته ځي؟

15- د $x-t$ له گراف څخه په گټې اخیستلو سره منځنی سرعت څنګه ټاکي، د شکل په رسمولو سره یې بیان کړئ.

16- لحظوي سرعت تعریف او د SI په سیستم کې یې د اندازه کولو واحد ذکر کړئ.

17- د یوه مستقیم خط پر مخ یو ډوله (متشابه) حرکت تعریف او ددې حرکت معادله پیدا کړئ

18- یو جسم چې پر مستقیم خط حرکت کوي، د حرکت معادله یې د SI په سیستم کې $x = 2t + 3$ ده.

- a- له مېدا څخه د متحرک واټن د $t_1 = 1s$ او $t_2 = 4s$ په لحظو کې پېدا کړئ.
- b- د جسم د موقعیت تغیر د دوو لحظو ترمنځ $t_1 = 1s$ او $t_2 = 4s$ محاسبه کړئ.
- c- د متحرک سرعت څومره پر ثابتي دی؟
- 19- یو جسم د V په ثابت سرعت د یو مستقیم مسیر پر مخ حرکت کوي، که چېرې د $2s = t_1$ په لحظه کې واټن تر مېدا پورې 11 متره او $t_2 = 7s$ په لحظه کې یې واټن تر مېدا پورې 31 متره وي.
- a- د متحرک سرعت او تر مېدا پورې یې واټن د صفر ثابتي په لحظه کې څومره دی؟
- b- د $(x-t)$ رابطه یا د حرکت معادله ولیکئ.
- 20- د $(v-t)$ گراف څنگه رسمېږي؟
- 21- منځنی تعجیل تعریف او رابطه یې ولیکئ او د اندازه کولو واحد یې په SI سیستم کې ذکر کړئ.
- 22- یو متحرک چې د یو مستقیم مسیر پر مخ حرکت کوي، سرعت یې د $t_2 = 7s$ په لحظه کې $20 m/s$ او د $t_2 = 10s$ په لحظه کې $32 m/s$ سره مساوي دی، د متحرک منځنی تعجیل د t_1 او t_2 دوو لحظو ترمنځ حساب کړئ.
- 23- لحظه یي تعجیل په څه ډول $v-t$ گراف په مرسته ټاکي؟ د شکل له مخې یې توضیح کړئ.
- 24- یو جسم د ځمکې د سطحې له 520 متري ارتفاع څخه په لومړني $2 m/s$ سرعت په عمودي ډول د ځمکې پر مخ په کښته غورځول کېږي.
- a- د ځمکې سطحې ته د جسم د رسیدو وخت حساب کړي.
- b- د جسم سرعت ځمکې ته د رسیدو په وخت کې حساب کړئ.
- 25- د A او B دوه جسمونه په ترتیب سره له 500 متري او 320 متري ارتفاع څخه د ځمکې د سطحې په لور پرته له لومړني سرعت څخه خوشې کېږي.
- a- د A جسم څو ثابتي وروسته د B له جسم څخه د ځمکې سطحې ته رسېږي؟
- b- د هر یوه سرعت د ځمکې په سطحه کې محاسبه کړئ.
- 26- یوه کوچه چې گلوله له لورې و دانې څخه خوشې کېږي، کله چې د ځمکې پر مخ 40 متري ارتفاع ته رسېږي، سرعت یې $10 m/s$ کېږي.
- a- د جسم سرعت ځمکې ته د رسیدو په لحظه کې حساب کړئ.
- b- د ودانې ارتفاع پېدا کړئ.
- c- د گلولې منځنی سرعت د سقوط (په موده کې) وټاکئ.
- d- د $(x-t)$ گراف یې رسم کړئ.

دوریم څپرکی دوه بعدی حرکتونه

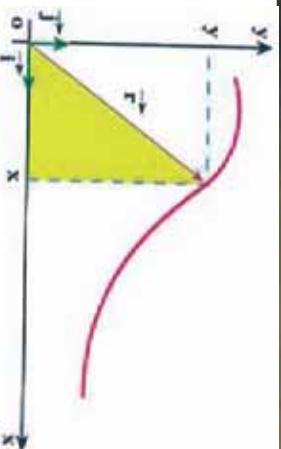
په مخکیني، څپرکي کې تر يوې اندازې په يوه بعد کې حرکت مطالعه کړ او د موقعيت، تغير د موقعيت، منځني سرعت او... کميتونو سره بلد شو، او يونواخت او له ثابت تعجيل سره حرکتونه مو د يوه مستقيم خط پر مخ وڅيرل. خو په دې باند يوه شو چې په ورځني ژوندانه کې تر هر څه ډېر له هغو حرکتونو سره مخامخ يو چې په دوو يا دريو بعدونو کې تر سره کېږي او د هغو څيرل موز ته ډېر اهميت لري.

ديوي سياري حرکت دلمر پر شاوخوا او يا د موټر حرکت د يوې لارې په گولايي کې او د يو توپ د غوښاري حرکت چې کله ويشل کېږي او... د دوه بعدی حرکت تحليل کړو؟ دوه بعدی حرکتونه څنگه د رياضي څه شي دي؟ څنگه کولاي شو دوه بعدی حرکتونه تحليل کړو؟ دوه بعدی حرکتونه څنگه د رياضي په ژبه بيانولي شو؟ له دوه بعدی حرکتونو څخه په ورځني ژوندانه کې څه گټه اخيستلاي شو؟ دا هغه پوښتني دي چې له تاسو څخه يې د څپرکي په پاڼي کې د ځوابونو توقع کېدای شي. مخکي مو وليدل چې د جسم موقعيت په يوه سطحه کې د \vec{r} په وکتور بنودل کېږي. دا وکتور کولاي شو په لاندي ډول وليکو:

$$\vec{r} = x\vec{i} + y\vec{j} \dots\dots\dots (3-1)$$

چې په دې کې \vec{i} او \vec{j} په ترتيب سره د واحد وکتورونو څخه عبارت دي چې د X او Y په لورو کې دي.

څرنگه چې د جسم د حرکت پر مهال، د مکان وکتور تغير کوي، د حرکت پر مهال د جسم د مکان د تشخيصولو لپاره کافي ده چې د X او Y مرکبي د زمان د تابع گانو په څېر ولرو: $(2-3) \dots\dots\dots Y = g(t)$ او $X = v \cdot t$. د $(2-3)$ رابطې د يوه جسم د حرکت معادلي په دوو بعدونو کې ښيي او څرگنده ده چې په هر دوه بعدی حرکت کې، د مکان وکتور هم د زمان يوه تابع ده يعنې: $\vec{r} = (t) \vec{i} + g(t) \vec{j}$ په حقيقت کې وړلې شو چې په يوه مستوي (صفحه) کې حرکت، د يو بعدي دوو حرکتونو ترکيب د X او Y په اوږدو کې دي چې دا وړاندو معادلو په لرل سره يې مکان (موقعيت) د جسم په ټولو لحظو کې معلوم او په پايله کې د جسم د حرکت مسير مشخص کېږي. لکه د $(1-3)$ شکل



شکل (3-1)



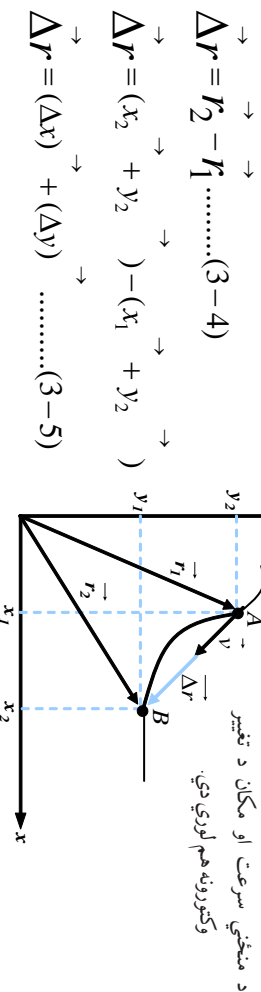
څپړنه وکړئ:

فرض کړئ چې په یوه لنډه موده کې، د کښپ (سنگ پښت) د حرکت معادلي د SI په سیستم کې د $x = 10t$ او $-5t^2 = y$ په توګه دی. د دې کښپ د حرکت مسیر په بیلابیلو ډولګي د نقطې پیدا کولو له لارې له 0 څخه تر 5 ثانوي زماني انټروال کې رسم کړئ.

3-1: د مکان او منځني سرعت بدلون

په دوه بعدي حرکتونو کې د مکان او سرعت بدلون څنګه څپړلې شو؟ کوم توپیرونه د مکان د تغیر او منځني سرعت تر منځ په یو بعدي او دوه بعدي حالتونو کې شتون لري؟
په دوه بعدي حرکتونو کې د مکان د تغیر او منځني سرعت د څپړلو لپاره، فرض کړئ چې متحرک له (3-3) شکل سره سم د t_1 په لحظه کې د r_1 مکان د A په نقطه کې او د t_2 په لحظه کې د r_2 مکان د B په نقطه کې دی. لکه څنګه چې په دویم څپرکي کې مو ولوستل، هغه وکتور چې د A له نقطې څخه B ته رسمېږي، د جسم د مکان تغیر په $\Delta r = r_2 - r_1$ زماني انټروال کې راښيي. دا وکتور چې د (3-3) په شکل کې هم رسم شوی دی، له لاندې را بطو څخه لاسته راځي.

شکل (3-2)



د جسم منځني سرعت په یو ټاکلي زماني انټروال کې، د یو بعدي حالت په څیر په لاندې ډول تعریف کېږي:

$$\vec{v} = \frac{\Delta \vec{r}}{\Delta t} \dots\dots\dots (3-6)$$

د (3-5) له رابطې څخه په ګټې اخیستلو منځني سرعت کولای شو، په لاندې ډول ولیکو:

$$\vec{v} = \left(\frac{\Delta x}{\Delta t}\right) + \left(\frac{\Delta y}{\Delta t}\right) \dots\dots\dots (3-7)$$

که چېرې $\frac{\Delta x}{\Delta t}$ په \vec{v}_x او $\frac{\Delta y}{\Delta t}$ په \vec{v}_y وښیو، په پایله کې د (3-7) رابطه په لاندې ډول لیکلې شو:

$$\vec{v} = \vec{v}_x + \vec{v}_y \dots\dots\dots (3-8)$$



فعالیت:

د (3-2) شکل په بیلابیلو ډولګی تحلیل کړئ او ووايئ چې د منځني سرعت وکتور او د مکان د تغیر وکتور هم لوري دي، او بیا وروسته دې هره ډله په ټولګی کې په جلا توګه څرګندونې وکړي.

مثال: د یوه جسم د حرکت معادلي په دوو بېلګونو کې، له لاندې رابطو سره د SI په سیستم کې ورکړل شوي دي:

$$X = 2t \quad , \quad y = -t^2 + 4t$$

a- د جسم د مکان (موقعیت) وکتور د $t_1 = 1s$ او $t_2 = 2s$ په لحظو کې پیدا کړئ.

b- منځني سرعت یې د 1 او 2 ثانې ترمنځ په زماني انټروال کې وټاکئ او اندازه یې حساب کړئ.

$$\begin{aligned} \vec{x}_1 = 2m \quad \text{او} \quad \vec{y}_1 = 3m & & t_1 = 1s \\ \vec{r}_1 = 2 + 3 & & \end{aligned}$$

په همدې ترتیب په $t_2 = 2s$

$$\begin{aligned} \vec{x}_2 = 4m \quad \text{او} \quad \vec{y}_2 = 4m \\ \vec{r}_2 = 4 + 4 \end{aligned}$$

(b) د 1 او 2 ثانې ترمنځ په زماني انټروال کې:

$$\Delta x = x_2 - x_1 = 4 - 2 = 2m$$

$$\Delta y = y_2 - y_1 = 4 - 3 = 1m$$

$$\Delta t = t_2 - t_1 = 2 - 1 = 1s$$

$$\bar{v}_x = \frac{\Delta x}{\Delta t} = \frac{1}{2} = 2m/s = 2$$

$$\bar{v}_y = \frac{\Delta y}{\Delta t} = \frac{1}{2} = 1m/s = 1 \quad \Rightarrow \quad \vec{v} = \vec{v}_x + \vec{v}_y = 2 +$$

$$(\bar{v})^2 = (\bar{v}_x)^2 + (\bar{v}_y)^2 = 2^2 + 1^2 = 5 \quad \Rightarrow \quad \bar{v} = \sqrt{5} \approx 2,23m/s$$

تمرین: فرض کړئ چې په یو لنډ وخت کې، د یوې سونې د حرکت معادلي د SI په سیستم کې د $x = 10t$ او $y = -2t^2$ په توګه دي. د دې سونې منځني سرعت د 0 تر 2 ثانې په زماني انټروال کې پیدا کړئ.

لحظوي سرعت

لحظوي سرعت په دوه بعدي حرکتونو کې څرنگه تحلیل او ارزولي شو؟ لحظوي سرعت په دوه بعدي او یو بعدي حرکت کې کوم توپیرونه لري؟

په دوو بعدونو کې د لحظوي سرعت د څیړلو لپاره د (3-3) شکل په نظر کې ونیسئ. دا شکل، د جسم حرکت د کرپې لیکې (منځني) پر مسیر راښيي.

د جسم موقعیت د t_1 او t_2 په دوو لحظو کې مشخص شوی دی. منځکې مو یادونه کړې وه چې د منځني سرعت وکتور په یو ټاکلي زماني انټروال کې، د هغې د اړوند موقعیت له تغیر سره، هم لوری دی.

لکه څنګه چې په منځني څپر کې چې د یو بعدي حرکت په هکله هم وویل شول، که چېرې د Δt زماني انټروال کوچنی او تر ټو کوچنی شي، منځني سرعت له لحظوي سرعت سره نژدې او ډېر نژدې کېږي. یعنې د ریاضي به ژبه، د لحظوي سرعت وکتور د منځني سرعت له لیمت څخه عبارت دی، کله چې Δt د صفر په لور تقرب وکړي. یعنې:

$$\vec{v} = \lim_{\Delta t \rightarrow 0} (\vec{v}) = \lim_{\Delta t \rightarrow 0} \frac{\Delta \vec{r}}{\Delta t} \dots \dots \dots (3-9)$$

په بل عبارت ویلی شو چې (لحظوي سرعت، د جسم د مکان د وکتور مشتق نسبت زمان ته دي) یعنې:

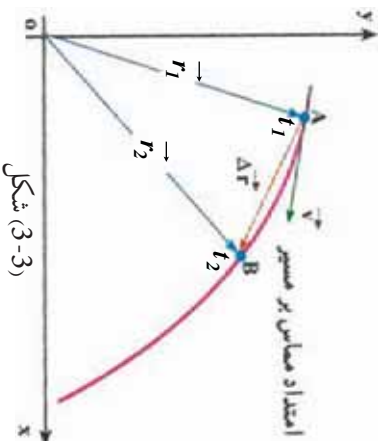
$$\vec{v} = \frac{d\vec{r}}{dt} \dots \dots \dots (3-10)$$

نو لدې امله کله چې په یو لیمت کې Δt د صفر لورته تقرب وکړي، د (3-5) له رابطې څخه به گټې اخیستلو سره کولای شو د جسم لحظوي سرعت د هغه د مرکبو پر بنسټ د X او Y په دوو امتدادونو کې لاسته راوړو، یعنې:

$$\vec{v} = \left(\frac{dx}{dt}\right) \vec{i} + \left(\frac{dy}{dt}\right) \vec{j}$$

$$\vec{v} = (v_x) \vec{i} + (v_y) \vec{j} \dots \dots \dots (3-11)$$

نوله دي امله، گورو چې د منځني سرعت وکتور د مکان د تغیر له وکتور سره هم لوري دي، نو په یو لیمت کې چې Δt د صفر لوري ته تقرب کوي، د لحظوي سرعت وکتور به د حرکت پر مسیر په نقطه کې مماس شي. په پایله کې کله چې یو جسم د کرپې لیکې (منځني) په مسیر کې حرکت کوي د سرعت د وکتور لوري به چې تل د حرکت پر مسیر مماس دي، په هره لحظه کې تغیر کوي. تر دې وروسته د لحظوي سرعت وکتور ته سرعت وایو.



مثال: یو موټر چې د $x = 0.7y$ په افقي صفحه کې حرکت کوي، د حرکت معادلي يې د SI په سیستم کې په لاندې ډول دي: $y = 4t^2$ او $x = 6t + 5$ د موټر د سرعت کچه په $t = 1s$ کې لاس ته راوړئ:

حل: د (3-4) له رابطې څخه په گټې اخیستلو سره د سرعت مرکبي په لاس راځي:

$$V_x = \frac{dx}{dt} = 6m/s \quad \text{او} \quad V_y = \frac{dy}{dt} = 8t$$

لکه چې لیدل کېږي د سرعت افقي مرکه د زمان تابع نده او ثابتې کچه لري، خو د سرعت قائمه مرکه، د زمان تابع ده او کچه يې په $t = 1s$ کې برابر ده له: $V_y = 8m/s$ ، نو د سرعت کچه په $t = 1s$ کې برابر دي له: $v = \sqrt{v_x^2 + v_y^2} = \sqrt{6^2 + 8^2} = 10m/s$ سره.

3-2: منځني تعجیل او لحظوي تعجیل

مخکې مو ولوستل کله چې د جسم سرعت تغییر وکړي، حرکت تعجیلي دی. د سرعت تغییر کیدای شي د سرعت په کچه کې د تغییر په معنا یا د سرعت په لورې کې تغییر او یا د واړه وي، ومو لیدل کله چې د جسم حرکت د منځني مسیر پرمخ دي، په داسې حال کې چې د جسم سرعت تغییر نه کوي، خو د سرعت لورې يې هرومرو تغییر کوي. نو لډې امله که چیرې د سرعت قیمت اندازه هم تغییر ونکړي، کیدای شي حرکت تعجیلي وي. لکه، د منځني مسیر پرمخ حرکت چې په هغه کې یوازې د حرکت لورې تغییر کوي، یو تعجیلي حرکت دی.



څېړنه وکړئ:

د دوو تعجیلي حرکتونو په هکله څېړنه وکړئ چې په هغو کې، د سرعت کچه تغییر ونه کړئ.

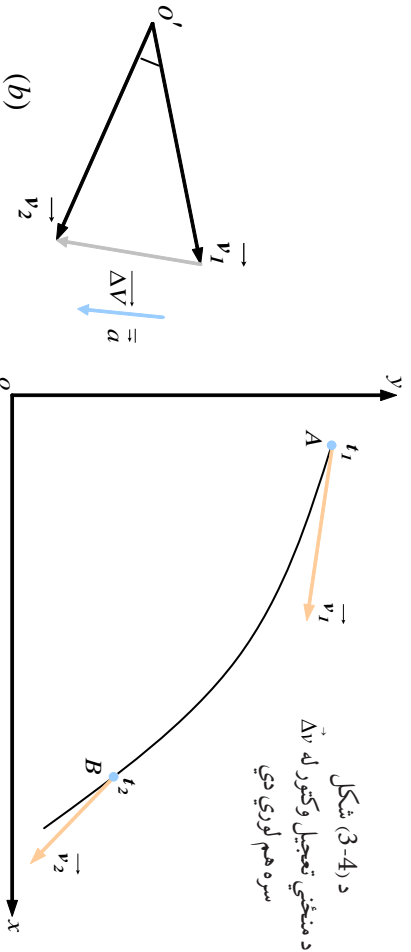
د (3-4-a) په شکل کې د سرعت مرکبي د t_1 او t_2 په دوو لحظو کې د مسیر پرمخ ښودل شوي دي. د سرعت د تغییر د محاسبې لپاره د $t_1 - t_2 = \Delta t$ په زماني انټروال کې په (3-4) شکل کې د v له نقطې څخه له v_1 او v_2 سره مساوي وکتورونه رسمو او Δv په لاس راوړو. د یو بعدي حرکت په څیر، د منځني تعجیل وکتور د Δv په زماني انټروال کې په لاندې توگه تعریفوو:

$$\vec{a} = \frac{\vec{v}_2 - \vec{v}_1}{t_2 - t_1} = \frac{\Delta \vec{v}}{\Delta t} \dots \dots \dots (3-12)$$

$$\vec{a} = \left(\frac{\Delta v_x}{\Delta t}\right) \vec{i} + \left(\frac{\Delta v_y}{\Delta t}\right) \vec{j} \rightarrow \text{د (3-11) له رابطې څخه په گټې اخېستلو سره لرو چې:}$$

$$\vec{a} = (\bar{a}_x) \vec{i} + (\bar{a}_y) \vec{j} \dots\dots\dots(3-13)$$

او یا:



د (3-4) شکل
د منځني تعجیل وکتور له Δv
سره هم لوري دي

بحث وکړئ:

د توپانگي په بيلابيلو ډلو کې په دې هکله چې ولې د منځني تعجیل وکتور له Δv سره هم لوري دي، بحث وکړئ او پایله يې په توپانگي کې وړاندې کړئ.

لکه څنګه چې پوښو لفظوي تعجیل د t_1 په لحظه کې کولای شو، د منځني تعجیل د لیمت په شکل کله چې Δt د صفر لورته تقرب وکړي، ولیکو. یعنې:

$$\vec{a} = \lim_{\Delta t \rightarrow 0} \left(\frac{\Delta \vec{v}}{\Delta t}\right) = \lim_{\Delta t \rightarrow 0} (\vec{a}) \dots\dots\dots(3-14)$$

پورتنۍ رابطه د مشتق مفهوم ته په پام کولو سره، کولای شو په لاندې توګه ولیکو:

$$\vec{a} = \frac{d\vec{v}}{dt} \dots\dots(3-15)$$

$$\vec{a} = \frac{d^2(\vec{r})}{dt^2} \dots\dots\dots(3-16)$$

د (3-13) رابطې په مرسته کولای شو ولیکو چې:

$$\vec{a} = \left(\frac{dv_x}{dt}\right) \vec{i} + \left(\frac{dv_y}{dt}\right) \vec{j} \dots\dots\dots(3-17)$$

چي په دي کې $\frac{dv_x}{dt} = a_x$ او $\frac{dv_y}{dt} = a_y$ د لحظوي تعجيل له مرکبو څخه عبارت دي. او په پايله کې:

$$\vec{a} = (a_x) \vec{i} + (a_y) \vec{j} + \dots \dots \dots (3-18)$$

د (3-12) رابطه دا بشپړي چې \vec{a} او $\Delta \vec{v}$ هم لوري دي. خو لکه څنگه چې د (3-5-a) په شکل کې ښودل شوي دي، د منځني مسير پرمخ حرکت کې هېڅ کله د منځني تعجيل وکتور (\vec{a})، د سرعت له وکتورونو (\vec{v}_1 يا \vec{v}_2) سره هم لوري نه دي. کله چې Δt د صفر لورته تقرب کوي او \vec{v}_2 وکتور د \vec{v}_1 له وکتور سره ډېر نژدې کېږي، بيا هم تعجيل له لحظوي سرعت سره هم لوري نه دی.



فعاليت :

د ټولگي په مختلفو ډولګي، د گراف پرمخ ونښتې چې د منځني مسير پرمخ د ثابت سرعت د حرکت پر مهال، کله چې Δt صفر لوري ته تقرب کړي، $\Delta \vec{v}$ پر \vec{v} عمود دی.

مثال : د يوه جسم د دوه بعدي حرکت معادله په SI کې په لاندې ډول ده:

$$\begin{cases} x = 20t^2 \\ y = 5t^3 \end{cases}$$

د سرعت او تعجيل وکتورونه يې په $t = 1s$ کې پيدا کړئ. ايا دا دواړه وکتورونه هم لوري دي؟

حل : د سرعت دو کتور د ټاکلو لپاره، په لومړي پړاو کې د v_x او v_y مرکبي په $t = 1s$ کې دارنگې په لاس راوړو:

$$v_x = \frac{dx}{dt} \Big|_{t=1s} \Rightarrow v_x = 40$$

$$v_y = \frac{dy}{dt} \Big|_{t=1s} \Rightarrow v_y = -15 \text{ m/s}$$

په پايله کې دلحظوي سرعت وکتور په $t = 1s$ کې به په دي ډول وي:

$$\vec{v} = 40 \vec{i} - 15 \vec{j}$$

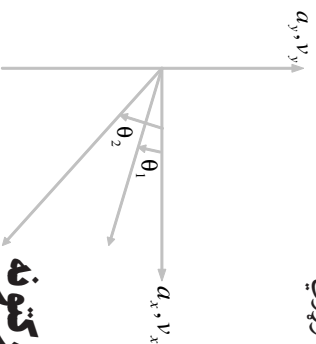
د تعجيل د وکتور د ټاکلو لپاره هم د تعجيل مرکبي يعني a_x او a_y دارنگه پيدا کوو:

$$a_x = \frac{dv_x}{dt} = 40 \text{ m/s}^2 \quad a_y = \frac{dv_y}{dt} = -30$$

لکه څنګه چې وینو، a_x د t زمان تابع دی او په $t = 1s$ کې برابر دی له: $a_x = -30m/s^2$
 په پایله کې د تعجیل وکتور به په $t = 1s$ کې په دې ډول وي:

$$\vec{a} = 40 \rightarrow -30 \rightarrow$$

د a_x او v_x وکتورونو له مقایسې د $t = 1s$ په زمان کې او هم لاندې شکل ته په پام کولو سره کولای شو دا پایله ترلاسه کړو چې دا دوه وکتورونه سره موازي نه دي. د حرکت د تعجیل کچه په $t = 1s$ کې برابر له $50m/s^2$ سره دی، ولې؟ (بحث وکړئ). د (3-5) شکل د منحنی مسیر پر مخ حرکت کې، د تعجیل او سرعت وکتور یو له بله سره زاویه جوړوي.



شکل (3-5)

د منحنی مسیر پر مخ د شتاب او سرعت وکتورونه له یوه بل سره زاویه جوړوي.

3-3: غورځوونکي (پرتابي) حرکتونه

د غورځوونکي (پرتابي) حرکتونه څه ډول حرکتونه دي؟ غورځوونکي حرکتونه په فضا کې څه ډول مسیر وهي؟ یو غورځول شوي (وارشوي) جسم او هغه مسیر چې په هوا (فضا) کې یې وهي، د حرکت د مختلفو ډولونو یوه بیلګه ده، چې هر انسان د ماشومتوب له پیل څخه، په عمل کې ورسره سر اوکار لري. د ویشلو حرکت د دوه بېلګې حرکت یو ډول دی. د دوه بېلګې حرکتو د مطالعې او تحلیل لپاره په لومړي پړاو کې باید لاندیني درې فرضيې په نظر کې ونیسو:

1. جاذبه یي تعجیل (g)، د جسم د حرکت په سیمه (محدوده) کې ثابت او لوری یې مخ په ښکته دی.

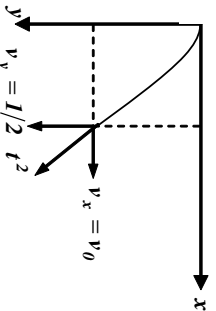
2. د هوا د مقاومت له اغیز څخه کولای شو، صرف نظرونو.

3. د ځمکې څرخیدل د دې حرکت پر مخ اغیز نه لري.

یوه له اصطلاحاتو څخه چې د ویشلو (پرتابي) حرکتونو کې ورسره ډېر مخامخ کېږو عبارت له غورځول شوي جسم څخه دی، غورځول شوي جسم هغه جسم دی چې په پیل کې په لومړني سرعت سره غورځول کېږي او یا د یوې ضربې له امله په یو لوري کې حرکت پیل کړي او بیا وروسته د جاذبې د قوې تر اغیز لاندې، تعجیلې حرکت رګم له کمه د وضعیت کمیټونو د یو محور په اوږدو کې) ولري. هغه مرمي چې له توپک څخه راوځي، یوه تیره چې په یوه زاویه غورځول کېږي، د اوبو بهیدل چې له یوه سوري څخه فواره جوړوي، دا ټول د غورځوونکي (پرتابي) حرکت بیلګې دي چې په فضا کې پارابول شکله مسیر وهي. وروسته به وګورو چې د دې مسئلې ثابتول چې د غورځول شورو حرکتو مسیر، پارابول دی د ریاضي له لارې اسانه دی.

افقي غور ځول (ويشل)

څه فکړ کوئ که چيري يو جسم د يو برج له سره په افقي امتداد کې د v_0 په لومړني سرعت سره و غور ځو، څه پيښه به رامنځ ته شي؟ هغه مسير چې غور ځول شوي جسم يې وهي، څرنگه مسير به وي؟ يو جسم د قايم مختصانو (x, y) له ميلا څخه د v_0 له لومړني سرعت سره د x له محور سره په موازي ډول د لاندې شکل په څير غور ځو. ليدل کېږي چې غور ځول شوی جسم خپل حرکت ته په افقي توگه دوام نه ورکوي بلکې ورو ورو په ښکته لور راکښل کېږي. يعنې غور ځول شوي جسم شپه په شپه (لحظه په لحظه) د ځمکې



شکل (3-6)

د جاذبي لخوا مخ په ښکته راکښل کېږي، بالاخره له ځمکې سره تصادم کوي. په دې ډول حرکت کې د غور ځول شوي جسم سرعت د v_x او v_y دوو وکتورونو له ترکیب څخه تر مطالعې لاندې ونیسو. لکه څنګه چې غور ځول شوي جسم منظم المستقیم الخط حرکت د محور په اوږدو کې د v_0 په لومړني سرعت تر سره کوي او د y د محور په اوږدو کې د ځمکې د جاذبي قوې تر اغیز لاندې وي، نو له دې امله د غور ځول شوي جسم معادلي د x او y محورونو په لورو کې عبارت دي له:

$$x = v_0 t \dots (3-19)$$

$$y = \frac{1}{2} g t^2 \dots (3-20)$$

که چيري د t قیمت د (3-19) رابطې څخه پيدا کړو او د (3-20) په رابطه کې يې وضع کړو، وپه مو

موچي:

$$y = \frac{1}{2} g \cdot \frac{x^2}{v_0^2} \dots (3-21)$$

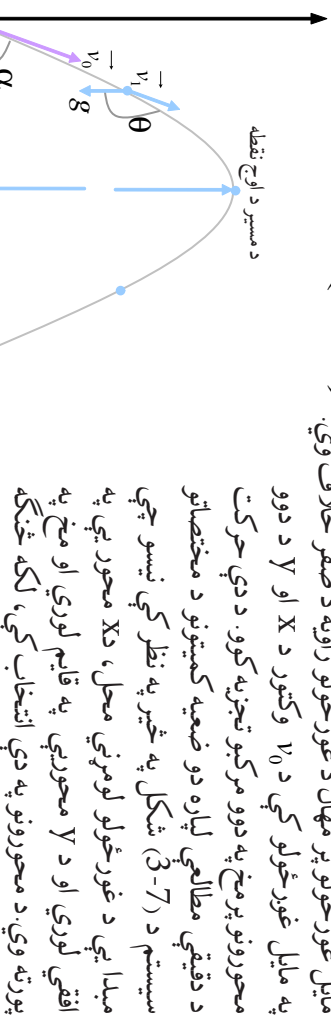
څرنگه چې $\frac{g}{2v_0^2}$ يو ثابت کميټ دی، هغه په ښو، د (3-21) رابطه لاندې شکل نيسي:

$$y = c x^2 \dots (3-22)$$

د (3-22) له معادلي پايله تر لاسه کېږي چې د ويشل شوي جسم د حرکت مسير په افقي توگه عبارت له يو پارابول څخه دی. د (3-20) له رابطې څخه څرگنديږي چې په افقي ويشلو کې هغه وخت چې غور ځول شوي جسم يې مخ په ښکته د y د واټن په وهلو کې تر سره کوي، برابر دی له هغه وخت سره چې نو مورې جسم په ازاده توگه سقوط وکړي او همغه د y واټن په عمودي توگه ووهي.

3-4: مایل غورخول (ویشل)

مایل ویشتل (پرتاب) څه ډول غورخول دي؟ د افقي غورخونې او مایل غورخولو ترمنځ کوم توپیر شته؟ د (3-3) په برخه کې، غورخول د افق په امتداد کې تریخت لاندې شوه. د افقي غورخولو په حالت کې د هغه زاویه چې د لومړني سرعت وکتور د دوکتور له مثبت لوري سره وي یعنې، $(\alpha=0)$ وه. خو د مایل غورخولو پر مهال د غورخولو زاویه د صفر خلاف وي.



چې تعجیل د Y د محور په لوري کې له $(-g)$ سره X د محور په لوري کې صفر دی، نو کولای شو او د X د محور په لوري کې صفر دی، نو کولای شو ولیکو چې:

$$a_y = -g \dots\dots\dots (3-23)$$

$$a_x = 0 \dots\dots\dots (3-24)$$

غورخول شوی جسم په $t = 0$ مېلا زمان کې د مختصاتو له مېلا (پیل) څخه د v_0 په لومړني سرعت نسبت افق ته په α زاوېي غورخول کېږي. په دې حالت کې د لومړني سرعت د X او Y مؤلفې عبارت دي له:

$$v_{0,y} = v_0 \sin \alpha \dots\dots\dots (3-25)$$

$$v_{0,x} = v_0 \cos \alpha \dots\dots\dots (3-26)$$

$a_x = 0$ دي، یعنې د X افقي لوري کې د $v_0 \cos \alpha$ له ثابت سرعت سره تر سره کېږي، نو لاندې امله د غورخول شوي جسم د حرکت او سرعت معادلې د X د محور په لوري کې به په لاندې ډول وي:

$$x = (v_0 \cos \alpha) t \dots\dots\dots (3-27)$$

$$v_x \cos \alpha = c o s n t \dots\dots\dots (3-28)$$

او لکه څنګه چې وویل شول د Y په قایم لوري کې حرکت، د $(-g)$ له ثابت تعجیل سره دي. د اجسامو د ازاد سقوط له رابطو څخه به گټې اخستلو سره، د غورخول شوي جسم د حرکت معادلې د Y په لوري کې به هم په لاندې ډول وي.

$$y = \frac{1}{2} g t^2 + (v_0 \sin \alpha) t \dots\dots\dots (3-29)$$

$$v_y = -g t + v_0 \sin \alpha \dots\dots\dots (3-30)$$

له (3-27) څخه تر (3-30) پورې څلور معادلي، د تعجیل د وکتور مرکبې، د غورځول شوي جسم سرعت او موقعیت په هره موده د X او Y د محورونو پرمخ بښي.
 که چېرې د حرکت په معادلو کې د X او Y لپاره په دوه بعلدي حرکتونو کې، زمان حاتف شي، د حرکت د مسیر معادله لاس ته راځي. له دې لارې څخه په گڼې انجستلو سره، د XOY د صفحه چې پرمخ د غورځونې د حرکت د مسیر معادله دارنگې په لاس راځي:

$$t = \frac{x}{v_0 \cos \alpha}$$

$$y = -\frac{1}{2} g \left(\frac{x}{v_0 \cos \alpha} \right)^2 + v_0 \sin \alpha \left(\frac{x}{v_0 \cos \alpha} \right)$$

$$y = -\frac{gx^2}{2v_0^2 \cos^2 \alpha} + x \quad n \quad \alpha \dots \dots \dots (3-31)$$

د (3-31) معادله رابښي چې د غورځونې حرکت مسير، عبارت له پارابول څخه دی. (ولې؟) هغه افقي واټن چې غورځول شوی جسم یې وهي تر څو بیرته د غورځونې لومړنۍ ارتفاع ته وگرځي، د غورځول کېدونکي جسم د (Range) په نامه یادوي او هغه د R په توري بښي.

لومړنۍ ارتفاع ته د بیرته گرځیدو د نقطو مختصي، شکل ته په پام کولو سره، د $X = 0$ په توگه دي.

د (3-31) په رابطه کې د دې قیمتونو په وضع کولو سره کولای شو ولیکو چې:

$$0 = \frac{-g(\quad)^2}{2v_0^2 \cos^2 \alpha} + (\quad) \quad n \quad \alpha \Rightarrow \frac{g(\quad)^2}{2v_0^2 \cos^2 \alpha} = \quad n \quad \alpha$$

$$= \frac{2v_0^2 \cdot \cos^2 \quad \sin \alpha}{g \quad \cos \alpha}$$

$$= \frac{v_0^2 \cdot 2 \sin \alpha \cdot \cos \alpha}{g}$$

ځکه چې: $\sin 2 \alpha = 2 \sin \alpha \cos \alpha$

$$= \frac{2v_0^2 \sin 2 \alpha}{g} \quad \dots \dots \dots (3-32)$$

نو:



بحث وکړئ:

د (3-31) رابطه د $c + bx + ax^2 = (x)$ له معادلې سره پرتله کړئ او د حرکت د مسیر په اړه یې پخپلوی بحث وکړئ او پایله یې ټولگي ته وړاندی کړئ.



فعالیت:

د ضرورت وړ مواد: نقاله، خط کش یا متر، دماشومانو د لوبوټو مانجه، پلاستیکی گلرې او میز.
کړنلاره: زده کوونکي دې په درې ډلو ووېشل شي. لومړۍ ډله دې د (0) له نقطې څخه د 25° زاويې لاندې، دویمه ډله دې د (0) له نقطې څخه د 45° زاويې لاندې، دریمه ډله دې د (0) له نقطې څخه د 65° زاويې لاندې فیر وکړي. کله چې مرمی پر څمکه ولگیده. د (0) د ویشلو نقطې او د لگیدو د نقطې (x_m) ترمنځ واټن د خط کش یا متر په مرسته اندازه او نوبت کړئ. هره ډله دې د خپل کار پایلې بوله بله سره پرتله کړي او عمومي پایله دې د شپونکي په منځ کې ټولگي ته وړاندې کړي.

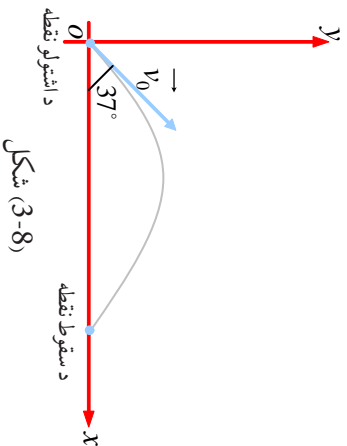


بحث وکړئ:

ویشل کیدونکي جسم، تر څو درجو زاويې لاندې وغورځول شي، تر څو اعظمي رنج (افقي واټن) ووهي؟
 د اوج (پورته) نقطه (اعظمي ارتفاع) د غورځولو په حرکت کې، تر ټولو لوړه نقطه ده چې ویشل شوي جسم ورته رسېږي. د (7-3) په شکل کې، د اوج د نقطې ارتفاع په H نښودل شوي، د Y په لور د اوج په نقطه کې سرعت صفر دي، ولې؟ $0 = -gt + v_0 \sin \alpha$ (3-33)
 $t = \frac{v_0 \sin \alpha}{g}$

له دې فورمول څخه په کار اخیستلو سره کولای شو تر ټولو لوړه (اوج) نقطې ته د غورځول شوي جسم د رسیدو وخت لاس ته راوړو. په (3-29) معادله کې د نوموړي وخت t په اېښودلو سره د اوج د نقطې ارتفاع په لاس راځي. $(\frac{v_0 \sin \alpha}{g})^2 + (v_0 \sin \alpha) = \frac{1}{2} g (\frac{v_0 \sin \alpha}{g})^2$

$$\begin{aligned} &= \frac{-v_0^2 \sin^2 \alpha + 2v_0^2 \sin^2 \alpha}{2g} \\ &= \frac{v_0^2 \sin^2 \alpha}{2g} \quad \dots\dots\dots (3-34) \end{aligned}$$



شکل (3-8)

مثال: د فوټبال یو لوبغاړي، یو توپ نسبت افق ته تر 37° زاویې لاندې په لومړني سرعت 10 m/s شوت کوي. له دې فرضولو سره چې توپ د XOY په صفحه کې حرکت وکړي او د هوا مقاومت کم وي:

a- د اوج نقطې ته د توپ د رسیدو زمان په لاس راوړئ.

b- پس له خومره مودې به توپ بیرته ځمکې ته راوگرځي؟ ($\sin 37^\circ = 0.6$)

حل: الف) د مسیر د اوج په نقطه کې لرو چې:

$$v_y = -gt + v_0 \sin \alpha$$

$$0 = -9.8t^2 + 10 \times 0.6 \Rightarrow t = \frac{6}{9.8} \cong 0.6s$$

ب: بیرته ځمکې ته راگرځیدل $y = 0$ دي، یعنی:

$$y = -\frac{1}{2}gt^2 + (v_0 \sin \alpha)t$$

$$0 = -4.9t^2 + (10 \times 0.6)t$$

$$t(-4.9t + 6) = 0 \Rightarrow t_1 = 0, \quad t = 1.2s$$

چې په دې کې $t_1 = 0$ د توپ د غورځولو د وخت اړوند او $t = 1.2s$ پر ځمکې د پټووسکي د لگیدو د وخت اړوند (د ټول حرکت زمان) دی.

نمړین: د غورځولو (ویشتلو) په حرکت کې

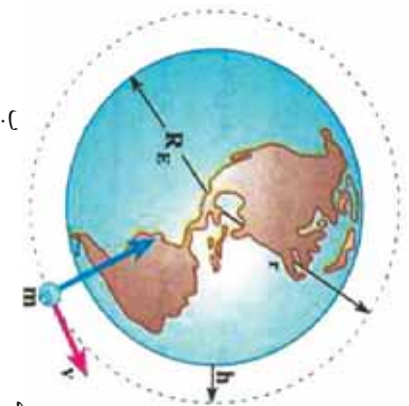
1. د حرکت تر ټولو ساده ډول له _____ سره ثابت په سطح کې، د غورځولو حرکت دی.
2. د ویشتل شوي جسم تر ټولو لږې واټن د اوج نقطې ته د _____ له رابطې څخه لاس ته راځي.
3. د اوج نقطې ته د ویشتل شوي جسم د رسیدو زمان د _____ له رابطې څخه لاس ته راځي.

3-5: دایروي حرکت

دایروي حرکت څه شی دی؟ دایروي حرکتونه په ورځني ژوندانه کې د کارولو کومې بیلګې لري؟ کله تاسو د ماشومانو د لوبو ټولونه او مچنونو لیدلي دي چې څه ډول حرکتونه ترسره کوي؟ په دایروي مسیر کې د یو جسم حرکت، په دوو بعمونو (مخونو) کې د حرکت یوه بله بیلګه ده. د دې حرکت ټوټې بیلګې هره ورځ گورو. د ځمکې پر شاوخوا د سپوږمۍ د حرکت مسیر، د هستې پر شاوخوا د الکترون حرکت او د ځینو سپوږمکیو حرکت د ځمکې پر شاوخوا د دایروي حرکت نسبي ډولونه دي. د کور په ځینو وسایلو لکه د جامو مینځلو په ماشین کې، له میوو څخه د اوبو ویستلو ماشین او ... جسمونه د هغو په منځ کې په دایروي مسیر حرکت کوي. په لاندې تصویرونو کې په دایروي مسیر کې د اجسامو د حرکت بیلګې گورئ.



الف



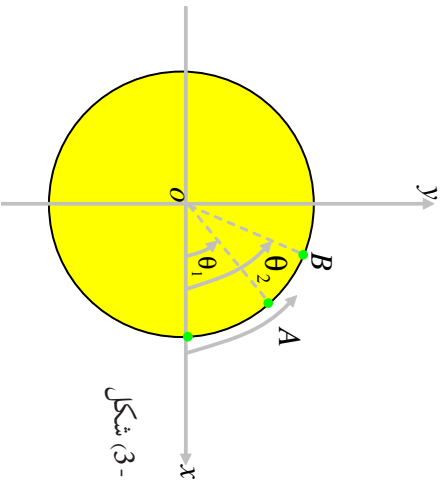
ب (9-3) شکلونه



ج

زاویوي سرعت

یوه ذره په نظر کې ونیسئ چې په یو دایروي مسیر کې د ساعت د سستي په خلاف لوري کې د لاندې شکل په څیر حرکت کوي. په دې ځای کې له ذرې څخه موخه یو وړوکی جسم دی چې اېماندې د دایرې د شعاع په پرتله ډېر کم دی.



شکل (3-10)

د ذرې موقعیت د دایرې پرمخ هره گړۍ کولای شو، د θ له زاویې سره د XO د محور په نسبت ونیسو.

کله چې ذره د A په نقطه کې وي، موقعیت د θ_1 له زاویې سره او کله چې د B په نقطه کې وي، موقعیت د θ_2 په زاویې سره نښو، او $\theta_1 - \theta_2 = \Delta\theta$ د ذرې د زاویه یي موقعیت تغیر (وهل شوي واټن) بولو. طبیعي ده چې د ذرې زاویه یي منځني سرعت په دایروي حرکت کې، د زاویه یي تغیر موقعیت په نسبت دهغې پر زمان باندې تعریفېږي، یعنې:

$$\bar{\omega} = \frac{\Delta\theta}{\Delta t} \dots\dots\dots (3-35)$$

د زاویوي سرعت د اندازه کولو د واحد، رادین پر ثانيې ($\frac{rad}{s}$) څخه عبارت دي.



څېړنه وکړئ:

دلته پرضواخوا دځمکې د حرکت په مهاله په بیلابیلو ډولوکې څېړنه وکړئ او د لمر پرضواخوا د ځمکې منځني زاویه یي سرعت محاسبه کړئ.



پو پښتنه:

- a- له دایروي حرکت څخه په ورځني ژوندانه کې څه ښه اغېستل کېږي؟
 b- د څو وسیلې چې منځني برخې یې (د منځ اجزاوې) د دایروي حرکت لرونکي وي، نومونه یې واخلئ.

لحظوي زاویوي سرعت

زاویه یې لحظوي سرعت په هغه ډول چې د لحظوي سرعت په هکله مو په (۳-۲) لوست کې ولوست، تعریفوو:

$$\omega = \lim_{\Delta t \rightarrow 0} \frac{\Delta \theta}{\Delta t} \dots \dots \dots (2-34)$$

$$\omega = \frac{d\theta}{dt} \dots \dots \dots (3-35) \quad \text{او یا:}$$

تمرین:

دیوي ذرې زاویه یې موقعیت چې د دایروي مسیر پرمخ حرکت کوي د $6t + 2t^2 = \theta$ رابطې سره ورکړل شوي. (t د ثانوي له مخې او θ د رادیان له مخې)
 الف: د متحرک زاویه یې منځني سرعت د $t_1 = 1s$ او $t_2 = 2s$ لحدونو ترمنځ حساب کړئ.
 ب: د متحرک لحظوي سرعت د $t_1 = 3s$ په لحظه کې حساب کړئ.



بحث وکړئ:

د منځني سرعت او لحظوي سرعت د رابطې د بڼه درک لپاره، څو مثالونه طرحه کړئ او له خپلو ټولګیوالو سره بحث او خبرې پرې وکړئ او پایله د خپل ښوونکي ترمنځ په ټولګي کې بیان کړئ.

3-6. دایروي یو ډوله (متشابه) حرکت

کله چې پر دایروي مسیر د حرکت کونکي ذرې زاویوي سرعت ثابت باقي پاتې شي، ولېر چې ذره یو ډولې دایروي حرکت لري: په دې ډول حرکت کې، منځني زاویوي سرعت په هره زماني وقفه کې، د ذرې د زاویوي لحظوي سرعت سره برابر دي.

$$\omega = \omega_0 = \frac{\theta - \theta_0}{t - 0}$$

$$\text{او یا:} \quad \theta = \omega t + \theta_0 \dots \dots \dots (3-36)$$

د یو جوړه دایروي حرکت د خیرلو لپاره، په لومړي پړاو کې باید لاندي کمیتونه تعریف کرو:

پریود: هغه زماني موده چې ذره د یو دایروي مسیر پر مخ یوه بشپړه دوره وهي، دیر یو د یوه نامه یادېږي. پریود د T په توري ښيي او د اندازه کولو واحد یې ثانیه ده.

فریکونسي: په یوه ثانیه کې د ذرې د دورانونو شمیر ته فریکونسي وايي. فریکونسي د نیو (N) په لاتین توري ښيي، د فریکونسي د اندازه کولو واحد $\frac{1}{s}$ او یا هرتر دی.

$$= \frac{1}{T} \dots\dots\dots (3-37)$$

خړنگه چې ذره په هره دوره کې 2π رادیان طي کوي، نو له دې امله زاویه یې سرعت یې برابر دی له:

$$\omega = \frac{\theta}{t} = \frac{2\pi}{T} = 2\pi\nu \dots\dots\dots (3-38)$$

فنايت:

پخپلو ډلو کې پر یو د او فریکونسي سره پرتله کړئ او لاندي جدول بشپړ کړئ.

فریکونسي	پریود	متحرک
10^{17} دوره په یوه ثانیه کې	10^{-17} ثانیه	د هایدروجن د اټوم الکترون
	0.33 ثانیه	د بریښنا د تولید لپاره د اوبو توربین
7.10^{-4} دوره په یوه ثانیه کې		ځمکه د هغې د محور په شاوخوا سپوږمۍ د ځمکې پر شاوخوا
	29.7 ورځ	ځمکه د لمر په شاوخوا
2.7×10^{-3} دوره په یوه ورځ کې		

خطي سرعت په دایروي حرکت کې

مخکې مو ولیدل چې د مکان وکتور کولای شي، د متحرک موقعیت په سطحه کې وټاکي، (2-3) شکل. که چیرې د یوې ذرې د مکان وکتور د r_1 په وخت کې r_1 او د r_2 په شپږه کې r_2 وي، د ذرې د موقعیت د $r_2 - r_1 = \Delta r$ په زماني شپږه کې به برابر له $r_2 - r_1 = \Delta r$ سره وي. ذره د Δt په وخت کې د $r_2 - r_1 = \Delta s$ قوس وهي، که چیرې دا زماني شپږه ډیر کوچنۍ وي، د Δs قوس کوچنۍ کېږي او کولای شو د Δs قوس اوږدوالی د هغه د مقابل وتر یعنی (Δr) له اوږدوالي سره تقریباً برابر ونیسو.

همدارنگه میځکې مو ولیدل چې د متحرک منځني سرعت کرلای شو له (3-32) $\vec{v} = \frac{\Delta \vec{r}}{\Delta t} \dots$ رابطي څخه لاسته راوړو او د لحظوي سرعت کچه هم د لاندي رابطي په مرسته تعریفېږي:

$$|\vec{v}| = \lim_{\Delta t \rightarrow 0} \frac{|\Delta \vec{r}|}{\Delta t}$$

او له هغه ځايه چې د لیمت په حالت کې $|\Delta \vec{r}| = \Delta s$ ټاکل کېدای شي، نو لرو چې:

$$|\vec{v}| = \lim_{\Delta t \rightarrow 0} \frac{\Delta s}{\Delta t} = \frac{ds}{dt} \dots \dots \dots (3-39)$$

په رياضي کې مو لوستي دي چې د θ زاويه د راډيان له مخې برابر ده، د هغې زاويې د مقابل قوس د طول له نسبت سره پر شعاع د دايرې باندي، يعنې:

$$s = r\theta \quad \text{او يا} \quad \theta = \frac{s}{r}$$

نو له دې امله د Δs د قيمت په وضع کولو سره د (3-39) رابطه کولای شو، په لاندي ډول وليکو:

$$v = \lim_{\Delta t \rightarrow 0} r \frac{\Delta \theta}{\Delta t}$$

$$v = r \frac{d\theta}{dt}$$

$$v = r\omega \quad \dots \dots \dots (3-41)$$



څېړنه وکړئ:

په دايروي حرکت کې له خطي سرعت څخه گټه اخيستونکي کوم خلک دي؟ او له هغې څخه په کومو برخو کې گټه اخلي؟
په دې هکله پخپلو ډلو کې بحث وکړئ او خپلو ټولگيالو ته راپور ورکړئ.

مثال: د ماشومانو ډلبو يو تړڅرخ، خلک په يوه افقي سطحه کې او په دايروي مسير کې گرځوي، داسې چې هر فرد دايروي يو ډوله حرکت لري. که چيرې دوران کوونکي په هره 10 ثانيه کې يو دور ووهي او د هر کس لپاره د څرخيدو شعاع 5 متره وي، دهر شخص زاويه يې او خطي سرعت په دې دوره کې حساب کړئ.

حل: د څرخيدو د دورې زمان $t = 10s$ دي، پس زاويه يې سرعت برابر دی له:

$$\omega = \frac{2\pi}{10} = \frac{2\pi}{5} \text{ rad/s}$$

او خطي سرعت به يې برابر وي له:

$$v = r\omega = 5 \cdot \frac{\pi}{5} = 3.14 \text{ m/s}$$



پوښتني:

- 1- د یو دیوالي ساعت د عقربو اوږدوالی، دقیقه او ثانیه گره په ترتیب سره 8cm ، 12cm دي. د دې عقربو د هرې عقربې څوگړ خطي سرعت محاسبه کړئ.
- 2- یو متحرک پر دایروي شکله مسیر 4 دقیقو په موده کې 600 دورې وهي. د متحرک زاویه یي سرعت، پریود او فریکونسي حساب کړئ.

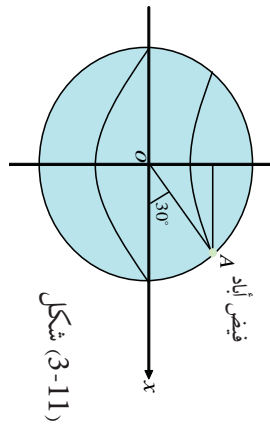


فکر وکړئ:

د ځمکې د وضعي حرکت زاویه یي سرعت، د ځمکې په ټولو نقطو کې یوشان دی یا نه ؟ (ولې؟)

مثال: د فیض آباد ښار په 30° شمالي جغرافیه یي مدار کې واقع دی. هغه تن چې په دې ښار کې اوسېږي زاویه یي سرعت او خطي سرعت یې پیدا کړئ. د ځمکې شعاع $m \cdot 6.4 \cdot 10^6 =$ په نظر کې ونیسئ.

حل: دې ته په پام کولو سره چې د ځمکې په شاوخوا پخپله د ځمکې د څرخیدو دوره 24 ساعته ده کولای شو، د ځمکې د مخ د هرې نقطې زاویه یي سرعت محاسبه کړو.



شکل (3-11)

$$\omega = \frac{2\pi}{24 \cdot 60 \cdot 60} = 86400\text{ s}$$

$$\omega = \frac{2\pi}{86400} = 7.27 \cdot 10^{-5} \text{ rad/s}$$

د فیض آباد واټن د ځمکې د څرخیدو له محور څخه (د 3-11 شکل ته پام کولو سره برابر دی له:

$$r = \cos 30^\circ \rightarrow \cos 30^\circ = \frac{\sqrt{3}}{2}$$

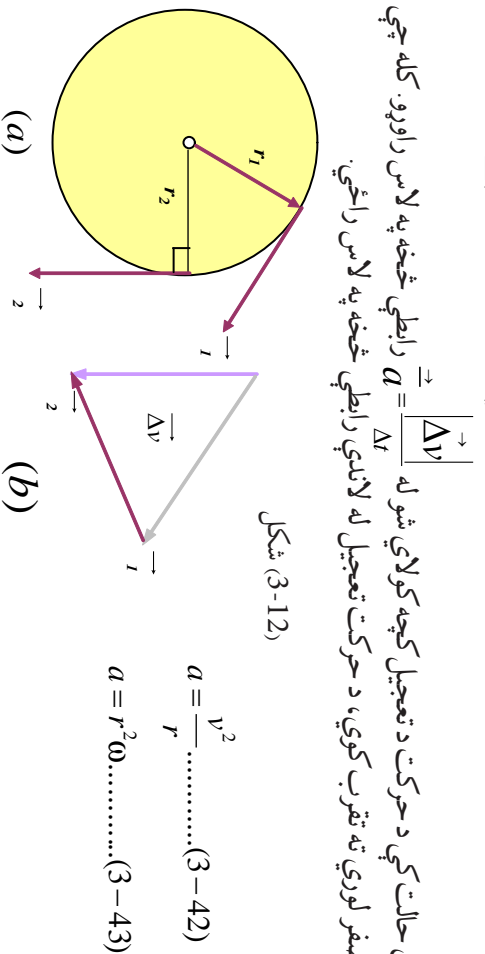
$$r = 6.4 \times 10^6 \times \frac{\sqrt{3}}{2} = 5.53 \times 10^6 \text{ m}$$

او د فیض آباد په ښار کې خطي سرعت برابر دی له:

$$v = r\omega = 5.53 \times 10^6 \times 7.27 \times 10^{-5} = 402.03 \text{ m/s}$$

3-7: تعجيل په دایروي یو ډوله حرکت کې

یو ذره په نظر کې ونیسئ چې دایروي یو ډوله حرکت لري (a-12-3). شکل. مخ کې مو ولیدل چې د سرعت وکتور په هره لحظه کې پر مسیر مماس دی. که چېرې د ذرې مکان د t_1 په لحظه کې، \vec{r}_1 او د t_2 په لحظه کې \vec{r}_2 وي، د متحرک د سرعت وکتورونه په دې نقطو کې په ترتیب پر \vec{r}_1 او \vec{r}_2 عمود دي. د $v_1 - v_2 = \Delta v$ وکتور د (b-12-3) په شکل کې رسم شوی دی او کتل کېږي. سره له دې چې د سرعت د وکتور کچه ثابتې ده، خو د سرعت د وکتور د لوري د تغیر له امله $\Delta v \neq 0$ دی.



شکل (3-12)

$$a = \frac{v^2}{r} \dots\dots\dots(3-42)$$

$$a = r^2 \omega \dots\dots\dots(3-43)$$

په دې حالت کې د حرکت د تعجيل کچه کولای شو له $a = \frac{|\Delta v|}{\Delta t}$ رابطي څخه په لاس راوړو. کله چې Δt صفر لوري ته تقرب کوي، د حرکت تعجيل له لاندې رابطي څخه په لاس راځي.

چې مرکز ته د جذب تعجيل (Centripetal Acceleration) ورته وايي چې د دې تعجيل لوري د شعاع په بريد د مرکز په لوروي.

مثال: سپوږمۍ تقریباً د 27.3 ورځو په موده کې، یو ځل په دایروي مسیر کې په یو ډوله (یونواخت) د ځمکې په شاوخوا ګرځي. د سپوږمۍ مرکز ته د جذب تعجيل په لاس راوړئ.

حل: د $\omega = \frac{2\pi}{T}$ له رابطي څخه په گڼې اخستلو سره د سپوږمۍ زاویه یي سرعت عبارت دی له:

$$\omega = \frac{2 \cdot 3.14}{27.3 \cdot 24 \cdot 3600} = 2.66 \cdot 10^{-6} \text{ rad/s}$$

به این ترتیب شتاب جذب به مرکز مهتاب برابر است با:

$$a = r\omega^2 = 3.84 \cdot 10^8 \cdot (2.66 \cdot 10^{-6})^2 = 2.7 \cdot 10^{-2} \text{ m/s}^2$$



فعالیت:

د خپلې ډلې له غړو سره یوه تیره په یوه کلکه تار سره وتړئ او په یوه قلمه سطحه کې د خپل لاس پر شاوخوا وڅرخوئ او ځمکې ته یې د نه لوبیدو په هکله بحث وکړئ او پایله یې پخپل ټولگي کې وړاندې کړئ. کله چې د m یوه کله له ثابت سرعت سره د یوې دایرې په منځ حرکت کړي، تعجیل پیدا کوي چې لوری یې د دایرې مرکز ته متوجه وي.



پوښتنې:

- په پورتني فعالیت کې، که چېرې د وزن له درلودلالي او د هو له مقاومت څخه ورتیر شو څه پېښېږي؟
- د فعالیت د ترسره کولو پر مهال، که چېرې تار یو ناڅاپي وشلېږي، کومه پېښه به رامنځ ته شي؟
- د ځمکې کره په هرو 24 ستاعونو کې یوځل د خپل محور پر شاوخوا راڅرخي. خطي سرعت او مرکز ته جذبېدونکي شعاع د ځمکې د سطحې په کومو نقطو کې ډېره کچه لري؟ که چېرې د ځمکې د شعاع 6400km په پام کې ونیسو، د کرې خطي سرعت او مرکز ته د جذب تعجیل حساب کړئ.

د یو ډوله دایروي حرکت ډینامیک

په مخکېني برخه کې مو لیدل چې په یو ډوله دایروي حرکت کې، د جسم تعجیل د دایرې د شعاع په لوري کې او لوري یې د مرکز خواته دی. د نیوټن د دویم قانون له مخې قوه او تعجیل هم لوري دي، له دې امله په یو نوناخت دایروي حرکت کې، پر جسم دواړېدونکو قوو محصله د شعاع په استقامت او د مرکز په لور دي چې په دایروي حرکت کې پر جسم دغې واردي شوې قوې مرکزه د جذب قوه (Centrifugal force) وایي. د نیوټن د دویم قانون رابطه په پام کولو سره، دغه قوه په یو نوناخته دایروي حرکت کې، د خطي سرعت پر بنسټ لاندې بڼه نیسي:

$$= \frac{mv^2}{r} \dots\dots\dots (3-44)$$

او د زاویه یي سرعت پر بنسټ $(3-45) \dots\dots\dots = mr\omega^2$ په دې رابطه کې، پر جسم دواړدو شوو قوو کچه د دایرې د شعاع په لوري کې ده.

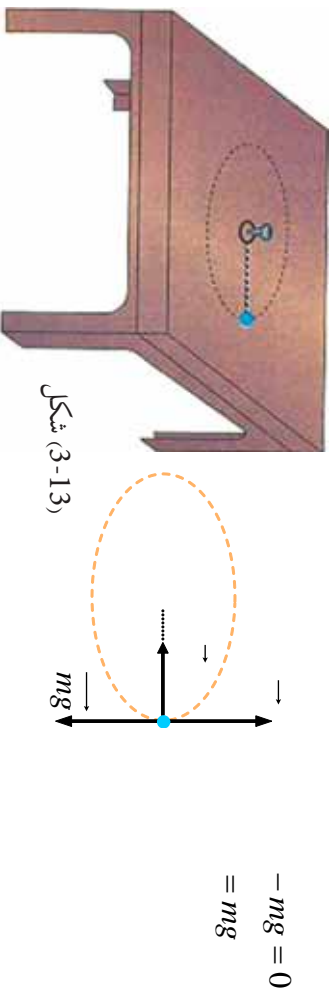


فعالیت:

مچنونڅو په خپل لاس کې ونیسئ او په کاسه کې یې یوه وړه تیره د 4 نه تر 8 گرامه په وزن واچوئ او د خپل لاس په شاوخوا (د ښوونځي په انگرې) دورې ورکړئ. بیا د دوران پر مهال د مچنونڅو پورس خوشي کړئ او د خپلې ډلې له غړوسره د تیرې د تیزۍ د لامل په هکله بحث وکړئ او پایله یې د ښوونکي تر منځ بیان کړئ.

مثال: یوه مهره له 20g کتلې سره، په یوه تار ترو او د تار له بل سر سره یوه کوچنۍ کړۍ ترو. بیا کړۍ د (3-13-a) شکل په څیر له یوه لاندې میخ سره د یو میز د مخ په برخه کې نصبوو. (له میز سره د اصطکاک له قوې تیر شوي یو). مهربې واټن له میخ څخه 25cm دی. په یوې ضربې چې پر مسټرې وادوو، هغه د دایروي مهربې پرمخ په حرکت راولو. پرمهربې وادشوي قوې د یو شکل په رسمولو سره مشخص کړئ.

که چیرې کړۍ په هره ثانیه کې یوه دوره ووهي، د تار د رابنګلو (کشش) قوه حساب کړئ. د (3-13-b) په شکل کې د وزن قوه او پراتکا باندې عمودي قوه په قایم لوري کې پرجسم اغیز کوي چې د دې دوو قوو محصله صفر ده یعنې:



یوازې د تار د رابنګلو قوه پاتې کېږي چې په دې ځای کې همغه مرکزته جذب قوه یعنې: $\frac{mv^2}{r}$ ده.

زاویه یې سرعت برابر دی له: $\omega = 2\pi v = 2\pi \text{ rad/s}$

او خطي سرعت هم برابر دی له: $v = r\omega = 0.25 \cdot 2\pi = \frac{\pi}{2} = 1.57 \text{ m/s}$

د تار د رابنګلو قوه برابره ده له: $= m \frac{v^2}{r} = 20 \cdot 10^{-3} \cdot \frac{\pi^2}{4} \cdot \frac{1}{0.25} \cong 0.2$

پوښتنې:



- په لاندې هره برخه کې د جذب قوه مشخصه کړئ.
- د جامو په حرکت کې چې د جامو مینځلو په ماشین کې څرخي.
 - د هستې پرتاوخو د الکترون د ګرځیدو.
 - د لمر پرتاوخو د سیارو په ګرځیدو.

د دریم څپرکي لنډیز



- په دوه بعدي حرکت کې د جسم موقعیت په \vec{r} ښودل کېږي چې په لاندې توګه یې لیکلای شو:

$$\vec{r} = (t) \vec{i} + g(t) \vec{j}$$

له رابطې څخه ښکاري چې د موقعیت وکتور د t د زمان یوه تابع ده.

- د جسم منځني سرعت په دوه بعدي حرکت کې په لاندې ډول وي: $\vec{v} = (v_x) \vec{i} + (v_y) \vec{j}$

- لحظوي سرعت عبارت دی د منځني سرعت له لیمت څخه، کله چې صفر لور ته تقرب وکړي، یا په بل عبارت، لحظه یي سرعت، د جسم د مکان د وکتور مشتق نسبت زمان ته دي.

$$\vec{v} = \lim_{\Delta t \rightarrow 0} \frac{\Delta \vec{r}}{\Delta t} \Rightarrow \text{اوا } \vec{v} = \frac{d\vec{r}}{dt}$$

$$\vec{v} = (v_x) \vec{i} + (v_y) \vec{j}$$

- د منځني تعجیل وکتور د Δt په زماني انټروال کې په لاندې ډول تعریفوو:

$$\vec{a} = (a_x) \vec{i} + (a_y) \vec{j}$$

- \vec{a} د منځني تعجیل وکتور له Δv سره هم لوري دی.

- لحظوي تعجیل د t_1 په لحظه کې کولای شو د منځني تعجیل د لیمت په توګه ولیکو.

$$\vec{a} = \lim_{\Delta t \rightarrow 0} \frac{\Delta \vec{v}}{\Delta t} = \lim_{\Delta t \rightarrow 0} \frac{d\vec{v}}{dt}$$

کله چې Δt د صفر په لور تقرب وکړي یعنې: $\vec{a} = \lim_{\Delta t \rightarrow 0} \frac{\Delta \vec{v}}{\Delta t}$

- لحظه یي تعجیل د مشتق له مفهوم څخه په ګڼې اخیستلو سره هم لیکلای شو:

$$\vec{a} = \frac{d\vec{v}}{dt} \Rightarrow \vec{a} = (a_x) \vec{i} + (a_y) \vec{j}$$

- د غورځولو، په حرکتونو کې، د غورځیدونکي جسم د حرکت مسیر په فضا کې عبارت له یو پارابول څخه دی.

- په افقي غورځولو کې، د حرکت معادلي عبارت دی له: $x = v_0 t$

- یا $y = \frac{1}{2} g t^2$ او

- په مایل غورځولو کې، د تعجیل مرکي په لاندې ډول دي. $a_y = -g$ او $a_x = 0$

- د معادلي د د زمان د تابع په نامه، د غورځولو په حرکتونو کې عبارت دي له:

$$x = (v_0 \sin \alpha) t \quad \text{او} \quad y = -\frac{1}{2} g t^2 + (v_0 \cos \alpha) t$$

- هغه افقي واټن چې غورځول شوی جسم يې د بیرته یا د دویم ځل لپاره د غورځولو لومړنۍ ارتفاع ته د ګرځیدو لپاره وهي، عبارت د غورځول شوي جسم له $a g$ څخه دی او دارنگې افاده کېږي:

$$= \frac{2 v_0^2 \sin^2 \alpha}{g}$$

- د غورځونې په حرکت کې لوره یا د اوج نقطه (اعظمي ارتفاع)، ترټولو هغه لوره نقطه ده، چې غورځول کېدونکی جسم هغې ته رسېږي، د H په توري ښودل کېږي:

$$= \frac{v_0^2 \sin^2 \alpha}{2g}$$

- د اوج نقطې ته د غورځول شوي جسم د رسید و زمان عبارت دی له:

$$t = \frac{v_0 \sin \alpha}{g}$$

- په دایره يي حرکت کې د ذرې زاویه يي منځني سرعت د زاویه يي موقعیت د تغیر د نسبت په توګه د هغې پر زمان تعریفېږي:

$$\omega = \frac{\Delta \theta}{\Delta t}$$

- زاویوي لحظوي سرعت کولای شو، د لیمت او مشتق له مفهوم څخه په ګټې اخیستلو سره په لاندې ډول ولیکو:

$$\omega = \lim_{\Delta t \rightarrow 0} \frac{\Delta \theta}{\Delta t} \quad \text{اوا} \quad \omega = \frac{d\theta}{dt}$$

- په دایره يي یو نواخته حرکت کې، د یوې ذرې زاویه يي سرعت چې پریو دایره يي مسیر حرکت کوي، ثابت پاتې کېږي.

- پریود عبارت له هغه وخت څخه چې یوه ذره د دایره يي مسیر پر مخ، یوه بشپړه دوره وهي او د T په توري ښودل کېږي.

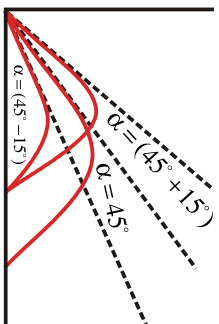
- فریکونسي عبارت دی د ذرې د دورانونو له شمیر څخه چې په یوه ثانيه کې سرته رسېږي د نیو (ν) په لاین توري ښودل کېږي او د اندازه کولو واحدي $\frac{1}{s}$ او یا Z (هرتز) دي.

- د پریود رابطه T اود (ν) فریکونسي په لاندې ډول دي: $\frac{1}{\nu} = T$

د دریم څپرکي پوښتي

- 1- د یو جسم د حرکت معادله په SI په سیستم کې د $x = t^3 - 3t^2$ په بڼه دی، مطلوب دي:
 - a- له 1 نه تر 2 ثانیهو زماني انټروال کې د جسم د منځني سرعت کچه.
 - b- د $t = 4s$ په لحظه کې د متحرک د سرعت کچه.
 - c- د 2 نه تر 5 ثانیهو زماني انټروال کې د متحرک د منځني تعجیل کچه.
 - d- د $t = 4s$ په لحظه کې د متحرک د تعجیل کچه.
- 2- یو موټر د سره څراغ په وړاندې ولاړ دی، د څراغ په شنه کیلو، موټر له $2m/s$ تعجیل سره په حرکت پیل کوي. په همدې (لحظه) کې، یوه لارې له $36km/h$ ثابت سرعت سره یې له څنګ څخه تیرېږي.
- a- د $(x-t)$ او $(v-t)$ وکتور د لارې لپاره رسم کوئ.
- b- وروسته له څومره مودې څخه به موټر لارې ته ورسېږي؟
- 3- د یو متحرک موقعیت (مکان) وکتورونه د $t_1 = 5s$ او $t_2 = 25s$ په لحظو کې په ترتیب سره $\vec{r}_1 = 2 + 14\vec{a}$ او $\vec{r}_2 = 8 + 6\vec{a}$ دي. د ذرې د منځني سرعت کچه د t_1 او t_2 په دوو لحظو کې پیدا کوئ او د گراف په رسمولو، د \vec{v} لوری وښیئ.
- 4- د یو جسم د حرکت معادله د دوو لاندینو رابطو په مرسته په SI کې ورکړل شوې ده.
$$x = 6t \quad \text{او یا} \quad v = 2t^2 + 1$$
 - a- د سرعت معادله یې ولیکنئ او د سرعت کچه یې په $t = 2s$ کې لاس ته راوړئ.
 - b- د حرکت د مسیر معادله یې لاس ته راوړئ.

5 - گالیله پخپل یو کتاب کې لیکي: د غورځولو د زاویو لپاره چې په یوه کچه له 45° زاویې څخه ډېره او یا لږه ده. رنجهونه (برد او فاصلې) مساوي دي... په لاندې شکل کې د دې وینا سموالي ثبوت کړئ.



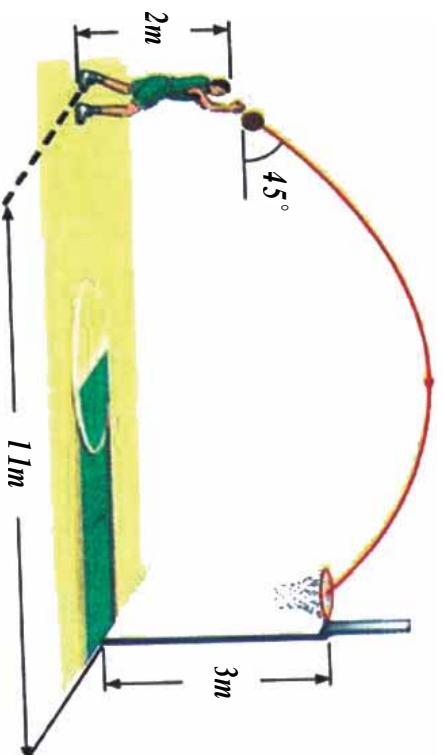
6 - پرېوه رود د یو پیل له پاسه له 20 متري ارتفاع څخه د اوبو پر سطحې یو جسم په افقي ډول په $30m/s$ سرعت غورځوو.

a- څومره موده وروسته به جسم د اوبو پرمخ ولگېږي؟

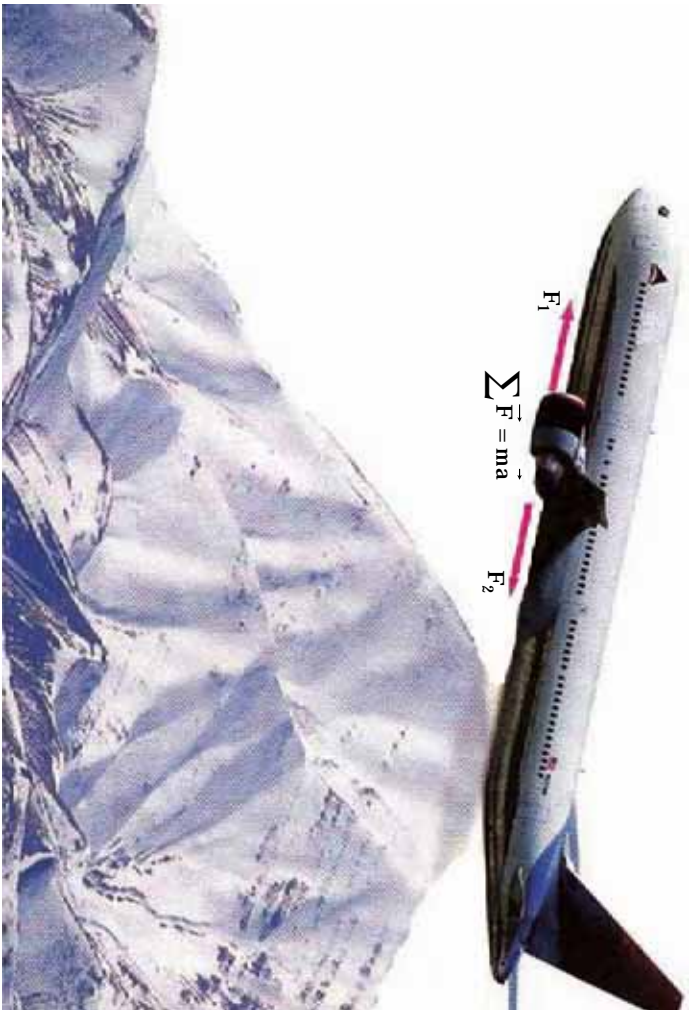
b- له اوبو سره د لگېدو د نقطې افقي واټن، د غورځولو تر نقطې پورې څومره دی؟

c- له اوبو سره د لگېدو د سرعت کچه، څومره ده؟

7 - په لاندې شکل کې، د توپ لومړنی سرعت داسې محاسبه کړئ چې توپ د ټوکرۍ په منځ کې ولوبېږي. ($g = 10m/s^2$)



ظهورم څپرکی د نیوټن د حرکت قوانین



په دویم څپرکی کې له ځینو کمیتونو لکه موقعیت، د موقعیت بدلون، سرعت، تعجیل او ... سره اشنا شو او د دې کمیتونو په تعریفولو سره مو حرکت توصیف کړ. ومولوسل چې شونې ده چې حرکت له ثابت سرعت سره تر سره شي، یا شونې ده چې د جسم حرکت تعجیلي وي او په پایله کې، سرعت بدلون وکړي.

مگر د پوښتنو طرحه کولو او هغو ته د څواب ورکولو څخه مو ډډه وکړه لکه: په کوم حالت کې یو جسم ساکن پاتې کېږي؟ څنگه کولای شویو ساکن جسم په حرکت کې راولو؟ کوم لامل د جسم د سرعت د بدلون سبب گرځي؟ کوم عامل د حرکت د تغییر او په ټولو کې کوم لامل د جسم د وضعیت د بدلون سبب گرځي؟ او ... په دې څپرکی کې یادي شوي پوښتنې څېړو، د همدې موخې لپاره د نیوټن د حرکت قوانین تر مطالعې لاندې نیسو، وروسته بیا په ورځني ژوندانه کې د دې قوانینو د پلي کېدو (تطبيق) ساحې ترڅېړني لاندې نیسو. هیله کېږي چې تاسو به د دې څپرکي په پلي کې د لاندې موضوعگانو په اړه معلومات په لاس راوړئ.

- د نیوټن درې گوني قوانین
- د اصطکاک د قوي ډولونه او په ورځني ژوندانه کې یې کارونه
- د نیوټن د جاذبې قانون
- د لفت د حرکت څرنگوالی.
- د مصنوعي سپوږمکیو د حرکت دایروي مدار

4-1: د نیون لومړی قانون

عطالت (انرشیا):

له پخوا څخه پوهیږو کله چې په یو ساکن موټر کې ناست یئ او موټر یو ناڅاپه په حرکت پیل کوي، د شا په لور ښکته کېږئ، که چیرې په یو روان موټر کې ناست اوسئ، په یو ناڅاپي دریدو سره، د مخ لور ته به ډیرکه شی. ایا تراوسه موله ځانه پوښتلې چې د دې پېښې د رامنځ ته کیدو لامل څه دی؟ تاسو هغه مهال کولای شئ دې پوښتنې ته ځواب ورکړئ چې قبوله کړئ چې هر جسم د عطالت (انرشیا) لرونکی دی. عطالت عبارت له هغه مقاومت څخه دی چې یو جسم یې د هر حرکت په وړاندې د سکون او یا حرکت په ګډون له ځانه ښيي، او یا په بل عبارت، هیڅ یو جسم دې ته مایل نه دی چې خپل نوموړی جسم خپل حالت ساتي، یعنې که جسم د حرکت په حالت کې وي خپل مستقیم الخط منظم حرکت ته دوام ورکوي او که چیرې د سکون په حالت کې وي، د خپل سکون حالت ساتي. اوس د عطالت د مفهوم په پوهیدلو سره، د هغې پوښتنې څېړلو ته مخه کوو، چې د دې لوست په پیل کې وشو. کله چې یو شخص په داسې یو موټر کې، چې د حرکت په حال کې نه دی، ولاړوي او موټر یو ناڅاپه په حرکت پیل وکړي، نو موټرې شخص د شا په خوا لوبږي، ځکه چې د نوموړي شخص پېښې له موټر سره په حرکت پیل کوي، خو بدن یې چې پر موټر تکیه تلري، د عطالت د خاصیت له مخې غواړي، خپل د سکون حالت وساتي. د تعادل د حالت تر رامنځ ته کیدو وروسته یعنې هغه مهال چې موټر یو ډوله مستقیم الخط حرکت ځان ته غوره کړي، نور نو شخص په موټر کې د حرکت احساس نه کوي، ځکه چې مایل نه دی، یا نه غواړي چې خپل حرکت ودروي. که چیرې موټر یو ناڅاپه برک ونیسي، وپه لیدل شي چې شخص د مخ په لور غورځېږي او لامل یې دا دي چې د شخص پېښې موټر ته په تابعیت ساکن او بدن یې د عطالت له خاصیت سره سم غواړي، خپل حرکت ته دوام ورکړي.

فعالیت:



اړین توکي: کاغذ (مقوا)، سکه، پېښه یې لوبږي یا ګلاس

ګوټلاړه: کاغذ پر پېښه یې لوبږي کېږدئ او د کاغذ پر مخ سکه کېږدئ، تر دې وروسته لاندې پړاوونه تر سره کوئ:

1. کاغذ د هغې له مستوي سره موازي په ډېر سرعت را وکارئ.

2. کاغذ د هغې له مستوي سره موازي په لږ سرعت را وکارئ.

په دواړو پړاوونو کې هغه څه چې پېښ شوی دی، نوټ کوئ او د ټولګي په بیلابیلو ډلو کې بحث وکړئ، پایله یو لګوالو ته وراندې کړئ.

اوس چي د عطالت (انرژيا) په مفهوم ښه پوه شوو، د نيوتن د لومړي قانون په مطالعه پيل کوو:

نيوتن، انگليسي پوه او عالم د خپلو پخوانيو پوهانو له نظرونو څخه په گڼي اخيستلو سره په دې بريالی شو چې د حرکت قوانين چې نن د هغه پخپل نوم (د حرکت په هکله د نيوتن قوانين) يا ډبري، پخپل کتاب کې بيان کړي. هغه لومړی قانون داسې بيان کړی دی:

«يو جسم خپل د سکون حالت او يا د مستقيم خط پرمخ خپل يو ډوله حرکت ساتي، مگر دا چې ډيوې قوې تر اغيز لاندې، د خپل حالت بدلون ته اړکړای شي».

له لومړي قانون څخه پايله تر لاسه کېږي، چې که پر يوه جسم قوه واورده نه شي، که چېرې ساکن وي، ساکن پاتې کېږي او که چېرې په حرکت کې وي، خپل حرکت ته په ثابت سرعت سره دوام ورکوي. هغه څه به په پام کې نيولو سره چې تراوسه وويل شول، د نيوتن لومړي قانون ته، د عطالت (انرژيا) قانون هم وايي. خپلو شاوخوا جسمونو ته وگورئ، ايا کولای شئ داسې يو جسم پيدا کړئ چې قوه پرې واورده نشي؟ ترڅو وکولای شي، د نيوتن لومړی قانون په بشپړه توگه پلي کړو لکه څرنگه چې په ټولو جسمونو د وزن قوه واورېږي، په پايله کې نشو کولای داسې يو جسم پيدا کړو چې قوه پرې واورده نشي. نن پوهان د نيوتن له لومړي قانون څخه د ځمکې بهر ته د سپوږمکيو او فضايي بېړيو د لېږلو لپاره گټه اخلي. بېړۍ په بشپړه توگه له ځمکې څخه ليرې، په ارام رگل ماشین او په ثابت سرعت سره خپل حرکت ته دوام ورکوي. (ولې؟)

4-4: د نيوتن دويم قانون

د نيوتن په لومړي قانون کې موږ لوستل چې جسم خپل د سکون حالت ساتي، داسې چې کومه قوه پرې عمل ونه کړي او يا برعکس، که چېرې جسم په حرکت کې وي او قوه پرې عمل ونه کړي، جسم خپل د ثابت حرکت حالت د مستقيم خط پرمخ ساتي.

مگر پر جسم د واورده قوې، کتلې او د حرکت د تعجيل ترمينځ کومه رابطه شتون لري؟
موږ په ورځني ژوندانه کې گورو چې د يو غټ جسم د حرکت لپاره نسبت يو وړوکی جسم ته، ډېرې قوې ته اړتيا ده. همدارنگه پوهېږو چې په همدې عين قوې کولای شو وړوکی جسم ته دلورې جسم پرتله ډېر چټک حرکت ورکړو. له دې ځاي څخه پايله تر لاسه کېږي چې د جسمونو د تعجيل، کتلې او هغه قوې ترمينځ چې پر جسمونو تطبيق کېږي، اړيکه شته. پر جسم باندې د واورده قوې، کتلې او د جسم د حرکت د تعجيل ترمينځ اړيکه، د نيوتن د دويم قانون موضوع ده. د نيوتن دويم قانون دا بيانوي چې «که پر يو جسم قوې وادې شي، جسم داسې تعجيل اخلي چې پر جسم د واورده قوو له محصلې سره مستقيم نسبت لري، له هغې سره هم لوري دي او د جسم له کتلې سره معکوس نسبت لري».

که چېرې د جسم کتله m او پرې واورده قوه \vec{F} وي، د نيوتن دويم قانون د لاندې رابطې له مخې بيانېږي:

$$\vec{a} = m \cdot \vec{a} \quad \text{او يا} \quad \vec{a} = \frac{\vec{F}}{m}$$

د قوي د اندازه کولو واحد، نیوتن (N) دی، چې د پورته رابطي له مخي تعریفیږي. که چیرې په دې رابطه کې، کتله د کیلوگرام پر بنسټ او تعجیل د متر پر ثابته مربع (m/s^2) پر بنسټ وي، قوه د m/s^2 پر بنسټ حسابیږي چې دا د نیوتن (N) په نامه یادوو. له دې امله «نیوتن» د هغې قوي کچه ده چې که پر یوه جسم له یو کیلوگرام کتلې سره واره شي، هغې ته د یو متر مربع پر فې ثابتي برابر تعجیل ورکوي».

مثال: یو جسم چې 20kg کتله لري، له 1.5m/s^2 تعجیل سره په حرکت کې دی. پر جسم د واره قوه محصله څو نیوتن ده؟

حل:
$$a = \frac{F}{m} \Rightarrow 1.5 = \frac{20}{m} \Rightarrow m = \frac{20}{1.5} = 13.33\text{ kg}$$

مثال: $m_1 = 5\text{ kg}$ او $m_2 = 12\text{ kg}$ پر هرې کتلې باندې 15 m/s^2 قوه وارده، د هرې کتلې تعجیل حساب کړئ.

حل:
$$a_1 = \frac{F}{m_1} = \frac{15}{5} = 3\text{ m/s}^2$$
 او
$$a_2 = \frac{F}{m_2} = \frac{15}{12} = 1.25\text{ m/s}^2$$



پوښتنه:

څومر قوه په کار ده چې یو موټر چې له 1500 kg کتلې په لرلو سره له 100 km/h سرعت سره په حرکت کې دی، 55 m واټن له وهلو څخه وروسته ودروي؟

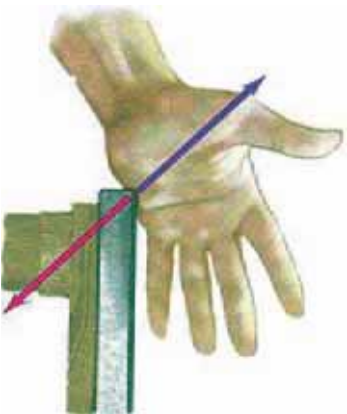
4-3: د نیوتن دریم قانون

د نیوتن لومړي قانون د جسم وضعیت د قوي د نه شتون پر مهال او د نیوتن دویم قانون، د جسم وضعیت هغه مهال چې د قوي تراغیز لاندې وي، بیانوي. خو دا قوانین دا نه روښانه کوي چې پر جسم واره قوه له کومه ځایه پرهغې واریدیږي؟ د نیوتن دریم قانون همدا مسئله خپري چې پر جسم واره شوې قوه له کوم ځایه پرې واریدیږي. که چیرې خپلو ورځنیو کړنو ته څیر سره شو. و به لیدل شي چې یو جسم تل پر بل جسم قوه واندوي.



(4-1) شکل، څټک یوه قوه پرمخ واندوي اومخ هم د څټک د قوي په خلاف لوري، پرمخک قوه واندوي.

د فوټبال لوبغاړی په خپله پښه توب وهي. یعنې د پښې په مرسته پر توب قوه واردوي. کله چې یو شخص یو جسم د ځمکې پر مخ راکاږي، پر هغې قوه واردوي او یا هغه څپک چې پر میخ وهل کېږي، پر میخ قوه واردوي، د نیوتن د دریم قانون په بیانولو سره، دا څرگندوي چې قوه پر یوه جسم تل د بل جسم لخوا واردېږي او پر دې سر بیره دا څرگنده وي چې د قوې واردول، یوازینز عمل نه بلکې دا پخپله یو دوه اړخیزه (دوه لوري) عمل دي.



(4-2) شکل، که چیرې ستاسو لاس د میز پر ځانې قوه ورده کړي، میز هم په هماغه کچه خو ستاسو د لاس دلورې خلاف قوه واردوي.

د نیوتن دریم قانون بیانوي چې « کله چې یو جسم پر بل جسم قوه واردوي، دویم جسم هم پر لومړني جسم برابره (مساوي) قوه، خو هغه ته په مخالف لوري پر هغه واردوي» که چیرې هغه قوه چې لومړنی جسم یې پر دویم جسم واردوي، د (عمل) قوه ونولو، د دویم جسم قوه چې پر لومړي جسم واردېږي د (عکس العمل) قوه به وي.

(4-3) په شکل کې د 1_2 (هغه قوه چې لومړنی جسم یې پر دویم واردوي) د عمل قوه او د 2_1 (هغه قوه چې دویم جسم یې پر لومړني جسم واردوي) دهغې عکس العمل ده):

$$1_2 = -2_1 \Rightarrow 1_2 = 2_1$$



(4-3) شکل



د عمل او عکس العمل قوو د پېژندلو لپاره پام وکړئ: دا قوې تل یو له بل سره په یوه کچه او اندازه یو د بل په خلاف لور کې وي.



شکل (4-4)

نور هم وپو هپړی:

د نیوټن له دریم قانون څخه په عمل کې د کار اخیستلو یو مهم ځای د ځمکې له سطحې څخه فضا ته د هوايي بیړیو (سفنېو) توغول یا ویشتل دي. فضايي سفینه د هغه گاز په مرسته چې له ماشین څخه یې خارجېږي، په عمودي توګه د ځمکې پر سطحه قوه واردوي او د نیوټن د دریم قانون له مخې، د سفینې له ماشین څخه خارج شوی گاز هم په هماغه کچه قوه خو په خلاف لوري (په پورته لوري) پر فضايي سفینې واردوي



بحث وکړی:

د ټولګي په بيلا بيلو ډلو کې په دې هکله چې «ګرم د لورې لامل ګرځي، چې موټر د مخ لورته حرکت وکړي، بحث وکړی او د خپلو بحثونو پایله ټولګيو ته ورناندې کړی.

مثال: د (4-5)، شکل په څير ديو طناب يو سر په ديوال کې کلاک کړی او لورته سر يې د خپل ځان په لور راکارې. که چيرې طناب له ديوال څخه جلا نه شي، د عمل او عکس العمل قوې (د لاس او طناب) او (ديوال او طناب) ترمنځ مشخصې کړی.



حل:

د شکل په مختلفو برخو کې، قوې د لاس، طناب او ديوال ترمنځ نيول شوي دي. په دې شکلونو کې مولاس د 1 جسم، طناب 2 جسم او ديوال 3 جسم په نومونو نومولې:

$$\begin{aligned} \rightarrow & \rightarrow & \Rightarrow & \text{عمل و عکس العمل} & 1,2 & = & 2,1 \\ \rightarrow & \leftarrow & \Rightarrow & \text{عمل و عکس العمل} & 1,2 & = & 2,1 \\ \rightarrow & \rightarrow & \Rightarrow & \text{عمل و عکس العمل} & 2,3 & = & 3,2 \\ \rightarrow & \leftarrow & \Rightarrow & \text{عمل و عکس العمل} & 2,3 & = & 3,2 \end{aligned}$$




شکل (4-6)



فعالیت:

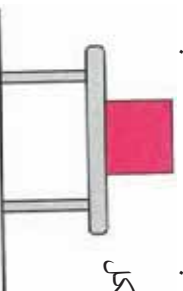
- یو جسم د فیر په یوه سره وصل کړئ او فیر له بل سره څخه وڅړوئ، که چیرې سیستم (جسم - فیر) د سکون په حال کې وي:
- پر جسم واردي شوي قوي مشخص کړئ.
 - د دې قوو عکس العمل مشخص کړئ او څرگنده کړئ چې هره یوه په کوم جسم وارديږي؟



شکل (4-7)

د اتکا عمودي قوه

پر جسم په نظر کې ونیسئ چې د (4-8) شکل په څیر د میز پراقي سطحې د سکون په حالت کې وي، په دې وضعیت کې کومې قوې پر جسم وارديږي؟
 که چیرې د جسم کتله له m سره برابره وي. د جسم د وزن قوه $mg =$ د ځمکې له خوا پر جسم وارديږي او هغه مخ بېلګه راکاږي. نورې مخ بېلګه حرکت نه کوي؟



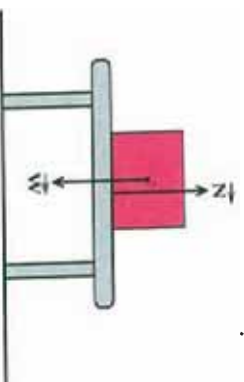
شکل (4-8)

لکه څنګه چې جسم ساکن دی، د حرکت تعجیل یې صفر دی یعنې $(a = 0)$. د نیوټن له دویم قانون څخه پایله ترلاسه کېږي، چې پر جسم د وارد شویو قوو محصله صفر ده ($ma = 0$) په پایله کې، باید د جسم له وزن سره مساوي یوه قوه، خو په خلاف لوري کې پرې عمل وکړي، ترڅو د وزن د قوې په ختني کولو سره د جسم له تعجیل اخیستلو څخه مخنیوی وکړي. په (4-8) شکل کې د جسم وضعیت ته په پام کولو سره، دا قوه د میز لخوا پر جسم وارديږي. په (4-9) شکل کې پر جسم واردي شوي قوې ښودل شوي دي. د N قوه چې د میز لخوا پر جسم وارديږي د «اتکاء عمودي قوه» بولو چې د نیوټن له دویم قانون څخه په ګټې اخیستلو سره، کولای شو ولیکو:

$$ma = 0$$

$$- = 0$$

$$=$$

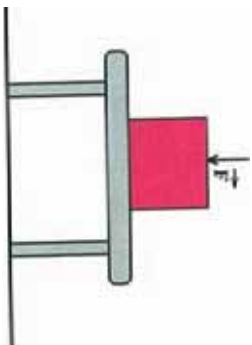


شکل (4-9)

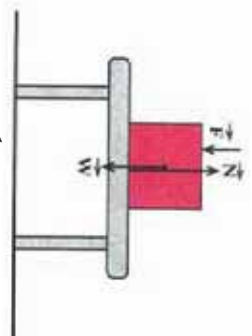
اوس فرض کړئ چې د (4-10) شکل په څیر، یوه قوه F په کچه په عمودي ډول اړمخ په بېلګه پر جسم واردوو. آیا میز د اتکاء عمودي قوه چې پر جسم وارديږي، تغیر کوي؟

پر جسم واردي شوي قوي مو په (4-11) شکل کي بنودلي ده، لکه څنگه چي د جسم تعجيل صفر دی ($a = 0$)، په پايله کي د نيوتن د دويم قانون پر بنسټ کولاي شو وليکو: $ma = 0$

$$- \quad - \quad = 0$$

$$= \quad +$$


شکل (4-10)



شکل (4-11)

نو له دي امله د اټکاء عمودي قوه، د () په کچه زياته شوې ده.



فعاليت:

د بړي فري تلي پر مخ ودرېږئ او هغه عدد چي تله يې په لاندې حالتونو کي راښيي ولولئ
 a- د تلي پر مخ ساکن ولاړئ؟
 b- په داسې حال کي چي د تلي پر مخ ولاړئ؛ پخپل لاس باندي پر هغه ميز چي ستاسو تر څنگ هئ تکه وکړئ.

4-4: د نيوتن د قوانينو پلي (تطبيق) کول



په تصوير کي بوټن، چي په رسي، کي څرېدلی هئ. ښايي هيڅکله د نيوتن د قوانينو په هکله فکر ونه کړي، خو نوموړي قوانين قوانين بړي په هره گړي کي چي هغه د خپل جان د تعادل ساتلو لپاره کوښښونه کوي، دخپل او اغيز کوي. هغه پر هغه قوه چي په رسي باندي د هغه د وزن په وړاندي د مقاومت کولو لپاره عمل کوي او همدا رنگه پر هغه قوه چي د څرخونو له امله مطلوبه لورونه موچه شوي هئ؛ باوري هئ هغه کولای شي خپل ذهن ته د اصطکاک د ذاتي قوي چي د هغه د لاسونو او رسي تر منځ عمل کوي، پراختيا (اکتشاف) ورکړي.

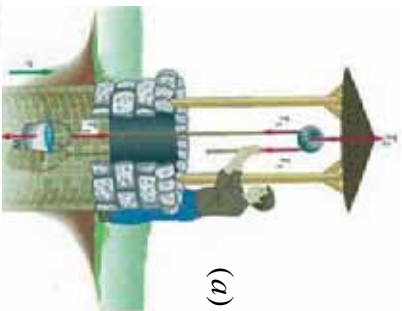
مورډ له ټولډينسټيو سره په ورځني ژوندانه کې، که چېرې پوهيرو يا نه پوهيرو د نيوتن د قوانينو تابع يو. تاسو نشي کولای ددې قوانينو له اصولو څخه په سرغړاوي د خپل بدن غړو ته حرکت ورکړئ، يو موټر وچلوئ او يا يو توپ پورته واچوئ او ... لنډه دا چې ټول قوانين زموږ دهستي لپاره د همدې درې بنسټيزو بيانونو چې د نيوتن د درې قوانينو څرگندونکي اود مادې او دهغې د حرکت اړوند دي، محصور شوي دي. دنیوتن قوانين په حیرانورونکي ډول په کهکشانونو، سیارو او ان له یوې زړې څخه دیوې مټې په لوړېدلو چې په ظاهره کې یوه ډېره ساده او طبيعي پېښه گڼل کېږي، په داسې حال کې چې دا قوانين زموږ د ورځني ژوندانه په ټولو پېښو کې د تطبيق وړ او د حرکت د لاملونو مطالعه کول، د هستې د عالم ډېر مغلق اسرار مورډ ته راپېژني.

نن ورځ مورډ تراوسه دنيوتن قوانين د فزيک په ټولو برخو کې، بنسټيز او اړين گڼو. غوره ده چې ووايو دا قوانين کولای شي د حرکت دعلم د تحليل او توضیح لپاره، د سمښت ډېر غوره مهر ولاړي خو نه ډېر بشپړ. که څه هم د شلمې پېړۍ لومړيو کې فزيک پوهانو کشف کړه چې د نيوتن قوانين يوازې دهغو جسمونو لپاره چې سرعت يې د نور له سرعت څخه لږ او يا د نور سرعت ته نږدې وي او همدا رنگه د هغو جسمونو لپاره چې کتلې يې د اندازې له مخې لږې او يا له اتومونو سره برابري وي، د تطبيق وړ دي. خو د انسانانو په ورځنيو تجربو کې تراوسه هم د نيوتن قوانين د تطبيق ډېره ستره او پراخه ونډه لري. د نيوتن د حرکت قوانين پر ډيرو او بيلا بيلو سيستمونو لکه چې په پخوانيو بحثونو کې مومطالعه کړل، تطبيق کيدای شي، په دې بحث کې به د نور قوو ډولونه په نوو سيستمونو کې چې د نيوتن قوانين کولای شي، په مختلفو مسيرونو د حرکت په حال کې جسمونو باندې د تطبيق وړ وي، مطالعه کړئ.

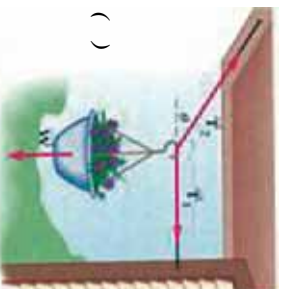
هغه څه چې وويل شول، په نړۍ کې د نيوتن د قوانينو د تطبيق د بې شمېره مواردو ډيرې محدودې بيلگې وې.

د ماشينونو په انتقالي تعادل کې د نيوتن د قانون تطبيق

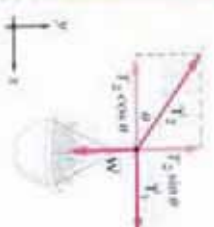
کله چې وایو چې جسم په انتقالي تعادل کې دی، د دې معنا ورکوي چې پر هغه جسم دواړه قوو محصله صفر ده، يعنې $\sum \vec{F} = 0$. د نيوتن د دويم قانون له مخې پورتنی بيان له دې سره معادل دی چې وایو د جسم تعجيل صفر دی. په دوه بعدي سيستمونو کې انتقالي تعادل په دوو بعدونو کې په مستقل ډول تطبيق کېږي. يعنې $\sum x = 0$ او $\sum y = 0$ لکه څنګه چې پوهیږئ، هغه اجسام چې دوه ډوله حرکتونه (خطي او دوراني) لري، په هغو کې دوراني تعادل په هغه کچه مهم دی چې انتقالي تعادل پکې د اهميت ورگڼل کېږي. اوس کله چې له تعادل څخه نوم اخلو، زموږ موخه انتقالي تعادل دی. لاندې شکلو ته د انتقالي تعادل مختلفې بيلگې را ښيي.



(a)



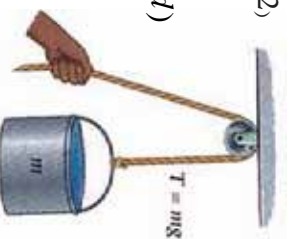
()



شکل (4-12)



(c)



(d)

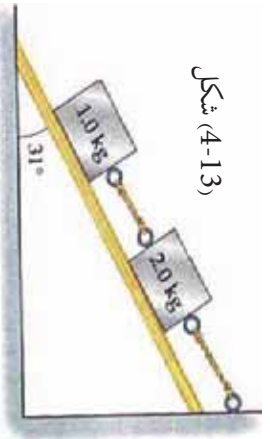


په شکل (4-13) کې د نیوټن د قانون تطبیق د انتقالی تعادل بحث د یوې مایې سطحې بړمخ د یوې عمومي بیلګې په توګه مطالعه کوو. په دې شکل کې لیدل کېږي چې دوه بلوکه د یو تار په مرسته سره وصل شوي او د تار یو سر له دیوال سره تړل شوی دی.

اوس په دې شکل د نیوټن له دویم قانون څخه په ګټې اخیستلو او د انتقالی تعادل د شرط له مخې، که چېرې د لاندني بلوک کتله g 1.0 او د پورتنی بلوک کتله g 2.0 او د میلان سطحې وړکړل شوي زاویه 31° وي، د تار د رابنګلو (کشش) قوه په لاندني وضعیتونو کې پیدا کړئ.

a- د هغه تار رابنګل چې له دواړو بلوکونو سره وصل دی.

b- د هغه تار راکښل چې له دیوال سره تړلي دی.



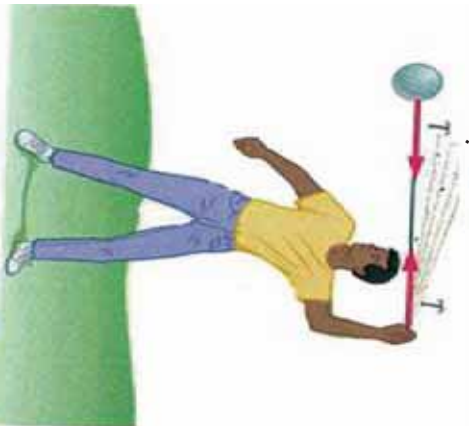
شکل (4-13)

د نیوټن د دویم قانون تطبیق په دایره یي حرکت کې

د نیوټن د دویم قانون پیر بنسټ، که چېرې پیر یو متحرک جسم کومه قوه عمل و نه کړي، جسم په ثابت سرعت او لوري خپل حرکت ته دوام ورکوي، یعنې د یو جسم د سرعت او حرکت د لوري د بدلون لپاره دې قوې ته اړتیا ده. د بیلګې په توګه که چېرې یو موټر د یو دایروي مسیر بړمخ له ثابت سرعت سره چلوی، د موټر د حرکت لوري په دوامداره توګه په هره ګرۍ کې بدلون کوي. د دې لوري د بدلون لپاره یوه قوه باید پر موټر عمل وکړي، موږ غواړو هغه دوه شپږمه د یوې قوې په هکله چې د دایروي حرکت د بدلون لامل کېږي، مطالعه کړو.

يو د دي قوي لوري او بل بي مقدار. لومړی راځي چې د دي قوي لوري مطالعه كړو.

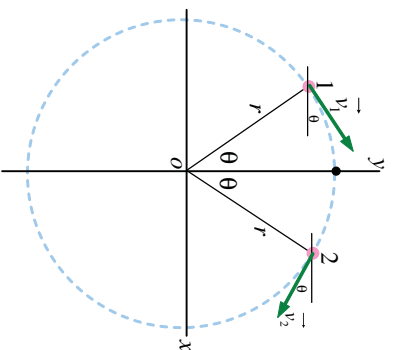
فرض كوو يو پنډوسوكی (توپ) چې د (4-14) شكل په څير له يوه تار سره تړل شوی دی زموږ د سر له پاسه په دايره بي حرکت څرخيږي. كله چې تاسو توپ ته دوره وركوئ، د رابنكلو يوه قوه په تار كې محسوسوئ چې ستاسو لاس بهر لوري ته راكارېي. په څرگند ډول د تار په بل سر كې چې له توپ سره وصل دی، د رابنكلو دا قوه مخالف لوري يعنې د دايره د مركز په لور عمل كوي چې په لنډه توگه داسې ويلي شو:



شكل (4-14)

(ددي لپاره چې يو جسم وركولاي شي، په ثابت سرعت د يوي دايره پرمخ حرکت وكړي، يوه قوه چې لوري يې د دايره د مركز په لور وي، بايد پري عمل وكړي، تر څو نوموړی جسم د دايره د مركز په لور راوكاږي). لكه څنگه چې توپ د دايره مركز لوري ته راكښل كيږي، په لومړيو كې دا نا اشنا او غير عادي معلومېږي. چې څرنگه يو توپ چې په ثابت سرعت حرکت كوي، د تعجيل لرونکی دی. ځواب دا دی چې تعجيل هغه مهال منځ ته راځي چې سرعت او يا د حرکت لوري بدلون ومومي.

په دايروي حرکت د حرکت كې لوري هره گړې بدلون مومي. د مركز په لور د تعجيل پايله د تعجيل الي المركز (Centripetal acceleration) په نامه يادوي چې له دي وروسته هغه په a_c نښو. راځي چې د a_c كچه د هغه جسم لپاره چې د v په ثابت سرعت د يوي دايره پر مخ r په شعاع راڅرخي، محاسبه كړو.



شكل (4-15)

يوه ذره د يوه دايره بي مسير د O له مركز سره په حرکت كې دی. ذره ثابتته ده، خو سرعت يې په ثابت ډول د بدلون په حال كې دی.

د (4-15) شکل یو دایره یی مسیر د دایرې له مرکز سره د وضعیه کمیټونو په مېلاکې ښيي. پر دایرې باندې د P په نقطه کې د تعجیل د حسابولو لپاره لومړی منځنی تعجیل \vec{a}_{av} د 1 له نقطې څخه د 2 تر نقطې پورې په دې ډول لاسته راوړو.

$$\vec{a}_{av} = \frac{\Delta \vec{v}}{\Delta t} = \frac{\vec{v}_2 - \vec{v}_1}{\Delta t}$$

لحظه یی تعجیل د P په نقطه کې عبارت دی د $\frac{\Delta \vec{v}}{\Delta t}$ له لیمت څخه، کله چې د 1 او 2 نقطې یو له بل سره څیرې نژدې شي. یو ځل بیا پورتنی شکل ته وګورئ، لیدل کېږي چې \vec{v}_1 او θ زاویې افقي خط له پاسه او \vec{v}_2 په همدې θ زاویې له افقي خط لاندې واقع دی. دواړه v_1 او v_2 د هغه کچې لرونکي دي چې په لاندې توګه دواړه وکتورونه کولای شو ولیکو:

$$\vec{v}_1 = (v \cos \theta) \hat{x} + (v \sin \theta) \hat{y}$$

$$\vec{v}_2 = (v \cos \theta) \hat{x} + (-v \sin \theta) \hat{y}$$

د پورتنیو اړیکو د پایلې له تفریق څخه \vec{a}_{av} دا ډول لاس ته راوړو:

$$\vec{a}_{av} = \frac{\vec{v}_1 - \vec{v}_2}{\Delta t} = \frac{-2v \hat{y}}{\Delta t}$$

په یاد ولرئ چې د \vec{a}_{av} لوري د P په نقطه کې د دایرې د مرکز په لوري دی. د محاسبې د بشپړولو لپاره Δt (هغه زمان چې جسم د 1 له نقطې څخه د 2 نقطې ته ځي) ته اړتیا لرو. لکه څنګه چې د جسم سرعت، v او $d = r(2\theta)$ دی، وهل شوي فاصله د 1 له نقطې څخه تر 2 نقطې پورې دی په نوموړې رابطه کې θ په رادیان اندازه کېږي، په پورتنۍ رابطه کې د d په وضع کولو سره، Δt د قیمت دا رنگه په لاس راوړو:

$$\Delta t = \frac{d}{v} = \frac{2r\theta}{v}$$

د له پرته کولو او د Δt قیمت چې په پورته \vec{a}_{av} ډول حاصل شوی، لرو:

$$\vec{a}_{av} = \frac{-2v \hat{y}}{\frac{2r\theta}{v}} = -\frac{v^2}{r} \left(\frac{\hat{y}}{\theta} \right)$$

د P په نقطه کې د \vec{a} د پیدا کولو لپاره راځئ چې د 1 او 2 نقطې د P نقطې ته نژدې حده نژدې کړو چې صفر ته تقرب وکړي. (ناسو پوهیږئ کله چې θ زاویه صفر ته تقرب وکړي، نو په هغه صورت کې چې $\sin \theta / \theta$ نسبت د 1 په لور تقرب کوي) یعنې:

$$\lim_{\theta \rightarrow 0} \frac{\hat{y}}{\theta} = 1$$

بالاخره لحظه یی تعجیل د P په نقطه کې عبارت دي له: $\vec{a} = -\frac{v^2}{r} \hat{y} = -a_c \hat{y}$

لکه څنگه چې وویل شول، د تعجیل لوری د دایرې د مرکز په لوري او لیدل کېږي چې مقدار یې $\frac{V^2}{r} = a_c$ دی. اوس پورتنۍ پایلې دا ډوله خلاصه کوو:

کله چې یو جسم د (r) په سرعت په دایره یي مسیر د (r) په شعاع حرکت کوي، الې المرکز تعجیل یې عبارت له $a_c = \frac{V^2}{r}$ څخه دی. یوه قوه باید پر جسم عمل وکړي ترڅو نوموړي جسم ته دایره یي حرکت ورکړي. د یو جسم لپاره د m د کتلې په لرلو، د محصله عاملي قوې کچه په دې ډول د لاندې رابطي له مخې ټاکل کېږي:

$$F^2 = ma_c = m \frac{V^2}{r}$$

د دې قوې لوري د دایرې د مرکز په لور موجه دی. باید پوه شو چې الې المرکز قوه ټولې کولای شي، په یو شمیر ډیرو لارو منځ ته راشي. د بیلګې په توګه ټولې قوې په پورتنۍ توګه د یو نار رابنګل دي، بنایي د اصطکاک له امله د سرګ او موټر د ټایرونو ترمنځ رامنځ ته شي (کله چې موټر په یو سرګ کې دوره وهي). کېدای شي د جاذبې داسې قوه وي چې د مصنوعي سپوږمۍ د څرخیدو او یا د ځمکې په شاوخوا د سپوږمۍ د دوران نسبت وي. نو ټولې عبارت له معني قوې څخه دی چې باید شتون ولري ترڅو د دایره یي حرکت سبب وګرځي.

4-5: د اصطکاک قوه

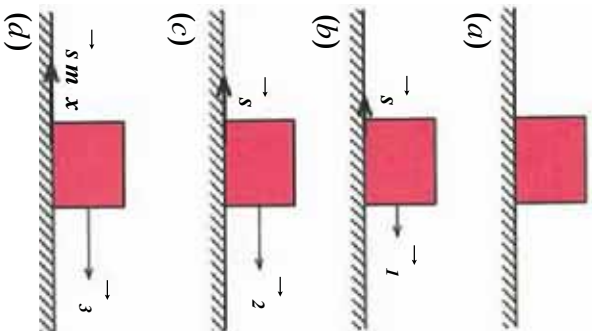
په پخوانیو ټولګیو کې د اصطکاک سره په لنډ ډول اشنا شوی. ورځنۍ تجربې ښيي چې که چېرې یوه ګلره له افقي سطحې پر مخ په حرکت راشي، نوموړې ګلره د یو څه واټن له وهلو څخه وروسته ودرېږي، په داسې حال کې چې د نیوټن د لومړي قانون پر بنسټ دغه ګلره باید خپل مستقیم الخط منظم حرکت ته د تل لپاره دوام ورکړي. اوکه چېرې یوه رقاصه په اهتزاز راوستل شي، کتل کېږي چې د زمان په تیریدو د رقاصې واټن له عمودي خط څخه ورو و کمېږي او په پایله کې رقاصه درېږي. اما د میخانیکي انرژي د تحفظ د قانون له مخې، د پتانسیل انرژي د بدلیدو دلیل په حرکتی انرژي باندې او د هغې برعکس، باید د نوموړې رقاصې اهتزاز له عمودي خط څخه په عین واټن په متناوبه توګه یا د تل لپاره تکرار شي او کموالی په دې واټن کې همځکه ونه کتل شي. په افقي سطحې باندې د ګلولې له ساکن کیدو او له عمودي خط څخه د رقاصې د واټن د کمیدو پایله ترلاسه کېږي چې حتما د هغو د حرکت د لوري په خلاف یوې قوې عمل کړی دی چې دې قوې ته د اصطکاک قوه وايي.

د اصطکاک قوه هغه مهال منځ ته راځي، چې یو جامد جسم پر بل جامد جسم، د مایع او یا ګاز په منځ کې حرکت وکړي. د اصطکاک قوه په دوو حالتونو کې څیږو.

1. جسم نسبت هغې سطحې ته چې پرې ایښی دی، رابنګل کېږي، خو ساکن پاته کېږي په دې حالت کې، د اصطکاک قوه د ستایکي (سکون) اصطکاک قوې په نامه یادوي.

2. جسم نسبت هغه سطحې ته چې ورباندې دی، په حرکت کې وي، په دې حالت کې د اصطکاک قوه دینامیکي (حرکي) اصطکاک قوه نوموي. په لاندې ډول هر یو تر مطالعې لاندې نیسو:

1 - سکون (ستاتیکی) اصطکاک، د جامداتو ترمنځ اصطکاک چې ټوله بل سره په تماس کې دي، د دې له امله منځ ته راځي چې د اجسامو د تماس سطحه هېڅکله اواره او مسطح نه وي. له دې امله کله چې یو جامد جسم د بل جامد جسم پرمخ رابنګل کېږي، په دې حالت کې د نوموړو اجسامو سطحې یو د بل له پامه اصطکاک تولیدوي.



اوس فرض کړئ یو جسم د (d) د شکل په څیر، د یوې افقي سطحې پرمخ د سکون په حالت کې دی. په جسم د \vec{s} قوه واردوو.

په پیل کې د دې قوې کچه کوچنۍ او له سره برابره نیسو. هغسې چې جسم ساکن پاته شي. د (b) شکل، څرنگه چې جسم ساکن دی، د نیوټن د دویم قانون له مخې باید پر جسم دواړه قوه محصله صفر وي، نو له دې کبله باید د \vec{s} په څیر افقي قوه پر جسم وارده شوي وي. تر څو د $\vec{1}$ قوې د اغیز په څنډې کولو سره، د جسم د حرکت د تعجیل نیولو مخه نیول شوې وي.

(4-16) شکلونه

د \vec{s} قوه د اټکاء سطحه پر جسم واردوي. دې قوې ته، «د ستاتیکی اصطکاک قوه» وایو.

$$a = -$$

$$m$$

$$a = 0$$

$$1 - s = 0 \Rightarrow s = 1$$

که په همدې ترتیب سره د $\vec{1}$ قوې کچه ور زیاته شي او د $\vec{2}$ کچې ته یې ورسوو، په دې حالت کې، که چېرې جسم همدارنگه ساکن پاته شي، استدلال له مخې دی، پایلې ته رسېږو چې د اصطکاک ستاتیکی قوه هم زیاتېږي او له $\vec{2}$ سره برابره شوي ده، له دې امله د \vec{s} قوې په زیاتولو سره د ستاتیکی اصطکاک قوه هم زیاتېږي.


که چیري په همدې ترتیب د \vec{v}_2 قوي کچه ورزیاته کړو او په \vec{v}_3 یې ونښو، جسم د حرکت په بهیر کې واقع کیږي. دا په دې معنا دي چې که چیري د v_0 کچه د v_3 د قوي له کچې څخه لږڅه زیاته شي، جسم ساکن نه پاته کیږي او په حرکت پیل کوي. په دې حالت کې د اصطکاک قوي ته «د حرکت په حال د اصطکاک قوه» ویل کیږي او په v_{sm} ښودل کیږي. د نیوتن له دویم قانون څخه پایله ترلاسه کېږي چې په وروستي حالت کې $v_{sm} = v_3$ دی او همدارنگه د اصطکاک کچه د حرکت پر مهال کولای شو، له لاندې رابطې څخه لاس ته راوړو: $(a) \dots \mu_s \dots = \mu_s \dots v_{sm}$

په دې رابطه کې N د اتکاء عمومي قوه ده، μ_s د ستاتیکی په اصطکاک ضریب نومېږي چې د هغو سطحو یو له بله سره په تماس کې دي، د هغو د نوعیت او طبیعت تابع دی. μ_s یو فزیکي کمیت یې له واحد دی. ولی؟

یادونه: د a رابطه یوازې په هغه حالت کې سمه ده چې جسم د حرکت په حال کې وي. له دې کبله د ستاتیکی اصطکاک پخپل وارد « μ_s » له کچې څخه کوچنی او زیات حد (Maximum) یې برابر له μ_s یعنی: $v_s \leq \mu_s$ دی.

مثال: یو جسم له 10kg کتلې سره د افقي سطحې پرمخ $0.4 = \mu_s$ ستاتیکی اصطکاک له ضریب سره په 25 نیوتن قوي سره راکاږو، خو په خوځول قادر نه یو. د اصطکاک قوه به د نیوتن د قانون له مخې څومره وي؟

$$\left. \begin{aligned} m &= 10\text{kg} \\ \mu_s &= 0.4 \\ &= 25 \\ V &= 0 \\ &= \end{aligned} \right\}$$



شکل (4-17)

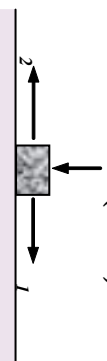
حل: څرنگه چې د F د قوي په واردولو سره، جسم حرکت نه کوي او ساکن پاته کیږي، په پایله کې د اصطکاک څرگنده شوي قوه هم د ستاتیکی اصطکاک قوه ده. په دې حالت کې لرو چې:

$$\Rightarrow v_s = 25$$


پوښتنه:

په مداخل شکل کې یو جسم له 2kg کتلې سره د افقي سطحې پرمخ قرار لري او د F_1 او F_2 قوي چې د هرې یوې کچه 5 نیوتن ده، پر جسم واردېږي، جسم د حرکت په حال کې دی. د جسم او افقي سطحې ترمنځ د ستاتیکی اصطکاک ضریب پیدا کړئ.

$$= (10 \times 2)$$

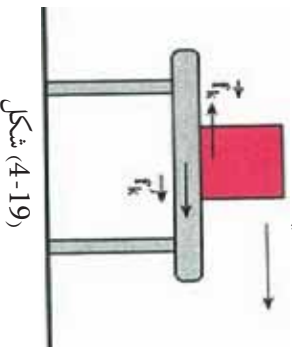


شکل (4-18)

د حرکتی (دینامیکی) اصطکاک قوه: فرض کړئ چې یو صندوق د یوې افقي سطحې پر مخ راکاږی. که چېرې صندوق نور نه راکاږی، گورئ به چې سرعت یې ورو، ورو کمېږي او څو شېبې وروسته درېږي. که چېرې موټر چې د افقي سطحې پر مخ د حرکت په حال کې دی، برک نیسي، له لږې مودې وروسته موټر درېږي. دې ته په پام کولو سره چې قوه، د سرعت د بدلون لامل دی، باید یوه قوه د جسم د حرکت په خلاف لوری، په جسم وارده شوې وي. دا قوه د اصطکاک له حرکتی (دینامیکی) قوې څخه عبارت ده. کله چې یو جامد جسم د بل جامد جسم پر مخ حرکت وکړي، د هر جسم د تماس سطحې ته موازي یوه قوه، د یو جسم پر جسم بل وارديږي چې د اصطکاک دینامیکی (حرکي) قوه نومېږي. په دې ځای کې هم د پورته رابطې په څیر لاندې معادله صدق کوي:

$$F_k = \mu_k \cdot$$

μ_k عبارت دی، د دینامیکی (حرکي) اصطکاک له ضریب څخه.



شکل (4-19)

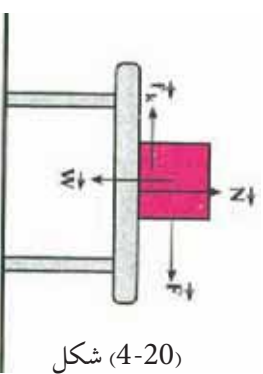
بحث وکړئ:

د تیرلگي په بیلابیلو ډولګې «د ستاتیکي اصطکاک او حرکتی اصطکاک قوو ترمنځ توپیر» په هکله پخپلو کې بحث وکړئ او پایله یې پر لگوالوته واورئ.

مثال: یو جسم په $12kg$ کتلې سره د یو تڼاب په مرسته چې ورسره وصل شوی دی، د افقي سطحې پر مخ راکاږو، که چېرې د افقي تڼاب لوری، د دواړو جسمونو د تماس د سطحې ترمنځ د حرکتی اصطکاک ضریب مساوي له 0.25 سره وي. پر جسم وارده شوې حرکتی اصطکاک قوه څو نیوتونه ده؟ ($g = 10m/s^2$ سره فرض کړئ).

حل: پر جسم واردي قوې په لاندې شکل کې ښودل شوي دي. څرنگه چې جسم د افقي سطحې په امتداد حرکت کوي، د نیوتن له دویم قانون څخه پایله ترلاسه کېږي، چې پر جسم وارده قوو محصله په عمودي لوري کې صفر دی:

$$\begin{aligned} - &= 0 \\ &= mg \\ &= 120 () \\ &= \mu_k \cdot \\ &= 0.25 \times 120 \\ &= 30 () \end{aligned}$$



شکل (4-20)

په دې رابطه کې G د جاذبي نړيوال ثابت نومېږي، په SI سيستم کې د کلي داندازه کولو واحد، کيلوگرام (kg)، د قوې د اندازه کولو واحد، نيوتن (N). د فاصلې د اندازه کولو واحد، متر (m) دی، نو G مساوي دی له: $6.67 \times 10^{-11} \frac{m^2}{kg^2}$

مثال: دوه جسمونه له $5kg$ او $12kg$ کتلو سره په يو مترې واټن کې يوله بله لرې واقع دي، د هغو ترمنځ د جاذبي قوه محاسبه کړئ.

$$\text{حل:} \Rightarrow 4 \times 10^{-9} = 6.67 \times 10^{-11} \times \frac{5 \times 12}{r^2} \Rightarrow \frac{m_1 \cdot m_2}{r^2}$$

لکه څنگه چې پورتنی مثال راښيي، د جاذبي قوه د دوو جسمونو ترمنځ له وړوکتلو سره، صرف د جاذبي قوه راښيي.



پوښتنه:

د ځمکې کتله تقریباً $6 \times 10^{24} kg$ او د ځمکې شعاع تقریباً $6.4 \times 10^6 m$ دی، د ځمکې د جاذبي قوه چې پر تاسو واردېږي، څو نیوټنه ده؟ (ددې قوې د محاسبې لپاره، د ځمکې کتله د ځمکې پرمختګ متمرکز فرض کړئ.

د وزن قوه - د جاذبي تعجیل

په دویم څپرکي کې، د اجسامو د آزاد سقوط په بحث کې، پوه شوی چې د آزاد سقوط په حرکت کې تعجیل، د ټولو جسمونو لپاره یو شان اوله g سره برابر دی، هغه قوه چې د دې تعجیل د منځ ته را تلو لامل کېږي، د نیوتن له دویم قانون څخه یې په دې توګه محاسبه کوو.

$$(2) \quad \Rightarrow ma = mg \dots \Rightarrow a = g$$

له بلې خوا پوهیږو چې د وزن قوه، د جسم د سقوط سبب ګرځي. که چېرې د وزن قوه په W ونښو،

$$(2) \quad \Rightarrow mg \dots (3) \Rightarrow W = mg$$

د وزن قوه عبارت له جاذبې قوې څخه ده چې ځمکه یې پر جسم واردوي، که چېرې د ځمکې کتله او شعاع په ترتیب سره په M_e او R_e ونښو، د (1) رابطې څخه په ګډې اخیستلو کولای شو، د جسم وزن، یعنې پر جسم د ځمکې د جاذبي قوه دا ډول حساب کړو.

$$(4) \quad \Rightarrow \frac{m \cdot m'}{2} \dots$$

(3) او (4) روا بطو له پرته کولو دا پایله لاس ته راځي:

$$(5) \quad \Rightarrow g = \frac{m \cdot m'}{2} \dots$$

نوٽ: ڇو مره ڇي د ځمڪي له سطحي څخه لري شوه، د g ڪجهه ڪمپري، ڪه ڇيري د ځمڪي له سطحي څخه د h په ڪيفي ارتفاع ڪي، g او g' سره برابر فرض ڪرو، نو و به لرو:

$$g' = \frac{g}{(1+h)^2}$$


ڇيڙه وکړئ:

ڇيڙه وکړئ ڇي د ڇاڙي نړيال ضرب G د لومړي ځل لپاره د چالخوا محاسبه شوه، دهغه دکار طريقي په لنډه توگه ټولگي ته رپورټ ورکړئ.

پوښتنه:



ځمڪي د G قيمت د (1) رابطي په مرسته محاسبه شوه. دي ته په پام ڪولو سره ڇي د g منځنۍ ڪچه د ځمڪي په سطحي ڪي د 9.8 m/s^2 په شاوخوا او د ځمڪي شعاع $6.4 \times 10^6 \text{ m}$ دي. د ځمڪي ڪله محاسبه کړئ.

پراشوت



شکل (4-22)

د پراشوت د حرکت د مطالعه کولو لپاره پکار دي ڇي د يو جسم ازاد سقوط ڇي د سقوط پر مهال يي تعجيل د ځمڪي په فضا ڪي د هوا د مقاومت دشتون له امله په تغير ڪي دي، مطالعه ڪرو. يو هوا باز له پراشوت څخه په دي موخه گټه اخلي ڇي د هوا د مقاومت يوه ستره قوه يي گڼي وي ترڅو وکولای شي، د خپل وزن له قوري سره موازنه منځ ته راوړي او هغه پورته خواته راکاږي. (د رابنڪلود دي قوري ڪچه حتي ڪه پراشوت خلاص هم نه وي، د صرف نظر وړ نه ده، په دي ډول حالت ڪي به، هوا باز له ډبر سرعت سره سقوط وکړي). پورته خواته د مقاومت د رابنڪلو قوه ڇي پر يوه جسم د سقوط په حال ڪي په هوا ڪي وارډيري (له دي وروسته به دا قوه په F_d وښيو)، د جسم د سرعت له زياتيدوسره په ائو مائيڪ ډول زياتيري او ڪچه يي د جسم د سرعت له مربع سره متناسب وي يعني: $d = bv^2$

د b قيمت ثابت دي، د جسم د اندازي او شکل سره اړوند وي او د مقاومت د قوري لوري د حرکت د لوري مخالف وي. څرنگه ڇي د سرعت له زياتيدو سره، د مقاومت قوه زياتيري، نو ڪله ڇي د رابنڪلو د مقاومت قوه، د جسم له وزن سره د مقدار له پلوه مساوي شي، په دي حالت ڪي به خامضا سقوط ڪوونځي جسم د تعادل په وضعيت ڪي واقع شي. هغه سرعت ڇي د مقاومت د قوري ڪچه په ڪي د جسم له وزن سره مساوي ڪيري، د جسم د حالي سرعت په نامه ياديري. ڪله ڇي د جسم سرعت د يو حد سرعت ته نژدي ڪيري، تعجيل کوچني او ترټولو ڪمپري. ڪله ڇي جسم حالي سرعت ته رسيري، تعجيل يي صفر ڪيري.

که حلدی سرعت په V_1 وښیو، لکه څنګه چې د مقاومت د قوې کچه په دې سرعت کې د جسم له وزن سره مساوي ده، نو له دې کبله کولای شو ولیکو: $d = mg = bV_1^2 \Rightarrow b = mg/V_1^2$

نو له دې امله د هر اختیاري سرعت لپاره لیکلای شو: $d = mg \frac{V^2}{V_1^2}$

د جسم حلدی سرعت د هغه د کچې شکل او کتلې سره اړوند وي. لاندې جدول د څو جسمونو حلدی سرعت د بیلګې په ډول ښیي.

جسم	حلدی سرعت (m/s)
د چرګ بڼکه	0.5
د واورې دانه	1
د باران څانګې	7
هوا بارزله واز پراشوت سره	5-9
الوتنګې عقاب	50-60
هوا باز له الوتنګې پراشوت سره	80
مرمی	100

مثال: دوه هوا بازاران چې یو ډول پراشوتونه لري او کتلې یې (د پراشوتونو په ګډون) g او $82.0g$ دي. کوم هوا باز حلدی زیات سرعت لري او د حلدی سرعتونو نسبت یې څو دی؟

د مثال حل لپاره لارښوونې:

څرنګه چې پراشوتونه یو ډول دي، نو هیله داده چې په یو ټاکلي سرعت باید د مقاومت رابنګونو کې قوې کچه پر دواړو پراشوتونو یو ډول عمل وکړي. هغه هوا باز چې وزن یې زیات دی، د دې لپاره چې د مقاومت قوه یې د هغه له وزن سره برابره وي، ژر سقوط وکړي. له دې امله د g 82.0 هوا باز باید ډېر حلدی سرعت ولري. د حلدی سرعتونو نسبت د ټاکلو لپاره، په پیل کې بیا مو چې څرنګه حلدی سرعتونه د کتلې مربوط کېږي، وروسته به په دې سرعتونو کار وکړو.

حل: د V_1 په حلدی سرعت کې د مقاومت قوه باید د جسم له وزن سره مساوي وي یعنې:

$$mg = d = bV_1^2$$

خرنگه چې پراشوتونه یو ډول دی، گورو به چې د b ثابت قیمت د دواړو پراشوتونو لپاره مساوي وي، له دې امله $V_1 \propto \sqrt{m}$ ، نو دروند هواپاز حلدي ډېر سرعت لري او هغه د دې لپاره چې د مقاومت قوه له خپل وزن سره په توازن کې راوړي، باید چټک حرکت وکړي. نو د حلدي سرعتونو نسبت به یې په دې ډول وي:

$$\frac{V_{12}}{V_{11}} = \sqrt{\frac{m_2}{m_1}} = \sqrt{\frac{82,0 \text{ g}}{62,0 \text{ g}}} = 1,15$$

د g 82,0 وزن لرونکي هواپاز حلدي سرعت د کم وزنه هواپاز له 1,15 چنده حلدي سرعت سره برابر دی یعنې 15 یې چټک حرکت کېږدی.

مباحثه: د g 82,0 هواپاز 32 دروند دی، څنګه: $\frac{82,0 \text{ g}}{62,0 \text{ g}} = 1,32$ خو حلدي سرعت فقط 15 ډېر دی او لامل یې دا دی چې د مقاومت قوه د سرعت له مربع سره مستقیماً متناسب دی یعنې همدا 15 ډېر سرعت، د مقاومت قوه 32 زیاتوي، یعنې: $(1,32)^2 = 1,74$

تمرین

یو پیلوټ خپل ځان له پراشوت سره د ځمکې د سطحې له 2000m ارتفاع څخه له خپلې الوتکې غورځوي. که چیرې د پیلوټ مجموعي کتله له پراشوت سره 112Kg وي، د هوا د مقاومت قوه هغه مهال چې پیلوټ حلدي سرعت ته رسېږي، څومره ده؟

a- د توپ لومړنی تعجیل په هغه وخت کې چې توپ خپل حلدي سرعت ته رسېږي حساب کړئ.

b- د توپ تعجیل په هغه وخت کې چې توپ خپل حلدي سرعت نیمایي ته رسېږي پیدا کړئ.

c- د توپ تعجیل په هغه وخت کې چې سرعت یې د حلدي سرعت نیمایي ته رسېږي پیدا کړئ.

د مثال د حل لپاره لارښوونه:

د γ مثبت محور انتخابو تر څو د معمول په شان یې نقطې د پورته په لور پرمخ په نښه کړو. څرنگه چې توپ د سکون له حالت څخه غورځول کېږي، نو له دې امله هغه یوازینی قوه چې د غورځولو په لومړۍ شیبه کې پرې عمل کوي، د ځمکې د جاذبې قوه ده په دې شیبه کې چې سرعت صفر دی، د هوا د مقاومت قوه هم صفر ده. کله چې توپ په حرکت کې دی، د مقاومت قوه پر جسم په وارده متوجه قوه کې ونډه لري.

حل:

a. څرنگه چې د مقاومت قوه صفر ده. لومړنی تعجیل مساوي د ازاد سقوط له تعجیل سره دی، یعنې:

$$\vec{a} \rightarrow (a = g)$$

b. کله چې توپ خپل حلدي سرعت ته رسېږي، د مقاومت د قوي کچه مساوي د توپ له وزن سره وي، خو په مخالف لوري کې عمل کوي او څرنگه چې په دې حالت کې پر توپ متوجه قوه صفر ده. نو تعجیل په حلدي سرعت صفر وي، یعنې: $a = 0$

C. کله چې په نیم حدي سرعت کې د غورځیدو په حال دی، د مقاومت قوه مهمه ده، خو دا قوه د توپ له وزن څخه کمه ده. محصله قوه په ښکته لور او د دې له مخې تعجیل هم (څومره چې په کمه کچه) مخ په ښکته عمل کوي. پوهیږو چې د مقاومت قوه په هر سرعت کې د لاندې رابطې په مرسته ټاکل کېږي.

$$d = mg \frac{V^2}{V_f^2}$$

او همدا رنگه پوهیږو چې دا قوه د وزن د لوري خلاف په پورته لوري عمل کوي، نو منته عمودي قوه په دې ډول لیکو:

$$\sum_y = d - mg = mg \frac{V^2}{V_f^2} - mg = mg \left(\frac{V^2}{V_f^2} - 1 \right)$$

د نیوټن د دویم قانون په تطبیقولو سره لرو:

$$\sum_y = ma_y$$

تر لاسه شوی تعجیل د قیمت د لاسته راوړلو لپاره کولای شو چې ولیکو:

$$ma_y = mg \left(\frac{V^2}{V_f^2} - 1 \right) \Rightarrow a_y = g \left(\frac{V^2}{V_f^2} - 1 \right)$$

په یوه وخت کې سرعت مساوي له نیم حدي سرعت سره دی، یعني: $\frac{V}{V_f} = \frac{1}{2} \Rightarrow \frac{V^2}{V_f^2} = \frac{1}{4}$

$$a_y = g \left(\frac{1}{4} - 1 \right) = -3/4 \times g$$

نود توپ تعجیل $a = 3/4 g$ او د $a = g$ دواړه لوري مخ په ښکته دي.

مباحثه: څرنگه کولای شو، پوه شو چې د هوا مقاومت د صرف نظر وړ دی؟ که چېرې موږ د جسم

په حدي سرعت په اټکلي ډول پوه شو، په هغه وخت کې په پوه شو چې څومره د جسم سرعت د هغه د حدي سرعت پرتله لږ وي، په هماغه کچه د هوا مقاومت تر ډېره د صرف نظر وړ نه وي.

فعالیت:



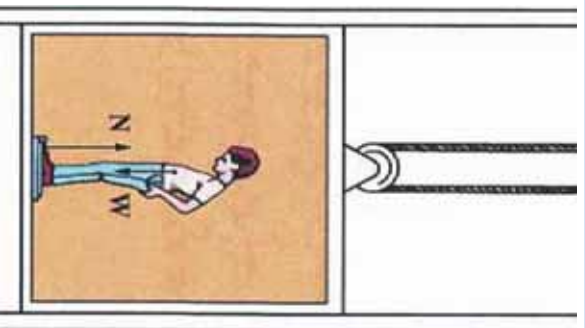
یو لور یا یو اوچت محل ته وختیږئ، پر یوې زنبې پورته شی اوله هغه ځایه یو توکری. شکله کاغذ لکه د یکې کاغذې، جامګې او یوه پنځه افغانیګې سکه په یوه وخت خوشې کړئ. د هوا مقاومت د سګې په وړاندې د صرف نظر وړ دی، خو دا چې له ډیرې لوړې ارتفاع څخه خوشې شي. په داسې حال کې چې د هوا مقاومت د کاغذې توکری، په وړاندې ډېر د پام وړ دی او توکری تدریاً یو نا ځایه خپل حدي سرعت ته رسېږي. څو کاغذې توکری (له دوزنه تر څلورو دانو) سره یوځای کړئ او هغوی له لومړني توکری سره یوځای خوشې کړئ. څه به وګورئ؟ د کاغذې توکریو حدي سرعت زیات دی؟ ولې؟



اوس يوه بوکړی کاغذ کولو کړی او بیا هغه په یو وخت له سسکې سره خوشې کړی. و به گوری په داسې حال کې چې د هوا مقاومت اوس بدلون موندلی، خو اوس هم د پاملرنې وړ دی. ولې؟
 په دې هکله په ډلو کې بحث وکړئ او لاندې شکل ته چې یو ستروربو سکوپیک تصویر دی او د دوو جسمونو سقوط په هوا کې له ډېر توپیري حلې سرعتونو سره ښيي، وگورئ، او په مرسته یې د هغه فعالیت په هکله چې ترسره کړی مو دی، په ډلو کې بحث او مناقشه وکړئ (تصویرونه په زماني وقفو 1، 1.5، 2، 3 کې عکاسي شوي دي)
 شکل (4-23)

4-7: لفت

لغت څه شی دی؟ ایا تراوسه موله ځانه پوښتنه کړې ده چې لغت د فزیک له نظره څنگه کار کوي؟ کله چې د لغت د نښه یاست او لغت د V په ثابت سرعت پورته او یا ښکته حرکت کوي، څه پېښیږي؟ او که چیرې لغت د a په ثابت تعجیل په حرکت پیل وکړي، څه پېښیږي؟ او... دا ټولې هغه پوښتنې دي چې تاسو به د دې لوست په پای کې هغو ته د ځواب ورکولو وړتیا ترلاسه کړئ.



پورته پوښتنو ته د ځواب ورکولو لپاره، لاندې مثال ته پام وکړئ: فرض کړئ چې یوتن د m له کتلې سره د لغت د نښه پر یوه فزري تله ولاړ دی. پرفزري تلي د واردي قوې کچه په لاندې دريو حالتونو کې تر مطالعي لاندې نيسو:

شکل (4-24)

- 1- که چیرې لغت ساکن وي: په دې حالت کې خرنګه چې لغت ساکن دی، په پایله کې د حرکت تعجیل به صفر وي. پر شخص واردي قوې په (4-24) شکل کې ښودل شوي دي، نو د نیوټن دویم قانون له مخې لیکلای شو:

$$a = 0$$

$$= - = 0$$

$$= mg \dots \dots \dots (1)$$

په دې حالت کې داسې پایله ترلاسه کولای شو چې: کله چې یوتن د لغت د نښه دی اود لغت تعجیل صفر دی، فزري تله یوازې د جسم د وزن قوه یعنې mg رانښيي.

2 - لفت د a په ثابت تعجيل پورته لوري ته په حرکت پيل کوي: په دې حالت د حرکت تعجيل د a په اندازه مخ په پورته دی او د نيوتن دويم قانون ته په پام کولو سره کولای شو وليکو چې:

$$\begin{aligned} &= ma \\ - &= ma \\ -mg &= ma \\ &= ma + mg \\ &= m(a + g) \dots\dots (2) \end{aligned}$$

3 - لفت د a ثابت تعجيل په لړلو بڼگنه لور په حرکت پيل کوي: په دې حالت کې هم، د حرکت تعجيل د a په کچه مخ په بڼگنه دی (د حرکت مخ بڼگنه لوري مثبت په نظر کې نيسو) او د نيوتن دويم قانون ته په پام کولو سره کولای شو وليکو چې:

$$\begin{aligned} - & ma \\ mg - &= ma \\ &= mg - ma \\ &= m(g - a) \dots\dots (3) \end{aligned}$$

نوټ: د پورتيو درو حالتونو ته په پام کولو سره کولای شو، پایله ترلاسه کړو: «کله چې لفت ساکن دی او يا له ثابت سرعت سره حرکت کوي، هغه عدد چې فزري تله يې نښي، د شخص له ريښتي وزن سره برابر دی، يعنې: $(=)$. کله چې لفت له ثابت تعجيل سره مخ پورته حرکت کوي، هغه عدد چې فزري تله يې نښي، د شخص له واقعي وزن څخه ډېر دی، يعنې $(>)$ ، کله چې لفت د مثبت تعجيل په لړلو سره مخ په بڼگنه حرکت کوي، هغه عدد چې فزري تله يې نښي د شخص له ريښتي وزن څخه کم دی، يعنې: $(<)$.

مثال: يوتن له 70kg کتلې سره د لفت د دننه ولاړدی، هغه عمودي قوه چې د لفت قاعده يې پر شخص واردوي، په لاندې حالاتو کې محاسبه کړئ.

- a- لفت ساکن دي
 - b- لفت په ثابت سرعت مخ پورته حرکت کوي.
 - c- لفت په $2m/s^2$ ثابت تعجيل پورته خوا ته په حرکت پيل کوي، $g = 10\text{ m/s}^2$ دې فرض شي
- حل:** (a) څرنگه چې لفت ساکن دی، د حرکت تعجيل صفر دی او په پایله کې:
- $$\begin{aligned} &= - = mg \\ &= mg \\ &= 70 \times 10 = 700 \end{aligned}$$

b) په دې حالت کې چې لفت له ثابت سرعت سره مخ پورته خواته په حرکت کې دی، په پایله کې د حرکت تعجیل صفر دی او د a د محاسبې په څېر پایله تر لاسه کېږي چې $700 = \text{دې}$.

c) په دې حالت کې د حرکت تعجیل $12m/s^2$ او مخ په پورته خواته دي او د نیوټن دویم قانون ته په پام کولو ولرو چې:

$$\begin{aligned} - &= ma \\ -700 &= 70 \times 2 \\ &= 840 \end{aligned}$$



پوښتنه:

یو تن په لفت کې د بېرې فزې تې د پامه ولاړ دی. د نوموړي شخص کتله 50 kg ده، په لاندې حالتونو کې فزې تله کوم عدد نښي:

- a- لفت له $2m/s^2$ تعجیل سره مخ پورته خواته حرکت کوي.
- b- لفت له $2m/s^2$ تعجیل سره مخ ښکته خواته حرکت کوي.
- c- لفت په ثابت سرعت حرکت کوي.

د مصنوعي سپوږمکیو د حرکت دایروي مدارونه

لکه څنګه چې پوهېږو، مصنوعي سپوږمۍ د ځمکې په شاوخوا کې تقریباً د یوه دایره یي مسیر پر مخ حرکت کوي. اوس فرض کړئ چې یو سړی د مصنوعي سپوږمۍ په منځ کې دی ستاسو له نظره نوموړي سړی خپل حرکت نسبت ځمکې ته څنګه ویني؟ کومې قوې په مصنوعي سپوږمۍ عمل کوي؟



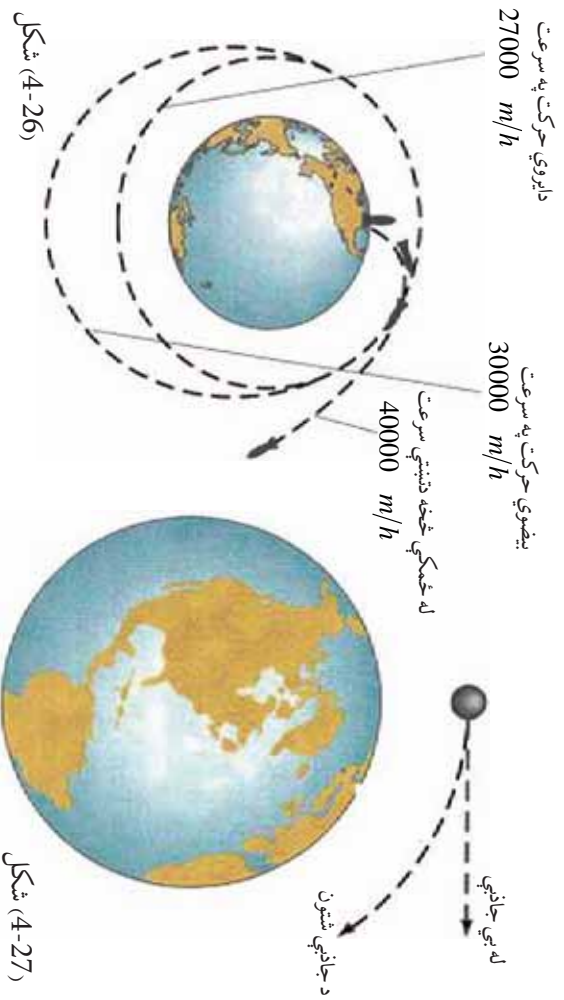
هغه سړی چې په مصنوعي سپوږمۍ کې دی، چې مصنوعي سپوږمۍ تل له ځمکې څخه همدا یووالن لري (د دایروي مسیر له امله یې). یا په بل عبارت دغه سړي گوري چې مصنوعي سپوږمۍ نسبت ځمکې ته ساکنه دی .

شکل (4-25)

نوله دي امله نوموړي سړی دې پایلې ته رسیږي چې هېڅ یوه قوه پر مصنوعي سپوږمۍ عمل نه کوي. خو هغه څه ته په پاملرنې چې د دایروي حرکتونو په هکله مو ولوستل، کولای شو وایو چې په مصنوعي سپوږمۍ دوي قوي عمل کوي. یوه د جاذبې قوه mg او بله له مرکز څخه د تینټي قوه $m\omega^2$ ، چې دواړه قوي یوه له بلې څخه په مخالفو لورو کې دي. څرنگه چې مصنوعي سپوږمۍ د هغه سړی له نقطه نظره چې په مصنوعي سپوږمۍ کې دي، ساکن دی، نوله دي امله ویلی شوي چې دوي پورتنۍ قوي یوه له بلې سره د توازن په حال کې دي. او یا په بل عبارت، دا دوي قوي یوه له بلې سره مساوي دي. یعنې:

$$m \cdot g = m \omega^2 \dots (1)$$

$$g = \omega^2$$



څرنگه چې $\omega = \frac{V}{r}$ دی او V د مصنوعي سپوږمۍ خطي سرعت دی، نو د قیمت په وضع کولو سره لرو چې:

$$g = \frac{V^2}{r} \dots (2)$$

له دې څخه پایله تر لاسه کېږي هغه سړی او نور شیان د مصنوعي سپوږمۍ په منځ کې د حرکت پر مهال بې وزله کېږي. ځکه د (1) معادلي په اساس د مصنوعي سپوږمۍ وزن مساوي دی، له مرکز څخه تینټي قوي سره او د هغو محصله صفر ده.

د څلورم څپرکي لنډيز



- د نیوټن د حرکت قوانین، په کلاسیک فزیک کې د حرکت پېژندنې ډیر مهم قوانین دي.
- د نیوټن لومړی قانون (دعطالت یا انرشیا قانون) بیانوي چې: یو جسم د سکون حالت او د مستقیم خط پرمخ خپل حرکت ساتي، خو کله چې د یوې قوې تراغېزې لاندې، د خپل حالت تغییر ته اړ کړای شي.
- مصنوعي سپوږمکۍ چې د بشر لخوا هوا ته توغول کېږي، د نیوټن له درېم، قانون څخه ګټه اخیستل کېږي.
- د نیوټن دویم قانون بیانوي چې: که چېرې پر یوه جسم قوې واردې شي، جسم داسې تعجیل اخلي چې پر جسم د واره قوه له محصلې سره مستقیم نسبت او ورسره عین لوري لري او د جسم له کتلې سره معکوس نسبت لري چې په لاندې ډول بیانېږي.

$$\vec{a} = \frac{\vec{F}}{m} \quad \text{یا} \quad \vec{F} = m\vec{a}$$

- د نیوټن درېم قانون بیانوي چې: هر کله چې یو جسم پر بل جسم قوه واره کړي، دویم جسم هم په لومړي جسم برابر قوه په مخالف لوري واردي، چې په لاندې توګه لیکل کېږي.

$$\vec{F}_{12} = - \vec{F}_{21} \dots\dots\dots$$

$$\text{له سکالري پلوه} \quad F_{12} = - F_{21} \dots\dots\dots$$

- د اټکاء عمومي قوه، یو له هغو قوو څخه ده چې ځانګړی قانون ورته نه لري، یعنې داسې رابطه نه شته چې په مرسته یې وکولای شو، د دې قوې کچه محاسبه کړو، لکه څنګه چې مولوسټل، د دې قوې کچه د نیوټن د دویم قانون په مرسته محاسبه کړو.

- د ستاینکي اصطکاک قوه: جسم نسبت و هغه سطحې ته چې پرې ایښي، راکښ شوي خو، ساکن باقي پاتې کېږي، په دې حالت کې، د اصطکاک قوې ته د ستاینکي اصطکاک قوه وايي. د ستاینکي اصطکاک قوه د لاندې رابطې له مخې لاس ته راځي: $F_s \leq \mu_s \cdot F_n$

- کله چې جسم نسبت هغې سطحې ته چې پرې حرکت کوي، په دې حالت کې د اصطکاک قوې ته د حرکتې (د ښامیکي) اصطکاک قوه وایو چې په لاندې ډول لیکل کېږي: $F_k = \mu_k \cdot F_n$

μ او μ په ترتيب سره د ستاتيکي او د پناميکي اصطکاک له ضريب څخه عبارت دي چې د اندازه کولو واحدونه نلري.

که چيرې د دوو ذرو کتلې m_1 او m_2 وي او د دوی تر منځ واټن r وي، د F د دوو ذرو ترمنځ د جاذبې قوې کچه له لاندې رابطې څخه په لاس راځي: $\frac{m_1 \cdot m_2}{r^2} =$ پورتنۍ رابطه د نيوتن د جاذبې له قانون څخه عبارت ده چې د m_1 او m_2 دوو کتلو له حاصل ضرب سره مستقیمه رابطه او

د دې دوو کتلو ترمنځ د واټن له مربع سره معکوسه رابطه لري:

- د وزن قوه عبارت له جاذبې قوې څخه ده چې ځمکه يې پر جسم واردوي.

- د ځمکې د جاذبې د قوې کچه چې پر جسم واردېږي، له لاندې رابطې څخه لاس ته راځي:

$$= \frac{m}{2}$$

- د مقدار د $g = \frac{g}{2}$ له رابطې څخه لاسته راځي.

- که چيرې جسم د ځمکې له سطحې څخه د h په ارتفاع کې وي، په پايله کې پورتنۍ رابطه په لاندې شکل ليکل کېږي:

$$g = \frac{g}{(1 + h)}$$

- کله چې لفت په ثابت سرعت حرکت کوي، سره، که چيرې لفت له ثابت تعجيل سره منځ په پورته حرکت وکړي، هغه مهال < څخه، او که چيرې لفت له ثابت تعجيل سره منځ په ښکته حرکت وکړي، په پايله کې < څخه وي.

- پر مصنوعي سپوږمکيو دوي قوې عمل کوي، يوه يې د جاذبې قوه (مرکز ته د جذب قوه) او دويمه يې له مرکز څخه د تېښتې قوه.

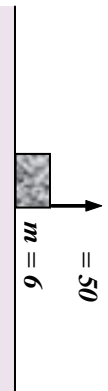
د څلورم څپرکي پوښتي

1. د نیوټن د حرکت قوانین کوم شیان بیا نوي؟
2. د نیوټن لومړی قانون تعریف کړئ او له دې قانون څخه څه پایله تر لاسه کولی شو؟
3. عطالت یا انرشیا تعریف کړئ.
4. د نیوټن دویم قانون بیان کړئ او اړیکه یې د اندازه کولو له واحدونو سره ذکر کړئ
5. د نیوټن دریم قانون تعریف کړئ.
6. یو موټر ولې په یو افقي سرک چې مخه یې کنگل دی، نشي کولای د سرک له ګولایي څخه تابعیت وکړي او د مستقیم خط په امتداد له سرک څخه منحرف کېږي؟

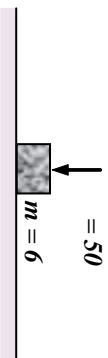
7. د نیوټن له لومړي قانون څخه درې مثالونه بیان کړئ.
8. پر یو جسم له $2Kg$ کتلې سره ، 20 نیوټنه قوه واردېږي:

- a- د جسم د حرکت تعجیل محاسبه کړئ.
- b- که چېرې قوه، 30 نیوټنه شي، د حرکت په تعجیل کې څه ډول تغیر رامنځ ته کېږي؟
9. دوه جسمونه له m_1 او m_2 کتلو سره چې پر یوې افقي سطحې د سکون په حالت کې دي ، د یو ډول قوو تر اغیز لاندې په حرکت پیل کوي. که چېرې د t زمان له تیریدو څخه یې سرعت په ترتیب v_1 او v_2 شي، د $\frac{v_2}{v_1}$ نسبت محاسبه کړئ.
10. یو جسم د سقوط په حال کې دی (د هوا له مقاومت څخه تیرشي) کومې قوې پرې واردېږي؟ د دې قوو عکس العمل مشخص کړئ.

11. د نیوټن د جاذبې قانون بیان کړئ او رابطه یې ولیکئ.
12. دوه جسمونه له $2Kg$ او $5Kg$ کتلو سره یو له بل څخه په $\sqrt{6.67}$ متري واټن کې لري دي، د هغو ترمنځ جاذبوي قوه حساب کړئ.
13. په لاندې شکلونو کې د اټکاء عمودي قوه حساب کړئ ($g = 10 m/s^2$ دي فرض شي)



(b)



(a)

14. له شکل سره سم، یو جسم له تناب سره تړلی او هغه مو په عمودي استقامت کې ساتلی دی.
 - a- که چېرې د ستگاه له $2m/s^2$ تعجیل سره مخ پورته حرکت وکړي، د تناب د رابنګلو اکشش) قوه معلومه کړئ.
 - b- که چېرې د ستگاه له $2m/s^2$ تعجیل سره مخ په لاندې حرکت وکړي، د تناب د رابنګلو قوه به څو نیوټنه وي؟



c- که چیري د ستگاه په ثابت سرعت حرکت وکړي، د تباب د رابنډلو قوه به څومره وي؟

15. د اصطکاک دقوي د ډولونو نومونه واخلئ او څرگنده کړئ، چې دا قوي څه وخت څرگندېږي.

16. یو جسم له 20Kg کتلې سره د یوې افقي سطحې پرمخ چې ستایکي ضریب یې $\mu_s = 0.5$ سره ایښی او هغه په 25 نیوتن افقي قوې سره رااډاږو، خو په ښور ولولې قادر نه یو د اصطکاک قوه به د نیوتن پر بنسټ څومره وي؟


17. یو جسم د یوه فنر له څوکي سره په یو لښت کې څړول شوی دی، د جسم کتله 5Kg او د فنر ثابت $1000 / m$ د فنر د اوږدوالي بدلون په لاندې حالتونو کې حساب کړئ:

- a- لفت له $3m/s^2$ تعجیل سره مخ پورته په حرکت پیل کوي.
- b- لفت له $3m/s^2$ تعجیل سره مخ ښکته په حرکت پیل کوي.

c- لفت له ثابت سرعت سره حرکت کوي.

18. غواړو یو جسم ته چې 10Kg کتله لري، $3m/s^2$ تعجیل ورکړو، د هغې قوې کچه چې باید پرې واده یې کړو، په لاندې حالتونو کې حساب کړئ:

- a- جسم د افقي سطحې پرمخ پرته له اصطکاک څخه حرکت کوي.
 - b- جسم پرافقي سطحه له 0.1 حرکي اصطکاک ضریب سره، په حرکت کې دی.
 - c- جسم په قایم مسیر کې مخ پورته حرکت کوي.
 - d- جسم په قایم مسیر کې مخ ښکته حرکت کوي.
19. د m_1 او m_2 دوه جسمونه د یوې اوازې اوصفا افقي سطحې پرمخ دي، د m_1 کتلې کچه له 10Kg او د m_2 کتلې کچه 5Kg ده، د افقي قوه چې کچه یې 30N ده، د شکل په څیر، په m_1 وادېږي، هغه په حرکت راوړي، پیدا کړئ چې د m_2 کتلې لخوا څومره قوه په m_1 کتلې باندې وادېږي؟



20. دځمکې د کروي کتله $6 \times 10^{24} \text{kg}$ او د سپوږمۍ د کروي کتله تقریباً 7.4×10^{22} او د ځمکې د کروي د مرکز واټن د سپوږمۍ د کروي له مرکز څخه تقریباً $4 \times 10^5 \text{ km}$ دی.

- a- د جاذبې قوه چې ځمکه یې پر سپوږمۍ وادوي، محاسبه کړئ او ووايي چې دا قوه سپوږمۍ ته څومره تعجیل ورکوي؟
- b- د سپوږمۍ د جاذبې قوه پر ځمکې څومره ده؟ دا قوه ځمکې ته په کومه کچه تعجیل ورکوي.

پنځم څپرکی کار، میخانیکي انرژي او طاقت



ورزش کوونکي ډیسیس بال په توپ د پوي قوي په تطبیقولو سره، په یو لور او چټک سرعت سره تعجیل اچستلو ته چمتو کوي. هغه د پوي داسې قوي په تطبیقولو سره چې برصت په نبي ښايي توپ ته په متروبو د موقعیت تغییر ورکوي، یو داسې کار په ترسره کوي چې مجموعه به یې له $(\frac{1}{2}mv^2)$ حرکتی انرژي سره مساوي، چې د توپ د سرعت ورکولو لپاره اړینه ده وي. همدې لاسته راغلي پایلې ته د رکار- انرژي) قانون وايي.

تر اوسه پوري مور د یو جسم انتقالی حرکت د نیوتن د درو قوانینو له پلوه مطالعه کړ، د پورتنیو قوانینو پر بنسټ، قوي د حرکت ټاکونکي کمیت په توگه مرکزي رول لوباو. په دې څپرکی او تردې وروستی څپرکی کې به، مور له مختلفو تحلیلونو سره د انرژي او مومنتم کمیتونو له پلوه د اجسامو د انتقالی حرکت په هکله بحث وکړو.

د انرژي او مومنتم بنسټیز اهمیت د هغو د تحفظ په ځانگړي خاصیت کې دی. یعنې هغوی په عمومي حالتونو کې ثابت پاته کېږي. د تحفظی مقادیر و شتون نه یوازې دا چې مور ته د نړۍ په طبیعت کې د ژور لیدلو قدرت راکوي، بلکې د عملي مسایلو حل ته د رسیدو بله لار موز ته رابښي. د انرژي د تحفظ او مومنتم قوانین په ځانگړي ډول د اجسامو له مختلفو سیستمونو سره چې له بیلابیلو قوو سره سرواکار لري او د هغو اړوندو مسایلو حل چې ډېر گران اویا ناشونی ښکاري، ډېر د اهمیت وړ دی. دا قوانین په پراخ طیف کې، پدیدې او پیښې د اټوم او هستوي ذرو د نړۍ د پدیدو په گډون چې نور بکې د نیوتن قوانین عملي ندي، د تطبیق وړ دی. په دې څپرکی کې به تاسو د دوو ډېرو مهمو مفاهیمو یعنې کار او انرژي د بیلابیلو ډولونو په هکله چې له میخانیک سره تړاو لري معلومات ترلاسه کړئ. دغه دوه کمیټونه اسکار دي او څرنگه چې جهت لرونکي نه دي، مطالعه یې نسبت وکتوري مقدارونو ته آسانه ده. حرکتی انرژي چې له حرکت سره اړیکې لري او ذخیره وي انرژي چې د یو جسم له موقعیت سره تړاو لري، د انرژي دوه ډولونه دي چې په دې څپرکی کې به یې مطالعه کړئ. کار، انرژي او طاقت یو له بل سره اړیکې لري. د ماشینونو ډولونه چې په ورځني ژوندانه کې ورسره سرواکار لرو، معمولاً د هغه کاري کچې له مخې چې د هغو په مرسته ترسره کېدای شي او هغه طاقت چې تولیدوي یې تشریح کېدای شي، چې ددې څپرکی په پای کې به د نوموړو مفاهیمو په هکله اړین معلومات او بللنیا ترلاسه کړئ.

هغه کار چې د ثابتې قوې په مت ترسره کېږي

د کار مفهوم څه شی دی؟ هغه کار چې د یوې ثابتې قوې پر مت ترسره کېږي، څه ډول دی؟ څنگه کولای شو کار د فزیک له مخې وڅیړو؟ د اتم ټولګې په فزیک کې تر یوې اندازې د کار له مفهوم سره بلد شوی، د هغه څه یادولو لپاره چې د اتم ټولګې په فزیک کې مو مطالعه کړ، لاندې فعالیت ترسره کړئ.

فعالیت:

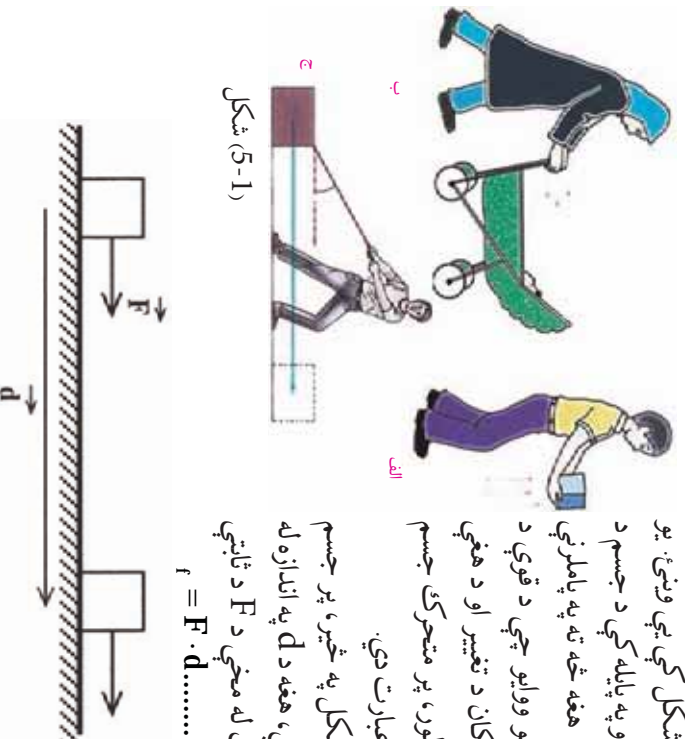


هغه شمېر کارونه، چې په خپل چاپېریال کې یې ونډه او یا له هغو سره مخامخ کېږئ یوې لیکې او خپل ټولګې ته یې وړاندې کړئ. ددې کارونو په ترسره کولو کې کومې ځانګړنې او ګڼه عناصر شته؟ دا پوښتنه په بېلابېلو ډلو کې تر بحث لاندې ونیسئ او بیا یې ټولګې ته وړاندې کړئ.

پورتنۍ ډګر شوي فعالیت ته په پام کولو سره، په کارونو کې چې ترسره کېږي، دوه ګڼه عنصرونه شتون لري.

1. پر اجسامو قوه واردېږي.
2. پر اجسامو د قوې دا عمل له امله، هغوی د حالت او موقعیت له تغیر سره مخامخ کېږي.

لکه څنګه چې په (5-1) شکل کې یې ونډه، یو سړی پر جسم قوه واردوي او په پایله کې د جسم د مکان د تغیر سبب ګرځي. هغه څه ته په پاملرنې چې وویل شول. کولای شو ووايو چې د قوې د مرکبې ضرب حاصل د مکان د تغیر او د هغې لخوا د وهل شوي واټن په لور، پر متحرک جسم د عاملې قوې له کار څخه عبارت دی. یعنې که چېرې د (5-2) شکل په څیر، پر جسم د \vec{F} په کچه قوه ورده شي، هغه د d په اندازه له ځایه بیخپه کړي، د تعریف له مخې د F د ثابتې قوې کار عبارت دی له: $(1) W = F \cdot d$



شکل (5-2)

د کار د اندازه کولو واحد د SI په سیستم کې عبارت له m څخه دی چې ژول نومېږي او د [په نښې ښودل کېږي، یعنې

$$1 \cdot m = 1 \dots\dots\dots (2)$$

د CGS په سیستم کې، د کار د اندازه کولو واحد عبارت له ارگ (rg) څخه دی، چې په لاندې توګه وړاندې کېږي:

$$1 \text{ rg} = 1 \text{ dm} \dots\dots\dots (3)$$

په انګلیسي سیستم کې کار په فوت پونډ ($oat - o \text{ d}$) سره اندازه کېږي، چې په دې ډول وړاندې کېږي:

$$1 = 10^7 \text{ rg} = 0.7376 \text{ t} - 1b \dots\dots\dots (4)$$



پوښتنه: د ټولګي په مختلفو ډلو کې (4) رابطه د ډلو د غړو په مرسته ثابتې کړئ. کار عبارت له یو سکالاري کمیت څخه دی. مثلاً که چېرې په (2-5) شکل کې کار د ځای او موقعیت له خوږ پرله پسې (متوالي) بدلون سره ترسره کړو، ټول کار کولای شو د ترسره شویو کارونو له جبري مجموعې څخه د ځایونو په هر بدلون کې لاس ته راوړو.

مثال: یو تن 70 افقي قوه پر یوه جسم وارد وي او هغه د 10m په اندازه بې ځایه کوي، هغه تن څومره کار کوي؟

حل: له (1) رابطې څخه لرو چې:

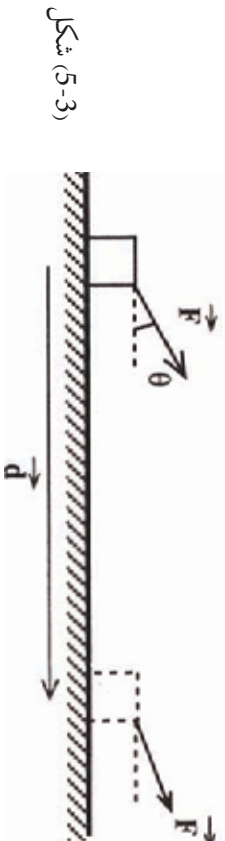
$$= \cdot d$$

$$= (70) (10m) = 700$$



پوښتنه: که چېرې یو تن له 30 سره برابره قوه پر یوه جسم وارد کړي او هغه د 0.5m په اندازه پورته بوځي، نوموړي تن څومره کار ترسره کړی دی؟ شکل ته په پام کولو سره که چېرې د F د وارده قوې او د d ځای د بدلون ترمنځ د θ زاویه شتون ولري. کار څرنگه تعریفولای شو؟ ددې موخې لپاره په لاندې ډول عمل کوو: فرض کړي چې پر جسم وارده قوه د (3-5) شکل په څیر د ځای د بدلون له وکتور سره د θ زاویه جوړوي. په دې حالت کې د F ثابتې قوې کار په لاندې ډول وړاندې کېږي:

$$= \cdot d = \cos\theta \cdot d \dots\dots\dots (5)$$



(3-5) شکل

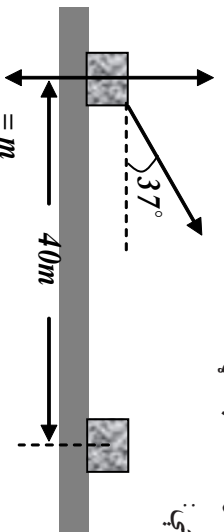
نوت: که چیري د (5) په رابطه کې، $\theta = 0$ شي، په پایله کې د (1) رابطه به لاس ته راشي.
مثال: 10N قوه په یوه جسم د 60° زاويې لاندې واردوو د (F) قوې کار د ځای په شپږمې متري بدلون کې حساب کړئ:

$$= d \cos \theta$$

$$= (10) \cos 60^\circ = 10 \cdot 6 \cdot \frac{1}{2} = \frac{60}{2} = 30$$

حل: د (5) رابطې له مخې لرو چې:

قوه کولای شي چې پریوه جسم عمل وکړي، خو هېڅ کار ترسره نشي. د مثال په ډول، تاسو د بښوونځي خپل بکس په لاس کې ونیسئ او ودرېږي، په دې حالت کې کار نه ترسره کوئ ولې؟
مثال: یو تن له $100 =$ ثابتې قوې سره، 50Kg جسم د 40m په اندازه بې ځایه کوي.
 که چیري د زاويې د وکتور او د ځای بدلون وکتور زاویه 37° وي او د اصطکاک قوه 50 وي.
 a. د هرې قوې کار چې پر جسم عمل کوي، لاس ته راوړئ.
 b. پر جسم د ترسره شوي کار مجموعه حساب کړئ.
حل: شکل ته په پام کولو سره لرو چې:



شکل (5-4)

a) د W او F_{in} قوو په واسطه ترسره شوي کار له صفر سره مساوي دي، ځکه چې:

$$g = m \cdot g \cdot d \cos 90^\circ = mgd \times 0 = 0$$

$$= d \cdot \cos 90^\circ = d \times 0 = 0$$

هغه کار چې د F_p قوې په مرسته ترسره کېږي، مساوي دی له:

$$= d \cos \theta = (100) (40m) \cos 37^\circ = 32000$$

هغه کار چې د اصطکاک له قوې سره ترسره کېږي:

$$r = r \cdot d \cos 180^\circ = (50) (40m) (-1) = -20000$$

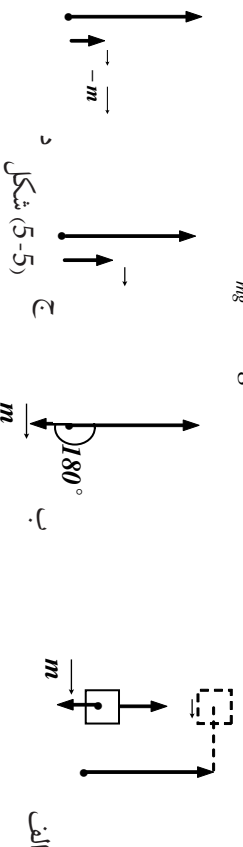
b) د ترسره شوي کار مجموعه () عبارت ده له: $r = r + r + r$

$$r = 0 + 0 + 32000 - 20000 = 12000$$

مثال: یو جسم د m له کتلې سره د (5-5) شکل سره سم د h په اندازه پورته ورو، د وزن د قوې کار څومره دی؟


حل: په دې حالت کې د وزن او د خلی بدلون وکتور ترمنځ زاویه 180° ده. په پایله کې:

$$mg = m \cdot g \cdot h \cdot \cos 180^\circ = mgh \quad (-1) \\ \Rightarrow mgh = mgh$$



تمرین: په شکل کې د F ثابتې قوه په (افقي امتداد کې په یو جسم د m په کتله وارديږي او هغه د یوې

- (a) د F قوې کار
- (b) اصطکاک قوې کار
- (c) د عکس العمل قوې کار
- (d) د وزن قوې کار
- (e) د قوې د محصلې کار



5-2 کار او حرکي انرژي

د پخوانیو معلوماتو له مخې پوهیږو چې د یو جسم حرکي انرژي د m کتله او د v سرعت له $\frac{1}{2}mv^2 =$ رابطې سره ښودل کېږي.

کله چې یو توپ لومړی په عمودي ډول هوا ته غورځوړ، د توپ سرعت په تدریجي توګه کمېږي. په دې معنا کې چې د توپ حرکي انرژي د پورته تلو پر مهال کمېږي، ددې پر خلاف که چېرې توپ د سکون له حالت څخه له یو لوړ ځایه راخوشي کړو، په پایله کې د توپ حرکي انرژي د ښکته راتلو پر مهال زیاتیږي.

مورز په ورځني ژوندانه کې په خپل چاپېریال او شاوخوا کې د اجسامو د انرژي د بدلون شاهدان یو، یو موټر چې برک یې کړی، حرکي انرژي یې کمېږي او.....

فعالیت:

نورې ښاګې چې د حرکي انرژي د بدلون په هکله په خپل چاپېریال کې ونښ، وبې لیکې او ټولګې ته یې وړاندې کړئ.

د کار او حرکتې انرژي د رابطې د ښې څيړني لپاره، يو جسم m په کتله (5-6) شکل سره سم په نظر کې ونيسئ. چې د وارده قوو محصله پري ثابتې او له \rightarrow سره برابر دي او جسم ددې قوې تر اغېز لاندې د d په اندازه پر يوه افقي سطحه د مکان تغيير کوي.



شکل (5-6)

لکه څنگه چې پوهېږو د F د قوې کار له لاندې رابطې سره حسابېږي. $\cdot d =$ له بلې خوا د نيوتن له دوهم قانون څخه په گټې اخيستلو کولای شو وليکو چې، $\cdot d = m \cdot d = F$ د قوې د اعمال له امله، د جسم سرعت د v_1 له کچې څخه (1) په نقطه کې د v_2 په کچه (2) په نقطه کې تغيير کوي او دا چې له پخوا څخه پوهېږو:

$$(1) \dots \dots \dots 2ad = v_2^2 - v_1^2 \text{ اویا } \frac{v_2^2 - v_1^2}{2d}$$

د $m \cdot g =$ په رابطه کې ددې رابطې په اېښودلو سره لرو چې:

$$\begin{aligned} &= m \cdot a \cdot d = m \left(\frac{v_2^2 - v_1^2}{2d} \right) d = m \left(\frac{v_2^2 - v_1^2}{2} \right) \\ &\Rightarrow \frac{1}{2} m v_2^2 - \frac{1}{2} m v_1^2 \dots \dots (2) \end{aligned}$$

ددې رابطې د ښې اړخ اول حد، د جسم حرکتې انرژي په (2) نقطه کې، او دوهم حذبې دجسم حرکتې انرژي په (1) نقطه کې دي.

په پایله کې که چېرې دوي حرکتې انرژي په ترتیب سره په K_2 او K_1 وښوو لاندې رابطه په لاس راځي:

$$= \Delta k \dots \dots (3) \text{ او یا: } k_2 - k_1$$

(3) رابطه د کار او انرژي قضیې په نامه یادېږي. او ددې قضیې له مخې پر يو جسم د محصله قوو ورکړ شوي کار د ځای په بدلون کې، د جسم د حرکتې انرژي له بدلون سره په همغه د ځای له بدلون برابر دی. ددې قضیې پر بنسټ که چېرې د محصله ثابتو قوو کار وي، $k_2 \leq k_1$ دی او حرکتې انرژي کمېږي، او همدارنگه که چېرې د محصلو قوو کار صفر وي، $k_2 = k_1$ دی او د جسم حرکتې انرژي تغيير نه کوي.



مفهومي پوښتنه: د اجسامو په حرکي انرژي کې

- a. که چېرې د جسم کتلې دوه برابره شي، حرکي انرژي به په څومره کچه تغیر وکړي؟
 b. که چېرې د جسم سرعت دوه برابره شي، د جسم حرکي انرژي به په څومره کچه تغیر وکړي؟ (په ټولګي کې پرې بحث وکړئ)

مثال: یو جسم له 1Kg کتلې سره له 10m ارتفاع څخه خوشي کوو، د کار او انرژي له قضیې څخه په ګټې اخیستلو، وټاکئ، کله چې جسم ځمکې ته رسېږي، حرکي انرژي یې څومره ده؟
 ($g = 10\text{m/s}^2$ فرض شي).

حل: په دې مثال کې پر جسم یوازینی وارده قوه، د وزن قوه ده او ددې قوو کار برابر دی له:

$$= \cdot d \cdot \cos\theta = m \cdot g \cdot h \cos 0^\circ = (1\text{kg})(10\text{m/s}^2)(10\text{m})(1) = 100$$

دا چې د جسم اولیه حرکي انرژي صفر ده، نو کولای شو ولیکو:

$$= k_2 - k_1$$

$$100 = k_2 - 0 \Rightarrow k_2 = 100$$

مثال: یو موټر په 1500kg کتلې او 72 m/h سرعت په حرکت کې دی، که چېرې د زیور برک ونیسي، موټر له یو څه واټن څخه وروسته درېږي. د اصطکاک د قوې کار پیدا کړئ.
 حل: د موټر سرعت له برک کولو څخه تر مخه برابر دی له: $V_1 = \frac{72 \cdot 1000}{3600} = 20\text{m/s}$

او حرکي انرژي یې مخکې له برک کولو څخه مساوي دي له:

$$k_1 \frac{1}{2} m v_1^2 = \frac{1}{2} (1500\text{kg}) (20\text{m/s})^2 = 300.000$$

دا چې موټر له برک کولو څخه وروسته درېږي $k_2 = 0$ دی. له بلې خوا د اصطکاک قوه، د اټکا عمودي قوه او د وزن قوه، هغه قوې دي چې پر جسم اغیز کوي او په پایله کې:

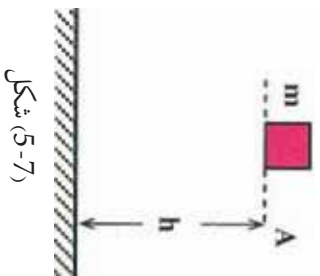
$$x = \frac{F}{m} = \frac{F}{mg} + \frac{F}{m} = k_2 - k_1 = 0 - 300.000 = -300.000$$

تمرین: یو موټر چې له یو تن کتلې او له 36 m/h سره په حرکت کې دی، د موټر زیور ناڅاپه برک کوي. که چېرې د سرک او د موټر د ټایرونو تر منځ د اصطکاک ضریب 0.5 وي، موټر به د څومره واټن له وهلو وروسته درېږي؟ ($g = 10\text{m/s}^2$ فرض شي).

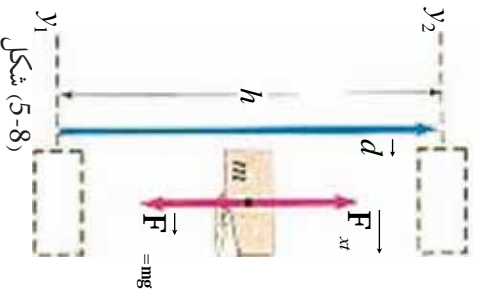
تمرین: یو جسم د h له ارتفاع څخه خوشی کوو، د کار او انرژي له قضیې څخه په ګټې اخیستلو سره یې سرعت په $3/4h$ کې پیدا کړئ. (د هوا له مقاومت څخه تیر شي).
تمرین: څومره کار په کار دی، تر څو یو موټر له 1000Kg کتلې سره د 20m/s سرعت په لرلو سره 30m/s ته ورسېږي.

کار او د پتانسیل انرژي

په پخواني لوست کې مو د کار او حرکي انرژي په هکله موضوعات زده کړل او د کار او حرکي انرژي ترمنځ رابطه مو په لاس راوړه. اوس ددې پوښتنې څیړنې ته مخه کوو چې دکار او پوتانسیل انرژي ترمنځ رابطه څنگه ده؟ لکه څنگه چې پوهیږو د پوتانسیل جاذبوي انرژي هغه انرژي ده چې یو جسم یې د ځمکې له سطحې څخه د خپلې ارتفاع له امله لري. یعنې که چېرې یو جسم د (5-7) شکل په څیر د ځمکې له سطحې څخه د h په ارتفاع کې واقع وي، د پوتانسیل جاذبوي انرژي لرونکی دی. د ځمکې له سطحې څخه د جسم د پورته کولو لپاره باید کار ترسره کړو. نو ددې کار ترسره کیدو له امله جسم د پوتانسیل جاذبوي انرژي لاس ته راوړي ده، نو وولی شو چې د پوتانسیل د انرژي په توګه ترسره شوی کار په جسم کې ذخیره کېږي.



شکل (5-7)



شکل (5-8)

په دې لوست کې د انرژي په کمي ډول تعریف او له کار سره به یې رابطه لاس ته راوړو.

(5-7) شکل ته په پام کولو سره هغه کار چې د F قوې په مرسته ترسره کېږي، ترڅو د m کتله د h تر ارتفاع پورته شي، عبارت دی له:

$$= m \cdot g \cdot h \cos 0^\circ = mg(h_2 - h_1)$$

په پایله کې کولای شو ولیکو چې: $mg(h_2 - h_1) = \Delta$

یعنې هغه کار چې د F قوې لخوا د m د کتلې د پورته کولو لپاره د h_1 له ارتفاع څخه د h_2 ارتفاع ته مصرفیږي، په هغې کې د پوتانسیل د انرژي له تفاضل څخه عبارت دی، یعنې: $\Delta =$

پورتنیو ټکو ته په کتو کولای شو، د پوتانسیل جاذبوي انرژي په لاندې توګه تعریف کړو:

د یو جسم د پوتانسیل جاذبوي انرژي نسبت ځمکې ته په یوه نقطه کې برابر دی، له هغه کار سره چې مورنۍ ترسره کړو، ترڅو جسم په ثابت سرعت د ځمکې له سطحې څخه تر یادې شوي نقطې پورې یوسو.



د تېرې په بېلابېلو ډولونو کې (5-8) شکل ته په پام کولو، د جاذبوي قوه لاس ته راوړی. په ډلو کې بحث وکړئ او پایله یې تېرې ته وړاندې کړئ.

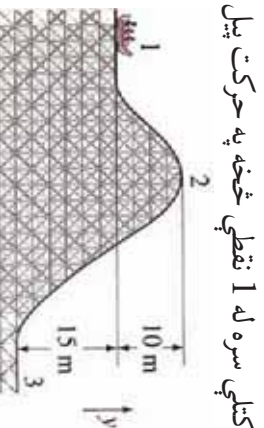


فنايت:

د توڼگي په بيلابيلو ډلو کې لاندې جدول دياود شوو ارتفاعگانو لپاره، بشپړ کړئ. او پايله يې توڼگي ته وړاندې کړئ.

ارتفاع	حروي انرژي	سرعت	د پوتانسيل انرژي	د حروي او پوتانسيل انرژيو مجموع
h				
$1/2$				
$1/4h$				
0				

نوټ: د يادولو وړ ده، چې که چېرې له ثابت سرعت سره شرط د پوتانسيل د انرژي په تعريف کې نه وي ذکر شوی، د بيلگې په توگه د جسم سرعت زياتېده او د کار يوه کچه د جسم د حروي انرژۍ د زياتيدو لپاره مصرفېده.



شکل (5-9)

مثال: (5-9) شکل ښيي چې يو متحرک له 1000kg کتلې سره له 1 نقطې څخه په حرکت پيل کوي او د 2، 3، له نقطو څخه تېرېږي.

a. د پوتانسيل جانزوي انرژي د 1 او 2 په نقطو کې لاس ته راوړئ.

b. د 2 او 3 نقطو ترمنځ د پوتانسيل د انرژۍ توپير حساب کړئ

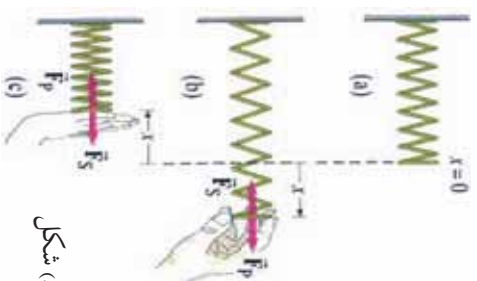
3-5: هغه کار چې د فنر لخوا پر کتلې ترسره کېږي

څنگه کولای شو هغه کار چې د يو فنر لخوا پر يوري کتلې ترسره کېږي، اندازه کړو.

د دې موضوع د څيړلو لپاره، يو فنر د لاندې شکل په څير په نظر کې ونيسئ.

که چېرې فنر د غړو د قوې په مرسته د d_x په اندازه راکاږو، په دې حالت کې د غړو قوې د $(\mathbf{d} = \mathbf{F} \cdot \mathbf{d}_x)$ کار ترسره کړی دی. که چېرې د خپل لاس په مرسته په فنر د F قوه وارهده کړو او فنر د X په اندازه راکاږو او بياېې کښېکاږو، ددې قوې کچه د فنر د X له واټن سره مستقيمه رابطه لري، نو له دې امله:

$$F \propto X \Rightarrow F = kX \dots \dots \dots (1)$$



شکل (5-10)

په دې رابطه کې F د فنر ثابت ضریب دی، رابنګل شوی او کېښکاپارل شوی فنر هم یوه قوه د F_p د قوې خلاف لوري په لاس واردوي. ولې؟ (بیان یې کړئ)

نوکلای شو لیکو چې: (2) $F_s = -X \dots \dots$

په دې رابطه کې د منفي نښه ښيي چې F_s د X د لوري په خلاف عمل کوي او د F_p او F_s دوي قوې، یو دبل په خلاف لوري کې دي. لکه څنګه چې پوهېږو د (2) رابطي د هوک قانون څرګندوي او په پایله کې لیکلای شو: (3) $F = -F_s \dots \dots$

هغه کار چې د $X = -F = F_p$ د قوې پرمټ ترسره کېږي، عبارت دی له: $d = -F \cdot dx$
 د (2) له رابطي څخه لرو چې: $\Rightarrow d = kx \cdot dx$

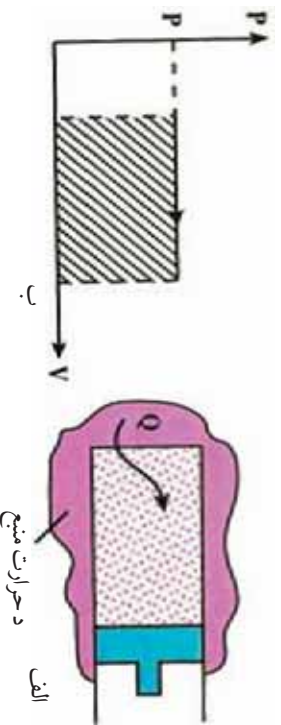
څرګه چې F_p د $X_1 = 0$ له موقعیت څخه تر هر وروستي X موقعیت پورې خطي تحول لري، نو ځکه متوسطه قوه (\bar{F}) عبارت له $X = \frac{1}{2}$ او $\bar{F} = \frac{1}{2}(0 + X)$ څخه او مجموعي سرته رسیدلې کار $(X^2 = \frac{1}{2} X \times X = \frac{1}{2} \bar{F} X)$ وي، چې داکارد د فنر د پوتانشیالي انرژي په نوم هم یادېږي.

مثال: د یو فنر ثابت ضریب 405 N/m دی، څومره کچه کار به کار دي. ترڅو فنر د 3cm متره اوږد شي؟

حل:
$$= \frac{1}{2} (405 \text{ N/m}) (0.03\text{m})^2 = 0.182$$

هغه کار چې د گاز په مرسته له ثابت فشار سره پر پستون ترسره کېږي:

هغه کار چې د گاز لخوا پر پستون ترسره کېږي، د څیرلو لپاره یې یو گاز د (الف، 11-5)، شکل په څیر د یو پستون په منځ کې چې د تودوخې له سرچینې سره په تماس کې دی، په نظر کې ونیسئ. گاز په پیل کې د په فشار او حجم انډول د تعادل په حالت کې دی. (فرض کړئ چې اصطکاک د پستون او استوانې ترمنځ د صرف نظر وړ نه دی) په دې صورت کې د گاز فشار د چاپیریال له فشار سره برابر دی، ولې؟ د سرچینې او سیستم ترمنځ د تودوخې د توپیر له کبله د تودوخې کچه ګاز ته لېږدوي چې په پایله کې ګاز لږ منبسط کېږي او پستون یوڅه لږ ښي لورته د شا پلو ته چلوي.



شکل (5-11)

که چیري په همدې ترتیب د گاز تودوخې ورکولو ته ورو ورو دوام ورکړو. گاز په څنډه سره منبسط کېږي او پستون ډېر ورو بڼې لور ته حرکت کوي. په دې حالت کې به د پستون تعجیل ډېر کوچنی وي. په پایله کې هغه قوه چې گاز یې پر پستون واردوي، باید له هغه قوې سره چې چاپېریال یې په پستون واردوي، برابر وي. نو له دې امله وپلې شو چې د تودوخې ورکولو په بهیر کې د گاز فشار د محیط له فشار سره یو شان دی، یعنې ددې عمل پر مهال د گاز فشار ثابت پاته کېږي. د حجم د فشار گراف (V - P) په دې عملیه کې د (P₁ - P₂) په شکل کې ښودل شوی دي.

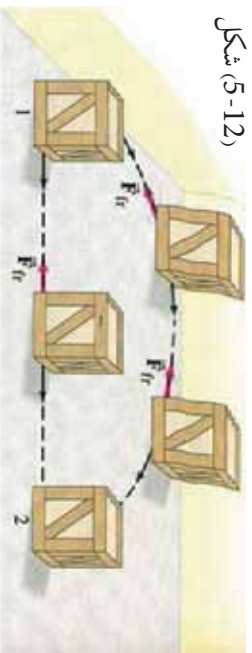
په دې عمل کې هم حرارت او هم کار سره مبادله کېږي، لومړی کار محاسبه کوو. که چیري د گاز فشار P وي، گاز د عملیې پر مهال د $F = PA$ قوه په پستون واردوي، چې په هغې کې A د پستون له مساحت څخه عبارت دی. که چیري د پستون د ځای بدلون له d سره برابر وي. د کار چې سیستم یې د چاپېریال پر مخ ترسره کوي، له لاندې رابطې څخه لاس ته راځي: $dW = F \cdot d = (PA) \cdot d = P \cdot Ad$ خو $dV = Ad \cdot dl$ د استوانې له حجم څخه عبارت دي چې برابر دي له: $dW = P \cdot dV$ په پایله کې: $dW = P \cdot dV$ (4)

(4) رابطه له هغه کار څخه عبارت دی چې پستون یې د چاپېریال پر مخ ترسره کوي.

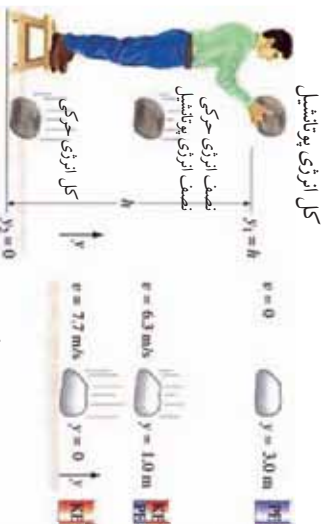
5-4: تحفظي او غیر تحفظي قوي

تحفظي او غیر تحفظي قوي څنګه قوي دي؟ ددې دوو قوو ترمنځ کوم توپیر شتون لري؟ لکه څنګه چې پوهېږو که یو جسم د h_1 له ارتفاع څخه د h_2 ارتفاع ته پورته کړو. باید انرژي مصرف کړو او کار ترسره کړو. په دې حالت کې ترسره شوی کار د لارې له مسیر سره تړاو نه لري، بلکې یوازې د پیل او پای له نقطې سره تړاو لري. دې ډول قوو ته تحفظي قوي وايي. د ځمکې د جاذبې قوه د تحفظي قوو یوه بڼه بېلګه ده. په داسې حال کې چې د F قوې پرمخت شوي قوي کار د لارې له مسیر سره تړاو لري. په دې صورت کې دې ډول قوو ته، غیر تحفظي قوي وايي. ددې ډول قوو بڼه بېلګه له اصطکاک قوې څخه عبارت ده. په همدغه ډول چې په (12-5) شکل کې وښی، کله چې یو جسم ته له یوې نقطې څخه بلې نقطې ته حرکت ورکول کېږي، هغه کار چې ترسره شو، د جسم پرمخت له وهل شوي مسیر سره تړاو لري. لکه چې په شکل کې لیدل کېږي چې جسم له 1 موقعیت څخه تر 2 موقعیت پورې د دوو مسیرونو له لارې حرکت کولای شي.

1 مستقیم مسیر 2 منحنی مسیر
که چیري جسم له 1 موقعیت څخه
موقعیت پورې له منحنی مسیر
څخه حرکت وکړي، د اصطکاک
د قوې کار د هغه د اصطکاک
قوې له کار څخه زیات دی چې
همغه جسم له مستقیم مسیر څخه
حرکت کوي.



شکل (12-5)

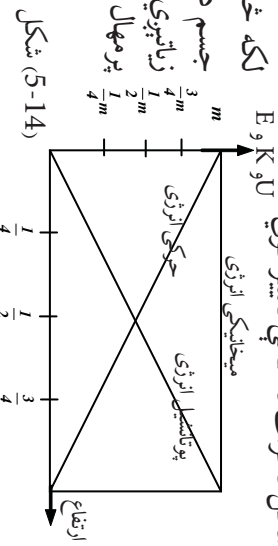


شکل (5-13)

5-5: د میخانیکي انرژي ساتنه (تعمف)

د میخانیکي انرژي تعف څه شی دی؟ کله چې یو جسم د m له کتلې سره د h له ارتفاع څخه خوشي کوو، د جسم د پوتانسیل انرژي او حرکي انرژي به تغیر وکړي؟ ولې؟ د حرکي او پوتانسیل انرژي ترمنځ کوم ډول رابطه شته؟ په هغه صورت کې چې یوازې تعفني قوې پر جسم عمل وکړي، موز یوې اسانې او ښکلې پالې ته رسېږو.

ددې پالې د توضیح او پورتنیو پوښتنو ته د ځواب ورکولو لپاره هغه جسم چې د m کتله لري، په نظر کې ونیسئ، چې د ځمکې سطحې ته د m له واټن څخه خوشي شوی دی. په مخامخ شکل کې لیدل کېږي، چې د سقوط پر پاياله کې د جسم حرکي او پوتانسیل انرژي د لاندې شکل د گراف له مخې تغیر کوي.



شکل (5-14)

د پورته مفاهیمو په پوهیدو سره، اوس یو نوي کمیت چې میخانیکي انرژي (E) نومېږي، څېړو چې عبارت د حرکي او پوتانسیل انرژي له مجموعې څخه ده، او په هغه ډول چې په پورته مثال کې مو ولیدل، ددې کمیت کچه د جسم د آزاد سقوط پر مهال تل ثابت پاته کېږي، یعنې د پوتانسیل انرژي له زیاتیدو سره، د حرکي انرژي کچه کمېږي او برعکس، یعنې: $Co s n t = +$ که څه هم په پورته مثال کې د میخانیکي انرژي تعف ښودل شوی دی، خو کولای شو ونیسو چې له یو شمېر قوو د فز رابنډولو، برېښنايي قوې او ... سره هم میخانیکي انرژي ثابته باقي پاتې کېږي. له پورتنۍ معادلې څخه پایله ترلاسه کېږي، چې په یوه سیستم کې چې بهرنۍ قوې پرې عمل ونه کړي، د پوتانسیل او حرکي انرژي مجموعه ثابتې وي چې دا قانون د میخانیکي انرژي د تعف د قانون په نامه یادېږي.

مثال: یو جسم له $0.5Kg$ کتلې سره د $2m$ له ارتفاع څخه د $10m/s$ له سرعت سره مخ پورته غورځوو. دا جسم تر ډېره حمله تر کومې ارتفاع پورې پورته ځي؟
 $g = 10m/s^2$ فرض کېږي او د هوا له مقاومت څخه دې صرف نظر وشي.

حل: د جسم حرکي انرژي د غورځولو په نقطه کې برابر ده له: $\frac{1}{2}mv_1^2 = \frac{1}{2}(10)^2 = 25$ او د پوتانسيل انرژي يې په همدې نقطه کې برابر ده له: $V_1 = mgh_1 = 0.5 \times 10 \times 2 = 10$ همدارنگه د جسم حرکي انرژي تر ټولو په لوړه نقطه کې $v_2 = 0$ او د پوتانسيل جاذبوي انرژي يې په دې نقطه کې برابر ه ده له: $V_2 = mgh_2 = 0.5 \times 10 \times h_2 = 5h_2$

$$\begin{aligned} 1 + 1 &= 2 + 2 \\ 10 + 25 &= 5h_2 + 0 \\ \Rightarrow 35 &= 5h_2 \Leftrightarrow h_2 = 7m \end{aligned}$$

د غیر تحفظي قوو پرمټ ترسره شوی کار

په تیرو لوستونو کې له تحفظي او غیر تحفظي قوو سره اشنا شوی او همدارنگه د تحفظي قوو پرمټ له ترسره شوی کار سره هم بلد شوی. اما تر اوسه مو له خپله څخه پوښتنه کړې ده چې د غیر تحفظي قوو کار څنگه دی؟

ایا هغه کار چې د تحفظي او غیر تحفظي قوو پرمټ ترسره کېږي، یو شان دی؟ ولې؟
تورین: مخکینو زده کړو ته یا پاملرنې، د غیر تحفظي قوو یو مثال راوړئ او په هکله یې بحث وکړئ. د غیر تحفظي قوو پرمټ ترسره شوی کار د لارې له مسیر سره تړاو لري، ددې ډول قوو ښه بېلگه د اصطکاک له قوې څخه عبارت دی. مثلاً که چیرې تاسو د یو جسم چې د ځمکې پرمخ ایښی دی، ځای بدل کړئ، (په منځني ډول، په مستقیم، په منکسر یا زنگراکي ډول) هره یوه ځای بدلونه د اصطکاک د قوو پرمټ ترسره شوي او کار یې یو له بله توپیر لري.



بحث وکړئ:

د ټولګي په مختلفو ډلو کې په دې هکله چې ولې د پوتانسيل انرژي د تحفظي قوو لپاره تعریف کېدای شي، بحث وکړئ او پایله یې ټولګي ته ورواندې کړئ.

اوس د کار او انرژۍ له قضیې څخه په گټې اخیستلو ($\Delta k = W$) د غیر تحفظي قوو پرمټ د ترسره شوي کار دقیقې څېړنې پیل کوو، چې د پوتانسيل انرژي هم رانغاړي. فرض کړئ چې په یوه جسم څو قوې عمل کوي او جسم ددې قوو تر اغېزې لاندې د حرکت تغیر کوي، او فرض کړئ چې ددې قوو یو شمېر تحفظي او نورې غیر تحفظي قوې دي. په دې حالت کې ددې دوو ډولو قوو پرمټ ټول ترسره شوي کار کولای شو داسې ولیکو:

$$W_c = W_{nc} + \Delta k \quad (1)$$

هغه کار چې د تحفظي او W_c هغه کار دی چې د غیر تحفظي قوو پرمټ ترسره کېږي. اوس د کار او انرژۍ له قضیې څخه په گټه اخیستلو داسې لیکلای شو:

$$\begin{aligned} W_c &= \Delta k \\ \rightarrow W_c + W_{nc} &= \Delta k \\ \rightarrow W_c &= \Delta k - W_{nc} \quad (2) \end{aligned}$$

هغه کار چې د تحفظي قوو پرمټ ترسره کېږي، کولای شو چې د پوتانسيل د انرژۍ په بڼه يې وليکو، لکه څنگه چې له پخوانيو لوستونو څخه مو زده کړي: (3) $W = -\Delta V$
 اوس له (3) رابطې څخه (2) رابطې ته د W په تعويضولو سره ليکلای شو چې:

$$e = \Delta k - (-\Delta v)$$

$$\rightarrow (4) \quad e = \Delta k + \Delta v$$

(4) رابطه د غیر تحفظي قوو پرمټ د ترسره شوي کار لپاره يوه کلي رابطه ده.

5-6. طاقت (توان)

توان څه شی دی؟ د کار او زمان توان یو له بله سره څه ډول رابطه لري؟

د اووم ټولگي په فزيک کې مو د توان په هکله معلومات لاس ته راوړل، همدارنگه په پخوانيو لوستونو کې مو د ترسره شوي کار په هکله بحث وکړ. خو د هغه زمان په هکله چې دا کار پکې ترسره کېږي، خبرې نه دي شوي. کار کېدای شي پخ او يا ډېر چټک ترسره شي، يو جسم کولای شو په 10 يا 15 ثانيو کې يوې ټاکلي ارتفاع ته پورته کړو. په دواړو حالاتو کې ترسره شوی کار يو ډول دی، خو په اول حالت کې کار ډېر چټک ترسره شوی دی. د کار د ترسره کولو د وخت په نظر کې نيولو لپاره، يو مناسب کميت د توان په نامه تعريفوو. په همغه ډول چې د اووم ټولگي په فزيک کې مو هم ولوستل، د W کار چې د t په زمانه کې ترسره کېږي، د P د توان پرمټ ترسره شوي کار د زمان په واحد کې تعريفېږي. يعنې: $P = \frac{W}{t}$ (5-18)

په SI سيستم کې د توان د اندازه کولو واحد ډول پر ثانيه ($\frac{J}{s}$) دی. چې د جيمز واط د علمي کارونو په وياړ په (W) نومول کېږي.

فعاليت:



د ټولگي په بيلابيلو ډلو کې د کار، زمان او توان ترمېخ اړیکو په هکله لاندې جدول ډک او پايله يې ټولگي ته وړاندې کړئ.

()	t (s)	$= \frac{W}{t}$ (watt)
10	2	
10	1	
20	$\frac{1}{2}$	
80	$\frac{1}{4}$	

مثال: يو غر مزلي (کوهورردي) له 60 kg کتلې سره د 4 ثانيو په موده کې 4.5 m ارتفاع وهي. د غر مزلي توان لاس ته راوړئ، ($g = 9.8 \text{ m/s}^2$) فرض کړئ.

حل: لومړۍ د غر مزلې لخوا ترسره شوی کار لاس ته راوړو:

$$= m \cdot g \cdot h = (60 \text{ kg}) (9.8 \text{ m/s}^2) (4.5 \text{ m}) = 2646$$

$$= \frac{2646}{4} = 661.5$$

د موټر، برېښنايي جاړو، لفت او نورو په څېر هره وسيله چې کار ترسره کوي، انرژي مصرفوي. له دې وسيلو څخه د گټې اخېستلو لپاره بايد هغو ته انرژي ورکړو، دې انرژي ته وړوډي يا مصرفي انرژي وايي. څرنگه چې ددې انرژي يو برخه د اصطکاک له امله او يا د وسيلې د اجزاوو د حرکت ورکولو لپاره مصرفېږي. نو له دې امله د وسيلې کار يا گټوره خروجي انرژي د هغې له وړوډي انرژي سره برابر نه ده. په پايله کې د وړو دې انرژي يوازې يو څه کچه د گټې اخېستلو وړ ده. دغه کچه معمولا د فيصدي په ډول بيانېږي او د بېرته ورکړي يا اغېزمنتيا (موثریت) په نامه يادېږي.

$$\text{خروجي کار} = \frac{\text{اغېزمنتيا ورکړه وړوډی کار}}{100}$$

د پنځم څپرکي لنډيز



- د قوې د ترکيبي ضرب حاصل د هغې د مکان د تغيير او وهل شوي واټن په لور، په متحرک جسم باندې د عاملي قوې کار په نامه يادېږي. او کولای شو چې په اسانۍ سره ووايو چې کار په واټن کې د قوې له حاصل ضرب د ځای له بدلون څخه عبارت دی. يعنې: $d \cdot F =$
- که چېرې يوه قوه د (θ) تړپوې ټاکلې زاوېي لاندي پر جسم وارده شي او جسم د x په اندازه بې ځايه کړي، د F د قوې پر سمت ترسره شوي کار به عبارت وي له: $d \cos \theta = F$
- F د قوې پر سمت ترسره شوی کار به منفي وي، په هغه صورت کې چې: $\theta > 90^\circ$ وي.
- په هغه وخت کې چې پر جسم له يوې څخه زياتې قوې عمل وکړي، مجموعي کار عبارت له حاصل ضرب د هر يو کار څخه په جلا توگه دی، يعنې: $1 + 2 + 3 + \dots + n = \text{تota}$
- او يا مجموعي کار کولای شو، په لاندي توگه وليکو:

$$\text{تota} d \cos \theta = \text{تota} d \cos \theta = 1$$
- د کار د اندازه کولو واحد د (J) په سيستم کې عبارت له ژول (J) څخه دی، $m \cdot 1 = 1$
- هغه کار چې د د بېلابېلو قوو پر سمت ترسره کېږي، عبارت د تغيير مکان قوې د منځني ترمېخ له مساحت څخه د x د محور پرمخ دی.
- د يو فنر پر سمت ترسره شوی کار چې د x په اندازه کښيکار شوی او يا رابنګل شوی عبارت دی له:

$$= \frac{1}{2} kx^2$$

- که چیرې د F د قوي پرمخت ترسره شوی کار د لارې پر مسیر پورې تړاو ونه لري، بلکې یوازې د پیل او پای له نقطې سره اړیکې ولري، دې ډول قووته، تحفظي قوې وايي او برعکس په هغه وخت کې چې ترسره شوي کار له مسیر سره تړاو ولري، دې ډول قووته غیر تحفظي قوې وايي.
- مجموعي کار عبارت دی له تفاضل د حرکي انرژۍ څخه د 1 او 2 په دوو نقطو کې، یعنې:

$$W_{\text{tot}} = \Delta K = \frac{1}{2} m v_1^2 - \frac{1}{2} m v_2^2$$

نوټ: حرکي انرژي تل یا مثبت وي او یا صفر.

- د انرژۍ د تحفظ قانون بیانوي چې: انرژي کولای شي، له یوه حالت څخه بل حالت ته واوړي (تبدیل شي)، خو مجموعي انرژي تل ثابتې پاتې کېږي. $W = \cos \theta \quad n t =$
- هغه کار چې د گاز پرمخت پر پستون ترسره کېږي عبارت دی له: $\Delta W = (v_2 - v_1) =$
- طاقت عبارت دی له ترسره شوي کار څخه، د هغه کار د ترسره کولو لپاره د مصرف شوي زمان په کچې باندې، یعنې:

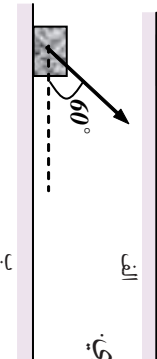
$$= \frac{W}{t} \quad \text{او همدا ارزښت کولای شو طاقت داسې ولیکو: } P = W \cdot t$$

- په SI کې د طاقت د اندازه کولو واحد عبارت له واط (W) څخه دی.

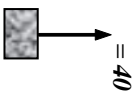
$$\frac{1}{s} = 1 \quad 736 = 1 \text{ h}$$

د پنځم څپرکي یو بنسټي

- 1 کار تعریف کړئ، د اندازه کولو واحد یې د SI په سیستم کې ووایئ او ددې (وکتوري یا سکالري) کمیت ډول مشخص کړئ.
- 2 پر یو جسم د $100 =$ قوه واردېږي او هغې ته په افقي لوري کې د 20m په اندازه د مکان تغیر ورکوي. ددې قوه په مرسته ترسره شوی کار په لاندې حالتونو کې لاس ته راوړئ.
 - a. قوه په افقي توګه پر جسم واردېږي.
 - b. قوه د افق په نسبت تر $\theta = 60^\circ$ زاوړي لاندې پر جسم واردېږي.

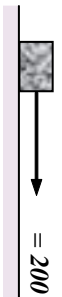


- 3 پر یوه جسم له $m = 3\text{kg}$ کتلې سره، د F قوه د لاندې شکل په څیر واردېږي، او هغه په قائم (عمودي) لوري کې پورته وړي، د هوا له مقاومت څخه په صرف نظر کولو:
 - a. د جسم د حرکت تعجیل لاس ته راوړئ.
 - b. د F قوي کار د جسم په 10m ارتفاع په اوچتولو کې حساب کړئ.
 - c. د W د وزن د قوي کار د جسم په پورته کولو کې ونډه وکارئ.
 - d. د محصله قوي کار مشخص کړئ.



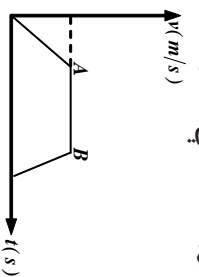
- 4 یو جسم د m له کتلې سره، د ځمکې له سطحې څخه، مخ پورته په قائمه توګه وپرتل کېږي او د h تر ارتفاع پورې پورته ځي. د وزن د قوي کار په دې ارتفاع (عمودي واټن) کې پیدا کړئ.
 - 5 بیان کړئ چې ولې په لاندې هر یو حالت کې، کار له صفر سره مساوي دی؟
 - a. که چېرې یو تن یو جسم په لاس کې ونیسي (په داسې حال کې چې شخص ستومانه کېږي).
 - b. که چېرې یو تن یو جسم په لاس کې وساتي او هغه ته په ثابت سرعت په افقي استقامت کې د موقعیت تغیر ورکوي.

- 6 له شکل سره سم پر یوه جسم له $m = 10\text{kg}$ کتلې سره د $200 =$ افقي قوه واردېږي، او جسم ته د 20m په اندازه په افقي لوري کې د موقعیت تغیر ورکوي. (د حرکي اصطکاک قوه 20N ده):
 - a. په یوه رسم کې پر جسم باندې ټولې واردې قوې ونښئ.
 - b. د هرې قوي کار په جلا ډول حساب کړئ.
 - c. د ټولو کارونو الجبري جمع لاس ته راوړئ.

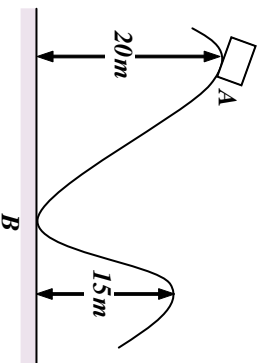


- 7 د یوې قوي پرمخت د ترسره شوي کار نښه (علامه) په بیلابیلو زاویو کې وڅیړئ.
- 8 حرکي انرژي تعریف کړئ او رابطه یې ثبوت کړئ.

- 9) د کار او انرژي قضيه بيان او رابطه يې وليکئ.
- 10) کار او انرژي قضيه ته په پاملرنې بيان کړئ.
- a. کله د جسم حرکي انرژي زياتېږي؟
- b. کله د جسم حرکي انرژي کمېږي؟
- c. کله د جسم حرکي انرژي تغيير نه کوي؟
- 11) يو جسم له 20Kg کتلې سره د ځمکې له سطحې څخه په 45m ارتفاع خوشې کړو، د هوا له مقاومت څخه په صرف نظر کولو او د کار او انرژي له قضيه څخه په گټې اخيستلو، د جسم حرکي انرژي او سرعت يې څمکې ته د رسيدو په لحظه کې حساب کړي.
- 12) په مخامخ شکل کې پر جسم د واردو شوو قوو د محصلې د کار نښه د حرکت په هره مرحله کې د دليل له ذکر کولو سره مشخص کړئ.



- 13) د پوتانسيل انرژي تعريف او د درې ټولو نومونه يې واخلئ.
- 14) د پوتانسيل جاذبوي انرژي تعريف کړئ او رابطه يې وليکئ.
- 15) د فنر د پوتانسيل انرژي له کومې لارې رامنځ ته شوې او بکې ذخيره شوې.
- 16) د ميخانيکي انرژي د تحفظ قانون بيان کړئ.
- 17) يو جسم د (A) له نقطې څخه پرته له لومړني سرعت څخه د يوې سطحې پرمخ پرته له اصطکاک څخه خوشې کېږي، د ميخانيکي انرژي د تحفظ له قانون څخه په گټې اخيستلو سره د جسم سرعت د B او C په نقطو کې پيدا کړئ.



- 18) يو جسم له 2Kg کتلې او له ثابت سرعت سره د 1m په واټن د 0.2 ثانيې په موده کې پورته وړو، دا کار په څومره طاقت ترسره کېږي؟
- 19) وروډي يا مصرفي انرژي څه شی دی؟ بيان يې کړئ.
- 20) اغېزمنتيا تعريف کړئ او رابطه يې وليکئ.

شپږم څپرکی خطي مومنت او امپولس



په دې څپرکی کې د میخانیک علم د لاپراختیا لپاره، د ضربې (Impulse) او مومنت (Momentum) په نومونو له دوو نورو کمیتونو په مصرف کولو سره به خپل بحث ته دوام ورکړو. کله چې یوه قوه پر یوه جسم په یوه ټاکلې وخت کې عمل کوي، نوموړې قوه په جسم کې د سرعت یو بدلون رامنځته کوي. ددې قوې امپولس (د ثابتي قوې لپاره) عبارت له حاصل ضرب د قوې او هغه زمان څخه دی چې قوه په کې عمل کوي او یا په بل عبارت کولای شو ووايو چې د (قوې - زمان) (د هغه زمان لپاره چې قوه د بدلون په درشل کې ده) د منځني لاندې مساحت عبارت له امپولس څخه دی. همدا ډول د جسم په سرعت کې بدلون هم د هغه قوې د امپولس په توګه تعریف شوی دی چې پر جسم عمل کوي. او همدارنګه د جسم د کتلې او سرعت حاصل ضرب يې د مومنت په نامه چې پر مهم فزیکي کیت دي او د M په سمبول ښودل کېږي، یادېږي.

یو مهم فزیکي کیت دی او د M په سمبول ښودل کېږي، یادېږي. امپولس او مومنت دواړه فزیکي وکتوري کمیتونه دي، په دې څپرکی کې، به موږ دوه مهم اصلونه مطالعه کړو. یو د امپولس - مومنت اصل او دویم د خطي مومنت د تحفظ اصل. ددې څپرکی د محتویاتو په اړیه کولو کې اړینه ده، پوه شو چې دواړه ذکر شوي اصلونه (چې کله ناکله د قوانینو او یا بنسټيزو قواعدو په نامه یاد شوي)، په حقیقت کې د نیوټن د قوانینو د بحث دوام دي، چې په تیر څپرکی کې مو مطالعه کړل. په دې معنا چې دا دوه اساسي قاعدې، د نیوټن د قوانینو پراختیا ده چې په واقعیت کې د امپولس او مومنت فزیکي مقدارونو په پېژندلو سره بشپړ شوی دی.

- په دې څپرکی کې به په لاندې ډول ددې مبحث په باب مطالعه کړو:
- د یو جسم موقعیت او سرعت کیدای شي د یوې قوې په تطبیق بدلون ومومي.
- د هغې قوې چې د جسم پر ټاکلې کتلې عمل کوي، عمل کوي، او د نوموړي جسم د سرعت د درجې د بدلون ترمنځ د رابطې بیانول (د نیوټن دوهم قانون).
- د یوې قوې د امپولس او مومنت تعریفول.
- د مومنت د تحفظ شرحه د دوو جسمو په تصادم کې چې د یو مستقیم خط پرمخ حرکت کوي.
- د خطي مومنت د تحفظ د طبیعت مثالونو بیانول.
- د اریجابي او غیر اریجابي ټکرونو د مفاهیمو تعریف او توضیح کول.

مستقيم الخط حرکت او امپولس (ضربه) (6-1) امپولس (ضربه)

يا اتر اوسه مو له ځان څخه پوښتنه کړي دي، چې ضربه څه شی دی؟ کله چې پر يوه جسم ضربه وارد وي، څه پېښېږي؟ د تعريف له مخې ضربه يا امپولس عبارت له حاصل ضرب د F قوي او t له زمان څخه دی، يعنې: $I = F \cdot t$

لکه څنگه چې له پورتنۍ رابطې څخه ليدل کېږي. امپولس د I په توري ښيي چې له قوي او زمان سره مستقيمي اړيکې لري. امپولس او مومتم د اندازه کولو د يو ډول واحد لرونکي دی. ولي؟
په ډبرو حالتونو کې په يو نقطه کې جسم د قوي د اغېز زمان هومره لنډوي چې موږ اړ کېږو، د مشتق او انتيگرال له مفاهيمو څخه گټه پورته کړو، چې تاسو به يې د دوولسم ټولگي په رياضي کې زده کړئ. اوس فرضو چې د F قوه د Δt په زمانه کې پر يوه جسم عمل کوي. په دې صورت کې د F د قوي ضربه د ΔI په زمان کې په Δt داسې ښيو: $\Delta I = \Delta t \cdot F$

په ورځني ژوندانه کې گورو چې موږ د يو جسم د موقعيت او يا سرعت د بدلولو لپاره، بايد پر نوموړي جسم قوه ورده کړو. په پخوانيو بحثونو کې د نيوتن د حرکت د قوانينو په پيل کې د قوي او د هغې د اغېزو او همدا رنگه د قوي د واحدونو (ډاين او نيوتن) د تعريف په هکله مو معلومات ترلاسه کړل. په (6-1) شکل کې جسم د m له کتلې سره د X_1 په موقعيت او V_1 په سرعت په t_1 زمانه کې د X د محور پرمخ د F ثابتې قوي پرمټ په حرکت کې دی. موږ دا ډول حرکت پخوا لوستي و، خو د پخوانيو معلوماتو د تکرار او پراختيا لپاره بيا له هغې څخه يادونه کوو. د کار د اسانتيا لپاره خپل مطالعات د X پر محور په حرکت او يا له هغه سره موازي محدود ساتو. د t_2 په زمان کې جسم د X_2 په موقعيت کې د V_2 سرعت لرونکي دي. نو کولای شو وليکو:

$$m \quad m = (x_2 - x_1) \quad \text{په موقعيت کې تغيير}$$

$$m/s \quad m/s = (V_2 - V_1) \quad \text{په سرعت کې تغيير}$$

$$s \quad s = (t_2 - t_1) \quad \text{زمانې واټن}$$

د حرکت تعجيل د Δt په زمانې واټن کې د a له تعجيل سره په دې ډول افاده کېږي.

$$a = \frac{\Delta v}{\Delta t} \quad m/s^2$$

د نيوتن په دوهم قانون کې تعجيل همغه د کتلې او قوي نسبت تعريف شوی دی، چې عبارت دی له: $a = \frac{F}{m}$ په پورتنۍ رابطه کې د د تعجيل له قيمتونو څخه کولای شو لاندې تناسب وليکو:

$$\Delta t = m \Delta v \quad \text{اوا}$$

وروستي افاده په دې څپرکي کې زموږ د بحث کلي بنسټ جوړوي او لکه څنګه چې ددې څپرکي په مقدمه کې ذکر شول، اوس امپولس کولای شو، په لاندې ډول تعريف کړو:

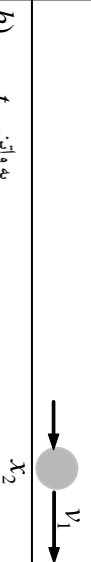
د يوه ثابتې قوې امپولس عبارت دي، د نوموړې قوې او زمانې واټن له حاصل ضرب څخه چې قوه په کې عمل کوي.

$$\Delta v = v_2 - v_1$$

$$\Delta t = t_2 - t_1$$

$$\Delta x = x_2 - x_1$$

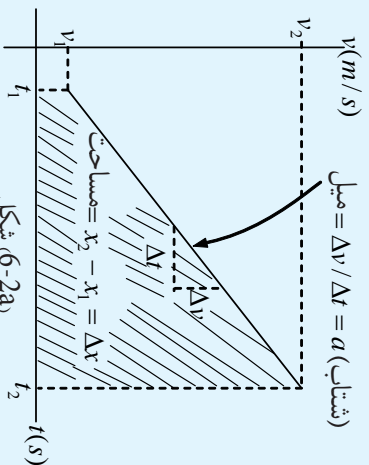
a) په واټن t_1 کې x_1



1-6) شکل، د يوې قوې د تطبيق په پايله کې د يو جسم د سرعت او موقعيت تغيير پر نوموړي جسم

b) په واټن t_2

فعاليت:



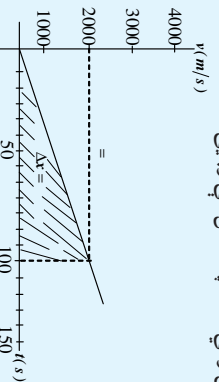
د (سرعت- زمان) گراف د (1-6) شکل د جسم لپاره په (2a-6) شکل کې ښودل شوي دي. بايد پام وکړو چې د (سرعت - زمان) منځني ميل عبارت له ثابت تعجيل او ددې منځني ترمينځ مساحت او د زمان محور عبارت د Δx له تفسير مکان څخه دي. په دې فعاليت کې زده کوونکي په خپلو اړندو ډلو کې د ښوونکي په مرسته د (2a-6) شکل په تفصيلاتو او خصوصياتو بحث وکړي او بايد يې خپلو ټولگيو لويه او زوروي.

فعاليت:

زده کوونکي په بيلابيلو ډلو کې د (سرعت - زمان) د گراف په مرسته چې د يوې فضايي بېړۍ (سفینې) د حرکت لپاره په (2b-6) شکل کې ښودل شوي دي، لاندې پوښتنو ته ځواب برابر کړي او د ټولگي په وړاندې يې بيان کړي:

1. بېړۍ په لومړيو 100 ثانيو تعجيلي حرکت کې څومره واټن وهي؟ هغه په شکل کې وښئ.
2. د بېړۍ سرعت د $t = 150s$ په زمان کې څومره دي؟
3. د بېړۍ تعجيل حساب کړي.

2b-6) شکل،

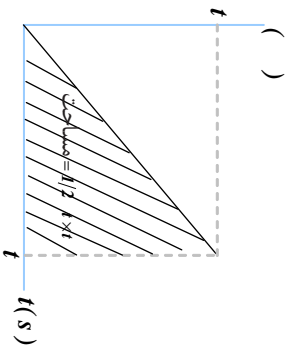


د فضايي بېړۍ د (سرعت - زمان) گراف

تمرینونه

لاڻاڻي پوښتنو ته څرلږ نه وړايئ.

1. د $3,7$ يوه ثابت قوه په 100 زماني واټن کې عمل کوي. ددې قوې امپولس حساب کړئ.
2. په مخامخ شکل کې د $r = 2,2$ ، قوه ورکړي شوې ده، ددې قوې امپولس له $t = 0$ څخه تر $t = 30s$ زماني انټروال کې پيدا کړئ.



3. په ورکړل شوي پورته شکل کې 55 dy ، $t_1 = 10s$ او $t_2 = 18s$ دي، ددې قوې امپولس وټاکئ.
4. د $5N$ ثابت قوه په ($t = 1s$) تر ($t = 3s$) زماني انټروال کې او د $2N$ دويمه قوه په ($t = 5s$) تر ($t = 10s$) زماني انټروال کې عمل کوي. ددې دوو قوو امپولسو نه حساب او سره پرتله کړئ.

6-2: مو منښتم

مو منښتم څه شی دی؟ د یوې لارې موټر او یو ګرڼدي ورکوتی موټر ترمنځ د حرکت په حال کې د مو منښتم له نظره څه توپیر شتون لري؟

د نیوټن د حرکت دویم قانون له مو منښتم له نقطې نظره څنگه کولای شو، تعریف کړو؟ اویا په ساده توګه، د مو منښتم او د نیوټن د حرکت د دویم قانون ترمنځ کومې اړیکې شته؟



بحث وکړئ:

دوو تپوونو ته چې دواړه د یو نشان کتلې لري، یو له بله سره تصادم ورکړئ، څه به پېښ شي. په غور سره ددې مسئلې په هکله د ټولګي په بېلابېلو ډلو کې بحث وکړئ او پایله یې ټولګي ته وړاندې کړئ.

په پخواني بحث کې مو د نیوټن د قانون په مرسته پيدا کړل چې: $m\Delta v = \Delta t$ او د معادلې د کین اړخ مقدار مو د امپولس په نامه یاد کړ. اوس خپل پام د معادلې بڼې اړخ ته راګرځوو. پوهېږو چې $v_1 - v_2 = \Delta v$ لکه څنګه چې v_1 د جسم لومړنۍ سرعت د t_1 په زمانه او v_2 دویم سرعت د t_2 په زمان کې دی. نو کولای شو ولیکو: $m\Delta v = mv_2 - mv_1$

د معادلې د بڼې اړخ دواړه مقدارونه د جسم د کتلې او سرعت حاصل ضرب افاده کوي. دغه حاصل ضرب له مهمو فزیکي کچو یا اندازو څخه یوه بله کچه ده، چې د مو منښتم په نامه یاد شوی دی.

د تعريف پر بنسټ د M يوه کتله چې د V په سرعت په حرکت کې ده، د P مومنتم لرونکې ده چې د $m\vec{V} =$ له معني افاده کېږي. د مومنتم واحدونه په SI او CGS سيستمونو کې عبارت دي له چې د $g - m/s$ او $gr - cm/s$ او ابعاد يې (m/t) دي.

همدارنگه بايد ووايو چې د ايمپلس او مومنتم ابعاد او واحدونه دواړه يو ډول دي. د مومنتم مثالونه په ترڅ (6-3) شکل کې ورکړل شوي دي. په دې شکل کې هر يو له مومنتمونو حساب شوي چې په څرگنده توگه ليدل کېږي. ددې لپاره چې د مومنتم په مفهوم ښه پوه شي، کوشش وکړئ په څير سره د شکل پر مهمو برخو له خپلو پوځيوالو سره بحث وکړئ.

$$\begin{aligned} &= 3 \times 10^5 m, & \text{پروتون (a)} \\ &= 1.67 \times 10^{-27} m \end{aligned}$$

$$\begin{aligned} &= 1 \times 10^3 m/s & \text{مرمي (b)} \\ &= 20 m/s & \end{aligned}$$

$$\begin{aligned} &= 1 \times 10^4 m & \text{لاري (c)} \\ &= 3 \times 10^2 m/s & \end{aligned}$$

$$\begin{aligned} &= 3 \times 10^5 m & \text{يونينگ (d)} \\ &= 1 \times 10^4 m/s & \end{aligned}$$

$$\begin{aligned} &= 1 \times 10^4 m/s & \text{فضايي يروي (سفينه) لاپولو (e)} \\ &= 5 \times 10^7 kg m/s & \end{aligned}$$

$$\begin{aligned} &= 3 \times 10^3 m & \text{ځمکه (f)} \\ &= 3 \times 10^4 m/s & \end{aligned}$$

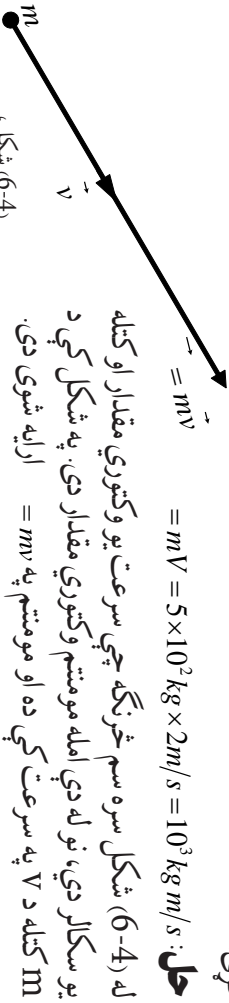
$$\begin{aligned} &= 6 \times 10^{24} m & \text{ستوري (g)} \\ &= 1 \times 10^4 m/s & \end{aligned}$$

$$m = 3 \times 10^{30}$$

په مختلفو اجسامو کې د مومنتم مثالونه
شکل (6-3)

مثالونه

1 - ديو اوبن کتله د هغه له بار سره $g = 500$ دي او په $2m/s$ حرکت کوي، مومنت يې حساب کړئ.



د مومنتم وکتوري خاصيت نبونه (6-4)، شکل،

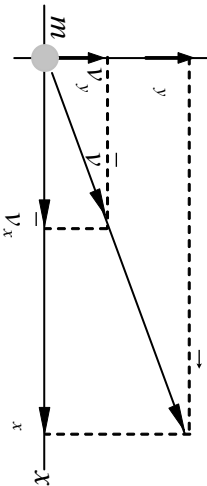
لکه څنگه چې د وضعيه کميتونو په هر سيستم کې ورکړ شوي دي، يو وکتور د وضعيه کميتونو د محورونو پرمخ د هغه په اجزا تجزيه کيدای شي، ددې له مخې د د مومنتم وکتور هم د محورونو پرمخ تجزيه کيدای شي، چې په (6-5) شکل کې ښودل شوي دي. بايد په ياد ولرو که چيرې مومنتم د د محور د مثبت لوري په نسبت د θ زاويه جوړه کړي، په هغه صورت کې:

$$\begin{aligned} P_x &= mV \cos \theta \\ P_y &= mV \sin \theta \end{aligned}$$

او د فيثاغورث له قضيهي خضه: $P^2 = P_x^2 + P_y^2$

(6-5)، شکل،

په اجزاوو د مومنتم د وکتور تجزيه



په خپلو کې بحث وکړئ او د تمرين په حلولو پيل وکړئ

- يوه لاری له $g = 3000$ کتلې سره، په 30° زاويه د شمال ختيځ په لور په $72 m/h$ سرعت په حرکت کې ده، يو واگون چې د $g = 1000$ کتلې لرونکی دی، له ځانه سره راکاږي د X محور په ختيځ لور او د محور د شمال په لور په نظر کې ونيسي. د لاری د مومنت د X او Y مرکبي پيدا کړئ.
- د اريانا مسافر وړونکي يوه الوتکه په ټوليزه توگه د $g = 50000$ کتلې لرونکې ده، او په $900 m/h$ سرعت الوتنه کوي. که چيرې د الوتنلو مسير 135° د جنوب ختيځ په لور وي، د مومنتم د (X او Y) مرکبي يې وټاکئ.

حل a: لرو چي: $\hat{\theta} = 30^\circ$

او $= m \times V = (3000 + 1000) \text{kg} \times 72 \text{ m/h}$

$$= 4000 \text{ g} \times \frac{72000 \text{ m}}{3600 \text{ s}}$$

$$= 80000 \text{ g m/s} = 8 \times 10^4 \text{ g - m/s}$$

پس $x = \cos \hat{\theta} = 8 \times 10^4 \text{ g m/s} \times \cos 30^\circ$

$$= 8 \times 10^4 \times 0,866 \text{ g m/s}$$

$$x = 6,928 \times 10^4 \text{ g m/s}$$

او $y = \sin \hat{\theta} = 8 \times 10^4 \cdot 0,5 \text{ g m/s}$

$$y = 40 \times 10^4 \text{ g m/s}$$

حل b: لرو چي: $\hat{\theta} = 135^\circ = -45^\circ$

او $= 50000 \text{ g} \times 900 \text{ m/h}$

$$= 5 \times 10^4 \text{ g} \times \frac{900 \times 10^3 \text{ m}}{3600 \text{ s}}$$

$$= 5 \times 10^4 \times 2,5 \times 10^2 \text{ g m/s} = 1,2 \times 10^5 \times 10^2 \text{ g m/s}$$

$$= 1,25 \times 10^7 \text{ g m/s}$$

پس $x = \cos \hat{\theta} = -1,25 \times 10^7 \cos 45^\circ \text{ g m/s}$

$$= -1,25 \times 10^7 \times 0,707 \text{ g m/s}$$

$$x = -8,84 \times 10^6 \text{ g m/s}$$

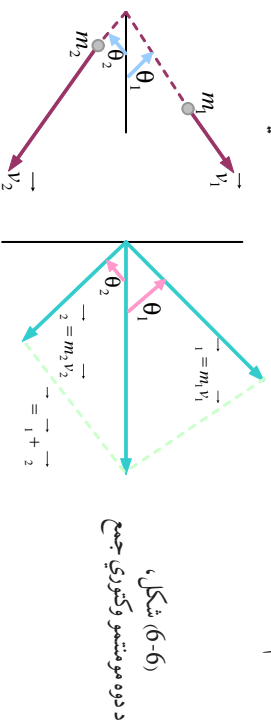
او $y = \cos \hat{\theta} = -1,25 \times 10^7 \cos 45^\circ \text{ g m/s}$

$$= 1,25 \times 10^7 \times 0,707 \text{ g m/s}$$

$$y = 8,84 \times 10^6 \text{ g m/s}$$

پوښتنې له حل څخه پایله ترلاسه کېږي، چې مومنټ په دقیقه توګه یو وکتوري کمیت دی. ددې لپاره چې د یو جسم مومنټم په بشپړه توګه مشخص کړو، موږ باید د کتلې او سرعت حاصل ضرب او همدا راز د هغې د حرکت لوري وپېژنو. په تېرو څپرکو کې مو د مکان د تغیر وکتورونه، د سرعت وکتورونه او د تعجیل د قوې وکتورونه معرفي کړل او پوره شو چې څنګه کولای شو، دوه یا څو یو ډول وکتورونه سره جمع کړو او د محصلې د وکتور په توګه یې وپېژنو.

په همدې توگه مورډ کولای شو د مومنت دوه یا څو وکتورونه ساده محصلې د یو وکتور د لاسته راوړلو لپاره سره جمع کړو، د (6-6) شکل ته پام وکړئ، په شکل کې د m_1 کتله د V_1 سرعت لرونکې ده او ددې له مخې د $m_1 V_1 =$ مومنت لرونکې او همدارنگه د $m_2 V_2 =$ او د دواړو کتلو د سیستم د مومنت محصله عبارت له $= m_2 + m_1$ څخه دي.



د محصلې د مومنت د پیداکولو لپاره کولای شو د متوازي الاضلاع دوو طریقو له یوې څخه او یا د مرکبو له جمع کولو څخه گټه واخلو. په یاد ولرئ چې:

$$\text{مومنت د } X \text{ مرکبه} \quad d_1 = m_1 V_1 \cos \theta_1$$

$$\text{مومنت د } Y \text{ مرکبه} \quad d_1 = m_1 V_1 \sin \theta_1$$

$$\text{مومنت د } X \text{ مرکبه} \quad d_2 = m_2 V_2 \cos \theta_2$$

$$\text{مومنت د } Y \text{ مرکبه} \quad d_2 = m_2 V_2 \sin \theta_2$$

څرنگه چې د محصلې د وکتور د X او Y مرکبې په ترتیب سره د جمع شوو وکتورونو د X او Y مرکبو له مجموعې سره مساوي دي، نو ددې له مخې:

$$P_x = m_1 V_1 \cos \theta_1 + m_2 V_2 \cos \theta_2 \quad \text{مومنت د } X \text{ مرکبه}$$

$$P_y = m_1 V_1 \sin \theta_1 + m_2 V_2 \sin \theta_2 \quad \text{مومنت د } Y \text{ مرکبه}$$

اوس له هغو معلوماتو سره چې ترلاسه کړي مو دي، کولای شو په لاندې درې گونو عددونو باور ولرو:

1. د یو جسم مومنت عبارت دی د هغه د کتلې او سرعت له حاصل ضرب څخه.
2. مومنت یو وکتوري مقدار دی.
3. د جسمونو د یو سیستم د مومنت مجموعه د هر مومنت له وکتوري جمعې څخه عبارت ده.

د ټولګي په بېلابېلو ډلو کې، په دې هکله چې ولې کله چې یوه لارې او یو ګرځندې موټر په یو ډول سرعت حرکت وکړي، په دې حالت کې لارې موټر چې کله یې ډېره ده، د زیات مومنت لرونکې وي؟ پایله یې ټولګي ته ولاروئ.

توضیح کړئ: د A او B دوه جسمونه په نظر کې ونیسئ. که چېرې ($3m_B = m_A$) وي، په دې حالت کې د او دوه جسمونه کولای شي، د یو ډول مومنت لرونکي وي. یعنې: $a = B$ ولې؟

اوس د مومنت د مفهوم په پوهیدو سره ددې پوښتنې په څېړلو پیل کوو چې د (F) د قوې او (P) مومنت ترمنځ کوم ډول اړیکه شته؟ یا قوه کولای شي د یو جسم مومنت تغیر ورکړي؟ ددې موضوع د پوهیدو لپاره لاندې فعالیت ترسره کړئ.



فعالیت:

هغه څه ته په پاملرنې چې په محکمې فعالیت کې مو ترسره کول. کوبښ وکړئ چې هماغه دوه توپونو ته له ډېرې قوې سره یو له بله تصادم ورکړئ. څه به پېښ شي؟ توضیح یې کړئ. د پورتنۍ فعالیت په ترسره کولو به دې پایلې ته ورسېږئ، چې قوه کولای شي چې د یو جسم مومنت کم او یا زیات کړي او یا د مومنت په لورې کې بدلون منځته راوړي.

6-3: قوه او مومنت

ددې څپرکي په پیل کې مو د نیوټن قانون د $\Delta r = m\Delta v$ په بڼه افاده کړ. چې په بنسټیز ډول د نیوټن د دویم قانون ($= ma$) څخه استخراج شوی و. نیوټن د حرکت په باب د خپلو درې ګونو قوانینو په بنسټیزه ویناګې، قوه د کتلې او تعجیل له جنسه نه، بلکه د مومنت زماني د تغیراتو د درجې له جنسه افاده کړې دي. په یاد ولرئ چې: $\Delta v = m\Delta v - mV_1 = \Delta$ واحد سره او Δr د زمان انټروال دي. کله چې د F قوه عمل کوي او د Δ د تولید $m\Delta v$ د قیمت په تعویضولو سره په لومړۍ رابطه کې پایله کې ترلاسه کېږي، چې $\Delta r = \Delta v$ په Δr باندې د معادلې د دواړو خواوو له تقسیمولو څخه $\frac{\Delta}{\Delta t} =$ لاس ته راځي. په یاد ولرئ چې Δ په مومنت کې د تغیر له $g m/s^2$ واحد سره او Δr د زمان انټروال کې د بدلون نسبت عبارت د مومنت د تغیر د زمان له سبب ګرځي. نو په مومنت او د زمان انټروال کې د بدلون نسبت عبارت د مومنت د تغیر د زمان له منځنۍ درجې څخه پایله ترلاسه کوو، چې هغه قوه چې پر جسم عمل کوي، له نظري پلوه د یو جسم د مومنت د تغیراتو له زماني درجې سره مساوي ده.

وروستی، ادعا تقریباً همغه د نیوتن د دویم قانون اصلی بیان دی چې په خپله د هغه لخوا ارایه شوی دی. (د نیوتن د حرکت د قوانینو اصلی بیان په لاتیني ژبه کې ارایه شوی دی). همدارنگه په اسانۍ سره کولای شو، د نیوتن دویم قانون ($\sum \vec{ma} = m\vec{a}$) له وروستی رابطې څخه په گټې اخیستلو هم د ثابتې کتلې ($m = Co s nt$) په نظر کې نیولو سره په دې توگه لاس ته راوړو.

فرض کړئ چې \vec{V}_1 د جسم لومړنۍ سرعت \vec{V}_2 د جسم نهایی سرعت د Δt په زماني انټروال کې وي، نو:

$$\begin{aligned} \sum \vec{a} &= \frac{\Delta \vec{v}}{\Delta t} = \frac{m\vec{V}_2 - m\vec{V}_1}{\Delta t} = \frac{m(\vec{V}_2 - \vec{V}_1)}{\Delta t} \\ &= m \frac{\Delta \vec{V}}{\Delta t} \end{aligned}$$

له هغه ځایه چې $\frac{\Delta \vec{V}}{\Delta t}$ عبارت دی د جسم له تعجیل (\vec{a}) څخه نو په (3) رابطه کې د قیمت په وضع کولو سره کولای شو ولیکو: ($m = Co s nt$)..... $\sum \vec{ma} = m\vec{a}$

وروستی، لاس ته راغلي رابطه، د نیوتن له دویم قانون څخه عبارت ده.

د امپولس – مومنتم قانون

مور: په پخوانیو بحثونو کې امپولس او مومنتم تعریف کړل. اوس ښیو چې هغوی څه ډول په اسانۍ د نیوتن له دویم قانون سره تړلي دي. مور: په پورته کې وښودو چې قوه مساوي ده، د مومنتم د تغیراتو له زماني درجې سره، یعنی: $\frac{\Delta}{\Delta t}$ او یا کولای شو داسې ولیکو: $\Delta t = \Delta$

اما $\Delta t = I$ د F امپولس د Δt په زماني انټروال کې او Δ = تولید شوي مومنتم تغیر د F د قوې پرمخت، نو کولای شو چې ولیکو: $I = \Delta$

وروستی، رابطه بیانوي چې، یوه قوه چې پر یوه جسم عمل کوي، برابره ده، د نوموړي د جسم په مومنتم کې له منتجه تغیراتو څخه چې بیان شوي جمله د (امپولس – مومنتم) د قانون په نامه یادېږي. د (6-7) شکل دا قانون د صفر د لومړنۍ مومنتم لپاره ښيي.

$$V = 0$$

a)  $= m\vec{V} = I$

b) 

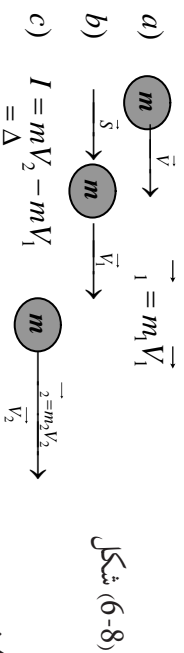
c) 

شکل، (6-7)

د صفر لومړنۍ مومنتم لپاره د (امپولس – مومنتم) د قانون ښودنه

د m کتله په پیل کې د سکون په حالت کې وه او د I امپولس د mV په اخری مومنتم کې چې په عددي ډول مساوي له I سره دي، په کې اعمالېږي. د (6-8) په شکل کې د m یوه کتله د $mV_1 =$ لومړنۍ مومنتم لرونکې ده، په همدې ډول د I یو امپولس د $mV_2 =$ اخری مومنتم په پایله کې پر کتلې اعمالېږي، نو ددې له مخې کولای شو ولیکو: $I = mV_2 - mV_1$

د امپولس - مومنتم قانون د نیوټن د دوهم قانون بڼه تفصیل او توسعه ده، لاندې شکل لومړنۍ د خوښې مومنتم د (امپولس - مومنتم) د قانون پر بنسټ ښيي.



شکل (6-8)

تمرین

د یوې فضايي سفینې کنټرولونکي انجنونه چې g 15000 کتله لري، د مخې په لور د خپلې بدنې د غورځولو لپاره 3×10^5 ټوټه تولید وي. د سفینې د مومنتم بدلونونه په هغه حالت کې چې انجنونه یې د 10^5 لپاره اور واخلي حساب کړئ. په سرعت کې په منتهجه بدلونونه څومره وي؟ او د څومره مودې لپاره باید ماشینونه فعالیت وکړي، ترڅو په سفینه کې 4×10^4 م/س د سرعت تغیر رامنځته شي.

$$\Delta = I = \Delta t = 3 \times 10^5 \times 10s = 3 \times 10^6 \text{ g m/s}$$

$$\Delta V = \frac{\Delta}{m} = \frac{3 \times 10^6 \text{ g m/s}}{1.5 \times 10^4 \text{ g}} = 200 \text{ m/s}$$

$$\Delta t = \frac{\Delta}{a} = \frac{m \Delta V}{a} = \frac{1.5 \times 10^4 \times 4 \times 10^4}{3 \times 10^5} = 2 \times 10^3 s = 2000s$$

نو په دې مثال کې کله چې انجن د 10 ثانیه لپاره وارد شي د سفینې په مومنتم کې منتهجه بدلونونه نو په دې 3×10^6 او په سرعت کې منتهجه تغیرات 200 m/s دي. انجنونه باید د $2000s$ لپاره (تقریبا 33 دقیقې) فعالیت وکړي، ترڅو $400,000 \text{ m/s}$ د سرعت بدلون تولید کړي. په یاد ولري چې پورتنۍ سرعت $(m/hr) = 144,000 \text{ m/hr} = 3600 \text{ s/hr} = 40 \text{ m/s} = 4 \times 10^4 \text{ m/s}$ یو خوا ډېر لوړ سرعت دي. پورتنۍ مثال مورته د امپولس - مومنتم د قانون د گټې اخیستنې یو مورد را په گوته کړ.

4-6: ضربه او د خطي مومتم ساتل (تحفظ)

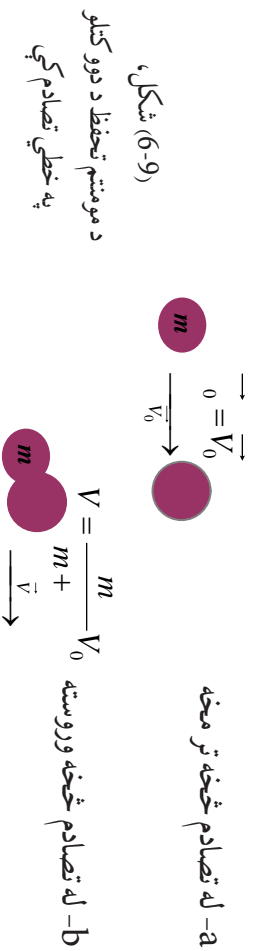
په پخواني څپرکي کې مو د نیوټن دریم قانون په دې اړه چې د هر عمل لپاره هغه ته یو مساوي عکس العمل شتون لري، په تفصیل سره مطالعه کړ. د نیوټن دریم قانون په حقیقت کې په طبیعت کې د قوو د بنسټي خاصیت پایله ده چې تل یې په خپلو کې په جوړه یې ډول عمل او عکس العمل واقع کېږي. کله چې یو جسم پر بل جسم قوه واره کړي، دوهیم جسم یوه مساوي او مخالف الجته قوه پر لومړي جسم وارد وي. اوس ددې حقیقت یو ځلی کول د نیوټن له دوهم قانون سره د مومتم پر بنسټ، موز ته د مومتم د تحفظ قانون لارښوونه کوي. که چېرې پر یوه سیستم هیڅ قوه واره نشي، په دې حالت کې د یو سیستم مومتم پرته له هر رنگه متقابلو اغیزو د هغه سیستم هیڅ قوه واره نشي، په دې حالت کې د مومتم د تحفظ قانون په بشپړ توګه بیانوي. له پورتنۍ تعریف څخه د نیوټن دوهم قانون دارنگه لیکو:

$$\Delta = \frac{\Delta}{\Delta t} \quad \text{او یا} \quad \Delta = \Delta t$$

په وروستی رابطه کې F پر جسم B د اجسامو په سیستم) باندې عامله محصله قوه، Δt هغه زماني انټروال دی چې د F قوه عمل کوي او Δ د مومتم منته بدلون دی. په څرګنده توګه که چېرې F صفر وي، یعنې که چېرې کومه منته قوه پر جسم B (سیستم) عمل ونکړي، په هغه صورت کې Δ هم صفر وي، او دا معنا ورکوي چې مومتم ثابت دی. که چېرې د یو کمیت بدلون د Δt په زماني انټروال کې صفر وي، په دې صورت کې نوموړي کمیت د Δt په زمان کې ثابت وي. د مومتم د تحفظ قانون د اجسامو په تصادم کې ډېر مهم دی. فرض کوو دوه جسمونه سره تصادم کوي، راځي چې په لنډ ډول د هغو تصادم بیان کړو.

کله چې دوه جسمونه د تصادم د پیل په لحظه کې په خپلو کې سره لګېږي، هر یو پر بل باندې یوه قوه واردوي، چې ددې قوو کچه سره مساوي او لوري یې مختلف وي. لکه څنګه چې دغه ادعا د تصادم په کړنې کې صحت لري، نو ددې له مخې د (قوي- زمان) منځني د هرې قوې لپاره په بشپړه توګه یو شان وي. له دې څخه پایلې ته رسېږو چې د هرې قوې امواس د مقدار له اړخه یو له بله سره مساوي دی. نو د هر جسم د مومتم بدلونونه مساوي او لوري یې مخالف دي. په داسې حال کې چې د دوو جسمونو په سیستم کې د مومتم ټولیز بدلونونه د متقابلو اغیزو (د تصادم عمل) په پایله کې له صفر سره مساوي وي. په دې معنا چې د دوو جسمونو په مومتم کې د بدلونو مجموعه له ټکر څخه تر مخه او ترې وروسته په دقیقه توګه له صفر سره مساوي وي. دا بیان څرګندوي چې مومتم د یو تصادم په متقابلو اغیزو کې د دوو جسمونو ترمنځ ثابت وي او پرته له بدلون څخه پاته کېږي.

مثال: په (6-9) شکل کې د دوو جسمونو ترمنځ د تصادم ځانګړی ډول ښودل شوی دی.



لومړنۍ جسم د m په کتله او v_0 سرعت له دویمې جسم سره چې د M کتلې لرونکي دي ټکر کوي او په پایله کې دواړه کتلې یو له بله سره یو ځای کېږي او د v په سرعت خپل حرکت ته دوام ورکوي. اوس له تعریف سره سم کولای شو ولیکو:

$$mV_0 = 0 = mV_0$$

$$= (m + M)V = mV_0$$

د مومتم د تحفظ له قانون څخه

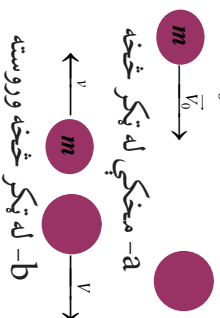
$$V = (m + M)V_0$$

د دې له مخې له تصادم څخه وروسته سرعت لپاره کولای شو ولیکو: $V = \frac{m}{m+M} v_0$

باید یادونه وکړو چې کولای شو چې د m ، او v_0 د قیمتونو په لرلو سره له تصادم څخه وروسته دواړو یو ځای شوو کتلو د حاصل شوي سرعت محاسبه کړو.

د (6-10) شکل د m یوه کتله د v_0 له سرعت سره له M دویمې کتلې سره تصادم (ټکر) کوي او له تصادم څخه وروسته، m د v په سرعت او M د V په سرعت یو ډبل په مخالف لوري کې په حرکت راځي. څرنگه چې په دې ټکر کې مومتم محفوظ دي، نو له مخې یې:

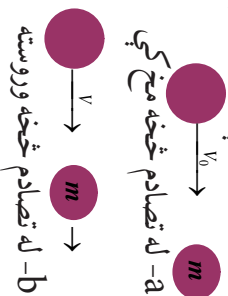
$$mV_0 = V + (-mV) = V - mV$$



(6-10) شکل،

په خطي ټکر کې د مومتم تحفظ (ټکر لرونکي کتله له ساکني کتلې کوچي)

پورتی رابطه په څرگند ډول بیانوي چې له تصادم څخه د مخه مومتم مساوي دی، له تصادم څخه وروسته مومتم سره، که چیرې تصادم کورونکي کتله د مستقیم خط پرمخ په یو تصادم کې له ساکني کتلې څخه لږه وي، په دې صورت کې دواړه کتلې له تصادم څخه وروسته یو له بله څخه لږې کېږي او په همدې پړه لوري کې په حرکت راځي. په (6-11) شکل کې ښودل شوي دي.



شکل (6-11)،

په خطي تصادم کې د مومتم تحفظ
(ټکر کورونکي کتله له ساکني کتلې څخه لږه)

د دې ځانگړي حالت لپاره، د مومتم د تحفظ قانون لاندې شکل ځانته اختیاري:

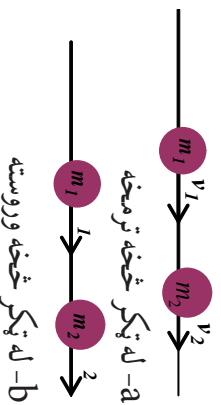
$$V_0 = V + mv$$

په (6-12) شکل کې د مستقیم خط پرمخ د دوو کتلو تصادم د مستقیم خط پرمخ ښودل شوي دي. په دې حالت کې:

$$m_1 v_1 + m_2 v_2 = m_1 v_1 + m_2 v_2$$

$$m_1 v_1 + m_2 v_2 = m_1 V_1 + m_2 V_2$$

د m_1 او m_2 ورکړ شوو کتلو او v_1 او v_2 ټاکلو سرعتونو لپاره بیا هم وروستي سرعتونه له تصادم څخه وروسته په v_1 او v_2 دي. د لومړني قیمت د ورکړل شویو ټاکلو برخو لپاره m_1 ، m_2 ، v_1 او v_2 د نهایي سرعت د بې شمېره ترکیبونو لپاره رامنځته کېدای شي. خو د کتلو او سرعتونو د ټولو اندازه شوو قیمتونو لپاره د پورتني معادلې صحت او د مومتم د تحفظ د قانون د صحت په پایله کې په هغو کې تحقق مومي.



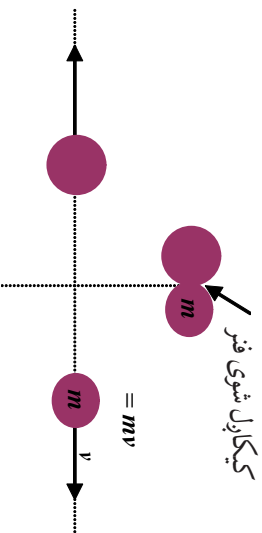
شکل (6-12)،

د مستقیم خط پرمخ ټکر د مومتم
د تحفظ عمومي حالت

د مومنتم د تحفظ یول په زړه پورې مثال په (6-13) شکل کې ښودل شوی دی. د m له کتلو سره دوه جسمونه، د یو فنر په دواړو خواو چې تر فنډر لاندې نیول شوي، یو له بل سره کلک نیول شوي دي. په هغه گړۍ کې چې جسمونه خوشې شي، د فنر قوه یې په دوو اړخو ضربه واردوي. په هر یو جسم باندې د واردې شوې قوې اندازه په هره گړۍ کې چې قوه عمل کوي، په بشپړ ډول یو له بل سره مساوي او پر کتلو د وارد شوو قوو لوری یو د بل په خلاف دی. ددې له مخې، د هغې قوې امپولس چې په عمل کوي، په کچه کې مساوي، خو د هغه قوې له امپولس سره په مخالف لوري کې دي، چې د m پر کتلې عمل کوي. هره کتله د شوپ کتلو په پایله کې عین مقدار مومنتم لاس ته راوړي او ددې مومنتمونو لوري سره مخالف او مجموعه یې صفر دی. یعنې څرنگه چې مومنتم له خوشې کېدو تر مخه صفر وه، اوس هم مومنتم په هماغه ډول له خوشې کېدو وروسته صفر دی. له پورتنیو بحثونو څخه که چیرې د مومنتم اسکالري اندازه ته پام وکړو، وبه مومو چې هغوی باید یو له بل سره مساوي وي. نو شکل ته په دویم ځلي پاملرنه کولای شو ولیکو: $mv = mv$

شکل (6-13)،


د هغو کتلو د مومنتم تحفظ چې د فنر په واسطه دواړو خوا ته شوتل شوي دي.



دا پایله همدا راز د مومنتم د تحفظ د قانون له مستقیم تطبیق (برته له پورتنیو څرگندونو) څخه کېدای شي لاس ته راشي چې له مخې یې لومړنی مومنتم باید له نهایي مومنتم سره مساوي وي، او په دې مثال کې د دواړو مومنتمونو برخې په بشپړه توگه صفر دي.

6-5: اړتجاعي ټکر (تصادم)

اړتجاعي تصادم څه شی دی؟ او د فزیک له اړخه څنگه څیړل کېږي؟ اړتجاعي تصادم عبارت له هغه تصادم څخه دی چې په کې د مومنتم د تحفظ او میخانیکي انرژۍ قوانین دواړه صدق وکړي. ددې ډول ټکر د ښه درک لپاره د A او B دوه واړه جسمونه په نظر کې نیسو، داسې چې دواړه جسمونه د (X) د محور په یوه مستقیم خط حرکت کوي. اوس دا دواړه جسمونه له ټکر څخه تر مخه او له هغې څخه وروسته تر مطالعې لاندې نیسو: فرض کوو چې له (6-14) شکل سره سم د A او B دوه جسمونه له ټکر څخه د مخه په ترتیب سره د v_A او v_B سرعتونه او له تصادم څخه وروسته د v'_A او v'_B سرعتونه لري.



شکل (6-14)

کله چې $v > 0$ وي، جسم د X د محور نښي لور ته او کله چې $v < 0$ وي، جسم د X د محور کېښ لوري ته حرکت کوي.

د مومنتم د تحفظ له قانون سره سم، په دې ډول ټکر کې د سیستم مجموعي مومنتم له ټکر څخه مخکې او وروسته ثابت پاته کېږي، نو کولای شو ولیکو چې:

$$m_A V_A + m_B V_B = m_A V'_A + m_B V'_B \dots\dots\dots(1)$$

په همدې ډول د میخانیکي انرژي د تحفظ د قانون له مخې، د ټکر کونکو جسمونو د حرکي انرژي مجموعه له ټکر څخه تر مخه او له ټکر څخه وروسته مساوي دي، یعنې:

$$\frac{1}{2} m_A V_A^2 + \frac{1}{2} m_B V_B^2 = \frac{1}{2} m_A V_A'^2 + \frac{1}{2} m_B V_B'^2 \dots\dots\dots(2)$$

په هغه صورت کې د دواړو جسمونو کله او سرعت له تصادم څخه د مخه معلوم دي، د (1) له رابطې څخه به گټې اخیستلو کولای شو، د A او B دواړو جسمونو کله او سرعت له تصادم څخه وروسته داسې به لاس راوړو:

$$m_A (V_A - V'_A) = m_B (V'_B - V_B) \dots\dots\dots(3)$$

په همدې ترتیب له (2) رابطې څخه به گټې اخیستلو سره د حرکي انرژي لپاره لیکو چې:

$$m_A (V_A^2 - V_A'^2) = m_B (V_B'^2 - V_B^2) \dots\dots\dots(4)$$

له الجبري $(a+b)(a-b) = a^2 - b^2$ ، پورتنۍ رابطه په لاندې ډول لیکلای شو:

$$m_A (V_A - V'_A)(V_A + V'_A) = m_B (V'_B - V_B)(V'_B + V_B) \dots\dots\dots(5)$$

اوس په (3) رابطې باندې د (5) رابطې په ویشلو او د $V'_A \neq V'_B$ او $V_B \neq V_B'$ په فرضولو سره لرو چې:

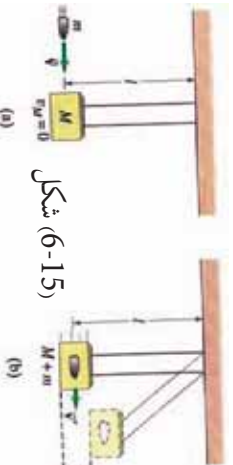
$$\begin{aligned} V_A + V'_A &= V'_B + V_B \\ V_A - V_B &= V'_B - V'_A \end{aligned} \quad \text{اویا}$$

$$V_A - V_B = -(V'_A - V'_B) \dots\dots\dots(6)$$

د (6) اخځني رابطة يوه ډبره مهمه او په زړه پورې رابطة ده، د تصادم دا رابطة ددې بيانونکي ده چې په يو ارتجاعي تصادم کې، نسبي سرعت او يا د دوو ټکر کوونکو جسمونو د سرعتونو تفاضل له ټکر څخه دمخه او وروسته يو له بله سره برابر خو يو له بل څخه په خلاف لوري دي.

6-6: غير ارتجاعي ټکر (تصادم)

غير ارتجاعي تصادم څه شی دی؟ د ارتجاعي او غير ارتجاعي تصادم ترمنځ څه ډول توپير شته؟ غير ارتجاعي تصادم عبارت له هغه تصادم څخه دی چې په هغې کې د مومنتم د تحفظ قانون صدق وکړي. خو د ميخانيکي انرژي د تحفظ قانون صدق ونه کړي. په دې ډول تصادم کې د ميخانيکي انرژي د تحفظ د قانون صدق نه کول په دې دليل دي چې د سيستم د حرکې او پوتانسيل انرژي مجموعه ثابت نه پاته کېږي. يعنې په دې ډول تصادم کې شونې ده، چې ميخانيکي انرژي په حراتي انرژي، صوتي انرژي او يا د کار د تغيير شکل ورکړي.



شکل (6-15) (6-15)

نو ددې له مخې د غير ارتجاعي تصادمونو لپاره، يوازې کيدای شي د مومنتم د تحفظ قانون تر مطالعې لاندې ونيسو. په غير ارتجاعي تصادمونو، معمولاً تصادم کوونکي جسمونه له تصادم څخه وروسته يو له بله سره نښتي او په عين سرعت حرکت کوي.

د غير ارتجاعي تصادم ډيټرنلر لپاره يوه نښه مثال عبارت له بالستیک رقصي (Ballistic Pendulum) څخه دی، چې په مرسته يې کولای شو د مرمي سرعت اندازه کړو.



څېړنه وکړئ:

د ټولگي په مختلفو ډلو کې د مرمي د سرعت د پيدا کولو يو طريقه د بالستیک رقصي پرست وڅيړئ او پايله يې ټولگي ته وړاندې کړئ.

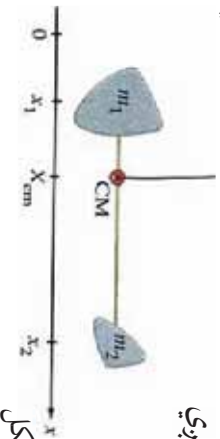
6-7: د ثقل مرکز

په پخو انيو ټولگيو کې د ثقل مرکز له مفهوم او دا چې څنگه مو وکولای شو د منظمو هندسي جسمونو د ثقل مرکز پيدا کړو، بلدتيا ترلاسه کړه، خو ايا تراوسه مو له ځانه څخه پوښتنه کړې ده، چې څرنگه کولای شو د اجسامو د يو سيستم او يا هغو ذرو د ثقل مرکز چې د يو مستقيم خط پرمخ دي، لاس ته راوړو؟ او يا دا چې په کومو حالتونو کې کولای شو د ذرو د سيستم او يا اجسامو د ثقل مرکز مطالعه کړو. د پيرټينو پوښتنو د ځوابولو لپاره د (6-16) شکل په نظر کې ونيسئ، په دې شکل دوه جسمونه د m_A او m_B په کتلو شتون لري چې د هريو واټن د X د محور له مرکز څخه عبارت له x_A او x_B څخه دي.

ددې سیستم د ثقل د مرکز د لاس ته راورلو لپاره چې له دوو جسمونو (له دوو ذرو څخه نماینده گي کوي) جوړ شوي دي له لاندې رابطې څخه گټه تر لاسه کېږي

$$m_A x_{cm} + x_B x_{cm} = m_A x_A + m_B x_B$$

$$\text{اویا (1)} \quad X_{cm} = \frac{m_A x_A + m_B x_B}{m_A + m_B}$$




شکل (6-16)

په دې رابطه کې X_{cm} د سیستم د ثقل د مرکز فاصله د X محور له مرکز څخه دي. د رابطې د ساده

$= m_A + m_B$ په نښه نښو، یعنې:

د M د قیمت په وضع کولو د (1) رابطه لاندې شکل ځانته نیسي:

$$X_{cm} = \frac{m_A x_A + m_B x_B}{m_A + m_B}$$



شکل (6-17)

اوس مختلف حالتونه تر مطالعې لاندې نیسو:

1 - په هغه صورت کې چې یو ه کتله له بلې څخه لویه مثلا $m_B > m_A$ وي، په دې حالت کې ددې دوه جسمي (دوه ذره یي) سیستم د ثقل مرکز هغه جسم ته نژدې دی چې د لوېې کتلې لرونکی وي.

2 - که چېرې د سیستم ټوله کتله په یوه نقطه مثلا د m_B په نقطه کې دي، په دې صورت کې به $m_A = 0$ وي او کولای شو ولیکو چې:

$$X_{cm} = \frac{0 \times X_A + m_B X_B}{0 + m_B} = \frac{m_B X_B}{m_B} = X_B$$

3 - که چېرې سیستم له دوو جسمونو (ذرو) زیات تر n ذرو پورې وي، په داسې حالت کې د (1) د رابطې پر بنسټ کولای شو ولیکو چې:

$$X_{cm} = \frac{m_1 X_1 + m_2 X_2 + m_3 X_3 + \dots}{m_1 + m_2 + m_3 + \dots} \dots \dots \dots (2)$$

$$= m_1 + m_2 + m_3 + \dots$$

$$X_{cm} = \frac{m_1 X_1 + m_2 X_2 + m_3 X_3 + \dots}{\sum_{i=1}^n m_i}$$

ووروستي رابطه د اجسامو یا د ذرو د سیستم د ثقل مرکز د لاسته راوړلو لپاره یوه کلې رابطه ده. همدارنگه د Y محور لپاره په آسانی کولای شو په اثبات ورسوو چې:

$$\sum_{i=1}^n m_i X_{cm} = \dots$$



د شپږم څپرکي لنډيز

- د خطي مومنتم او امپولس په مبحث کې دوه اصله (امپولس - مومنتم) او (د خطي مومنتم تحفظ) د بنسټيزو قوانينو او قاعدو په نامه ياد شوي دي.
- امپولس يا ضربه يو وکتوري کميت دی، چې د قوې او وخت له حاصل ضرب څخه عبارت دی.

$$\vec{I} = \sum_{cm} \vec{r} \cdot \Delta t$$

- امپولس د نيوتن د دوهم قانون په نظر کې نيولو سره په حقيقت کې عبارت له Δ څخه دی، يعنې:

$$\vec{I} = \sum_{cm} \vec{r} \cdot \Delta t = \Delta$$

- د يو جسم خطي مومنتم د m له کتلې او \vec{v} د سرعت سره عبارت له $m\vec{v} = \vec{I}$ څخه دی.
- مومنتم يو وکتوري کميت او د \vec{v} له وکتور سره هم لوری دی.
- د څو جسمو څخه په جوړ شوي سيستم کې د ټول سيستم خطي مومنتم عبارت دی له مجموعې د مومنتمونو د هر يو له اجسامو څخه په جلا توګه، يعنې:

$$\vec{I} = \vec{I}_1 + \vec{I}_2 + \vec{I}_3 + \dots = \sum_{i=1}^n \vec{I}_i$$

- مومنتم د نيوتن د دوهم قانون په نظر کې نيولو سره عبارت له: $\vec{I} = \frac{\Delta}{\Delta t}$ څخه دی، يعنې پر يو جسم د واردو شوو قوو مجموعه مساوي د مومنتم له تغيير سره نظر زمان ته دی.
- د يو جسم لپاره د مومنتم تحفظ هغه مهال برقراره کيدای شي چې پر جسم د واردو شوو قوو مجموعه له صفر سره مساوي وي.
- ارتجاعی تصادم عبارت له هغه تصادم څخه دی چې په هغې کې د مومنتم د تحفظ بېلګې انرژي او قوانين دواړه صدق کوي.
- په ارتجاعی تصادم کې د تصادم کونکو دواړو جسمونو نسبي سرعت له تصادم څخه مخکې او له وروسته يوه اندازه خو يو دبل په خلاف لوري دي.
- غير ارتجاعی تصادم عبارت له هغه تصادم څخه دی، چې په هغې کې د مومنتم د تحفظ قانون صدق وکړي، خو د ميخانيکي انرژي د تحفظ قانون په کې صدق نه کوي.
- د اجسامو يا ذرو د سيستم د نقل مرکز لاس ته راوړلو لپاره له لاندي رابطو څخه ګټه اخيستل کېږي.

$$\sum_{i=1}^n m X_i = X_{cm} \Rightarrow \text{نظر د } X \text{ محور ته}$$


$$\sum_{i=1}^n m Y_i = Y_{cm} \Rightarrow \text{نظر د } Y \text{ محور ته}$$

د شپږم څپرکي پوښتني

1. د يو جسم مومتم عبارت دي د جسم د او له حاصل ضرب څخه.
2. د نيوتن د دوهم قانون له مخې پر يو جسم د وارده قوو مجموعه عبارت له نسبت د پر دي.
3. امپولس عبارت د له تغييراتو څخه دي.
4. په ارتجاعې تصادمونو د دوو تصادم کونکو جسمونو د سرعت تفاضل له تصادم څخه مخکې او وروسته يو له بله سره خو په لوري يو د بل دي.
5. له لاندي ځوابونو څخه کوم يو د امپولس د اندازه کولو واحد دي.
الف) m ب) $\frac{m}{s}$ ج) $\frac{m}{s^2}$ د) s
6. له لاندي ځوابونو څخه کوم يو پر جسم د عمل کونکي قوې له مجموعې سره مساوي دي.
الف) $\frac{\Delta}{\Delta t}$ ب) $\frac{\Delta v}{\Delta t}$ ج) $m \cdot \Delta v$ د) Δ
7. که چېرې د دوو جسمونو مومتم يوشان وي، په پايله کې حرکي انرژي له کلي سره له لاندينيو رابطو څخه يوه لري.

الف) مستقيم ب) معکوس ج) هيڅ اړيکه نه لري د) يو له بل سره متناسب

8. لاندي تصوير د دوو لابراتواري موټر گير تصادم ښيي، چې په ترتيب سره د 4Kg او 8Kg کلي لري. له تصادم څخه وروسته د A موټر له 1m/s سرعت سره د شا په لور او د B موټر له 2m/s سرعت سره د مخې په لور حرکت کوي. ددې معلوماتو پر بنسټ، لاندي ځوابونو څخه کوم يو د مومتم او حرکي انرژي په هکله صديق کوي؟



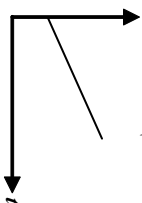
مومتم	حرکي انرژي
تحفظ صورت موندلی	تحفظ صورت موندلی
تحفظ صورت موندلی	تحفظ صورت نه دي موندلی
تحفظ صورت نه دي موندلی	تحفظ صورت موندلی
تحفظ صورت نه دي موندلی	تحفظ صورت نه دي موندلی

- الف):
ب):
ج):
د):

9. په لاندې شکل کې که چیرې د اصطکاک قوه د هر کیلوگرام په وړاندې 0.25 نیوټن وي او جسم د سکون له حالت څخه په حرکت کې راشي، له څو ثانیه څخه به یې موتم 8 m/s ته ورسېږي؟
الف) 1.25 ثانیه ب) 2.5 ثانیه ج) 1.6 ثانیه د) 3.2 ثانیه



10. د Y عمودي محور، د P موتم لاندې گراف او د X افقي محور، t زمان د یوې فضايي سفینې لپاره ښيي. له لاندې څوابونو څخه کوم یو د خط له میل څخه عبارت دی.



- الف) د سفینې کتله
ب) د سفینې سرعت
ج) هغه مجموعي قوه چې د سفینې پرمخ عمل کوي.
د) د سفینې پرمخ ترسره شوي کار
11. یو جسم د 5 ثابتي قوې لاندې د سکون له حالت 1.5 m/s^2 تعجیل سره په حرکت راځي، له 6 ثانیه څخه وروسته د جسم موتم 8 m/s کېږي؟
الف) 20 ب) 30 ج) 22.5 د) 45
12. څه شی باید په یو جسم تطبیق شي، ترڅو د هغه سرعت او یا حالت ته تغیر ورکړي.
13. د قوې امپولس تعریف کړئ.
14. د m د کتلې لرونکې جسم موتم چې د V په سرعت په حرکت کې دی، تعریف کړئ.
15. د خطي موتم د تحفظ قانون بیان کړئ.
16. څه ډول (امپولس) - موتم) او (د موتم تحفظ) د نیوټن قوانین تعقیبوي، بیان یې کړئ.
17. په شکل کې $10gr = m$ ، $5gr = m$ او $25 \text{ m/s} = v$ ،
د M د کتلې لومړنی سرعت حساب کړئ.
18. په لنډ ډول د دودو جسمونو په تصادم کې د موتم تحفظ چې نوموړي جسمونه د مستقیم خط پرمخ حرکت کوي، تشریح کړئ.
19. د $s - 300$ یو امپولس پر یو جسم چې کتله یې 8 ده واردېږي، ددې کتلې په سرعت کې تغیر وټاکئ (تعمین) کړئ.
20. یو جسم چې $10gr$ کتله لري، د $10gr$ سرعت لرونکی دی. که چیرې $s - 1000$ امپولس پر دې کتلې وارد شي، د کتلې اُخري سرعت حساب کړئ.

21. یو ماشوم له g 21 کيلې سره بړيو وړوکی بايسکل چې g 9.5 کتله لري، سپور او په $4.5m/s$ سرعت د شمال ختيځ په لور په حرکت کې دی.
- a. د ماشوم او بايسکل مجموعي مومنتم څومره دی؟
- b. د ماشوم مومنتم څومره دی؟
- c. د بايسکل مومنتم حساب کړئ.

22. د فوټ بال يو توپ له g 0.5 کتلي او $15m/s$ سرعت سره د شمال په لور شوت کېږي، یو ساکن شخص په $0.02s$ زمان کې هغه نیسي او دروي يې. کومه قوه د نیوونکي لخوا په توپ واره شوې ده؟

23. د کرکټ د هر توپ کتله د سکون په حالت کې g 0.5 ده، که چېرې شين رنگه توپ په $12m/s$ سرعت له ابي رنگه توپ سره چې ساکن دی، برخورد وکړي. (فرض کړو چې د لويې دوخت په اوږدو کې، توپونه له اصطکاک پرته بېرېرې سطحې حرکت کوي). د ابي رنگه توپ نهایي سرعت په لاندې حالتونو کې پیدا کړئ.

- a. شين رنگه توپ له ابي توپ سره له ټکر څخه وروسته درېږي.
- b. شين توپ له تصادم څخه وروسته خپل حرکت ته له $2.4m/s$ سرعت سره په عین لوري کې دوام ورکوي.

24. د لاندې تمرینونو لپاره مناسب شکلونه رسم او هغه حل کړئ.

a- فرض کړئ چې د m کتله د (a) په شکل کې یو واگون دی له g 600 کيلې سره او د M بل واگون له g 900 کتلي سره دي. د واگونونو سرعت له تصادم څخه وروسته چې په خپلو کې سره یو ځای کېږي، محاسبه کړئ. (ځواب: $0.8m/s$ دی).

b- فرض کړئ د (b) په شکل کې m د تینس توپ له $500gr$ کيلې سره وي. که چېرې د تینس د توپ لومړنی سرعت $20m/s$ او نهایي سرعت يې $10m/s$ په هغه لوري کې چې په شکل کې لیدل کېږي، وي. د والبال د توپ سرعت پیدا کړئ. (ځواب: $3m/s$ دی)

c- د (b) په پورتنی شکل کې فرض کړئ چې یوه $10gr$ کيلې سکه او یوه $5gr$ کيلې سکه وي. په هغه صورت کې چې $V = 2m/s$ او $V_0 = 1m/s$ وي، د V قیمت وټاکئ. (ځواب: $2m/s$)

d- فرض کړئ چې پورتنی دوه جسمونه د هوليې سفینې دوي برخې (مثلا د قوماندې برخه او د سفینې د خدمتونو برخه) وي، او g 10,000 = او $m = 2000g$ وي. که چېرې یو له بل څخه د برخورد جلا کېدو وروسته $V = 5m/s$ وي، د V سرعت قیمت او د m د کيلې سرعت نسبت ته وټاکئ. (ځواب: $25m/s$ او $30m/s$)

25. یوه تشله له $0.015kg$ کتلي سره شني لورته له $22.5cm/s$ سرعت سره له اصطکاک څخه پرته بېرېرې سطحې اغېزې، له یوې بلې تشلې سره چې له $0.015kg$ کتلي او $18cm/s$ سرعت سره کین لورته حرکت کوي، یو ارتجاعی تصادم کوي. له ټکر څخه وروسته لومړنی، تشله له $18cm/s$ سرعت سره په حرکت راځي. د دوهمې تشلې سرعت له تصادم څخه وروسته پیدا کړئ.

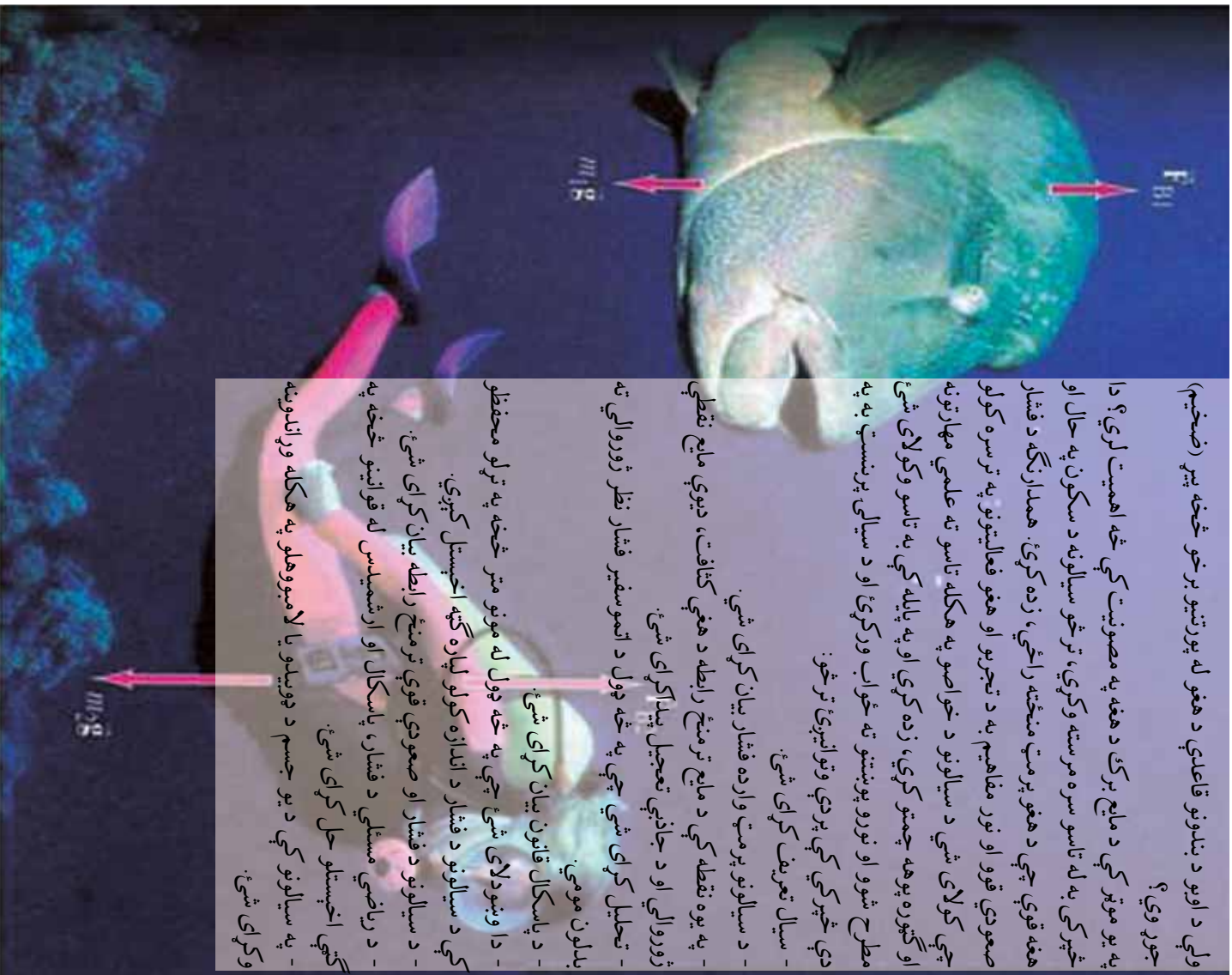
26. یو موټر له g 500 کتلي په $15m/s$ سرعت د جنوب په لور له یوې g 4500 لاری سره چې د ترافیکي اشارې لپاره د دریډلې ده، ټکر کوي. موټر او لاری یو له بله سره لگیدلي او له ټکر څخه وروسته یو له بل سره یو ځای په حرکت راځي د موټرونو د مجموعي کتلو نهایي سرعت پیدا کړئ.

اوووم شپړکی د سیالونو نسبي سکون

ولې د اوبو د بندونو قاعدې د هغو له پورتنیو برخو څخه پیر (صخیم) جوړوی؟

په یو موټر کې د مایع برک د هغه په مصونیت کې څه اهمیت لري؟ دا څپړکی به له تاسو سره مرسته وکړي، ترڅو سیالونه د سکون په حال او هغه قوې چې د هغو پرست منځته راځي، زده کړئ. همدارنگه د فشار صعودي قوو او نور مفاهیم به د تجربو او هغو فعالیتونو په ترسره کولو چې کولای شي د سیالونو د خواصو په هکله تاسو ته علمي مهارتونو او ګټوره پوهه چمتو کړي، زده کړي او په پایله کې به تاسو وکولای شي مطرح شوو او نورو پوښتنو ته ځواب ورکړئ او د سیالۍ پرنسټ به په دې څپړکي کې پردي وتوانیږئ ترڅو:

- سیالونو پرست وارده فشار بیان کړای شي.
- په یوه نقطه کې د مایع ترمنځ رابطه د هغې کثافت، د یوې مایع تقطی ژوروالي او د جاذبې تعجیل پیدا کړای شي.
- تحلیل کړای شي چې په څه ډول د اتموسفیر فشار نظر ژوروالي ته بدلون مومي.
- د پاسکال قانون بیان کړای شي.
- دا وښودلای شي چې په څه ډول له مونو متر څخه په ټولو محفوظو کې د سیالونو د فشار د اندازه کولو لپاره ګټه اخیستل کېږي.
- د سیالونو د فشار او صعودي قوې ترمنځ رابطه بیان کړای شي.
- د ریاضي مسئلې د فشار، پاسکال او ارشمیدس له قوانینو څخه په ګټې اخیستلو حل کړای شي.
- په سیالونو کې د یو جسم د جویندو یا لامبووهلو په هکله وړاندوینه وکړای شي.



7-1: سیالونه

په مایع حالت کې د اجسامو مالیکولونه د اتصال (ښینلو) له کمزورو قوو سره یو له بله سره تړل شوي دي. هغوی ثابتو موقعیتونو ته مقید نه دي، بلکې یو د بل پرمخ په ښویدلو په ازاده توګه له یو موقعیت څخه بل موقعیت ته د مکان تغیر کوي. بناءً مایعات ټاکلی حجم لري او کولای شي روان اوسې او په هغه لورېني کې چې اچول کېږي، د هغې شکل ځایته اختیاړوي.

همدا راز د مایعاتو مالیکولونه یو له بله سره نژدې دي او د فشار ورکونکو قوو په وړاندې مقاومت دي. لکه څنګه چې مایعات عملاً د تراکم وړ نه دي.

د ګاز په حالت کې ذرې یو له بله څخه ډېره فاصله لري او اتصال یا ښینلو او لګیدلو قوې یې ترمنځ هومره کوچنۍ دي چې د صرف نظر وړ دي.

له دې امله هغوی د مایعاتو مالیکولونو پرتله ډېر په ازاده توګه یو له بل څخه په لرې واټن کې حرکت کولای شي او ټاکلی حجم او ټاکلی شکل نلري، هرې خوا ته خپریږي او په اسانۍ سره متراکم کېږي. څرنګه چې هم مایعات او هم ګازات له خپل لږ مقاومت سره د فشار په وړاندې د شکل تغیر کوي او د سیالیتا وړتیا لري، له همدې امله دي چې هغوي د سیالونو¹ په نامه یادوي.

د سیالونو فشار

لکه څنګه چې تاسو پوهیږئ فشار په ظرف کې د سیال په هره نقطه کې، عبارت دی د سطحې پر واحد باندې د عمودي وارده قوې له مقدار څخه چې کیدای شي داسې ولیکل شي:

$$\text{فشار} = \frac{\text{قوه}}{\text{سطح}}$$
$$\text{او یا د سمبول په لیکلو: } = \frac{F}{A}$$

د SI د اندازه کولو په سیستم کې د فشار واحد عبارت له پاسکال (Pa) څخه دی او مساوي دی له:

$$\frac{\text{نیوتون}}{\text{مترمربع}} \text{ یا } \frac{N}{m^2}$$

مثال:

د یو کتاب لخوا وارده فشار چې $0.16cm^2$ مساحت او $8N$ وزن لري، څومره دی؟ حساب یې کړئ.

حل:

$$\text{لومړۍ مرحله: لاندې معلومات ورکړل شوي دي: } A = 0.16cm^2$$
$$= 8$$
$$\text{دوهمه مرحله: د فشار معادله ولیکئ. } = \frac{F}{A}$$

1 د سیال کلمه د پیدللو یا جریان پیداکولو د وړتیا مفهوم رسوي او له همدې امله دا کلمه په یوه وخت کې د مایعاتو او ګازاتو لپاره کارېدلای ده.

دریمه مرحله: د ورکړل شوی قیمتونو په وضع کولو سره مساحت او د قوه حساب کړئ (مرسته: وزن د جاذبې قوې له اندازې څخه عبارت دی).

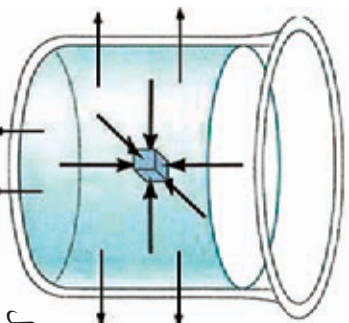
$$= \frac{8}{0.16} = 50 = 50 \frac{m^2}{m^2} = 50 \quad a$$

پوښتنې:



1. د یو کانتینر لخوا وړاندې فشار چې وزن یې 6000 او د قاعدې مساحت یې $3m^2$ دی، څومره دي؟ بیا یې کړئ.
2. د یوې دېرنې تختې وزن پیدا کړئ چې مساحت $12m^2$ دي او a فشار پر ځمکې واردوي.

7-2: د مایع فشار اندازه کول



کله چې د لامبلو په یوه ډنډه کې تراویو لاندې لامبې، د اویو فشار د خپلو غوړونو په پردو کې حس کولای شې. څه شی ددې فشار سبب کېږي؟ په اسانۍ سره ویلای شو چې ددې فشار لامل، د اویو وزن ستاسو پر بدن دي چې تاسو مقابل لورې ته ډیځه کوي. د (7-1) شکل د اویو په یو ډک لوبښي کې یو غوټه شوي جسم ښیي.

مایع د جسم او د هغې پر جدارونو قوې واردوي، قوې د جسم د سطحې او جدارونو پر هره نقطه په عمودي ډول وار دېږي.

فعالیت:



اوبه څرنگه پر اجسامو فشار واردوي؟

اړین توکي: پلاستيکي کڅوړه، سنجاق او اوبه

ګړنلاره:

- 1- کڅوړه له اویو څخه ډکه کړئ.
- 2- کڅوړې ته په سختې فشار ورکړئ او په چټکۍ سره یې په څو نقطو کې په سنجاق سوزی کړئ.
- 3- خپل مشاهدات ولیکئ.
- 4- له خپلې ډلې سره پر لیکل شورو مشاهداتو بحث وکړئ.
- 5- ستاسو پایله ترلاسه کول له دې فعالیت څخه څه شی ده؟ تاسو ولیدل چې اوبه د کڅوړې د سطحې له سوزیو څخه په ټولو لورو کې په عمودي توګه فواره کوله. دا ددې معنا ورکوي چې فشار په ټولو لورو کې د سطحې په هره نقطه کې عمودي دی.



شکل (7-2)

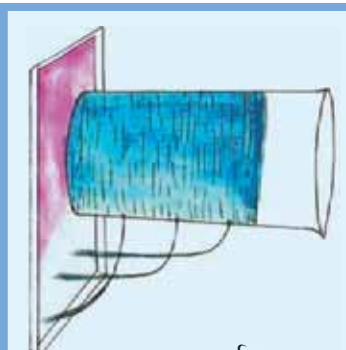
په څه ډول د اوبو د فشار کچه نظر د اوبو عمق ته توپیر کوي؟
ددي پوښتنې ځواب د لاندې فعالیت په ترسره کولو لاس ته راوړلای شئ.



فعالیت: فشار او ژوروالي

اړین توکي: اوبده حلې قطی، موم، سوري کوونکي او اوبه
ګونلاره:

- 1- د قطی پوه خوا درې ځایه په مساوي ډول سوري کړئ.
 - 2- سوري په موم یا خمیرې بند کړئ.
 - 3- حلې قطی له اوبو څخه وکه کړئ.
 - 4- سوري پر لښیزئ.
 - 5- خپل مشاهدات نوټ کړئ.
- لاندې پوښتنو ته له خپلې ډلې سره ځواب وولئ:
- له کم سوري څخه اوبه په تیزۍ او ډیر شدت فواره کوي؟
 - په کم سوري کې فشار ډیر دی؟



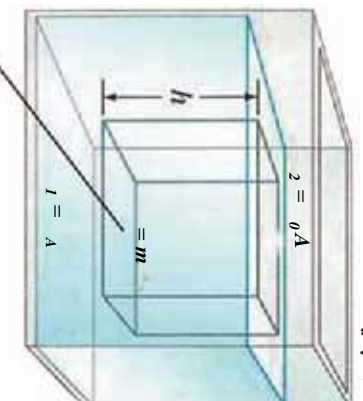
شکل (7-3)

له لاندې فعالیت څخه کولای شو پایله ترلاسه کړو چې د اوبو فشار د ژوروالي په زیاتیدو سره ډیرېږي.

د مایع په یوه ټاکلې نقطه کې د فشار او ژوروالي تړمښخ رابطنه

کثافت لرونکي ساکنه مایع د یو سر خلاصې لوبښې په منځ کې له (7-4) شکل سره سم په نظر کې نیسو. کله چې وضو اړو د مایع فشار د مایع په منځ د C په نقطه کې چیرې چې د مایع ارتفاع یا ژوروالی په هغې نقطه کې h دی، لاس ته راوړو.

شکل (7-4)



له مایع څخه وکله لوبښې په نظر کې ونیسئ چې د h په ارتفاع او د A په قاعدې یو سلنډر په کې غوټي وهي. ددې بېلګه نیز سلنډر ارتفاع برابره ده، د C نقطې له ژوروالي څخه تر اوبو تر سطحې (h) پورې راځي چې ددې فرضي سلنډر پورتنیو او لاندینو سطحو باندې عامې قوې مطالعه کړو. دغه قوې درې ډوله دي:

$$1 - \text{د بېلګه نیز سلنډر وزن } (W), \quad W = \rho Vg = \rho g h A = mg$$

$$2 - \text{د } (F_1) \text{ صعودي قوه چې د مایع د فشار له امله د سلنډر پر قاعدې واردېږي. } F_1 =$$

د (2) قوه چې د اتموسفیر د فشار له امله د سلنډر پر پورتنۍ سطحه له پاسه عمل کوي. پردي بېلگه ییز سلنډر د نیوتون د دریم قانون په تطبیقولو سره (مايع ساکن او د تعادل په حالت کې دي):

$$\sum = 0$$

$$\begin{aligned} \text{نر ددي له مخې: } A - ({}_0A + pghA) &= 0 \\ &= {}_0 + pgh \\ \text{اویا } - {}_0 &= pgh = \end{aligned}$$

P مطلقه فشار دی، P_g نظر ژوروالي ته د سیال د داخلي فشار په نامه یادېږي. د مطلقه فشار د h په ژوروالي د مايع د سرخلاصي لوړتني په ښکتنې سطحه کې د اتموسفیر له فشار څخه ډېر دی او کچه یې (Pgh) ده. له هغه څخه نه مو چې په رابطه کې مطالعه کړ، لاندې پایلې لاسته راوړلای شو:

- 1 - د مايع د داخل په هره نقطه کې فشار، په خطي توگه عمل کوي او د مايع له عمق او کثافت سره متناسب دی.
- 2 - فشار د مايع د عین ژوروالي په ټولو نقطو کې یو ډول وي.
- 3 - د لوړتني شکل پر فشار اغیز نه لري.

مثال

یو لامبورهنوونکی په $400m$ ژوروالي تر سمندر لاندې په افقي توگه لامبورهنوي. که چېرې د بحر د اوبو کثافت $\frac{kg}{m^3} = 1.025 \times 10^3$ ، $a = 1.01 \times 10^5$ او $g = 9.8 \frac{m}{s^2}$ وي، حساب کړئ.

- 1 - د P_g داخلي فشار په دې ژوروالي کې.
- 2 - منځنۍ فشار په دې ژوروالي کې.
- 3 - پر لامبورهنونکي جسم د اوبو لخوا د واردو قوو مجموعه په هغه صورت کې چې د لامبورهنونکي جسم مساحت $0.8m^2$ وي.

حل:

$$\begin{aligned} &= pgh \\ &= 1.025 \times 10^3 \times 9.8 \times 400 \\ &= 4.018 \times 10^6 \quad a \end{aligned}$$

$$= 0 + \quad -2$$

$$= 1.01 \times 10^5 \quad a + 4.018 \times 10^6 \quad a$$

$$= 4.119 \times 10^6 \quad a$$

$$= - \Rightarrow = \times A \quad -3$$

$$= 4.018 \times 10^6 \times 0.8$$

$$= 3.2144 \times 10^6$$

7-3: د اتموسفیر فشار

ځمکه د نایټروجن، اکسیجن او غازاتو د یو قشر په واسطه احاطه شوې ده، چې د اتموسفیر په نامه یادېږي. د اتموسفیر د قشر پیلوالی له ځمکې څخه د هغې تر پورتنې پورې تقریباً 150km ته رسېږي، د اتموسفیر شاوخوا 80 غازونه د ځمکې د سطحې په 10 کیلومتری ارتفاع کې دي. فشار د اتموسفیر په پورتنۍ برخه کې صفر ته نژدې کېږي، لکه چې پوهېږو فشار د اتموسفیر په هره نقطه کې مساوي وي، د هغه هوایي ستوني له وزن سره، چې طول یې له هماغه نقطې څخه د اتموسفیر تر پورتنۍ برخې پورې وي او د سطحې پر واحد باندې په هماغه نقطه کې واردېږي. نو له دې امله فشار د ارتفاع په زیاتیدو سره تناقص پیدا کوي، اوس گورو چې څنګه کولای شو، د اتموسفیر فشار اندازه کړو؟

دې موخې لپاره مورز د تورریچلي (Torricelli) له بارومتر (فشار سنخ) څخه چې په 1643 زېږدیز کال اختراع شوي دي ګټه اخلو.

په (7-5) شکل کې ښه ښه یې اوږد تيوب تقريباً د يو متر په اوږدوالي او د $1cm^2$ قاعدې مساحت سره ونښي، چې سر یې بند دی. کله چې هغه له سیمابو (Hg) څخه ډک کړو او بیا یې په معکوس ډول له سیمابو څخه په ډک لوبښي کې کېږدو، په دې صورت کې $a = b$ (ولې؟) ځکه نو: $0 = P_g h$

د بحر په سطح او تر معیاري شرایطو لاندې د ځمکې د جاذبې تعجیل او د سلسیوس صفر درجې تودوخې، د سیمابو د ستنې ارتفاع 76cm دی او د سیمابو په دې ستنې باندې د اتموسفیر فشار یو اتموسفیر (1_{atm}) دی.

د سیمابو ستنې ارتفاع په P ، g او اتموسفیر له فشار سره تعلق لري. نو له دې کبله د کثافت د تودوخې او د ځمکې د جاذبې تعجیل (P) له بدلونونو سره د بحر له سطحې څخه د ارتفاع له تغیراتو سره بدلون مومي. ټول دقیق فشار سنخوونکي یا بارومترونه (Barometers) له ترمامیتر او معلوماتي دقیقو جدولونو یا چارټونو سره یو ځای جوړېږي.



شکل (7-6)



اضافي معلومات:

خڻي مريضوعات چي باهه پري پوه شو:
هرخومره چي غواص (لامبووهونڪي) د بحر د اوبو په ژورو کي ښکته شي، فشاري بدن زياتېږي، تنفس ورته گرانېږي، نو له همدې امله لامبووهونڪي ددې ستونزې د رفع کولو لپاره له فشار تنظيمونکو څخه گټه اخلي.
د (7-6) شکل د غواصانو ځانگړي لباسونه د اوبو لخوا خارجي فشار تر 610mm ژوروالي پورې په تعادل کي ساتي او د تنفس عمل اسانه کوي.

ايا د سيال د جاري کيدو لوري ټاکلی شی؟
ددي پوښتنې د ځوابو لپاره لاندي فعاليت په عملي توگه تجربه کړئ.



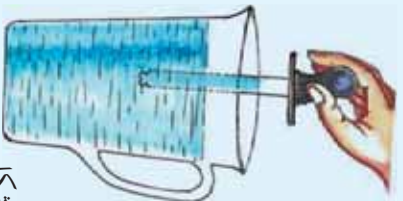
فعاليت:

د فشارونو توپير او د سيالونو جريان پيدا کول.

اړين توکي: قطره څڅوونکي، پياله او اوبه

کړنلاره:

- 1- دواړو زده کوونکو ته يوه دانه پلاستيکي قطره څڅوونکي او د اوبو يوه کوچنې پياله ورکړئ.
- 2- له هغو څخه وضوړئ چې د قطره څڅوونکي د کار د څرنګوالي په هکله يو پاراګراف وليکي.
- 3- توضيح کړئ چې ولې اوبه په قطره څڅوونکي کې پورته شي؟ او ولې کولای شو اوبه پر فشار له قطره څڅوونکي څخه خارجي کړو؟ دواړه پوښتنې دې ددې حقيقت پر بنسټ چې سيالونه د جگ فشار له ساحې څخه د تپت فشار لوري ته جريان پيدا کوي، تشریح شي.



شکل (7-7)

ستاسو پر جسم باندي د فشار بدلون

ستاسو په جسم څه پېښېږي کله چې د اتموسفیر په فشار کې بدلون رامنځته شي؟ کله چې په یوه سفر لور و او یا تیتو نقطه ته ولاړ شي، باید ځان د اتموسفیر له فشار سره عیار کړی ترڅو د بدن د داخلي او خارجي فشار تعادل رامنځته شي. بنیایي تجربه کړي مو وي چې لوړو او تیتو منطوق ته د سفر پر مهال مو غوړونه اواز کوي او سبب یې دا دی چې ستاسو د غوړنو د شاوخوا هوا په فضايي کڅوړو کې د فشار بدلونونه رامنځته شوي او د غوړز پرده مو اغېزمنه کوي.

مثال:

a- د اتموسفیر فشار د سلسیوس په صفر درجه او د ځمکې د جاذبې په معیاري تعجیل کې د بحر په سطحه کې حساب کړی. په هغه صورت کې چې:

$$\rho_g = 13595 \frac{kg}{m^3} \quad \text{او} \quad g = 9.80666 \frac{m}{s^2}$$

حل:

$$1_{atm} = \rho_g h$$

$$1_{atm} = 13595 \times 9.80666$$

$$1_{atm} = 1.013 \times 10^5 \quad a$$

b- د بحر په سطح کې پر $2m^2$ مساحت واړه قوه حساب کړی.

$$20 \text{ ټنه وزن} \approx 2.026 \times 10^5 = 1.013 \times 10^5 \times 2 \Rightarrow \frac{0}{A}$$

ولیل شوه چې دا قوه یوه ستره قوه ده.

پوښتي:



1. ولې تاسو دومره ستر او څیزونکی فشار نشئ؟ حس کولای؟



2. ولې د الرتکر کابینه بله د تنظیم شوي هوا فشار ولري؟



3. څه پېښېږي کله چې په یوې نیچې، د میوو او په څښنې؟ تشریح یې کړی.

4. ولې فشار تیر ژور ونډه په قاعده کې نسبت د یو لوی او کم ژور جهیل د قاعدې له فشار څخه زیات دی؟

7-4: په محصور شوو مایعاتو کې د فشار اندازه کول

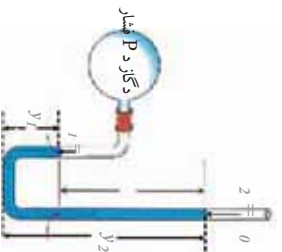
په محصور شوو مایعاتو کې د فشار د اندازه کولو لپاره کولای شو، له یوې الې خڅه چې د فشار سنډچ په نامه یادېږي، کار واخلو. دوه ډوله فشار سنډچ شتون لري. یو د سرخلاص نل چې هغې ته شکله موزومتر (U shape monometer) او دویم ډول یې د بورډن موزومتر (Bourdon - type) په نامه یادېږي.

1 - خوله خلاصی موزومتر

دا ډول موزومتر له ډوله نښېته یې نل خڅه جوړ شوي دي، چې په منځ کې یې مایع وي. یو سربني خلاصی او بل سربني له یو سیستم (ټانک) چې د (فشاريې اندازه کوو وصل شوي دي. د کین اړخ د ستنې په قاعده کې د مایع فشار مساوي دی له $Pgy_1 +$ سره، په داسې حال کې چې د نسبي اړخ په قاعده کې، د مایع فشار $Pgy_2 +$ دی.

P عبارت د موزومتر د مایع له کثافت خڅه دی. له هغه ځایه چې دواړه تعریف شوي فشارونه له هغه نقطې سره اړیکه لري، نو ددې له مخې لیکلای شو:

$$\begin{aligned} + Pgy_1 &= 0 + Pgy_2 \\ - 0 &= Pg(y_2 - y_1) \\ - 0 &= Pgh \end{aligned}$$



شکل (7-8)

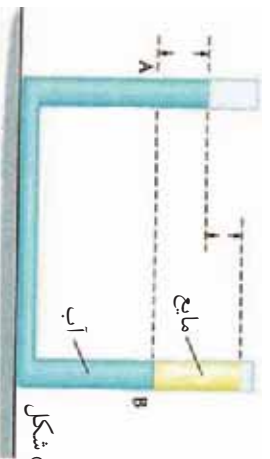
لکه څنګه چې پوهېږئ چې ($0 -$) نظر زوروالی ته، د فشار د توپیر په نامه دی او دا فشار متناسب دی د مایع د ستونونو د ارتفاع له توپیر سره.

مثال:

یو ډولې نښېته یې نل له اوبو خڅه یوڅه ډک شوی دی، یوه بله مایع چې له اوبو سره نه ده مخلوط شوې، د نل په یو انجام کې اچول شوي ده. ترڅو دا مایع د d په فاصله کې د اوبو په پورتنۍ سطحه په بل سټون کې وساتل شي، د (7-9) شکل.

پیداګړی:

- 1 - د مایع د کثافت او اوبو د کثافت ترمینځ نسبت.
- 2 - که چېرې د مایع د ستون ارتفاع $20cm$ او $d = 8cm$ وي، د مایع کثافت پیداګړی.



شکل (7-9)

حل:

1- $a = h$ ځکه چې په عین افقي سطحه کې واقع دي. بیا پدې: $p_g + \rho g(d + h) = p_g + \rho g h$
په رابطه کې p د مایع کثافت او p د اوبو کثافت رابښي، د پورتنۍ رابطې له ساده کولو وروسته

$$\text{لرو: } \frac{\rho}{\rho + d}$$

$$2 - \text{ځنګه چې: } p = 600 \frac{kg}{m^3} \Rightarrow p = \frac{12}{20}$$

مثال:

په خوله خلاصی مونومتر د ګاز له یوه ټانک سره تړل شوی دی.

د بڼې اړخ په ستون کې د سیمايو سطحه د (7-10) شکل په څیر، $0.39m$ نسبت د مونومتر د کین اړخ سطحې ته لوړه واقع ده. که چېرې یو مونومتر د سیمايو د ستون ارتفاع $g - 0.75mm$ وښيي.

a- د ګاز مطلقه فشار څومره دی؟ ځوابونه په نیوټن پر متر مربع ($\frac{N}{m^2}$) او اتموسفیر (atm) وړاندې کړئ.

b- د ګاز داخلي فشار نظر د (P_g) ژوروالي ته محاسبه کړئ.

حل:

a- د ګاز مطلقه فشار (P_{gas}) عبارت له هغه فشار څخه دي چې د سیمايو د کین اړخ ستون پر پورتنۍ سطحې وارديږي او دا فشار مساوي دی د سیمايو د بڼې اړخ ستون په عین افقي ارتفاع کې له وارده فشار سره. نو ددې له مخې:

$$P_{gas} = p_g + \rho_{Hg} h = 0.75 + 0.39 = 1.14m - Hg$$

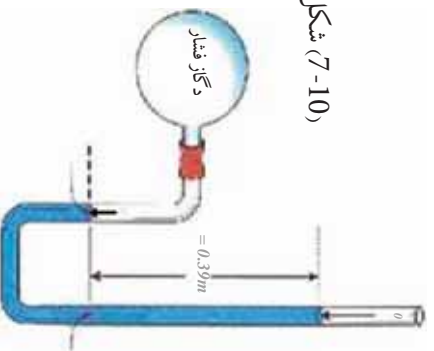
$$1atm = 0.76mHg$$

$$\text{نو ددې له مخې: } 1.5atm = \frac{1.14}{0.76}$$

$$\text{او } 1.5195 \times 10^5 N/m^2 = 1.5 \times 1.013 \times 10^5$$

b- د ګاز داخلي فشار (P_g) داسې په لاس راځي:


$$P_g = \frac{0.39}{0.76} = 0.513 = 0.538 \times 10^5 N/m^2$$



(7-10) شکل

2) د بوردن ډوله فشار سنځ اله

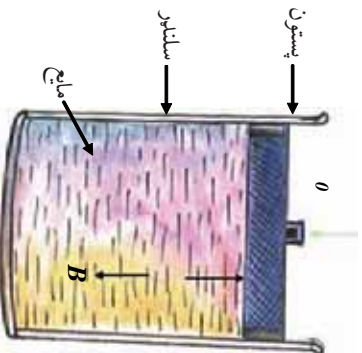
له دې الې، څخه نسبت مایع مونومتر ته د گڼو مقاصدو لپاره په اسانۍ او آرامۍ ډیر کار اخیستل کېږي. دغه مونومتر له یوه برنجي هوار ټیوب څخه جوړ شوی دی، چې یو سر یې تړل شوی او په دایره یي ډول کوز شوی دی. تړل شوی سر یې له یوې گیر او کوچني غاښ لرونکي څرخ چې د یوې مندر چې صمغې پر مخ حرکت کوي له یوې عقربې سره وصل شوی دی. د (7-11) شکل. دغه مونومتر په څه ډول کار کوي؟ د ټیوب خلاص انجام له هغې الې سره چې فشار په کې اندازه کېږي، وصل شوی دی. کله چې فشار د هوار ټیوب په سر راوړل کېږي، ټیوب ورو ځان سیخوي او دنل د خلاص انجام (چې له عقربې سره وصل دی) د حرکت په پایله کې عقربه حرکت کوي.



شکل (7-11)

7-5: په سیالونو کې د فشار انتقال (د پاسکال قانون)

د (7-12) شکل یو سیال په یو سلنډر کې نښتي چې له مایع څخه ډک شوی دی او یو پستون لري. ددې پستون په مرسته کولای شو د سلنډر داخلي فشار ته تغیر ورکړو. فشار د مایع د داخل په هره نقطه کې د مثال په ډول د (b) په نقطه کې د $P_{gh} + 0 =$ معادلې په مرسته حسابیدای شي. راځئ چې داخلي فشار د $\Delta 0$ په اندازه زیات کړو. په دې حالت کې د قیمت هم د پورتنۍ رابطې پر بنسټ زیاتېږي. دا پایله د پاسکال لخوا (1662-1623 Blaise Pascal) اعلان شوه،



شکل (7-12)

چې د پاسکال د قاعدې په نامه یادېږي. هغه فشار چې پر یوې محصور شوي مایع تطبیق کېږي، پرته له دې چې په کچه کې یې کموالي راشي د مایع ټولو برخو او د لورنښي جدارونو ته انتقالېږي.

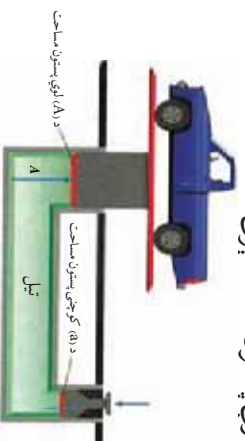
پاسکال د قوي مضاعف کونکي اله اختراع کړه چې د پاسکال د ابې شکنجي په نامه یاده شوې او په مودرنه تکنالوژي کې د تطبیق مهم ځایونه لري.

ابي شكنجه)

په بنسټيزه توگه ابي شكنجه له دوو سلنډرونو څخه جوړه شوي ده، چې له غليظي مايع څخه ډكه شوي ده او د متحركو پستونونو په مرسته يې پررتي سطحې بندي شوي چې په (7-13) شكل كې ښودل شوي دي. لوی ستون د (A) او كوچنی پستون د (a) مساحت لرونكي دي.

ابي شكنجه څنگه كار كوي؟

1- كله چې تاسو د (F) يوه كوچنې قوه په يوه واړه پستون واره كړئ. د مايع (تيل) پر سطحې وارد شوی فشار $= \frac{F}{a}$ ، د ارتباطي نل له لارې پستون ته انتقالېږي.



شكل (7-13)

2- څرنگه چې فشار د دواړو پستونو پر سطحې مساوي دی، نو: $\frac{F}{a} = \frac{A}{A}$ $\Rightarrow F = \frac{A}{a} \times A$ وروستی رابطه راښيي چې ابي شكنجه، د قوې مضامف كوونكي اله ده چې ميخانيكي خيالي گټه يې له $\frac{A}{a}$ سره مساوي ده. د سلمايي څوكي، د غاښونو د ډاكټر څوكي، د موټرو جكونه او هايډروليكي بركونه دا ټول هغه وسايل دي چې د پاسكال له قاعدې څخه په گټې اخېستلو جوړ شوي دي. تاسو كولاى شئ د پاسكال د قاعدې په تطبيقولو سره لاندي جيرانوونكي فعاليت ترسره كړئ.



فعاليت:

يود د اوبو بازاك ركوچني بوتل) حركت د اوبو په لوبني كې،
اړين توگي: استوانه يي وركوټي بوتل له 8 تر 10 سانتي متره اوږد، بنسټه يي اوږد مرتبان او د ربر اړتجايي پرده (د قبيچي شوي پوكاڼي يوه برخه)، اوبه او يوه دانه تشله.

گړنلاره:

- 1- مرتبان له اوبو ښه ډك كړئ.
- 2- په وركوټي بوتل كې ترهغې پورې اوبه واچوئ، ترڅو د اوبو په سطحه كې پلټې شي او په مرتبان كې په غوټه كيدو سره لاسوهي.
- 3- تشله په ربري پرده د شكل په څير وټوئ، او پرده د مرتبان له پاسني څنډې سره كلك كړئ.
- 4- پرده له تشلې سره ونيسئ او فشار وركوئ او دوهم ځل بې پورته راكړئ، خپلې مشاهدې نرت كړئ او هغه تشرېح كړئ.



شكل (7-14)

د مرتبان په بهرنۍ سطحه کې د هوا د فشار ډیبروالی د مایع له لارې انتقالیږي او ددې لامل ګرځي ترڅو چې د اوبو یوه ډبره اندازه د اب بازګ په منځ کې ورننه وزی. صعودي قوه پکې کميږي او ددې لامل ګرځي چې د اب بازګ بوتل پکې لمباو ګرځي. د فشار په دویم ځلي کېدو سره، بوتل خپله صعودي قوه بیا مومي او پورتنۍ سطحې ته پورته ځي.

مثال

په یوه ابې شکنجه کې که چیرې کوچنی پستون 5cm قطر او لوی پستون 40cm قطر ولري، په کوچنی پستون باند کومه وزنه کېږدو ترڅو هغه موثر چې 2×10^4 وزن لري، د لوی پستون د پاسه په توازن کې وساتي؟

حل: لرو چې:

$$a = \pi r^2 = \pi \times (0.025)^2$$

$$A = \pi^2 = \pi \times (0.2)^2$$

$$= 2 \times 10^4$$

$$\frac{a}{A} \Rightarrow = \frac{a}{A}$$

$$= 2 \times 10^4 \times \frac{0.025 \times 0.025}{0.2 \times 0.2} \Rightarrow = 312.5$$

ایا پوهیږئ چې تاسو کولای شئ، یوه ابې شکنجه ډیزاین کړئ؟

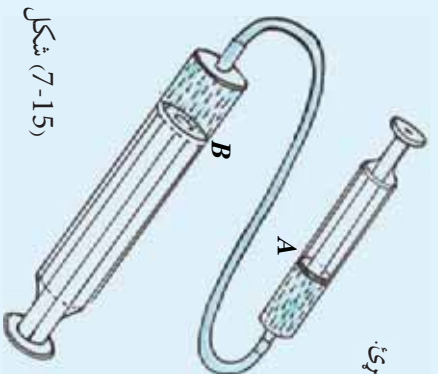


اضافي فعالیت: هایدرولیکي ماشین

اړین توکي: وړوکې سرنج، لوی سرنج، نری درې نل او یوه مایع (اوبه، تیل یا ...)

ګونډاره:

- 1- د ډیاګرام د شکل په څیر دواړه سرنجونه یو له بله سره وصل کړئ.
 - 2- سرنجونه له مایع څخه ډک کړئ.
 - 3- د A کوچنی پستون ته فشار ورکړئ.
 - 4- خپل مشاهدات ثبت او تشریح کړئ.
- یادونه: د B پستون یو څه شاته رابنګل کېږي ولې؟
قوه د B په پستون ډبره شوې ده.



شکل (7-15)

$$\frac{\text{د } A \text{ پر پستون قوه}}{\text{د } B \text{ پر پستون قوه}} = \frac{\text{د } A \text{ مساحت}}{\text{د } B \text{ مساحت}}$$

7-6: د ارشمیدس قانون)

ولې اجسام تر اوبو لاندې سپک کېږي؟ تاسو مخکې ولوستل چې سیالونه پر اجسامو یوه صعودي قوه واردوي، چې په پایله کې اجسام یو څه او یا په بشپړ ډول په سیال کې هوښېږي. دغه قوه د لاملو buoyancy) قوې په نامه نومول شوې ده. د لاملو صعودي قوه د جسم د وزن (د ځمکې د جاذبې قوه) په وړاندې عمل کوي او څرخګه چې د جسم وزن له صعودي قوې څخه ډېر دي، جسم په اوبو کې نېکته ځي. په دې حالت کې جسم سپک ښکاري او د هغه د ظاهري وزن په نامه یادېږي، (په یاد ولرئ چې صعودي قوه ددې سبب ګرځي چې اجسام په مایعاتو کې ډوب شي او یا لمبا وکړي). فکر وکړئ چې یو مکعب شکلګه جسم په یو سیال کې بشپړ ډوب شوی دی، په (7-16) شکل کې ښودل شوي دي.

سیال د جسم پر ټولو سطحو کې عمودي قوه واردوي. هغه قوه چې د مکعب د قاعدې پر سطحې واردېږي عبارت ده له: $A \rho g h_2 + \rho_0 =$ = صعودي قوه، چې په هغې کې د ρ سیال کثافت دی. هغه قوه چې د مکعب پر پورتنۍ سطحې واردېږي عبارت دی له:

$$A \rho g h_1 + \rho_0 = \text{نزولي قوه}$$

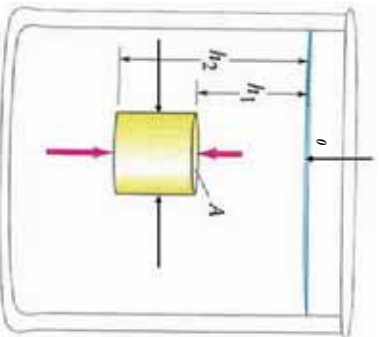
څرخګه چې $h_2 > h_1$ دي، نو $\rho_0 >$ او منتهجه صعودي قوه به برابر له ρ_0 - وي.

منتهجه صعودي قوه په B نښو لیکو: $B \rho g (h_2 - h_1)$ =
 څرخګه چې $(h_2 - h_1)$ د جسم ارتفاع ده نو له مخې یې:

$$V = A(h_2 - h_1) = \text{د جسم حجم}$$

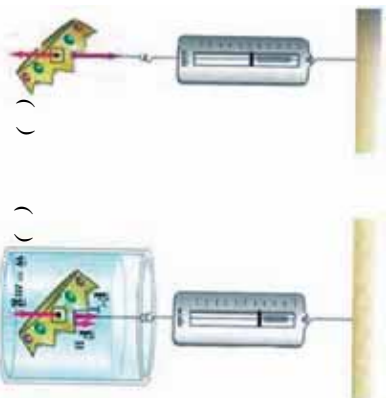
$$B \rho \times V \times g = \text{چې جسم ډوب شي: } B \rho \times V \times g$$

شکل (7-16)



په وروستۍ رابطه کې ρ او V په ترتیب د سیال کثافت او د ډوب شوي جسم حجم دی. منتهجه صعودي قوه (buoyant force) برابره ده، د جسم لخوا دې ځایه شوي سیال د حجم له وزن سره، دا حقیقت په فزیک کې یو له پخوانیو کشفیاتو څخه دی چې شاوخوا په 250 قبل المیلاد کال کې د ارشمیدس (Archimedes) یوناني فیلسوف لخوا استنباط شو.

د ارشمیدس قانون په لاندې توګه تشریح کېدای شي:
 هر جسم چې یو څه او یا بشپړ په یو سیال کې ډوب شي، په وړاندې یې یوه صعودي قوه عمل کوي چې په پایله کې یې وزن کمېږي.



شکل (7-17)

چې ددې بايللي وزن کچه په جسم کې مساوي ده، د نوموړي جسم لخوا د بيخايه شوو اوبو د حجم له وزن سره، يعنې: دې خايه شوي سيال وزن مساوي دي له F_B سره. د جسم د واقعي وزن (W) د اندازه کولو لپاره، هغه په عمودي ډول د يو فنر له سر څخه خړوو او د فنر د مقابل مندرجې صفحه چې له مخې يې رېښتني وزن لولو. که چيرې همدا څرېدلې جسم ټول په مايع (سيال) کې ډوب کړو، ليدل کېږي چې د ارشميدس د صعودي قوې له امله يې وزن کمېږي، په دې حالت کې: $F_B =$

د جسم ظاهري وزن (W') عبارت دي له: $W' = W - F_B$

نو: $W - W' = F_B$ = د بې خايه شوي سيال وزن

دياگرام نښتي چې: واقعي وزن = د فنر د راښکلو قوه

ظاهري وزن = $W - W'$

کله يو جسم لامبو وهي او يا ډوبېږي؟

ددې پرېښتني د څو اوبو لږ لپاره راځي درې لاندېني حالتونه تر مباحثې لاندې ونيسو:

1 - کله چې د ارشميدس صعودي قوه د جسم له رېښتني وزن څخه کمه وي: $F_B <$ «منتېجه قوې لوړې مخ په ښکته وي او بناړدې جسم په سيال کې ښکته ځي او په بشپړ ډول ډوبېږي»، يعنې: $\rho_{\text{جسم}} < \rho_{\text{سيال}}$ (د سيال کثافت د جسم له کثافت څخه کم دی).

2 - که چيرې د ارشميدس قوه مساوي د جسم له رېښتني وزن سره وي:

$$F_B =$$

«منتخبه قوه مساوي له صفر سره ده او جسم د تعادل په حالت کې دی، یعنې نه ښکته ځي او نه صعود کوي». $\rho \times V \times g = \rho \times V \times g$ او یا $\rho = \rho$ د سیال کثافت مساوي دی، د جسم له کثافت سره (د جسم د ظاهري وزن کچه په دې حالت کې خومره ده؟)

3- که چېرې صعودي قوه د جسم له رښتیني وزن څخه ډېره وي او ټول جسم تر سیال لاندې شي (منتخبه قوه لوری مخ پورته وي او جسم پورته خوا ته تېله کوي) او په پایله کې، جسم په تدریجي توګه د اوبو سطحې ته پورته ځي او لمبا کوي ترڅو پورې چې د تعادل ځای یوه برخه یې تر اوبو لاندې وي) ونیسي او په دې حالت کې د بې ځایه شوي سیال وزن مساوي دي د جسم له وزن سره. $\rho \times V \times g > \rho \times V \times g$ او یا $\rho > \rho$

دلته د سیال کثافت د جسم له کثافت څخه زیات دی، خو کله چې جسم د مایع په سطحه کې لمبا کوي، یوه برخه یې تر مایع لاندې وي او د سکون حالت لري، یعنې په تعادل کې دی. نو له دې امله:

$$F_{B'} >$$

$$\text{او: } V' \rho g = V \rho_0 g$$

$$V' = \frac{V \rho}{\rho_0} = \frac{V \rho}{\rho}$$

نو، د کثافتونو نسبت مساوي دی، د جسم د ډوب شوي حجم له کسر سره.

مثال: د یخ کثافت 920 g/m^3 دی، په داسې حال کې چې د بحر د اوبو کثافت 1025 g/m^3 دی. د لامبو وهونکي یخ ټوټې کوم کسر:

a: په اوبو کې ښکته ځي؟

b: له اوبو څخه بهر پاته کېږي؟

$$\begin{aligned} \text{حل: } \frac{V}{1025} = \frac{\rho}{\rho} = \frac{920}{1025} & \text{ په اوبو کې ډوب کسر} \\ -a & = 0.89 = 89 \\ -b & = 100 - 89 = 11 \end{aligned}$$

د ارشمیدس دصعودي قوه پر کچې باندې د مایع د کثافت د اغېز مشاهده کولو لپاره، لاندې فعالیت ترسره کولای شئ.




فعالیت: د یوې هگې لاسیو

اړین توکي: (زازه هگې، یو بنسټه یي لوبښی، اوبه، د خوړو مالګه (ac) کاجوړغه او لرونکی سیخ).

ګونلاره:

- 1- د لوبښي دوه نلته ($\frac{2}{3}$) له اوبو څخه ډک کړئ.
- 2- هگې ورو د اوبو په منځ کې ټینګه کړئ، و به گورئ، چې هگې په اوبو کې دویږي، بیان کړئ چې ولې؟



شکل (7-18)

3- یوه ډکه چلی خوړي کاجوړغه مالګه په اوبو کې واچوړئ او وپي لړئ او هگې مشاهده کړئ.

4- مالګه دپورې ترڅو هگې د اوبو سرته راښي او یو څه په اوبو کې لاسیو وکړي.

5- د صعودي قوې په کچه په هر پړاو کې له خپلې ډلې سره خبرې وکړئ.

بې له شکه پللي ته به ورسېږئ چې د مالګې په زیاتولو سره په تدریج د مالګو اوبو کثافت زیاتېږي او صعودي قوه هم په تدریج سره زیاتېږي، یعنی کولای شو ووايو: صعودي قوه د مایع له کثافت سره مستقیماً متناسبه ده.

مثال

یو سری د سرورزو یو سیټ له یوه مارکیټ څخه په ډېر جنجال اخلي. کله چې کورته راځي سره زر نلې 7.84 کپري. په دوهم پړاو کې د همدې سرورزو وزن په اوبو کې پیداکوي، تله دا ځلي 6.86 ښيي. ایا سره زر چې اخیستل شوي دي، سوچه سره زر دي که جوته یا ګډ؟ تشریح یې کړئ.

حل:

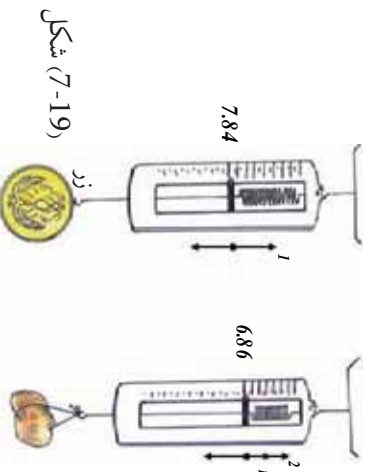
1- هغه معلومات چې ورکړل شوي دي.

$$7.84 = \text{د زرو وزن } g$$

$$6.86 = \text{ظاهري وزن } g$$

$$1.00 \times 10^3 = \rho = \text{د اوبو کثافت } g/m^3$$

$$\rho_g = \text{د سرورزو کثافت } g$$



شکل (7-19)

$$= mg = 7.84 \quad -2$$

$$g - B = \text{ظاهري وزن}$$

$$\therefore B = 7.84 - 6.86 = 0.98$$

$$B = V_0 \rho \quad g$$

$$0.98 = V_0 \times 1.0 \times 10^3 \times 9.8$$

$$V_0 = 1 \times 10^{-4} m^3$$

$$\therefore g = m_0 g = V_0 \rho_0 g$$

$$\rho_0 = \frac{7.84}{1 \times 10^{-4} \times 9.8} = 8 \times 10^3 \quad \frac{g}{m^3}$$

خود سروزرود کثافت g/m^3 19.3×10^3 دی. نو سره زرد سوچه یا خالص نه دی.



پوښتني:

1 - د سیالونو فشار تل موجه پرکوم لوري وي:

a: پورته b: اړخونو ته c: ښکته

d: ټولو خوا ته

2 - کومه یوه له لاندې معادلو څخه د منتهجه قوې (F_{net}) سمه معادله ده چې په ډوب شوي جسم عمل کوي؟

- a: $F = 0$
- b: $F_{\text{جسم}} = (\rho_{\text{جسم}} - \rho) g V_{\text{جسم}}$
- c: $F = (\rho - \rho_0) g V_0$
- d: $F = (\rho + \rho) g V_0$

3- په څه ډول لامبوهورونکی جسم د صعودي قوې لخوا اغیزمن کېږي، بیان یې کړئ.

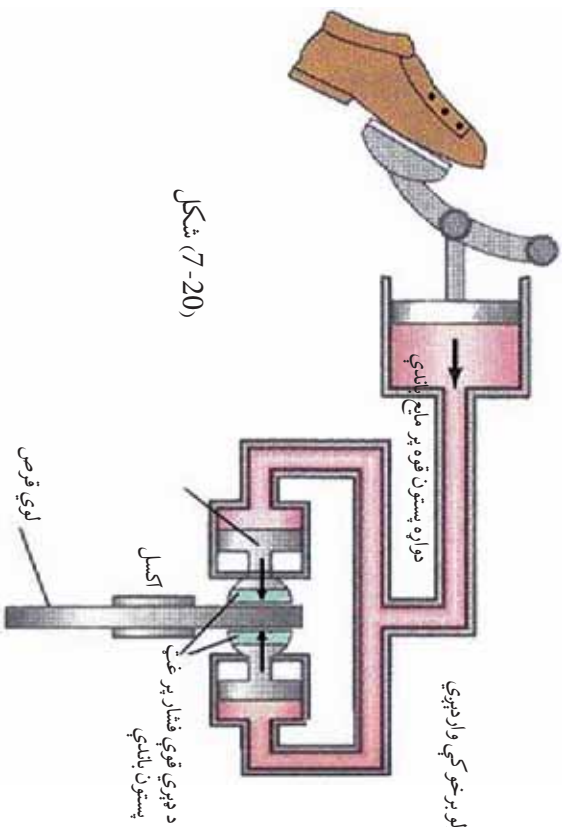
4- په اوبو کې د هر ډوب شوي جسم لپاره د ارشمیدس صعودي قوه مساوي له څه شی سره ده؟

- 5- فولاد د اوبو پرته ډېر کثافت لري. نو څرنگه فولادي کښتۍ د اوبو پر مخ لامبوړهي؟
- 6- له لاندې جسمونو څخه کوم یو یې له سیمابو څخه په یو ډک ټیوب کې لامبوړهي؟
- a- د سروزرو یوه جامه گوته
- b- د بیخ یو مکعب
- c- د اوسپني یو پیچ
- d- $5m$ اوبه

مواد	کثافت به g/m^3
بیخ	0.917×10^3
اوسپنه	7.86×10^3
سره زر	19.3×10^3
سیماب	13.6×10^3

دایروی هایدرولیک بریکونه

- په یوه موټر پر څلورو ټایرونو د قوو د مساوي تطبیق او پر بریک تطبیق او پر بریک باندي د قوي د کچي د زیاتولو لپاره د پاسکال له قانون څخه گټه اخیستل شوي ده. دا کار څنگه ترسره کېږي؟
- 1 - د ډبرو رینه پستون ته فشار ورکوي ترڅو د بریک پر مایع فشار راشي.
 - 2 - فشار د مایع له لارې پستونونو کې د دایروي لویو قوسونو یا صفحو دواړو خواو ته چي د موټر له اکسل سره کلک شوي انتقال کوي.
 - 3 - دا فشار، پستونونه له قوسونو سره لگوي، ترڅو د موټر حرکت وروشي. فشار د مایع په ټولو برخو کې واردېږي.



شکل (7-20)

د اووم څپرکي لنډيز



- 1 - سیال د هغو موادو څخه عبارت دي، چې جریان کولای شي، له دې امله ټاکلې شکل نه لري. غازات او مايعات دواړه سیالونه دي.
- 2 - د سطحې پر واحد د وارده قوې کچه عبارت له فشار څخه دی.
- 3 - فشار د ژوروالي له زیاتیدو سره زیاتېږي.
- 4 - د اتموسفیر وزن د فشار د منځته راتلو سبب گرځي چې د اتموسفیر د فشار په نامه یادېږي.
- 5 - سیالونه د لوړ فشار له سیمې څخه د ټیټ فشار سیمې ته جاري کېږي.
- 6 - پر یو محصور شوي سیال تطبیق شوی فشار د سیال په هره نقطه او د لوریني په جدارونو کې په مساوي توگه انتقال کوي، (د پاسکال قاعده).
- 7 - صعودي قوه د هغې قوې څخه عبارت ده، چې د سیال لخوا مخ په پورته لور پر یوه جسم چې یو څه او یا په بشپړ ډول ډوب شوی وي، عمل کوي.
- 8 - صعودي قوه په مایع کې د فشار د اختلاف له امله منځته راځي.
- 9 - د ارشمیدس قاعده بیانوي چې ((پر یوه جسم صعودي قوه مساوي ده، د نوموړي جسم لخوا د بې ځایه شوي سیال له وزن سره)).
- 10 - په یوه لامبووهونکي جسم د صعودي قوې کچه مساوي ده د جسم له وزن سره (سیستم په تعادل کې دی).

د اووم څپرکي پوښتي

- 1- لاندې مفاهیم او کلمات په خپله ژبه تعریف کړئ:
سیال، د اتموسفیر فشار، د ارشمیدس صعودي قوه.
- 2- له لاندې بیانو څخه کوم یوې د سیالونو په باره کې سم دی؟
 - a. سیالونه په ډیره تیزی سره د هغو لوښو شکل ځانته نیسي چې په کې وي.
 - b. سیالونه مایعات او غازات راغاري.
 - c. سیالونه له ټیټ فشار څخه د لوړ فشار په لوري جریان پیدا کوي.
 - d. سیالونه ډېر فشار په ښکته لوري واروي.
- 3- ولې تاسو د اتموسفیر د فشار له امله نه شکجه کېږئ؟

مسائل:


- 4- د لمبلو د یو ډنډو د قاعدې فشار چې $3m$ ژور دی، څومره دی؟
 $1.013 \times 10^5 =$ د اتموسفیر فشار)
- 5- د یوې ټوټې فلز وزن په هوا کې 50 ، په اوبو کې 36 او په ناڅرگنده مایع کې 41 دی. د فلز او ناڅرگندي مایع کثافتونه پیدا کړئ.
- 6- ډبرې کښتۍ له پلاسټیک او نورو ترکیبي موادو څخه جوړې شوې ده. چې کثافت یې د اوبو له کثافت څخه زیات دی، څرنگه دا کښتۍ کولای شي په اوبو کې لامبوروهي؟
- 7- یو زبري تش بالون د g (0.012) کتلې لرونکی دی. دا بالون د $0^\circ c$ ، په $1atm$ فشار او g/m^3 (0.179) کثافت د هیلیم له گاز څخه ډک شوی دی. بالون کروي شکل لري او د $0.5m$ شعاع لرونکی دی.
- a. پر بالون د صعودي عاملي قوې کچه څومره ده؟
b. پر بالون منتهجه عامله قوه حساب کړئ.
په یاد ولرئ چې: g/m^3 او P_{atm} ، $g = 9.8m/s^2$ دی.
- 8- ارتفاع ته د اوبو د پمپ کولو لپاره د تعمیر په ډیره لوړه نقطه کې کوم داخلي فشار (P_g) ته اړتیا ده ترڅو اوبه د تعمیر له قاعدې څخه نوموړې ارتفاع ته ورسوي؟ د اوبو کثافت g/m^3 او 1.29 او $g = 9.8m/s^2$ دی.

9 - یو ساده یو (V) ډوله بښپښه یی ټیوب د سیمایو لرونکی دی، د ټیوب بڼې اړخ ستون ته یو څه اوبه واچوی ترڅو د ستون ارتفاع $0,68m$ ته ورسېږي، سیماب به په کپه خوا ستون کې د هغې له اصلي سطحې څخه تر کومې ارتفاع پورې پورته لار شي؟

$$\rho = 13600 \text{ g/m}^3 \text{ او } \rho = 1 \times 10^3 \text{ g/m}^3$$

10 - تاسو به لیدلې وي چې د بندونو قاعدې نسبت د هغې پورتنۍ برخې ته ضمیمې جوړوي. ولې؟ تشریح یې کړئ.

11 - لاندې گراف د اوبو فشار چې د یو ساینس پوه لخوا د بحر په مختلف ژوروالي کې اندازه شوی دی بښي. له دې گراف څخه په گټې اخیستلو، لاندې پوښتنو ته ځوابونه وړایې.



1. فشار پر یوه جسم کله چې د اوبو په $100m$ ژوروالي کې وي، څومره دی؟

- (a) $1.0 \times 10^6 \text{ a}$
- (b) $1.5 \times 10^6 \text{ a}$
- (c) $2.0 \times 10^6 \text{ a}$
- (d) $1.1 \times 10^6 \text{ a}$

2. په گراف کې د ثبت شوو ارقامو پرنسټ له لاندې فشارونو څخه، په کوم یو تر بحر لاندې د اوبو په $250m$ ژوروالي کې د فشار لپاره ډېر ښه تخمین وي؟

- (a) $1.7 \times 10^6 \text{ a}$
- (b) $2.6 \times 10^6 \text{ a}$
- (c) $2.2 \times 10^6 \text{ a}$
- (d) $5.0 \times 10^6 \text{ a}$

12 - دوه استوانه نوي لوبښي په نظر کې ونیسئ چې دواړه د A په مساحت همدې یوې قاعدې لرونکي وي او په یوه سطحه کې واقع دي. سلنډرونه د (P) په کثافت د یوې مایع لرونکي دي، خو په یو سلنډر کې د مایع ارتفاع (h_1) او په دویم سلنډر کې (h_2) دي. د جاذبې د قوې لخوا څومره کار ترسره شي، ترڅو د دواړو سلنډرونو سطحې په تعادل کې راولي، یعنې د عین ارتفاع لرونکي شي؟ (البته هغه وخت چې دواړه سلنډرونه سره وصل شوي وي).

الڳڻم شپهر کي متحرک يا خو ڇنڊه سڀالونه

1- : خيالي (ايڀال) سڀالونه

په خو ڇنڊه مایعاتو او ځاڙانو کي د تشابه او يا توپير ونو ځانگړتياوي:



لکه چي تاسو له پخوا پوهيږئ چي ماده په طبيعت کي په درو حالتونو جامد، مایع او ځاڙ پیدا کيږي. سڀال د موادو يا اجسامو هغه حالت ته وايي چي د مایع او ځاڙ په حالت کي وي، سڀال د مایعاتو او ځاڙانو شریک نوم دی. هغوي په ځنو مواردو کي شریکي ځانگړني لري، په داسي حال کي چي په ځینو خواصو کي د هغو ترمنځ توپيرونه شتون لري. يعني دا چي د هغو ترمنځ مشابه ځانگړتياوي او هم د ځانگړتيا توپيرونه شته دي. مخکي مو سڀالونه د سکون په حالت کي مطالعه کول او دهغو د ځانگړنو په هکله مو معلومات ترلاسه کول. په دې څپرکي کي تاسو سڀالونه د حرکت په حالت کي مطالعه کوئ. تاسو له پخوانيو معلوماتو څخه پوهيږئ چي مایعات څه د سکون په حالت کي وي اويا د حرکت په حال کي متراکم (زینښل) کيږي نه، يعني د مایع حجم د فشار له امله تغیر نه کوي. برعکس د یوې کچي ځاڙو حجم چي په یوه تړلي محفظه کي ځای پرځای شوي او د سکون په حالت کي وي، د فشار له امله تغیر کوي. خو کله چي ځاڙ د جریان په حالت کي وي، هغه کولای شو غیر متراکم و منو مگر په هغو حالاتو کي چي په لاندې ډول توضیح کيږي:

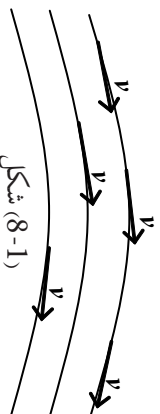
کله چي د ځاڙ د حرکت سرعت، د صوت له سرعت څخه لږ وي، د متحرکو ځاڙانو پر حجم د فشار د تغیراتو اغیز تر هغه حده کم دی چي کولای شو، تري صرف نظر شو. د ځاڙ او مایع ترمنځ چي د حرکت په حالت کي وي، د پام وړ توپیر شتون نه لري. هغه قوانین چي د متحرکو ځاڙانو لپاره تطبیق کيږي، د متحرکو مایعاتو لپاره هم د تطبیق وړتیا لري. خو باید پام وساتو، که چيري د سڀال د ذرو د حرکت سرعت د صوت له سرعت څخه زیات شي، مثلاً د انفجار په څیر حالاتو کي او يا په هغو حالاتو کي چي ځاڙ په ډېره ټیټه سطحه کي واقع وي، (د مثال په توگه که چيري له 0.1Imba څخه کم فشار په هغو بلونو کي چي قطري له 1mm څخه زیات وي). د مایعاتو او ځاڙانو مطالعه ترگڼو او یو شان قواعدو لاندې شونې نه دی.

کله چې مایع د یو لوبښي او یا یو نل په منځ کې جریان ولري، د مایع د زرو او هغه لوبښي د جدار (دیوال) ترمنځ چې مایع په کې جریان لري، یو اصطکاک منځته راځي. ددې اصطکاک قیمت، په گازانو او په ځنو مایعاتو کې ټیټ دی، ځکه چې د زرو رغړیدل (ښویدل) یې یو ډبل پرمخ په ډیره اسانۍ کېږي. نو له دې کبله د سیالونو (مایع، گاز) د جریان فارمولونه ځانته ډیره ساده ښه نیسي.

ځکه چې له اصطکاک څخه صرف نظر کېږي او د دوو ځانګړنو، اصطکاک او تراکم وړتیا له نظره کولای شو خیالي سیال داسې تعریف کوو:

یو سیال (مایع، گاز) ته هغه مهال خیالي (ایډیال) ویلی شو چې پرته له اصطکاک، د تراکم وړتیا ونه لري. خو په حقیقت کې هغه مایعات چې یو قشر یې د بل قشر پرمخ ورغړي او اصطکاک تولید کېږي، اصلاً شتون نه لري. پام وکړئ کله چې له اصطکاک څخه خبرې کوو، زموږ موخه د سیال داخلي اصطکاک دی. هغه قوانین چې ددې ډول سیالونو په هکله تطبیق کېږي، د هغو گازونو او مایعاتو په باب چې د کمزوري اصطکاک لرونکي وي، هم په تقریبي ډول تطبیق کېږي او د نورو سیالونو او واقعي سیالونو په برخه کې هغه مهال کولای شو رښتیني حالت ته ورسېږو چې په فارمولونو کې هغه برخې چې له هغو سره د اصطکاک اغېز هم په نظر کې نیول کېږي، باید ورنیات کوو.

په لاندې شکل کې د یوې مایع د حرکت څرنګوالی ګورو. که چېرې د هرې فضايي نقطې لپاره چې مایع تړي تېرېږي، د سرعت وکتور د وخت د تابع په توګه وي، د V وکتورونو مجموعه چې د نوموړو ټولو فضايي نقطو رانغاړونکي دي، د سرعت د وکتور ساحه تشکیلوي.



شکل (8-1)

په متحرکو مایعاتو کې خطونه داسې تېرېږي چې د v د سرعت له وکتور سره په هره نقطه کې مماس دی چې دا خطونه د جریان د خطونو په نامه یادوي.

تجربه ښيي چې د جریان د خطونو تراکم (علاظ، کثرت یا ګڼوالي) متناسب دی، د مایع د جریان د سرعت له کمیت سره په هماغه محل کې چې د ΔA په افاده یې ښيي. Δ د جریان د خطونو شمېر او ΔA هغه سطحه ده چې د جریان خطونه تړي تېرېږي او پر هغې عمود دی. د جریان د خطونو د تصویب له مخې کولای شو د v د وکتور د لورې او کمیت په هکله د فضا په مختلفو نقاطو کې قضاوت وکړو، یعنې: په هغه ځای کې چې سرعت زیات وي (د نل قطر کوچنی وي)، د جریان خطونه په متقارب (یو له بل سره نژدې) وي او په هغه ځای کې چې سرعت کم وي، (د نل قطر لوري وي)، د جریان خطونه له متباعد (یو له بله لرې) وي. د موضوع د ټیټ تشریح لپاره لاندې تصویري تجربه ترسره کوو:

تجربه

تجربه: ذري له پوي متحرکي مایع سره چې له يوه نل څخه تیرېږي، مخلوط کوو، داسې چې ددې ذرو کثافت په خپلو کې ډېر کم توپیر ولري. اوس د مایع د جریان حالت د مایع په منځ کې د ذرو له حرکت څخه په گټې اخیستلو، د عکاسي د پوي دستگاه پرمت چې وکولای شي د ډبرو لنډو وختونو لپاره عکاسي کړي، تر مطالعې لاندې نيسو، په عکسونو کې مخلوط شوي ذرات هر يو د خپل سرعت له کچې سره سم يو اوږد يا لنډ خط ښيي، چې په حقيقت کې همغه د جریانونو خطونه دي. همدارنگه په عکسونو کې لیدل کېږي چې څومره چې ډيوې مایع د جریان مسیر کوچنی کېږي، یعنی د هغه نل قطر چې مایع تری تیرېږي، کوچنی کېږي، په همغه تناسب د جریان خطونه به له بله سره نژدې واقع کېږي او که چیرې قطر لوی شي، د خطونو ترمنځ واټن زیاتېږي.

په ډبرو جریانونو کې د جریان د خطونو تصور په مختلفو وختونو کې یو شان باقي پاتې کېږي. داسې چې د مایع هره ذره، د فضا یوه مطلوبه نقطه په عین سرعت سره عبور کوي. په دې جریانونو کې د ذرو د سرعت کمیت او لوري چې له مایع څخه تیرېږي، مساوي دي او هغه مشخص چې لیدل کېږي دی، تل له جریان څخه عین تصویر په خپلو سترگو گوري چې دې ډول جریان ته مستوي جریان وايي.

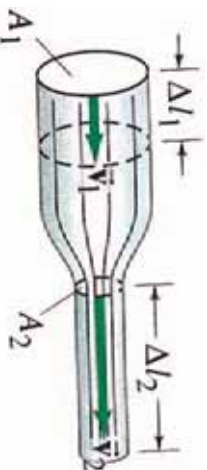
په دې ډول جریانونو کې د مایعاتو د جریان هیڅ یو کمیت لکه (فشار، سرعت، اصطکاک، د عبوري مایع کچه) د وخت تابع نه دي. که چیرې دا کمیتونه د مایع په یو جریان کې د وخت په تیریدو سره بدلون ومومي، دې مایع ته غیر مستقره مایع وايي. د مایع هغه برخه چې د جریان د خطونو لخوا محدودېږي، د جریان د لولې په نامه یادېږي. د (V) د مایع سرعت وکتور چې په هره نقطه کې د جریان پر خط تماس دی، د جریان د لولر پر سطحې هم تماس وي او دا ددې لامل کېږي چې د مایع ذرې د خپل حرکت پر مهال د جریان د لولې ډیوالونه قطع نه کړي.

2- : د متماذیت معادله

د پوي ایده ال مایع، د جریان د سرعت اړیکې له فشار او مقطع سره:

که چیرې یوه مایع چې د تراکم وړ نه دي، یا په بل عبارت کثافت یې په هر ځای کې یو شان او ثابت دی. که له یو نل څخه چې د مختلفو مقاطعو لرونکی وي، عبور وکړي، د مایع د جریان سرعت د نل په منځ کې تغیر کوي، ځکه چې مایع نه متراکمه کېږي.

د (8-2) په شکل کې مایع د V_1 په حجم چې د t په زمان کې د A_1 له مقطع څخه تیرېږي، د V_2 له مقطع څخه د t په عین وخت کې تیرېږي، په هغه حالت کې $V_1 = V_2$ دی.



شکل (8-2)

که چیري v_1 او v_2 په ترتیب سره د جریان سرعت د A_1 او A_2 په مقاطعو کې وي، د مایع ذري د په ټاکلي وخت کې $v_1 \cdot t = v_2 \cdot t$ او $v_1 = v_2$ وایي او $v_2 = v_1$ وایي. له دې روابطو څخه مجموعه په دې ډول لاس ته راوړو: (1) $v_1 \cdot t = v_2 \cdot t$ او (2) $v_1 = v_2$ یا $v_1 \cdot t = v_2 \cdot t$ دا چې: $v_1 = v_2$ ، نو کولای شو ولیکو چې:

$$A_1 \cdot v_1 \cdot t = A_2 \cdot v_2 \cdot t \Rightarrow A_1 \cdot v_1 = A_2 \cdot v_2 \dots \dots \dots (3)$$

(3) رابطه د (A_1, A_2) ، او (v_1, v_2) د مقاطعو د هرې جوړې لپاره د تطبیق وړ دي. په دې ډول په عمومي توګه ورپه شو چې د $(A \cdot V)$ کمیت، د نه تراکم کیدونکي مایع لپاره د جریان په هره مقطع کې یو شان دي. او د نل له سره تر پناه عین جریان یو ثابت کمیت باقي پاتې کېږي او دا جریان مسلسل او پرله پسې دي، یعنې: $A \cdot v = \text{const}$

له وروستۍ رابطې څخه پایله تر لاسه کېږي چې د (A) د نل د مقطع غټوالی د مایع د (V) جریان له سرعت سره معکوس نسبت لري. که چیرې د (3) رابطې د $A_2 = v_2$ ؛ $v_1 = v_2$ شکل ته تغیر ورکړو. پورتنۍ رابطه د متعادیت یا پیوستګۍ (تسلسل) د معادلې په نامه یادوي، چې داسې وایي:

په یو داسې نل کې چې د بیلابیلو مقطعو لرونکي دي، د مایع د جریان سرعت معکوساً د نل له مقطع سره متناسب دی.

یعنې په لویه مقطع کې د جریان سرعت کم او په کوچني مقطع کې د جریان سرعت ډېر دی. $\cos t = A \cdot v = \text{const}$ له افادې څخه همدا راز کولای شو استنباط کړو چې که A یعنې د هغه نل مقطع چې مایع ترې تیرېږي، تغیر وکړي، د مایع د جریان سرعت تغیر کوي. څرنگه چې د سرعت تغیر په زمان کې د تعجیل په معنای، نو د مایع ذري تعجیلي حرکت پیدا کوي. دا وینا په دې معناده چې د نل د محور په اوږدو کې یو غیر ثابت فشار منځته راځي، چې د تعجیل لامل کېږي. په هغه نقاطو کې چې سرعت لږ دی، فشار باید ډېر وي او برعکس.



شکل (8-3)

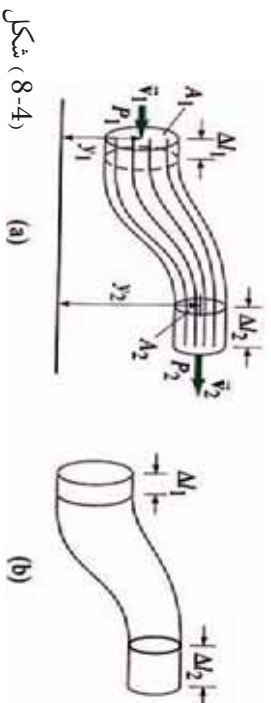
د تسلسل او متعادیت قضیه د واقعي مایعاتو په جریان کې او حتی په ګازونو کې په هغو حالتونو کې د تطبیق وړ ده چې د تراکم له قابلیت څخه یې تیر شو. لکه څنګه چې په پورته کې مو وویل، په یاد باید ولرو چې که مایعات او ګازات د صوت له سرعت څخه په کم سرعت حرکت وکړي، غیر متراکم ورته ویل کېږي.

3- : د برنولي معادله

د یوې مايع د جريان د سرعت اړیکې مو له فشار او مقطع سره د تسلسل (پیوستګي) او متمادیت په قضیه کې ولیدل. اوس دا رابطه د برنولي په قانون کې مطالعه کوو.

که چېرې مايع سره کولای شو، د هغو کمیټونو ترمنځ چې د سیال جريان مشخص کوي، بنسټيزه رابطه لاس ته راوړو. ددې مطلب د لاتوضیح کولو لپاره یوه خیالي مايع په نظر کې نیسو. چې په ثابت او یو ډول په یو نل کې جريان لري. په دې مايع کې د یو جريان پوه لوله چې کوچنۍ مقطع لري، مطالعه کوو. د (8-4) شکل ته پام وکړئ. هغه حجمونه چې مايع په کې جريان لري، له یوې خوا د جريان د لورې د ډیوالونو او له بلې خوا د A_1 او A_2 مقطعو لخوا چې د جريان په خطونو عمود دي، محدود شوي دي. ددې نل په ټولو برخو کې چې مايع یې له منځ څخه تیرېږي، فشار شتون لري. د بېلګې په توګه د A_1 په موقعیت کې د 1 فشار او د A_2 په موقعیت کې 2 فشار عمل کوي. که د هغې مايع د جريان له کبله چې له شا څخه راځي د A_1 مقطع د A_1 موقعیت نه د مخې خوا ته یو ډول شي، هغه کار چې ددې موخې لپاره اړین دی، په لاندې ډول افاده کېږي:

$$\begin{aligned} &= 1 \cdot 1 \\ &= 1A_1v_1 \\ &= V \\ &= A_1 \cdot v_1 \cdot t = A_2 \cdot v_2 \cdot t = V \end{aligned}$$



شکل (8-4)

که چېرې د یوې مايع کچه چې د A_1 او A_2 په مقطعو کې جريان لري، په نظر کې ونیسو، د () کار د نسبي یا جزئي کارونو د رامنځته کېدو سبب ګرځي داسې چې:

$$\begin{aligned} 1 - & \text{ د } A_1 \text{ مقطع د } 2 \text{ د فشار له کبله د } A_2 \text{ موقعیت ته داسې رغړول کېږي، چې هغه حجم چې د } A_1 \\ & \text{ او } A_2 \text{ مقطعو ترمنځ قرار لري، عین هماغه د } 2 \text{ قیمت لري چې د } A_1 \text{ او } A_2 \text{ د مقطعو ترمنځ یې لاره} \\ & \text{ او د اړتیا وړ کار عبارت له } 2 \cdot V = 2 \cdot A_2 \cdot v_2 \cdot t = 2 \cdot A_1 \cdot v_1 \cdot t = 1 \end{aligned}$$

2- د V په حجم یوه اندازه مایع د h_1 له ارتفاع څخه داسې موقعیت ته راوړل کېږي چې د h_2 ارتفاع لري. نو هغه کار چې ددې موخې لپاره اړین دی، عبارت له 2 څخه دی:

$$\begin{aligned} 2 &= mg(h_2 - h_1) \quad \text{او} \quad m = \rho \cdot V \\ &= \rho \cdot V \cdot g(h_2 - h_1) \end{aligned}$$

3- هغه اندازه مایع چې په لاندیني سطح کې ده، د v_1 سرعت لري او حرکي انرژي یې عبارت دی له:

$$= mv_1^2 / 2$$

څرنگه چې دا اندازه مایع په لاندیني سطحه کې زینپیل (فشرده) کېږي، هغې ته مساوي اندازه مایع په پورتنی حجم کې د v_2 له سرعت او $2 = mv_2^2 / 2$ حرکي انرژي سره نفوذ کوي. د حرکي انرژي د کچې د زیاتولو لپاره، د اړتیا وړ کار عبارت دی له: $m^2 v_1^2 + m^2 v_2^2 =$

که چېرې د انرژي له هغې کچې څخه چې دنل د جدار او مایع د ذرو ترمنځ د اصطکاک د بې اغیزې کولو لپاره دنل په اوږدو کې اړینه ده، صرف نظر وشي، د برنولي قانون 3 + 2 + 1 = له رابطې څخه په دې ډول په لاس راځي: $(1/2 \rho V_2^2 - 1/2 \rho V_1^2) + (\rho g h_2 - \rho g h_1) + (\rho V_2 - \rho V_1) = 0$

که چېرې د $m = \rho V$ پراخې تعویض شي او ټوله معادله په V سره اختصار شي لرو چې:

$$\begin{aligned} 1 &= 2 + \rho g h_2 - \rho g h_1 + 1/2 \rho V_2^2 - 1/2 \rho V_1^2 \\ \text{راوړو:} \quad \rho g h_1 + 1/2 \rho V_1^2 &= 2 + \rho g h_2 + 1/2 \rho V_2^2 \end{aligned}$$

موږ کولای شو پورتنۍ افاده ترتیب او اسانه کړو: د برنولي قانون د جریان په هکله په دې ډول لاسته راوړو: $\rho g h_1 + 1/2 \rho V_1^2 = 2 + \rho g h_2 + 1/2 \rho V_2^2$

دا قانون نه یوازې دا چې د یوې مایع په هکله چې د یو نل په منځ کې جریان لري صدق کوي، بلکې د هغو مایعاتو په هکله چې په ازاده توګه او یا هم د یوې مایع د ذرو په هکله چې د رېښو په بڼه د نلونو ترمنځ یو ډبل ترڅنګ پرته دي چې یو له بل سره مخلوط شي جریان ولري، د تطبیق وړتیا لري.

که چېرې په یو جریان کې د h_1 او h_2 ارتفاع سره مساوي او یا یو له بله څخه ډېر کم توپیر ولري، د $\rho g h_1$ او $\rho g h_2$ اجزاء په معادله کې یو اوبل افنا کوي او له اغیزو څخه یې کولای شو صرف نظر وکړو. بیا د ویل شي چې له اخیریني ساده افادې څخه ترټولو دمخه په ګازانو کې ګټه اخیستل کېږي، ځکه چې د ګازانو کثافت کوچنی دی. د برنولي د قانون په ساده رابطه کې دا شکل ځانته نیسي:

$$\rho v_1^2 / 2 + 1 = \rho v_2^2 / 2 + 2$$

پورتنی افاده دایناموی چې فشار په هغه نقطو کې کم دی چېرته چې سرعت ډېروي. د A_1 او A_2 مقطع په کيفي ډول انتخاب شوي دي او ويلي شو، ډلوې په هره مقطع کې د $(\rho v^2/2 + \rho gh + p)$ د جريان افاده د عین قیمت لرونکي دي.

ددې لپاره چې په پورته معادله کې ډېر دقت رامنځته شي، د A عرضي نقطه صفر ته تقرب ورکوو، چې په دې صورت کې د جريان لوله د جريان يو خط ته تقرب کوي او د V او h کمیتونه چې د معادلي د واړو خواو ته شتون لري، کېدای شي داسې تلقي شي چې د جريان همدا عين خط له دوو کيفي نقطو سره تعلق لري، په پایله کې نښتي چې د جريان د هر خط په اوږدو کې په يوه خيالي منبع کې دغه شرط صدق کوي. $ct = \rho gh + \rho v^2/2 + p$ وروستنی رابطه د برنولي د معادلي بل شکل دی. مورخه دغه معادله د يوې خيالي منبع لپاره لاس ته راوړه، چې د حقيقي مايعاتو لپاره چې داخلي اصطکاک ډېر زيات نه دي، هم د تطبيق قابليت لري.

فشار د اوبو بند په قاعده کې

يو بل حالت چې مورخ د سيال د جريان د سرعت اړيکي له فشار او د مقطع له مساحت سره مشاهده کوه، د اوبو بند دی.

فرض کوه چې د يوې منبع په وړاندې چې په افقي ډول جريان لري، يو بند جوړ شي. په هغه صورت کې طبيعي ده چې د هغه زيات فشار له کبله چې د بند په کاسه کې منځته راځي، منبع د سکون حالت ته ورگرځي. دغه د ډېر فشار توليد د بند د فشار په نامه يادېږي او په P_s ښودل کېږي، چې عبارت دی له: $s - 1 = 2 - 1 = 1/2 \rho v_1^2$ دا فشار هغه مهال کولای شو، محاسبه کوه چې د برنولي په معادله کې $v_2 = 0$ سره تعويض شي. په هغه صورت کې به ولوه چې: $s - 1 = 1/2 \rho v_1^2$ د $(1/2 \rho v^2)$ د بند د فشار قيمت ورکوي چې کولای شو، هغه په يوه نقطه کې چې د V سرعت لري، د جريان په ودرولو سره لاس ته راوړو. دا فشار د بند په ټولو نورو نقطو کې د بند د فشار مشخص کونکی دی. نو ددې له مخې په افقي جريان د برنولي قانون داسې بيان کوه:

د يو افقي جريان په ټول بهير کې د P د فشار مجموعه او د $(1/2 \rho v^2)$ بند فشار ثابت دي. متحرکوه گازونو کې د فشار توپيرونه ترکومه حمله پورته ځي.

مثال

$$\begin{aligned} \text{د هوراکنافت } p &= 0,125 \text{ kg/m}^3 \text{ خڅه عبارت دي او په لوړو سرعتونو کې } c = 40 \text{ m/s} \\ s &= 1/2 \rho v^2 = 1/2 \cdot 0,125 \text{ kg/m}^3 \cdot 1600 \text{ m}^2/\text{s}^2 = 1000 \text{ kgm/s}^2/\text{m}^2 \\ &= 1000 \text{ a} = 0,01 \text{ bar} \end{aligned}$$

په دې صورت چې د جریان سرعت په دې توګه یو لور قیمت ولري. فشار یوازې 1 د هوا نورمال فشار دي. د حجم توپیر هم په همدې تناسب کوچنی وي. له همدې کبله دې چې متحرک گازونه د تراکم کیدو وړنه ګڼل کېږي.

مثال

یو ربرې پیپ چې په باغچه کې ترې ګټه اخیستل کېږي، د $d_1 = 12.7\text{mm}$ قطر لرونکي دي. ددې پیپ په اخره برخه کې یوه بله وصلیه پورته شتون لري چې داخلي قطريې د نل (اخري سوري) ترخولې پورې $d_2 = 5\text{mm}$ ورو ورو تنګېږي. کله چې اوبه دې وصل شوي پوتې ته ورسیږي. فشار یې د شاوخوا چاپیر په وړاندې 1.8bar دی. د اوبو د وتلو سرعت محاسبه کړي، (په هغه صورت کې چې له اصطکاک څخه صرف نظر وشي).

اوبه د x په کومه فاصله کې ځمکې ته رسیږي؟ په هغه صورت کې چې د پیپ خوله له افقي محور سره د $1\text{m} = \gamma$ په ارتفاع د ځمکې له سطحې څخه واقع شي، (د اوبو کثافت 1000kg/m^3 په نظر کې ونیسئ).

حل: د برنولي او متمادیت قانون پر بنسټ چې د پیپ جهت د پیل او پای په نقطو تطبیق کېږي، لرو چې:

$$\frac{1}{2}\rho v_1^2 = \frac{1}{2}\rho v_2^2 \Rightarrow \frac{1}{2}\rho(v_2^2 - v_1^2) = \rho \gamma \Rightarrow v_2^2 - v_1^2 = 2\gamma$$

له بله پلوه د متمادیت له معادلې څخه لرو:

$$V_1 = (V_2 A_2) / A_1 = V_2 \left(\frac{\pi A_2 / 2}{\pi A_1 / 2} \right)^2 = V_2 \left(\frac{d_2}{d_1} \right)^2$$

$$d \text{ دواړو اړخونو د مربع کولو په صورت کې لرو چې: } V_1^2 = V_2^2 (d_2/d_1)^4$$

که چېرې د v_1^2 له قیمت څخه چې پورته مو په لاس راوړی دی، په وروستی معادله کې یې برخای تعویضوو، لرو چې:

$$V_2^2 \left[- (d_2/d_1)^4 \right] = 2/\rho \left(\frac{1}{1 - 2} \right)$$

$$d_1/d_2 = 5\text{mm}/12.7\text{mm} = 0.394, \quad 2/\rho = 2\text{m}^3/1000\text{kg} = 0.002\text{m}^3/\text{kg}$$

$$1 - 2 = 1.8\text{bar} = 1.8 \cdot 10^5 / \text{m}^2$$

په پورته معادلو کې ددې قیمتونو له ځای پر ځای کولو څخه د v_2 قیمت لاس ته راوړو:

$$v_2^2 = (0.002\text{m}^3/\text{kg} \cdot 1.8 \cdot 10^5 / \text{m}^2) / (1 - 0.394^4) = (360\text{m}^2/\text{s}^2) / 0.759 = 562.18\text{m}^2/\text{s}^2$$

$$v_2 = 23.7\text{m/s}$$

له افقي غورځونې څخه پوهیږو چې:

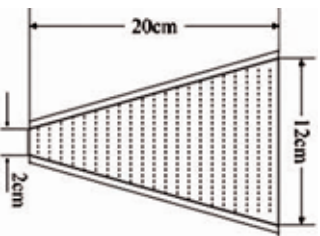
$$X = v_2 \cdot t \quad \gamma = -\frac{1}{2} g \cdot t^2 = -1\text{m}$$

$$t = \sqrt{2\text{m}/9.81\text{m/s}^2} = 0.45\text{s} \Rightarrow x = 23.7\text{m/s} \cdot 0.45\text{s} = 10.665\text{m}$$



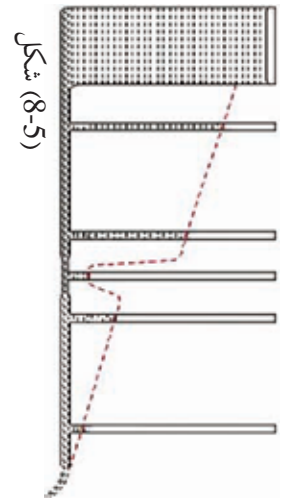
پوښتني

1. د فشار توثير پيدا كړي، په هغه صورت كې چې د يو نل د دوو سسرونو ترمنځ د نل د مقطع مساحت له 15cm^2 څخه 5cm^2 ته تنقيص كړاى شي، او په هره ثانيه كې 1.8 t بنزين له 0.7 kg/dm^3 كثافت سره ترې تير شي.
 2. د يو قيپ ډولې لوښې قطر له 20cm ارتفاع سره، له پورتنې $d_1 = 12\text{cm}$ قيمت څخه كښتې قيمت $d_2 = 2\text{cm}$ ته كمېږي، په كومه كچه فشار د پورتنيو او ښكښتو مقطعو ترمنځ رامنځته كېږي؟ كه چېرې؟
1. لوښې په بشپړ ډول له ساكنو اوبو څخه ټك وي.
 2. په هره ثانيه كې 0.3 ليتره اوبه له لوښې څخه تيرېږي شي.



4- : د برنولي د قانون تطبيقات

په اوسني لوست كې د برنولي د قانون دكارونې څو موارد مطالعه كوو، چې لومړني يې د ځښېنلو (چوشش) د اغېز منځته راتلل دي.

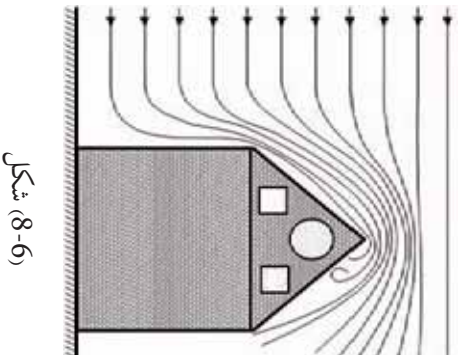


شكل (8-5)

له وروستۍ افادې څخه چې د برنولي قانون ته ورکړل شو، داسې پايله ترلاسه شوي ده، چې په هغه ټولو حالاتو كې چې لور فشار لري، د جريان سرعت د ټيټ قيمت لرونكې دى او برعكس د ټيټ فشار په شتون سره د جريان سرعت لور قيمت لري. د متماديت د قانون پر بنسټ د جريان سرعت

په تنگو موقعيتونو كې ډېر دى.

په دې موقعيتونو كې برعكس هغه څه چې د غاډې له مخې قبول شوي دي، د فشار يو تناقص موجود دي. دغه وينا كو لاى شو په لاندې شكل كې د ليدلو وړ وگرځوو. كه چېرې له يو نل سره چې د تنگ محل يا معبر لرونكې وي، څو نرې نور نلونه د مياغونو د فشار سنځ په توگه برابر كړو، د هغې ارتفاع اندازه چې مایع په هر نل كې پورته تاللي، د هغه فشار د كچې ښودونكې دي چې په نوموړو نلونو كې شتون لري. لكه چې ليدل كېږي، په هغو موقعيتونو كې چې نلونه نرې دي، د مایع سطحه په نل كې ټيټه ده او په پايله كې وبلې شو چې په نوموړو موقعيتونو كې فشار ټيټ دى. دا واقعيت هغه سوال ته چې ولې په ځينو مياغونو د ځښېنلو چوشش اغېزه شتون لري، ځواب ورکوي.

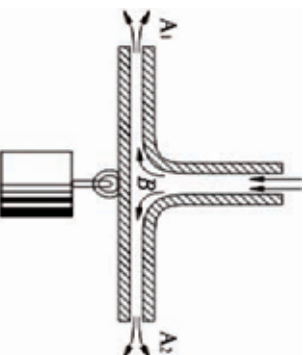


شکل (8-6)

دي موضوع ته له يوه بل مثال سره دوام ورکولو:
 د باد يو توپان پر يو تعمير الوزي، لکه چې په شکل کې په خرنگه توگه ليدل کېږي، کله چې د هوا اکتلي د تعمير په هغو برخو کې چې ځمکې ته نژدې دي لگېږي، برک کېږي يا دا چې سرعت يې کمېږي. يعنې د A د موقعيت په ساحو کې د سرعت قيمت کم دی خو د فشار قيمت لوړ دی. له دې امله د هوا اکتلي اړيندي دي چې پورته خواته حرکت وکړي او د تعمير له بام څخه تيرېږي. د B د موقعيت په ساحو کې د هوا د جريان په مسير کې د هوا د جريان د مقطع يو تقیص او د جريان د سرعت تر ايد منځته راځي ... له همدې امله دي چې د ځواکمنو توپانونو د الوتلو پر مهال نه يوازې د تعميرونو بامونه نه فشرده کېږي، بلکې پورته خواته لگېږي.

مثال

د څښپنلو (چوشش) اغيز د يو بل اثر په اړيه کولو چې د «هايډرولیک پارادوکس» ښکارندې په نامه يادېږي، تر بحث لاندې نيسو چې د رودلو اغيز په سيالونو کې په خرنگه توگه د ليدلو وړ گرځوی. له يو ډبرنوي نل (جست) څخه د هوا فشار تيرېږي او له يوې تنگې فضا څخه چې د دوو پليټونو چې يو د بل پرمخ ايښي دي، تيرېږي. لکه څنګه چې په شکل ليدل کېږي، خرنگه چې د A ساحه کې د پليټونو ترمنځ د هوا فشار شتون لري، له همدې کبله دي چې فشار په ډبره تنگه ساحه کې د هغه سوري په شاوخوا کې چې هوا ترې د B ساحې ته داخلېږي او هوا په شدت په کې جريان لري، د هوا د فشار پرتله کم دي. لکه چې ليدل کېږي، ښکتنې پليټ لکه څنګه چې هيله کېږي، د هوا د جريان له امله نه يوازې دا چې نه دی چلېدلي، بلکې له يوې قوي سره د پورتنۍ پليټ لورته رانېکل کېږي ان تردې چې يوه وزن چې له هغې سره څرېدلې دی، له ځانه سره راکاږي.



شکل (8-7)

5- : وینتوري ټيوب - د جريان سرعت اندازه کول

د برنولي قانون دا آسانتيا رامنځته کوي چې کولای شو د مايعاتو او متحرکو گازاتو د حرکت سرعت اندازه کړو. ددې موخې لپاره له نلوزو څخه د مايعاتو د جريان پر مهال په عمومي ډول له وینتوري ټيوب څخه گټه اخيستل کېږي.

لکه چې په شکل کې ليدل کېږي، دغه ټيوب له نرې نل (جټ) څخه جوړ شوی دی. چې په هغې کې د ډبرو پراخو او ډبرو تنگو (نرې) برخو ترمنځ د فشار توپير، د يو فشار سنځ (د مايع مانومتر) پر مټ اندازه کېدای شي. د برنولي د قانون پر بنسټ په وینتوري ټيوب کې دغه رابطه صديق کوي.

$$P_1 + 1/2 \rho v_1^2 = P_2 + 1/2 \rho v_2^2$$

همدارنگه د متعاديت د معادلې له مخې لرو چې: $v_2 = v_1 \cdot A_1 / A_2$ چې په هغې کې چيرې د (A_1 / A_2) سطحو نسبت په وینيو، لرو چې: $v_2 = v_1 \cdot A_1 / A_2$ او د برنولي په معادله کې ددې افادې په تعويضولو سره لاندې معادله لاس ته راځي:

$$P_1 - P_2 = 1/2 \rho v_2^2 - 1/2 \rho v_1^2 = \frac{1}{2} \rho (v_2^2 - v_1^2)$$

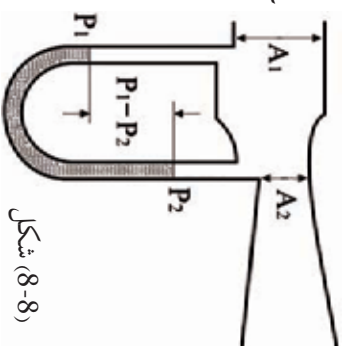
$$P_1 - P_2 = \frac{1}{2} \rho \left\{ (v_1 A_1 / A_2)^2 - v_1^2 \right\}$$

$$P_1 - P_2 = \frac{1}{2} \rho \left\{ (v_1^2 A_1^2 / A_2^2) - v_1^2 \right\}$$

$$P_1 - P_2 = \frac{1}{2} \rho \left\{ v_1^2 (A_1^2 / A_2^2 - 1) \right\}$$

$$v_1^2 \cdot \frac{1}{2} \rho (A_1^2 / A_2^2 - 1) = P_1 - P_2$$

$$v_1 = \sqrt{2(P_1 - P_2) / \rho (A_1^2 / A_2^2 - 1)}$$



د v_1 له دې قيمت سره، همدا راز کولای شو د V (د جريان حجم) او يا په يوه ثانيه کې تيره شوي مايع په لاندې توگه محاسبه کړو:

$$V = A_1 \cdot v_1 \quad \text{په يوه ثانيه کې}$$

اتومایزر (عطر شیندونکی)

په تیرو بحثونو کې په سیالونو کې د فشار او سرعت ترمنځ له اړیکو سره بللده شوی، او همدا رنگه د فشار توپیر مود سیال په دوو برخو کې په طبیعي شرایطو او حالاتو کې زده کړ. ممکنه ده د سرعت او فشار د اړیکو د ښودلو اسانه لار له پورته خوا څخه د کاغذ پر یوې تړلې (زینبې) باندې پوکول دي. که چېرې تاسو کاغذ د (9-8) شکل په څیر کلاک زینسې او بیلابېلې په پورتنۍ سطحې پوکې وکړئ، کاغذ له لومړني څرېدلې حالت څخه مخ په پورته کېږي، چې دلیل یې عبارت دی د هوا د سرعت له توپیر څخه. د کاغذ د تړلې د پورتنیو او ښکتنیو برخو ترمنځ په پایله کې همدا محصله پورته کونکې قوه د لفت په څیر عمل کوي او د کاغذ تړانگه تقریبا د افق تر سطحې پورته کېږي.

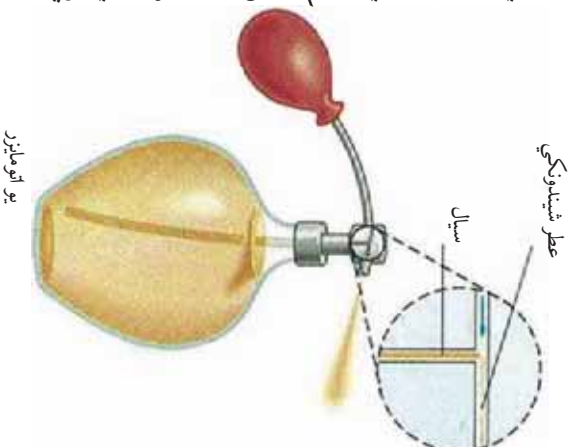
د برنولي د قانون اغېز
د کاغذ پر سطحې



شکل (9-8)

دې ته ورته اغېزې په یو اتومایزر (عطر شیندونکی) کې هغه مهال چې ستاسو پر جامو عطر شیندې تر سترگو کېږي. کله چې د مخزن پوکاڼۍ د (10-8) شکل په څیر د هوا یو تیز باد شوت کېږي، د هوا دغه تند باد مدخل له نرې سوري څخه چې د هوا د سرعت د زیاتیدو سبب ګرځي تیرېږي.

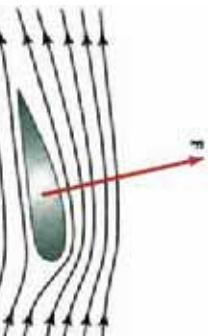
په پایله کې فشار کمېږي او عطر له متفاوت فشار او د هوا له سیلان سره مخ پورته شاته تپله کېږي. په بل عبارت څرنگه چې د هوا فشار چې په ډېر سرعت د عطرو د اتومایزر د پورتنۍ تپوب له لوري، لګېدلې دي، د هغې هوا د عادي فشار په نسبت چې دلوسنې د داخله مایع په سطحې عمل کوي، لږ دي. نو اتموسفیر فشار د تپوب پورتنۍ برخې ته چې فشار په هغه برخه کم دي عطرونه تپله کوي. د یو اتومایزر د کار کړنلاره د برنولي د معادلې څخه په ګټې اخیستلو هم توضیح کېدای شي. د هوايي ستون لوړ سرعت چې د پوکاڼۍ په فشار ورکولو سره منځته راځي، د عموډي تپوب په پورتنۍ برخه کې یو تپست فشار منځته راوړي. دا کار ددې لامل ګرځي چې مایع له تپوب څخه د باندې ډيکه شي او د یو نرې شارو، د هوا ډولې سستي سره بهرته شیندل کېږي.



شکل (10-8)

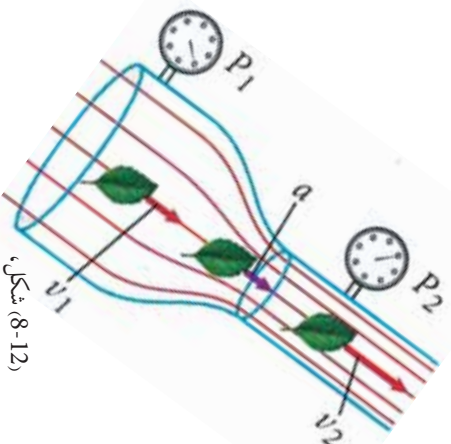
6- د الوتکې وزرونه او متحرکه او چټونکي قوه) (

د الوتکې په وزرونو کې یوه اوچتوونکي قوه شتون لري، چې ددې سبب ګرځي چې هغوي په هوا کې اوچتی وساتي، او دا هغه مهال واقع کېږي، چې الوتکه د هوا په پرتله په کافي توګه په لوړ سرعت حرکت وکړي، لکه څنګه چې په (8-11) شکل کې د هوا جریان یو قوي بهیر ښودل شوی چې د الوتکې له وزره سره لګېږي او د هغې لخوا په شدت سره دفع کېږي. (د الوتکې سپرلی د الوتکې په عطالتي نظام کې وي او ددې په څیر دی لکه د الوتکې په وزرونو چې ناست وي). پورته خواته د وزره میلان کول هماغه د پورتنۍ سطحې ګولرالی یې دی چې ددې سبب ګرځي ترڅو د الوتکې تر وزره لاندې د هوا د بهیر جریان د یوې قوي په مرسته پورته خواته فشرده شي او د وزره د پورتنۍ برخې هوا متراکمه شي او د فشار لږه ساحه منځته راشي.



(8-11) شکل، د الوتکې د وزره د پورته تلو پر مهال موز د وزره په عطالتي نظام کې یو او د هوا جریان په کې نظاره کوو.

د سیلان د دوه خطونو د هوا جریان مساحت په هره برخه کې د هوا د جریان مساحت د دوه سیلانونو د خطونو ترمنځ په هره برخه کې د خطونو یو بل ته په نژدې کېدو سره کمېږي. نو ددې له مخې د متمادیت له $(A_1 V_1 = A_2 V_2)$ معادلې څخه د هوا سرعت د وزره په پورتنۍ برخه کې چې هلته د سیلان خطونه یو بل ته نژدې کېږي، زیاتېږي.



(8-12) شکل،

د سیال جریان په هغه نل کې چې متغیرات قطرونه لري

د پورته دلیل پر بنسټ یوه محصله قوه په پورته لوري د الوتکې پر وزره عمل کوي چې د اوچتونکي (Dynamic Lift) محصله قوي په نامه یادېږي. تجربې ښيي د وزره د پورتنۍ برخې د هوا سرعت حتی د وزره د لاندینۍ برخې د هوا د سرعت دوه چنده هم کېدای شي. (د هوا او وزره ترمنځ اصطکاک، شاته د رابنګلو قوه تولید وي چې د الوتکې د انجنونو قوه پرې غالبه شي).

يو وزر تل او يا يو وزر له متناظري مقطع سره تر هغي پوري چې مخکني برخه يي پورته لورته انحنا لري، (د انحنا صعودي زاويي لرونکي دي). د پورته کيدو خپل کارته دوام ورکوي. د (11-8) شکل حتی هغه مهال چې د صعودي انحنا زاويه له صفر سره مساوي هم وي وزر بيا هم د پورته کيدو په حالت کې شيني، ځکه چې گول شوي پورتنۍ برخه، هوا پورته خواته تپله کوي مسير ته يي انحنا ورکوي او د سيلان د خطونو يو له بل سره د تراکم سبب گرځي. که چيرې د انحنا صعودي زاويه کافي حد ته ورسيرې چې وکولای شي د سيلان خطونه په پورته لورته کارې يا تر فشار لاندې ونيسي ترڅو يو بل ته بڼه نژدې شي، په هغه صورت کې الوتکه سرکونډي (خرڅي) وهي (په وزرو را خرڅي). که چيرې د انحنا صعودي زاويه د درجو په شاوخوا کې وي، د خرڅيدو طولفان (Turbulence) واقع کېږي. لکه څنگه چې په (11-8) شکل کې بهر رابنګل د شا په لور او د وزره لږ صعود رامنځته شوی، ددې سبب کېږي چې وزر له حرکت څخه ولږېږي او الوتکه سقوط وکړي. په بل تحليل، پورته لورته د وزره انحنا دا معنا ورکوي چې هغه هوا چې په افقي توګه د وزره په وړاندې په حرکت کې ده مخ بڼګنه کې کارې او د هوا مالیکولونه چې شاوخوا ته خرڅي د مومتم بدلون سبب گرځي او په وزره کې د صعودي قوې د توليد سبب گرځي، (د نيوتن دريم قانون).

7- : لزوجيت


د لزوجيت مفهوم د داخلي اصطکاک قوې (پيدايښت او محاسبه):

مورز په تېرو درسونو کې وويل چې خيالي (ايده ال) مايع هغي مايع ته وايي چې د تراکم وړتيا او اصطکاک ونه لري. همدا رنگه زياته موکړه چې خيالي مايع په حقيقت کې شتون نه لري، ځکه چې ټول سيلانه، د گازاتو او مايعاتو په ګډون چې رېښتيني شتون لري، د اصطکاک لرونکي دي او هم تر يوه حده د تراکم وړتيا لري، يعنې په حقيقت کې خيالي مايع يوه مجرده افاده ده. کله چې په مايعاتو کې له اصطکاک څخه غېږېږو، موخه مو د هغو څخه داخلي اصطکاک دی. دغه داخلي اصطکاک په يو بل نوم هم يادوي، چې په مايع او يا گاز کې عبارت له لزوجيت (ښتل) څخه دي. هره حقيقي مايع او گاز يو څه داخلي لزوجيت لري او دا هغه مهال څرګندېږي چې په مايع او گاز کې حرکت رامنځته شي او د هغه لامل د اغېز له قطع کيدو څخه وروسته چې هغه د حرکت د منځته راتلو سبب شوي، ورو ورو قطع کېږي. داخلي اصطکاک نه يوازې دا چې له نلزونو او د بيرل او نورو په څير لوښو سره د مايع د سطحو د تماس او يا په مايع کې د شیانو د حرکت پر مهال د هغو د تماس له امله رامنځته کېږي، بلکې په خپله د مايع په منځ کې هم کله چې د مايع قشرونه د جريان توپيري سرعت ولري او يو بل پرمخ بهېږي، هم منځته راځي. له همدې امله دي چې برعکس جامد اجسام چې خارجي اصطکاک لري، دې اصطکاک ته داخلي اصطکاک وايي. د داخلي اصطکاک شتون په مايعاتو کې حتی په خپلو لاسونو هغه مهال حس کوو چې کله يو جسم د مايع په منځ کې په خپل لاس سره په حرکت راوړو. مورز په دې حالت کې يو مقاومت حس کوو، چې په مايع کې د داخلي اصطکاک له امله رامنځته کېږي.



تجربه:

له دې تجربې سره د داخلي اصطكاك اړيكي له مايع سره د جسم د تماس د سطحي له لوبوالي، د هغې مايع له ځاځگړنو سره چې جريان لري او د مايع د حرکت له سرعت سره كيداى شي تر مطالعې لاندې ونيول شي.

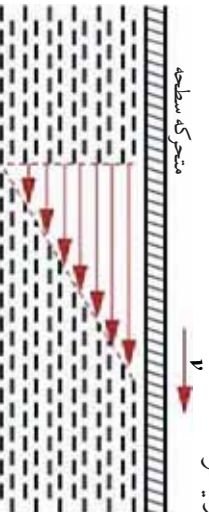


شكل (8-13)

د ټپ جوړښت داسې دى چې يوه نيمالي (12mm) په سور او بله نيمه برخه يې gmm سور لري. په يو نوراخت حرکت کې د رابنكلو د هغه قوې چې د څړول شوي وزن له امله منځته راځي، د اصطكاك د قوې د عين قيمت لرونکې دى چې د پليټ لخوا منځته راغلي. که چېرې وزه ډېره شي، سرعت زياتېږي او کله چې پليټ په مايع کې ژور ښکته شي، سرعت کمېږي او هم کله سرعت کمېږي چې پليټ د ټپ له سوروزې برخې څخه د ټپ نري برخې ته ورسېږي.

پورتنۍ تجربه هغه تيوري تاييدوي، چې له امله يې د داخلي اصطكاك اړيكي له لاندې کميتونو سره څرگندېږي.

- 1 - د مايع لزوجيت (η)
 - 2 - له مايع سره د جسم د تماس له سطحي لوبوالي.
 - 3 - د $\Delta v / \Delta d$ نسبت چې دغه نسبت د Δv د سرعت او Δd د ضخامت د تناقص له امله لاس ته راځي. Δd د هغې سطحي ضخامت دى چې په يوه وخت حرکت کوي او د مايع د يو گاونډي قشر اړوند دى چې د هغې په تعقيب د سرعت کميدل منځته راځي.
- د مايع هغه شمېر ذرې چې په مستقيمه توگه د سطحي په گاونډو کې دى، دپوړون له امله له سطحي سره نښلې او خپل سرعت اخلي او له وروستي قشر څخه يو څه شاته پاتې کېږي. د تماس په هغو سطحو کې چې هوايي دي، د مايع د ذراتو سرعت د d د ټاکلي ضخامت په اندازه د v له بشپړ قيمت څخه په منظم ډول د صفر تر قيمت پورې کمېږي چې په پايله کې د $\Delta v / \Delta d$ نسبت د v / d له کسر سره تعويض کېږي او له دې ځايه څخه کولای شو د داخلي اصطكاك فازمول په لاندې ډول وليکو:
- $$\eta = 10 \cdot A \cdot v / d$$



شكل (8-14) د متحرکې سطحي د سرعت خطي تنقيص ه مايع کې ښيي.

په پورتنۍ فارمول کې n چې د لزوجیت د ضریب په نامه یادېږي، د هرې مادې لپاره ټاکلې ده او یو مهم ثابت دی. دغه ثابت په مایعاتو کې په اسانۍ سره جریان کوي لکه: (ایتر، بنزین او هم په اوبو کې) د کم قیمت لرونکي او په هغو مایعاتو کې چې اسان (سهل) جریان نه لري، لکه: رگلیسرین، گریس او قیر لور قیمت لري. دغه ضریب په عین وخت کې د اندازه کولو یو مقیاس دی. د هغه د کوهرشنې د اندازه کولو لپاره چې د مایعاتو د هر مالیکول په منځ کې موجودی.

لزوجیت د تودوخې د درجې له لوړیدو سره په ډېر شدت زیاتیږي او د اندازه کولو واحدیې د واحدونو په نږواله کچه عبارت دی له:

$$[n] = [d / Av] = m/m^2 \cdot m/s = s/m^2 = kg\ m/s^2 \cdot s/m^2 = kg/ms$$

لاندې جدول د ځینو جسمونو د لزوجیت ضریب ښيي:

1.2...0.1	گریس د تودوخې په $20^\circ C$ کې	0.000017	هوا د تودوخې په $20^\circ C$ کې	0.00179	اوبه د تودوخې په $0^\circ C$ کې
0.25...0.02	گریس د تودوخې په $80^\circ C$ کې	0.000018	هوا د تودوخې په $20^\circ C$ کې	0.00101	اوبه د تودوخې په $20^\circ C$ کې
100	قیر د تودوخې په $20^\circ C$ کې	0.0018	الکول د تودوخې په $0^\circ C$ کې	0.00055	اوبه د تودوخې په $50^\circ C$ کې
		0.0012	الکول د تودوخې په $0^\circ C$ کې	0.00029	اوبه د تودوخې په $100^\circ C$ کې
		1.50	گلیسرین د تودوخې په $20^\circ C$ کې	0.00024	ایتر د تودوخې په $20^\circ C$ کې

هغه فارمولونه چې د داخلي اصطکاک او خارجي اصطکاک د محاسبې لپاره ترې ګټه اخېستل کېږي، په لاندې توګه یو له بل سره توپیر لري.

$$\text{داخلي اصطکاک او } \mu_0 = \mu \cdot \text{خارجي اصطکاک}$$

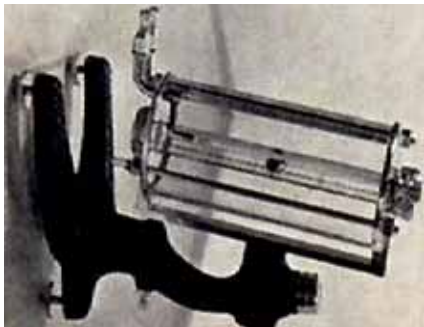
خارجي اصطکاک د نورمالې قوې په زیاتیدو سره زیاتیږي، چې پر داخلي اصطکاک هېڅ اغېزه لري. ددې برعکس داخلي اصطکاک د سطحې د مساحت او سرعت په لوړیدو زیاتیږي، په داسې حال کې چې خارجي اصطکاک له دې دوو سره هېڅ ډول اړیکې نه لري.

د لزوجیت د ضریب اندازہ کول

د یوې ملیع د لزوجیت د ضریب د اندازہ کولو لپاره اکثراً له یوې آلي خضه چې د ویسکو زیمتر هوبیل (Hoeppl – Viskosimeter) په نامه یادېږي او په شکل کې بیټرول شوی، کار اخلي. خټکه چې له دې آلي او ددې په خیر نوروآلو سره کار کول چې د عین پرنسیپ پرنسیپ کار کوي، ساده توپ او لازم دقت په اندازہ کولو کې نامین کېږي.

لکه چې په شکل کې لیدل کېږي، په یوه نل کې چې یو کمزوری کوپروالی لري، یوه کرۍ مخ بڼکه سقوط کوي. د تودوخې د درجې د ثابت ساتلو لپاره، دغه دستگاہ له اوبو خضه ډک یوه لوښي کې ځای پرځای شوی دی چې د تودوخې درجه یې د یو ترموسټات په مرسته په یو ثابت قیمت کنټرول کېږي.

د زمان د سقوط له محاسبه کولو خضه، کولای شو لزوجیت لاسته راوړو. له هغو کرپو خضه په گټې اخیستلو چې مختلف قطرونه لري، له همدې آلي سره د گازونو او هغو موادو لزوجیت په لاس راوړي چې د ډبر لوړ لزوجیت لرونکي وي.



شکل (8-15)

مثال

د گریس د لزوجیت ضریب محاسبه کړئ، په داسې حال کې چې کثافت یې $\rho_1 = (0.9 \text{ g/cm}^3)$ او یوه المونیمي کرۍ له $(\rho_2 = 2.8 \text{ g/cm}^3)$ کثافت او 2 mm قطر سره، له $h = 24 \text{ cm}$ ارتفاع خضه د 18 ثانیو مودې کې په منځ کې سقوط وکړي.

حل:

یوه کرۍ د گریس په منځ کې د یوې لنډې فاصلې تر وهلو وروسته، خپله یو نواخته حرکت خپلوي، پوهېږو چې داخلي مقاومت عبارت دی د وزن () او صعودي قوې (bouncy) د کچې له حاصل تفریق خضه، یعنې: $6 \cdot \pi \cdot r \cdot \eta \cdot h / t = 6 \cdot \pi \cdot r \cdot \eta \cdot v = 6 \cdot \pi \cdot r \cdot \eta \cdot h \cdot g$ ، $b = \rho_2 \pi \frac{d}{2} \cdot h \cdot g$ ، $\rho_1 \pi \frac{d}{2} \cdot h \cdot g = mg$

همدارنگه لرو چې: $- b =$

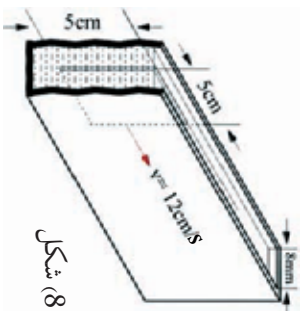
$$\eta = \frac{t}{6\pi r \cdot h} = \frac{(\rho_1 - \rho_2) \cdot t}{6\pi \cdot d/2 \cdot h} = \frac{(\rho_1 \cdot \pi \cdot d/2 \cdot h \cdot g - \rho_2 \cdot \pi \cdot d/2 \cdot h \cdot g) \cdot t}{6\pi \cdot d/2 \cdot h}$$

د قیمتونو له وضع کولو خضه وروسته: $\eta = 7 \text{ g/cm} \cdot \text{s}$



پوښتنې:

1 - په يو ټپ کې چې له تيلو څخه ډک شوی، يو نری پلټ چې 8 ملي متره سور او 55 سانتي متره مربع مساحت لري، له 0.1 نيوتن قوې سره د طول په لوري کې رابنګل کېږي. د لزوجیت کچه يې محاسبه کړئ، په هغه صورت کې، کوم سرعت چې رامنځ ته کېږي، 12 cm/s قیمت ولري.

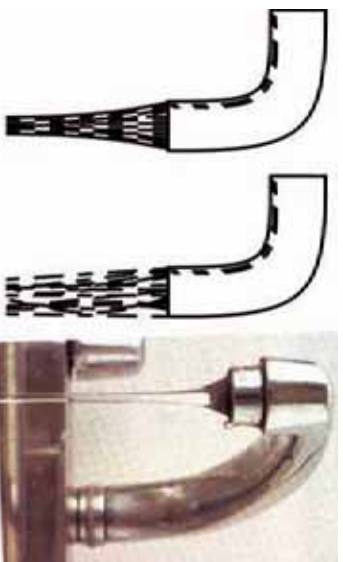


شکل (8-16)

2 - د يو موټر په يو برک کې چې 20 cm^3 گلسيرين په کې کارېدلی او د لزوجیت ضريب يې $\eta = 1.5$ دی، د يو بل په واسطه چې 12.5 cm طول او 2.5 mm قطر لري تر 18.10^6 bar يو منځی، توپيري فشار لاندې برس ریکارډل کېږي. هغه زماني موده چې ددې عملې لپاره کارېدلې، محاسبه کړئ.

- د توپاني بهير ښکارنده (پدیده)

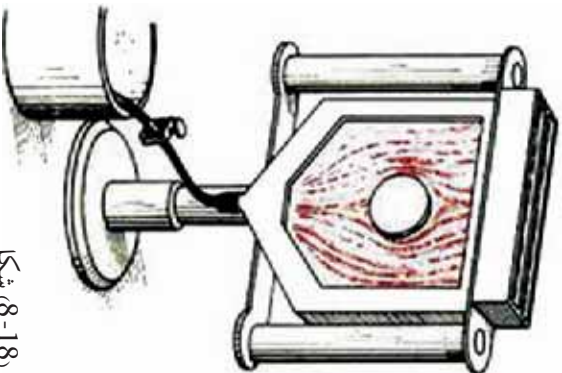
په مختلفو سرعتونو کې د يو جريان د واقع کېدو څرنگوالي: داخلي اصطکاک هغه مهال منځته راځي چې د مايع قشرونه چې له مختلفو سرعتونو سره په جريان کې دي، يو د بل له څنګ څخه تير شي. دا پېښه، تر ټولو د مخه د مايعاتو او جامدو اجسامو ترمنځ په هم سرحد قشرونو کې څرګندېږي. د دې داخلي اصطکاک د غلبې لپاره يانې د اغېزو د لرې کولو لپاره، د انرژۍ يوه برخه چې د مايع په جريان کې ده، مصرفېږي.



شکل، (8-17)

له چټکوزي (شيرهن) څخه د لامينار او توريلنت بهيرونه

اما د ډېرو سرعتونو په حالت کې چې اصطکاک ډېر قوي دي، د جريان تصوير به د پام وړ ډول ځانته تغير ورکوي. په دې حالت کې د اوبو څرخ (گرداب) منځته راځي. رامنځته شوی جريان د توربولينټ (Turbulent) په نامه يادېږي.

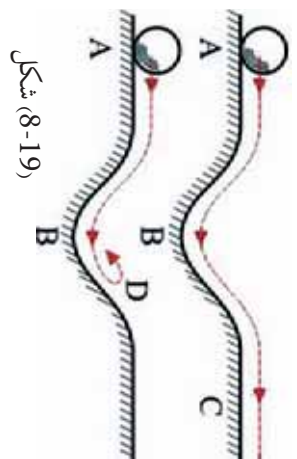


شکل (8-18)

که چیري د اوبو شیردان لږ څه خلاص کړو، اوبه په کراوه او نرمی له شیردان څخه خارجېږي او که چیري شیردان نور هم خلاص کړو، د اوبه جریان یو ټاکلي سرعت ته تر رسېلو وروسته په نا کړای پیل کوي او د اوبو څرخ تولید وي. په (8-18) شکل کې هم دا پدیده په ډېر ښه ډول په هغه اله کې چې د «جریان له لارې د ثبت الې» په نامه یادېږي، لیدلای شئ. ددې الې د کار طریقه داسې ده چې بې رنگه شفافې اوبه او سور رنگې اوبه له دوو لوښو څخه په یوه فضا کې چې د دوو نښته یي پلیټونو تر منځ وي، له پورته لوري څخه له یو شمېر نړبو سوربو څخه چې تیار شوي دي، جریان پیدا کوي. د اوبو جریان له سوربو څخه په دې ډول دي چې صفا او رڼې اوبه له لومړي او دریم سوري او سرې رنگه اوبه له دوهم او څلورم سوري څخه تېرېږي.

د دواړو مایعاتو د جریان خروجي سرعت له هغه قید سره چې په پښونو کې کارېږي، کولای شو تنظیم کړو. که چیري په لوښي کې مانع نه وي، د جریان رښتي د سور رنگه موازي خطونو په څېر تر سترگو کېږي، او که چیري کومه مانع هم وي. د دوو رنگو اختلاط بیا هم نه تر سترگو کېږي. هغه څه چې لیدل کېږي عبارت دي د جریان د متجانسو رشتو له یو عبور څخه چې په دواړه خوا کې بې صورت موندلې دي.

د ګرد اوبو نو پیدا کیدل

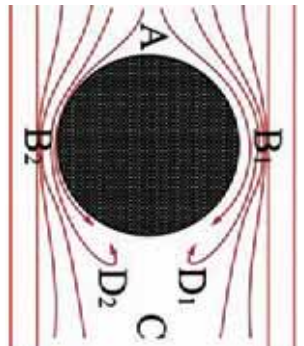


شکل (8-19)

د ګرد اوبو پیدا کیدل کولای شو په آسانې له یوې میخانیکي عملې سره په پرتله د فهم وړ وګرځوو. که چیري یوه کړۍ د یو بېلډ په منځ کې د جریان په مسیر کې راښي، دغه کړۍ در غږېدو پر مهال خپله پوتانسېلي انرژي له لاسه ورکوي او ورسره یو ځلي بې په سرعت کې زیاتوالي منځته راځي، شکل ته پام وکړئ.

کله چې کړۍ منځني مخ په پورته وهي، له سرعت څخه یې کمېږي. ددې سرعت قیمت که له اصطکاک څخه تیر شو د C په نقطه کې عین همغه قیمت لري چې په پیل کې یې د A په نقطه کې لږ درلود. که چیري د اصطکاک قیمت کم هم وي، کړۍ یو څه پورته ځي، خو د سرعت قیمت د C په نقطه کې نسبت د سرعت قیمت ته د A په نقطه کې کم دی.

که چیرې انرژي د اصطکاک له امله ډیره ضایع شي، هغه حرکتې انرژي چې باید د B په نقطه کې وي تر څو کړۍ پورته یوسي او هغه C نقطې ته ورسوي، کفایت نه کوي او کړۍ تر D نقطې رسېږي او سرعت یې په هغه نقطه کې مساوي له صفر سره کېږي او ناچاره بیرته گرځي.



عین مناسبتونه په هغه حالت کې شته، کله چې یوه مایع له یوې مانع سره مخ شي، مثلاً که چیرې یوه مایع له یوې استوانې سره ولگېږي او له خارجي سطحي څخه عبور کړي، (8-20) شکل.

شکل (8-20)

لیدل کېږي چې د B_1 او B_2 ساحې محدودې او تنګې دي، نو د متعادلي د معادلي له نظره د سرعت قیمت زیاتېږي او د فشار قیمت کمېږي.

که چیرې اصطکاک ونه لري، د سرعتونو او فشار قیمت د C په نقطه کې یو ځل بیا په همغه اندازه وي چې د A په نقطه کې وه.

په لږو اصطکاکونو کې لومړۍ غیر مهم تغیرونه منځته راځي. خو کله چې د سرعت قیمت ډېروي، داخلي اصطکاک پورته ځي او بالاخره داسې حالت منځته راځي چې د مایع ذرې د B_1 او B_2 په ساحو کې نور هغه حرکتې انرژي نه لري، ترڅو د لوړ فشار په وړاندې د C په ساحه کې حرکت ته دوام ورکړي، بلکې سرعت یې کمېږي او بالاخره د D_1 او D_2 په څېر ساحو کې صفر ته تقرب کوي او په پایله کې د مایع ذرې بیرته راگرځي او اړمنډ دي چې شاته جریان پیدا کوي. د بیرته راگرځیدو پر مهال په دوران پیل کوي او گډاو تشکیلوي. یعنې هغه مایع چې مخکې یو لامینار مایع و، داډې په یو توربولنس مایع تبدیل شوي دي. هغه گډاونه له دواړو خواو څخه چې په پرله پسې منځته راځي، د خارج جریان په واسطه نیول کېږي او د مانع شاته اصطلاحاً یوه گډاوي لاره جوړوي.



د اتم څپرکي لنډيز

- کله چې د گاز د حرکت سرعت د صوت له سرعت څخه لږ وي، د متحرکو گازونو حجم د فشار د تغییرونو اغیز هومره کم دی چې کولای شي ترې تیر شو.
- یو سیال (مایع یا گاز) ته هغه مهال خیالي (ایده ال) ویلی شو چې د تراکم وړتیا ونه لري او له اصطکاک څخه هم بې برخې وي.
- د متعادیت معادله بیانوي چې په یو نل کې چې د متغیرو مقطعو لرونکې وي، د مایع د جریان سرعت د نل له مقطع سره معکوسا متناسب دی. یعنې په لویه مقطع کې د جریان سرعت لږ او په کوچني مقطع کې د جریان سرعت ډېروي.
- د $2 + (p v_2^2 / 2) + 1 = (p v_1^2 / 2) + 2$ عبارت دي د برنولي له ساده رابطې څخه او بیانوي چې فشار په هغه نقطو کې چې سرعت ډېروي لږ دی.
- د $ct + pgh + p v^2 / 2 + p v^2 / 2$ هم د برنولي د معادلې بل شکل دی چې د یوې خیالي مایع لپاره لاس ته راځي او د حقیقي مایعاتو لپاره چې داخلي اصطکاک یې ډېر نه دی، هم د تطبیق وړتیا لري.
- په افقي جریانونو کې کولای شو، د برنولي قانون په دې ډول بیان کړو، چې د افقي جریان په ټول بهیر کې د فشار او د بند فشار ($\frac{1}{2} p v^2$) مجموعه ثابت دی.
- وینټوري ټیوب له یو نري نل (جیټ) څخه جوړ شوی دی، چې په هغې د فشار توپیر په ډېرو پلنو برخو او ډېرو تنګو (کم سوري) برخو کې فشار د مایع په یوه فشار سنجونکي (مانومتر) پرمخت اندازه کیدای شي، او د برنولي قانون پرنسټ د ($1 + 1/2 p v_2^2 = 1 + 1/2 p v_1^2$) رابطه په وینټوري ټیوب کې صدق کوي.
- د الرټکي په ووزونو کې یوه اوچتونونکي قوه شته، چې ددې لامل ګرځي (کله چې په کافي توګه د هوا پراتله په ډېر لوړ سرعت حرکت وکړي) هغه په هوا کې اوچته ساتي.
- د مایعاتو لزوجیت یا چسپیدل (زیټل) عبارت دي د هغو له داخلي اصطکاک څخه، او لزوجیت هغه مهال تبارز کوي چې په مایع یا گاز کې داخلي حرکت منځته راشي، او د هغو اغیزو له قطع کیدو څخه وروسته چې د حرکت لامل ګرځیدلي ورو ورو قطع کېږي.
- د داخلي اصطکاک فورمول ($\eta = \pi \cdot A \cdot V / d$) دظ η یې د لزوجیت د ضریب په نامه یادېږي چې یو مهم ثابت دی او د هرې مادې لپاره مشخص دی.
- د ویسکو زیتمر هوبیل له الې څخه د یوې مایع د لزوجیت د ضریب د اندازه کولو لپاره کار اخلې.

• که چیري یوه کره د یو بلول په منځ کې د جریان په مسیر کې واقع شي، دغه کره د رغویدو پر مهال خپله د پوتنسیل انرژي له لاسه ورکوي او په سرعت کې یې ډېروالي راځي. د سرعت په زیاتیدو سره داخلي اصطکاک لورځي او بالاخره داسې حالت رامنځته کېږي، چې د مايع ذرې، کافي حرکي انرژي له لاسه ورکوي او نور د لوړ فشار په وړاندې خپل حرکت ته دوام نشي ورکولي او سرعت یې صفر ته تقرب کوي. په پایله کې ذرې بیرته راگرځي او شاته جاري کېږي او د بیرته راگرځیدو په مهال په څرخیدو دوران پیل کوي او گرداو جوړوي چې ولې نوزو نوموړي مايع په یو توربولنیت مايع بدله شوي ده.

د اتم څپرکي پوښتي

- 1- یو سیال (مايع - گاز) تعریف کړئ.
- 2- د متعادیت یا پیوستوالي معادله څه شی بیانوي؟
- 3 د $A_1V_1 = A_2V_2$ رابطه د او هري مقطع لپاره د تطبیق وړ ده.
- 4- که چیري میعات او گازات د صوت له سرعت څخه په کم سرعت حرکت وکړي ورته ویل کېږي.
- 5- د یوې خپالي مايع لپاره د برنولي عمومي معادله عبارت ده له څخه.
- 6- $\rho V^2 = \frac{1}{2} \rho V^2 = 1 - 2$ فشار د فشار په نامه یادېږي.
- 7- د دقتون پر بنسټ په ویستوري ټوب کې رابطه صدق کوي.
- 8- د لزوجیت د اندازه کولو واحد، د واحدونو په نړیوال سیستم کې د $[h] = [d/A_v]$ له رابطې څخه تر لاسه کړئ.
- 9- ایا په ډبره کچه فشار تل د ډبرې قوي پر مټ منځته راځي؟ خپل ځواب توضیح کړئ.
- 10- کله چې د یوې نیچې له لارې اوبه چښی د هوا په تخلیه کولو سره فشار په خپله خوله کې کموي او مايع به حرکت راځي او ستاسو خولې ته ورننوځي. ایا کولای شئ ددې موخې لپاره په سپورټ کې هم له نیچې څخه د اوبو د چښلو لپاره کار واخلئ؟ ولې، توضیح کړئ.
- 11- له لاندې معادلو څخه کومه یوه د اوبو سرعت د A په نقطه کې (V_A) او د اوبو سرعت د B په نقطه کې (V_B) توضیح کړئ؟
 - الف) $d_A V_A = d_B V_B$
 - ب) $d_A^2 V_A = d_B^2 V_B$
 - ج) $d_A d_B = V_A V_B$
 - د) $1/2 d_A V_A^2 = 1/2 d_B V_B^2$

- 12 - که چیري د نل مساحت د A په نقطه کې $2,5cm^2$ او د B په نقطه کې مقطع $5cm^2$ وي، د اوبو جریان د A په نقطه کې خوځلي د B له نقطې څخه تیز دی؟
- 13 - اوبه په یو افقي نل کې په 3×10^5 فشار په $1m/s$ سرعت جاري دي، نل د خپل اصلي طول د $\frac{1}{4}$ په اندازه نری کېږي، د جریان سرعت د نل په نری برخه کې څومره دی؟
- 14 - د یو نل د شیردان د سوري قطر $2cm$ دی او په هره ثانيه کې په $2,5 \times 10^{-2} m^3$ کچه اوبه تری خارجېږي، هغه سرعت چې اوبه په کې له نل څخه خارجېږي، پیدا کړئ.

ماخذونه

1. C (R NC A CA ON), b Do s C. in co i, bis db son d c ion nc, 2005.
2. C b m s . , son d c ion nc. A, N s , 2004.
3. C b R.A. nd . . F n, 2006 b o , Rin nd ins on.
4. C ,A boo , bis db bis in Com n , in d in R , 1996.
5. F nd m n s o sics, bis db ni si o i i in s, Co o d c ion, M ni , 1976.
6. الفيزياء (المرحلة الثانوية / الفرع العلمي)، و وزارة التربية و التعليم، ادارة المناهج والكتب المدرسية، الکتاب في مدارس المملكة الاردنية الهاشمية، ۲۰۰۵ م.
7. د «فزيک (2) و ازمايشگاه»، د ښوونې او روزنې وزارت د خپرنې او ازموينې د پلان جوړولو سازمان، د ايران د درسي کتابونو د چاپ او خپرېدو شرکت، 1385 هـ . ش.
8. د «فزيک (3) و ازمايشگاه»، د ښوونې او روزنې وزارت د خپرنې او ازموينې د پلان جوړولو سازمان، د ايران د درسي کتابونو د چاپ او خپرېدو شرکت، 1385 هـ . ش.
9. د عمومي تعليماتو ښوونځيو د دولسم ټولگي د فزيک درسي کتاب، د تاليف او ترجمې رياست، د افغانستان د ښوونې او روزنې وزارت، 1388 هـ . ش.